

تم تحميل هذا الملف من موقع المناهج العُمانية



*للحصول على أوراق عمل لجميع الصفوف وجميع المواد اضغط هنا

<https://almanahj.com/om>

* للحصول على أوراق عمل لجميع مواد الصف السابع اضغط هنا

<https://almanahj.com/om/7>

* للحصول على جميع أوراق الصف السابع في مادة اجتماعيات ولجميع الفصول, اضغط هنا

<https://almanahj.com/om/7social>

* للحصول على أوراق عمل لجميع مواد الصف السابع في مادة اجتماعيات الخاصة بـ الفصل الثاني اضغط هنا

<https://almanahj.com/om/7social2>

* لتحميل كتب جميع المواد في جميع الفصول للـ الصف السابع اضغط هنا

<https://almanahj.com/om/grade7>

* لتحميل جميع ملفات المدرس وفاء الجعفري اضغط هنا

للتحدث إلى بوت على تلغرام: اضغط هنا

https://t.me/omcourse_bot

عنوان الدرس :- الاستيطان الريفي والحضري التاريخ:


أ- رتب الصور التاليه حسب مراحل تطور المجتمعات وذلك بكتابه رقم المرحله اسفل الصور .



أنسب المنجزات الحضاريه المذكورة في الجدول إلى المرحله التاريخيه المناسبه



المرحلة التاريخيه	الإنتاج
	تربيته الحيوانات واستئناسها
	جمع الثمار من الأشجار
	ظهور التبادل التجاري
	ظهور المدن المكتنزه بالسكان
	اختراع المحراث



عددي الظروف البيئية التي تجعل
حياة الإنسان ينتقل من منطقته إلى
أخرى

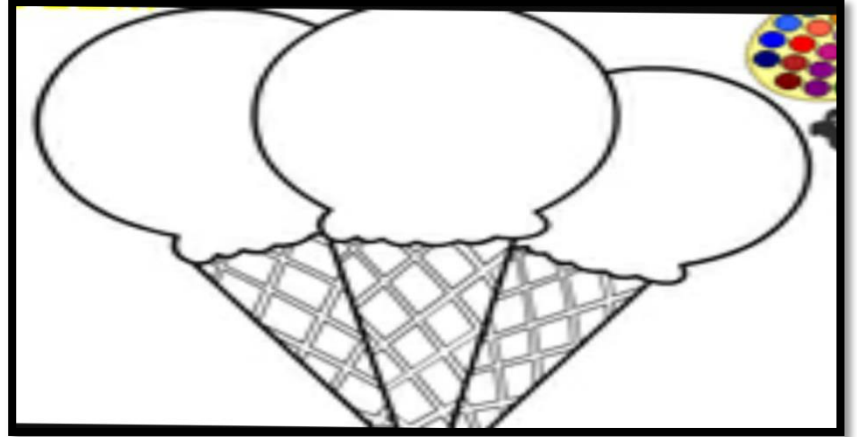


** من خلال الصورة التي أمامك
أجيبني عن التالي
أ/ المرحلة التي تنتمي إليها
الصورة التي أمامك هي
ب/ منجزات الانسان في هذه المرحلة :
1-.....
2-.....

أكملي العبارة التالية :

أدت كثرة الحاصلات الزراعية وتنوعها إلى

من الحاصلات الزراعية التي
تتمتع بها ولايتك


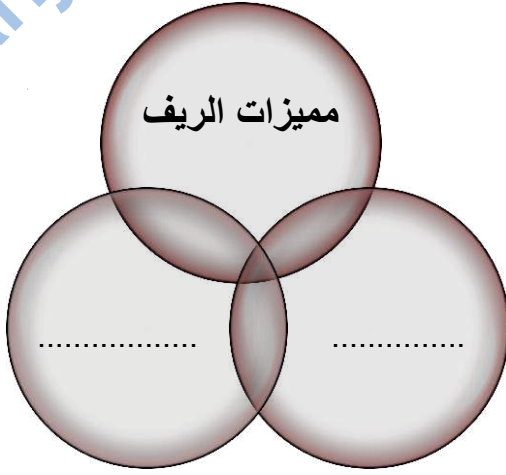


**أدرسي الصور التالية ثم أجبي عن التالي

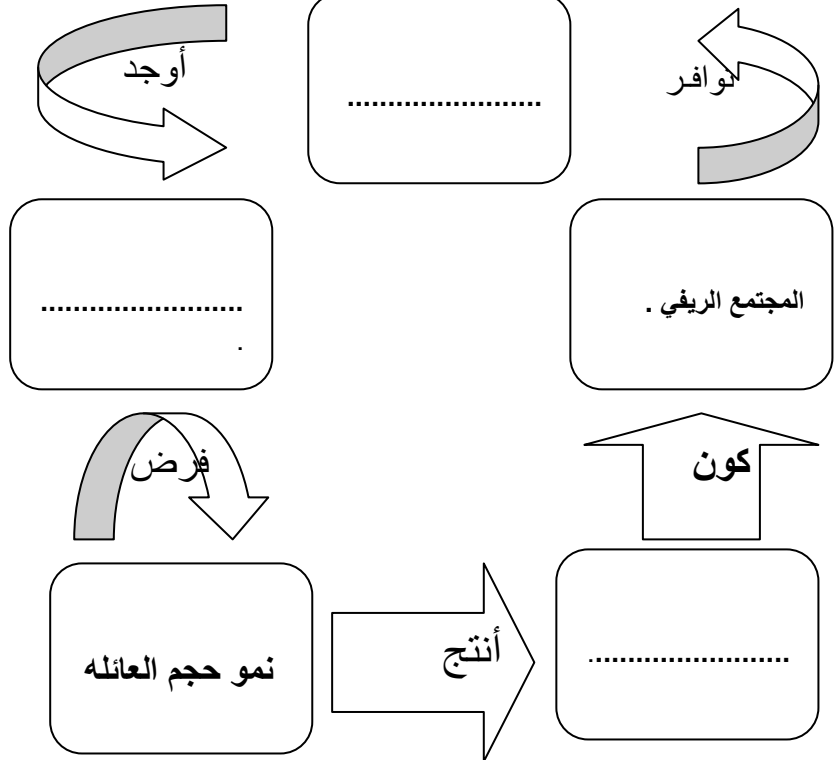


الحضر	الريف	وجده المقارنه
		المفهوم
		نمط الاسرة

عنوان الدرس :.الريف ومشكلاته التاريخ:



أكملي المخطط التالي بما يناسبه من كلمات





مفهوم التنمية الريفية :

ما الأسباب التي أدت إلى الهجرة من الريف إلى المدن



نتائج مشكله الهجرة

.....-2


.....-1

.....-5

.....-4


.....-3

عددي المهن التي يعمل فيها سكان الريف ؟



أسباب المشكله


مشكله الزراعة



سفينة النجاح على وشك الإبحار فهلا زودتها بأبرز
المشكلات الاجتماعية الريفية

ما النصيحة التي توجيهها للشباب الذين
يفقدون العادات الدخيلة ؟

.....
.....
.....



المشكلات
الاقتصادية


التصحّر

بسبب قلة
الامطار



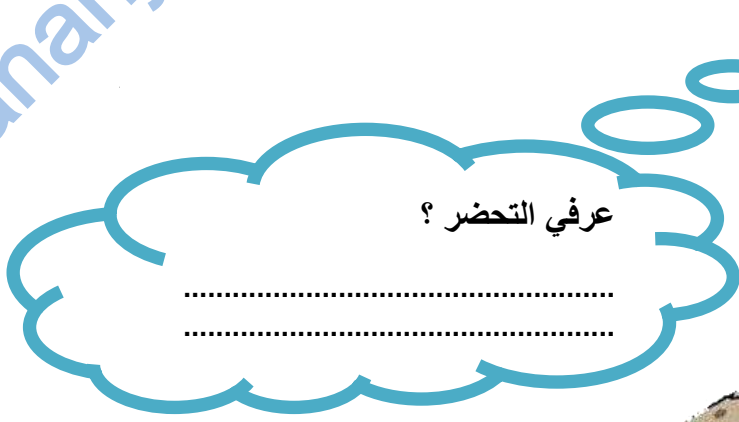
ما هو الدور الذي قدمته السلطنة لدعم القطاع الزراعي ؟

.....
.....
.....



دلي على دور السلطنة في مكافحة التصحر ؟

عنوان الدرس : التحضر ومشكلات المدن التاريخ:



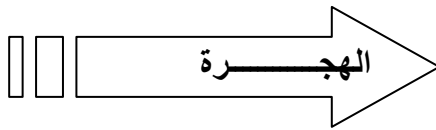
ما النتيجة المترتبة على تطور الاله الزراعية؟

.....
.....

علي : يحدث الجزء الأكبر من التحضر في مدن الدول النامية؟
.....
.....
.....

يشير الشكل التالي إلى مفهوم

المدن



الريف

عرفي المدن المليونية ؟

.....
.....



المدن المليونية الضخمة هي

.....
.....



ضع قدمك علي أول
طريقك للنجاح

الصف السابع
وعينك عند آخره

مدرسه الاشجرة

إعداد الأستاذة /وفاء الجعفري

أدرسي الخريطة التي أمامك ثم أجيبى عن التالي



- 1- استخرجي من الخريطة مدينة عربيه مليونيه ضخمه؟.....
- 2- حددي على الخريطة المدينة الأكبر نموا في العالم؟.....
- 3- القارة التي لا توجد بها مدن مليونيه هي
- 4- أكمل الجدول التالي معتمده على الخريطة السابقة

وجه المقارنة	قارة آسيا	قارة أوروبا	قارة أمريكا الشمالية	قارة أمريكا الجنوبية
مدن كبرى أكثر عن 10 ملايين				
مدن من 5-10 ملايين نسمة				

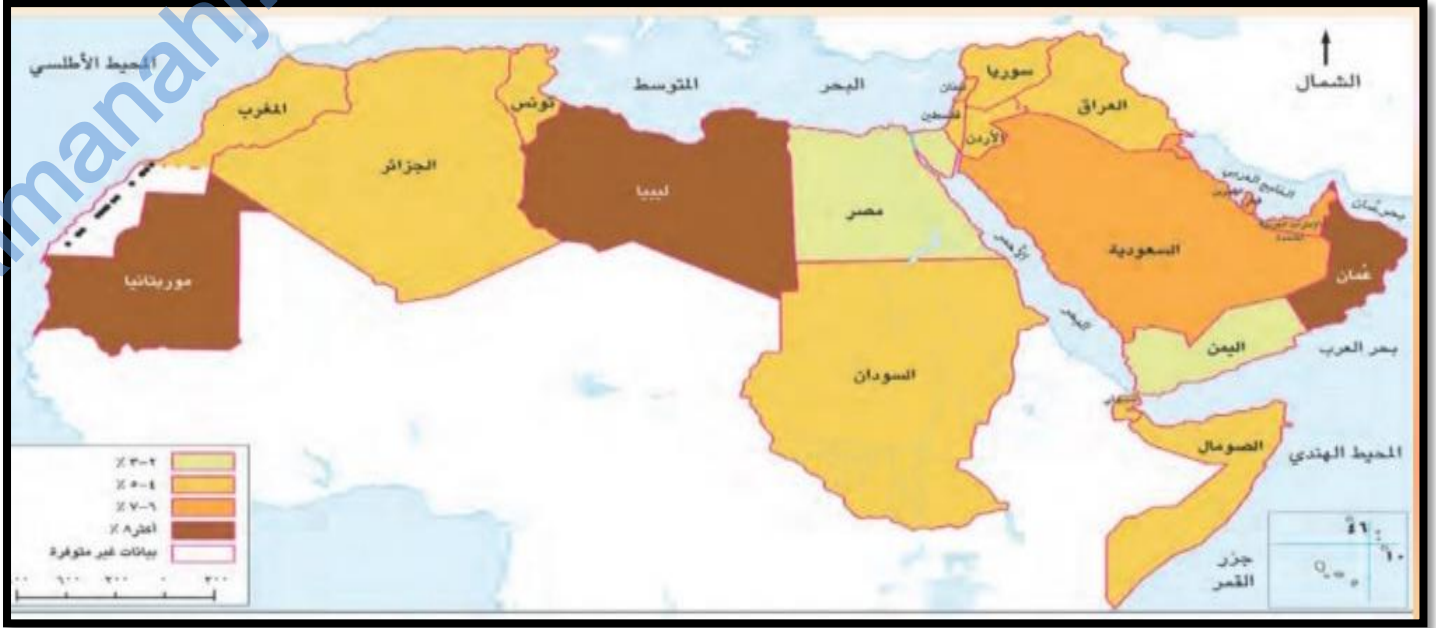
بلغ عدد المدن المليونية في بدايه القرن الحالي حوالي

.....

النجاح الذي تستمتع به اليوم هو نتيجة الثمن الذي دفعته في الماضي



أدرسي الخريطة التي أمامك ثم أجبني عن التالي :



1- كم تبلغ نسبة النمو السنوي لسكان المدن في كل من سلطنة عمان وليبيا ؟

.....

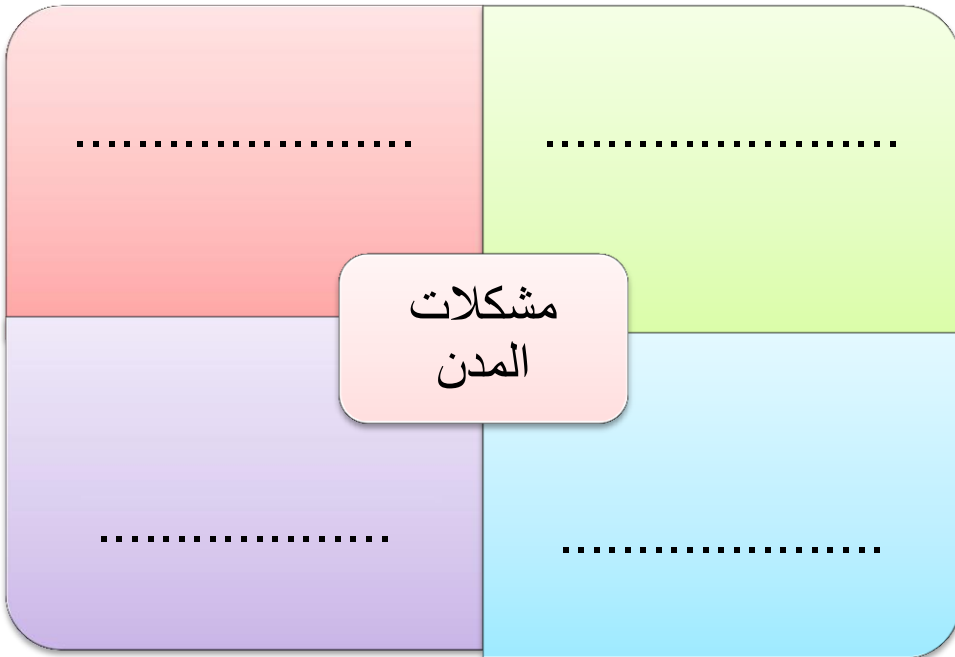
2- علي : ارتفاع نسبة سكان المدن في سلطنة عمان ؟


.....

3- برأيك ما الحلول المناسبة للتخفيف من تزايد سكان المدن في سلطنة عمان ؟

.....

.....





عددي خيارات الإسكان التي تواجه
المهاجر إلى المدن

عزيزتي المتميزة أدرسي الصورة التاليه ثم أجيبني عن التالي.



1- المادة التي صنعت منها المساكن
هي

2- عددي مميز هذه المدن :

-*
-*
-*

علي : تفتقر المنازل في مدن الأكوخ للتخطيط

ما اسم المشكلة الواضحة في الصورة ؟


.....

علي : يواجه سكان الدول النامية هذه المشكلة.

.....

الصف : السابع

مدرسه الاشجرة





أشكال التلوث في المدن

.....*


.....*

الأمراض الناتجة عن التلوث

ماذا تشاهدي في الصورة التي أمامك؟

.....

ما هو واجبك في الحفاظ على البيئة؟



عرفي الاختناقات المرورية؟

.....



1- ما اسم المشكلة السكانية الواضحة في الصورة؟

.....

2- ما هي الأسباب التي أدت إلى ظهور هذه المشكلة في المدن؟

.....

3- ما المشكلات الفرعية الناجمة عن هذه المشكلة:


أ/.....مثل.....و.....

ب/.....مثل.....

.....و.....




اسم الدرس : الاحتياجات السكنية التاريخ :



هلاً ساعدتم سلمى في كتابه أهم لاحتياجات السكنيه .



عددي طرق توفير المواد الغذائية في سلطنة عمان؟



من اهم مجالات الاسكان التي اهتمت بها السلطنة

.....

مجال التخطيط والمساحه

.....

برنامج المساعدات السكنيه

.....




دليلي على اهتمام سلطنته عمان في توسيع خدماتها الصحية للمواطنين؟

.....


فسري العبارة التاليه :

يعد التعليم من الاحتياجات الأساسية للسكان



قارني بين التعليم في بداية النهضة ووضع التعليم حاليا

التعليم
حاليا



التعليم في
بدايه
النهضة

.....

