

شكراً لتحميلك هذا الملف من موقع المناهج العمانية



بنك الأسئلة مع نماذج الإجابة

[موقع المناهج](#) ← [المناهج العمانية](#) ← [الصف السابع](#) ← [اجتماعيات](#) ← [الفصل الثاني](#) ← [الملف](#)

تاريخ نشر الملف على موقع المناهج: 04:26:32 2024-02-22

التواصل الاجتماعي بحسب الصف السابع



روابط مواد الصف السابع على تلغرام

[الرياضيات](#)

[اللغة الانجليزية](#)

[اللغة العربية](#)

[التربية الاسلامية](#)

المزيد من الملفات بحسب الصف السابع والمادة اجتماعيات في الفصل الثاني

تقرير التصحر	1
كتيب الأنشطة	2
الامتحان الرسمي النهائي بمحافظة الداخلية	3
الاختبار النهائي الرسمي في محافظة مسقط	4
نموذج إجابة الاختبار النهائي الرسمي في محافظة شمال الشرقية	5

بنك أسئلة للصف السابع مادة الدراسات الاجتماعية
الفصل الدراسي الثاني

م	نوع السؤال	نص السؤال	نموذج الإجابة	الوحدة - الدرس - الصفحة	ملاحظات
١	تذكر	المرحلة التي استأنس فيها الإنسان الحيوانات ضمن مرحلة تطور المجتمعات البشرية	ب- الصيد والرعي	٤ - ١ - ص ١١	
		أ - الجمع و الالتقاط ب- الصيد والرعي ج- الزراعة د- التجارة			
٢	تذكر	المرحلة التي كان يبذل في الانسان جهدا قليلا في حياته هي :	أ- الجمع و الالتقاط	٤ - ١ - ص ١١	
		أ - الجمع و الالتقاط ب- الصيد والرعي ج- الزراعة د- التجارة			
٣	تذكر	المرحلة التي زادت فيها حاجة الإنسان التي قد لا تتوفر في الطبيعة بشكل مباشر :	د- الصناعة	٤ - ١ - ص ١٣	
		أ - الجمع و الالتقاط ب- الصيد والرعي ج- الزراعة د- الصناعة			
٤	تذكر	أحد السمات التي يتميز بها الريف عن المدينة :	أ- انتشار الأسر الممتدة	٤ - ١ - ص ١٤	
		أ- انتشار الأسر الممتدة ب- الصناعة الحرفة الرئيسية ج- ارتفاع قيمة الأرض د- تطور خدمات البنى التحتية			

	٤ - ٢ - ص ٢٠	ج - تغير النظرة إلى العمل الزراعي	العامل البشري الذي أسهم في تناقص الإنتاج الزراعي في الريف هو :				تطبيق	٥
			أ- انجراف التربة الناتج عن الأمطار الغزيرة	ب- التصحر الناتج عن الجفاف	ج - تغير النظرة إلى العمل الزراعي	د- تناقص موارد المياه		
	٤ - ٢ - ص ١٧	د- البيت محور الحياة الاجتماعية	أحد السمات التي يتميز بها الريف عن المدينة				تذكر	٦
			أ- تطور خدمات البنى التحتية	ب- الصناعة الحرفة الرئيسية	ج - ارتفاع قيمة الأرض	د- البيت محور الحياة الاجتماعية		
	٤ - ٣ - ص ٢٤	د- ١٢	المدن المليونية الضخمة يزيد عدد سكانها بالمليون نسمة عن :				تذكر	٧
			أ- ٣	ب- ٦	ج - ٩	د- ١٢		
	٤ - ٣ - ص ٢٥	د- أميركا الجنوبية	تقع المدينة المليونية الضخمة ساوباولو التي تعتبر الأسرع نموا في قارة				تذكر	٨
			أ- آسيا	ب- أميركا الشمالية	ج - أوروبا	د- أميركا الجنوبية		

	٢٧ - ٣ - ٤	أ- الإسكان	مدن الأكوخ ظهرت في المدن الضخمة بسبب مشكلة		
			أ- الإسكان	ب- ضعف الخدمات	ج- التلوث
			د- الازدحام المروري		
	٢٩ - ٣ - ٤	د- الازدحام المروري	ضيق ساعات العمل تظهر في المدن الضخمة بسبب مشكلة:		
			أ- الإسكان	ب- نقص الكهرباء	ج- التلوث
			د- الازدحام المروري		
	٢٣ - ٣ - ٤	أ- الثورة الصناعية	العامل الذي أسهم بشكل كبير في الدول المتقدمة إلى زيادة نمو المدن وتضخمها هو:		
			أ- الثورة الصناعية	ب- التطور الصحي	ج- ارتفاع معدلات المواليد
			د- توفر السكن الملائم		
	٢٥ - ٣ - ٤	ج - طوكيو	المدينة التي تصنف من أكبر مدن العالم من بين المدن التالية هي:		
			أ- القاهرة	ب- لندن	ج - طوكيو
			د- باريس		
	٤٣ - ١ - ٥	ب- الدولة القديمة	ظهر بناء الأهرامات في تاريخ الحضارة المصرية في عصر:		
			أ- ما قبل التاريخ	ب- الدولة القديمة	ج - الدولة الحديثة
			د- الدولة الحديثة		

			الوسطى	المصري		
	٥ - ١ - ص ٤٥	ج - الدولة الوسطى	حفر المصريون قناة تربط بين البحر الأحمر و البحر المتوسط عن طريق نهر النيل في عصر :		تذكر	١٢
			الدولة الحديثة	ج - الدولة الوسطى		
	٥ - ١ - ص ٤٨	د - الحديثة	تمكن المصريون القدامى من طرد الهكسوس في عصر الدولة :		تذكر	١٣
			د - الحديثة	ج - الوسطى		
	٥ - ٢ - ص ٥٢	أ - السومريون	من أقدم الشعوب التي استقرت في السهل الجنوبي للعراق :		تذكر	١٤
			د - الآشوريون	ج - البابليون		

	٥ - ٢ - ٥٤	ب- الأكاديون	امتد نفوذهم إلى رأس الخليج العربي وأشرفوا على بعض تجارة الخليج في دلمون و مجان هم :	١٥	تذكر
			أ- السومريون ب- الأكاديون ج- البابليون د- الآشوريون		
	٥ - ٢ - ص ٥٧	ج - الآشوريون	الحضارة التي قامت في المناطق الشمالية من بلاد الرافدين :	١٦	تذكر
			أ- السومريون ب- الأكاديون ج- الآشوريون د- البابليون		
	٥ - ٢ - ص ٥٩	ج - الكلدانيون	بوابة عشتار إحدى المعالم التاريخية التي بناها :	١٧	تذكر
			أ- السومريون ب- الأكاديون ج- الكلدانيون د- الآشوريون		
	٥ - ٣ - ص ٦٦	د- الفينيقيون	تعتبر أول أمة بحرية في التاريخ	١٨	تذكر
			أ- الفراعنة ب- الأموريون ج- الأراميون د- الفينيقيون		
	٥ - ٣ - ص ٦٢	أ- الأموريون	يعد من أوائل الشعوب السامية التي هاجرت من شبه الجزيرة العربية إلى سهول بلاد الشام الشمالية :	١٩	تذكر
			أ- الأموريون ب- الأراميون ج- الفينيقيون د- العبرانيون		
	٥ - ٣ - ص ٦٧	د- الفينيقيون	الحضارة التي يعود إليها الفضل في اكتشاف النجم القطبي :	٢٠	تذكر

بنك أسئلة للصف السابع الأسئلة المقالية مادة الدراسات الاجتماعية
الفصل الدراسي الثاني

م	نوع السؤال	نص السؤال	نموذج الإجابة	الوحدة - الدرس - الصفحة	ملاحظات
١	فهم	عرف التنمية الريفية .	- هي خطط يتم تصميمها بهدف تطوير الحياة الاقتصادية و الاجتماعية لمجموعة معينة من الناس في المناطق الريفية .	٤ - ١ - ص ١٨	
٢	فهم	عرف الريف .	- هي مناطق الاستقرار في القرى سواء كانت قرى صغيرة أم كبيرة . وتعد حياة الريف من أشكال الحياة التي سبقت ظهور المدن .	٤ - ١ - ص ١٤	
٣	قدرات / تقويم	- اقترح الحلول المناسبة للتخفيف من تزايد السكان في مدن السلطنة .	تنمية المناطق الريفية في الجوانب المختلفة مثل : - تنفيذ برامج تنموية تهدف إلى زيادة الانتاج الزراعي . - تحسين الخدمات الصحية في الريف . - توسع الطرق في المناطق الريفية . - تطوير الاسكان في المناطق الريفية .	٤ - ٢ - ص ١٨	
٤	قدرات / تقويم	" ينتج عن حركة الهجرة من الريف إلى الحضر مشكلات اقتصادية منها انخفاض الإنتاج الزراعي الذي يمثل الأمن الغذائي للدول " - اقترح الحلول المناسبة لتنمية الإنتاج الزراعي في الريف .	- تقديم الدعم للمزارعين المتمثل في : أجهزة الري الحديثة و تقديم البذور والشتلات و تقديم الإرشاد الزراعي المناسب . (ما يفيد المعنى)	٤ - ٢ - ص ٢٢	

<p>٤ - ٣ - ص ٢٩</p>	<p>- توسعة الطرق مزدوجة المسار . - إنشاء الجسور . - تحويل الطرق الداخلية التي يصعب توسعتها إلى طريق أحادي الاتجاه . - إنشاء جسور أو أنفاق للمشاة . - توفير خدمة حافلات للنقل العام . (ما يفيد المعنى)</p>	<p>- اقترح الحلول المناسبة لحل مشكلة الازدحام و الاختناقات المرورية في مدينة صلالة.</p>	<p>قدرات / تقويم</p>	<p>٥</p>
<p>٤ - ٣ - ص ٢٧ ، ٢٨</p>	<p>- بناء المنازل من بقايا الخشب أو الصفيح الذي يتم الحصول عليه من مكبات النفايات أو مواضع البناء . - تفتقر المنازل إلى التخطيط ، وتنمو بسرعة كبيرة نظرا لازدحامها بالسكان المهاجرين من الريف . - تنقصها الخدمات الأساسية كالمياه والصرف الصحي والكهرباء و الشوارع و جمع القمامة والنفايات .</p>	<p>- ما هي سمات مدن الأكواخ .</p>	<p>تذكر</p>	<p>٦</p>
<p>٤ - ٣ - ص ٢٥</p>	<p>أ - عدد سكانها يزيد عن ١٢ مليون نسمة . ب - مشكلة الاسكان ، ضعف مستوى الخدمات ، التلوث و ظهور بعض الأمراض ، الازدحام والاختناقات المرورية .</p>	<p>- أكتب عن المدن المليونية الضخمة من حيث : أ - عدد سكانها : ب - أهم مشكلاتها :</p>	<p>تذكر</p>	<p>٧</p>

<p>٤ - ٣ - ص ٢٧</p>	<p>أ - مشكلة الإسكان . ب - تظهر مشكلة الإسكان في المدن الضخمة بسبب عدم التمكن من توفير المأوى و الخدمات الكافية لمواجهة النمو السريع للمدن لذلك جميع المهاجرين يعتمدون على أنفسهم في البقاء والعيش من خلال بناء مسكن على أرض لا يملكها و بمواد غير ثابتة .</p>	<div data-bbox="1198 271 1601 566" data-label="Image"> </div> <p>١ - لاحظ الشكل السابق وأجب عما يلي : أ - ما اسم المشكلة ب - سبب المشكلة</p>	<p>٨</p> <p>تطبيق</p>
<p>٤ - ٣ - ص ٢٧-٢٩</p>	<p>أ- مشكلة الاسكان ب - ضعف مستوى الخدمات . ج - التلوث والصحة . د - الازدحام والاختناقات المرورية .</p>	<p>١ - عدد المشكلات التي تعاني منها المدن في الدول النامية . أ - ب - ج - د -</p>	<p>٩</p> <p>تذكر</p>

٤ - ٤ - ص ٣٥	<ul style="list-style-type: none"> - تدني مستوى التجارة . - تدني الإنتاج الزراعي . - انخفاض الاستثمارات في المدينة . - اقتصار العمل على ساعات النهار . - تصبح المدينة مظلمة . (ما يفيد المعنى) 	<p>ما النتائج المترتبة على انقطاع الكهرباء عن مدينتك لفترة سنة واحدة .</p>	<p>قدرات / تحليل</p>	<p>١٠</p>
٤ - ٤ - ص ٣٦	<ul style="list-style-type: none"> - استخدام الهاتف للضرورة فقط حسب مصلحة العمل . - ترك كل ما يخالف ديننا الإسلامي الحنيف أثناء الاستخدام في الكلام و المراسلات وغير ذلك . (ما يفيد المعنى) 	<p>" الهواتف المتنقلة من وسائل الاتصالات الضرورية التي تحرص حكومة السلطنة على توفير شبكات تشغيلها للمواطنين و المقيمين على أرض عمان الغالية "</p> <p>- اقترح الاستخدامات السليمة لهذه الوسيلة.</p>	<p>قدرات / تقويم</p>	<p>١١</p>
٤ - ٤ - ص ٣٣	<ul style="list-style-type: none"> - المساهمة في جهود الحكومة من أجل توفير مياه صالحة للشرب من خلال : ١) عدم الإسراف في استخدام المياه . ٢) التجاوب مع الجهود المبذولة لترشيد استهلاك المياه . (ما يفيد المعنى) 	<p>ما هي الحلول التي تقترحها للمحافظة على المياه من الاستنزاف .</p>	<p>قدرات / تقويم</p>	<p>١٢</p>
٤ - ٤ - ص ٣١	<ul style="list-style-type: none"> أ - برنامج المساعدات السكنية . ب - برنامج القروض السكنية . 	<p>١- ما هي البرامج التي تقدمها حكومة سلطنة عمان في مجال الإسكان الاجتماعي .</p> <p>أ -</p> <p>ب -</p>	<p>تذكر</p>	<p>١٣</p>

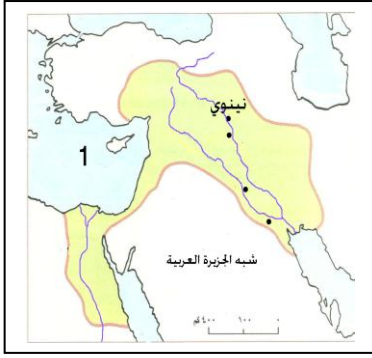
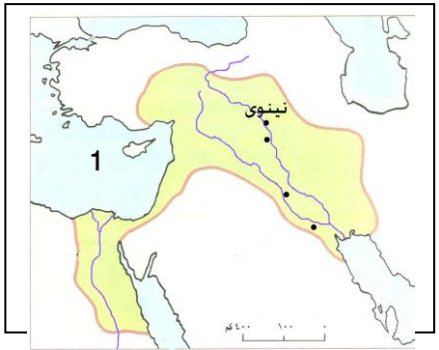
<p>٤ - ٤ - ص ٣٣</p>	<p>أ - التعليم . ب - تزويد المتعلمين بالمعرفة . - غرس شعور حب الوطن و الدفاع عنه . - وتلبية حاجات المجتمع و تزويدهم بالمهارات الضرورية للحياة . - و إعداد الفرد ليكون عنصرا فاعلا في المجتمع . (ما يفيد المعنى)</p>	<p></p> <p>١ - لاحظ الشكل التالي وأجب عما يلي : أ - ما اسم الاحتياج السكاني ب - لماذا يعتبر ضروري للسكان</p>	<p>١٤</p> <p>تطبيق</p>
<p>٤ - ٤ - ص ٣٠</p>	<p>أولا : الغذاء والماء . ثانيا : السكن . ثالثا : الرعاية الصحية . رابعا : الكهرباء .</p>	<p>رتب الاحتياجات السكانية الضرورية التي يجب تقديمها للمواطنين ترتيبا تصاعديا حسب درجة الأهمية و هي (الكهرباء ، الغذاء والماء ، الرعاية الصحية ، السكن)</p>	<p>١٥</p> <p>تركيب</p>
<p>٤ - ٤ - ص ٣٢</p>	<p>أ - توسيع الخدمات الصحية لتشمل جميع ولايات السلطنة . ب - توفير الكوادر الطبية المؤهلة .</p>	<p>- كيف عملت حكومة السلطنة لتأمين الرعاية الصحية الشاملة للمواطن . أ - ب -</p>	<p>١٦</p> <p>تذكر</p>

٤ - ٤ - ص ٣٦	<p>- الهاتف الأرضي . - الهاتف المتنقل . - شبكة المعلومات الدولية " الانترنت "</p>	<p>- عدد أهم وسائل الاتصالات الحديثة . أ - ب - ج -</p>	تذكر	١٧
٤ - ٤ - ص ٣٣	<p>- لأن التعليم يعد من الاحتياجات الأساسية للسكان حيث يسهم في تزويد المتعلمين بالمعرفة . - التعليم يغرس شعور حب الوطن والدفاع عنه . - التعليم يلبي حاجات المجتمع من خلال تزويدهم بالمهارات الضرورية للحياة و إعداد الفرد ليكون عنصرا فاعلا في المجتمع .</p>	<p>- بما تفسر : اهتمام حكومة السلطنة بتوفير خدمات التعليم بكافة أنواعه للمواطنين .</p>	فهم	١٨
٥ - ١ - ص ٤١	<p>- استخداماتها : تسجيل النصوص الدينية ونقشها على جدران المعابد و المقابر و المسلات و تماثيل الآلهة و الملوك . - وسائل الكتابة : الحفر على الخشب ، النقش على الحجر ، صناعة الورق من نبات البردي ، استخدموا أقلام البوص ، و الحبر الأسود و الأحمر .</p>	<p>الخط الهيروغليفي هي الكتابة التي عرفها المصريون منذ الألف الخامسة قبل الميلاد ، أكتب عن : أ - استخداماتها ب- وسائل وأدوات الكتابة</p>	تذكر	١٧
٥ - ١ - ص ٣٨	<p>- (لولا النيل لما وجدت مصر) اي لنهر النيل الدور الأساسي في إقامة الحضارة على ضفافه ، فتغيرت أساليب حياة الإنسان المصري بحيث : ١) استفاد من خصوبة أرض النيل فعرف الزراعة ٢) استأنس الحيوان فعمل على تربيته .</p>	<p>- بم تفسر قول هيروودوت " مصر هبة النيل "</p>	فهم	١٨

<p>٥ - ١ - ص ٤٧ ٤٠ ٤٦ ٤٩ على التوالي</p>	<p>٣ ١ ٢ ٤</p>	<p>- رتب الأحداث التاريخية في الحضارة المصرية من الأقدم إلى الأحدث : (.....) أقامت الملكة حتشبسوت علاقات تجارية مع بلاد بونت و أطراف الجزيرة العربية . (.....) وحد مينا (نارمر) المملكتين في مملكة واحدة عاصمتها ممفيس (منف) و لقب ملك الأرضين . (.....) تمكن الأمير أحمس بمساعدة أمراء طيبة من طرد الهكسوس و توسيع البلاد . (.....) وقع رمسيس الثاني مع الحيثيين أقدم معاهدة سلام في التاريخ بعد معركة قادش .</p>	<p>١٩</p>	<p>تطبيق</p>
<p>٥ - ١ - ص ٤٠</p>	<p>- ملك الأرضين : لأنه وحد مملكة الشمال مع مملكته (مملكة الجنوب) و لقب بملك مصر العليا و السفلى (الأرضين) . - صاحب التاجين لأنه اتخذ تاجا مزدوجا من تاج الشمال و تاج الجنوب و عرف بصاحب التاجين .</p>	<p>- بم تفسر : لقب الملك مينا بـ : " ملك الأرضين و صاحب التاجين " .</p>	<p>٢٠</p>	<p>فهم</p>
<p>٥ - ١ - ص ٤٨،٥٧،٤٥</p>	<p>(٤) توت عنخ آمون . (١) حتشبسوت . (٣) أمنحوتب الرابع . (٢) تحمس الثالث .</p>	<p>- رتب أسماء الملوك التالية حسب أسبقيتهم لحكم مصر من الأقدم إلى الأحدث : (.....) توت عنخ آمون . (.....) حتشبسوت . (.....) أمنحوتب الرابع . (.....) تحمس الثالث .</p>	<p>٢١</p>	<p>تطبيق</p>

	<p>٥ - ١ - ص ٤٨</p>	<p>أ- تحمس الثالث . ب- حلف ضم أمراء الشام و زعماء القبائل من البدو ج - فلسطين . د- المصريون .</p>	<p>خاض المصريون القدامى عدة معارك ضد الدول المجاورة ، منها معركة (مجدو) أكتب عن : أ- القائد المصري للمعركة (.....) ب- الطرف الثاني في المعركة (.....) ج - موقع المعركة (.....) د- الطرف المنتصر في المعركة (.....)</p>	<p>تذكر</p>	<p>٢٢</p>																				
	<p>٥ - ١ - ص ٤٣</p>	<p>اعتقاد المصريون القدماء في البعث والحساب بعد الموت و بوجود حياة أبدية ، و أنه من الضروري المحافظة على جثة المتوفي حتى تستطيع الروح العودة إليها .</p>	<p>- بم تفسر " حرص قدماء المصريون على تحنيط جثث موتاهم " .</p>	<p>فهم</p>	<p>٢٣</p>																				
	<p>٥ - ١ - ص ٣٨</p>	<p>- قسوة الظروف المناخية التي جعلت الانسان المصري يضطر إلى النزوح إلى ضفاف نهر النيل الذي كان له الدور الكبير في إقامة الحضارة على ضفافه الذي ساعد الانسان المصري على (الزراعة ، واستئناس الحيوان ، الاستقرار وبناء المساكن)</p>	<p>- عدد العوامل التي ساعدت على قيام الحضارة المصرية .</p>	<p>تذكر</p>	<p>٢٤</p>																				
	<p>٥ - ١ - ص ،٤٨ ،٤٥ ،٤٣ ٤٣ على التوالي</p>	<table border="1" data-bbox="526 965 1019 1236"> <thead> <tr> <th>اسم الفرعون</th> <th>العصر الذي ينتمي</th> </tr> </thead> <tbody> <tr> <td>أمنحوتب الرابع</td> <td>عصر الدولة الحديثة</td> </tr> <tr> <td>أمنحوتب الثاني</td> <td>عصر الدولة الوسطى</td> </tr> <tr> <td>خفرع</td> <td>عصر الدولة القديمة</td> </tr> <tr> <td>خوفو</td> <td>عصر الدولة القديمة</td> </tr> </tbody> </table>	اسم الفرعون	العصر الذي ينتمي	أمنحوتب الرابع	عصر الدولة الحديثة	أمنحوتب الثاني	عصر الدولة الوسطى	خفرع	عصر الدولة القديمة	خوفو	عصر الدولة القديمة	<p>- صنف الفراعنة التالية أسمائهم حسب العصر الذي ينتمي إليه :</p> <table border="1" data-bbox="1108 1045 1780 1268"> <thead> <tr> <th>اسم الفرعون</th> <th>العصر الذي ينتمي</th> </tr> </thead> <tbody> <tr> <td>أمنحوتب الرابع</td> <td></td> </tr> <tr> <td>أمنحوتب الثاني</td> <td></td> </tr> <tr> <td>خفرع</td> <td></td> </tr> <tr> <td>خوفو</td> <td></td> </tr> </tbody> </table>	اسم الفرعون	العصر الذي ينتمي	أمنحوتب الرابع		أمنحوتب الثاني		خفرع		خوفو		<p>تطبيق</p>	<p>٢٥</p>
اسم الفرعون	العصر الذي ينتمي																								
أمنحوتب الرابع	عصر الدولة الحديثة																								
أمنحوتب الثاني	عصر الدولة الوسطى																								
خفرع	عصر الدولة القديمة																								
خوفو	عصر الدولة القديمة																								
اسم الفرعون	العصر الذي ينتمي																								
أمنحوتب الرابع																									
أمنحوتب الثاني																									
خفرع																									
خوفو																									

<p>٥ - ١ - ص ٤٩</p>	<p>أ- رمسيس الثاني . ب- الحيثيين . ج - فلسطين . د- عقد معاهدة سلام بين الطرفين .</p>	<p>- خاض المصريون القدامى عدة معارك ضد الدول المجاورة ، منها معركة (قادش) أكتب عن : أ- القائد المصري للمعركة (.....) ب- الطرف الثاني في المعركة (.....) ج - موقع المعركة (.....) د- الطرف المنتصر في المعركة (.....)</p>	<p>تذكر</p>	<p>٢٦</p>																				
<p>٥ - ١ - ص ٤١</p>	<p>- الحضارة المصرية .</p>	<p>- سمي الحضارة التي تنسب إليها الكتابة الهيروغليفية :</p>	<p>تذكر</p>	<p>٢٧</p>																				
<p>٥ - ١ - ص ٤٦ ، ٤٨ ، ٤٣ ، ٤٥ على التوالي</p>	<table border="1" data-bbox="481 702 974 925"> <thead> <tr> <th>اسم الفرعون</th> <th>العصر الذي ينتمي</th> </tr> </thead> <tbody> <tr> <td>أحمس</td> <td>عصر الدولة الحديثة</td> </tr> <tr> <td>توت عنخ آمون</td> <td>عصر الدولة الحديثة</td> </tr> <tr> <td>منقرع</td> <td>عصر الدولة القديمة</td> </tr> <tr> <td>أمنحوتب الثاني</td> <td>عصر الدولة الوسطى</td> </tr> </tbody> </table>	اسم الفرعون	العصر الذي ينتمي	أحمس	عصر الدولة الحديثة	توت عنخ آمون	عصر الدولة الحديثة	منقرع	عصر الدولة القديمة	أمنحوتب الثاني	عصر الدولة الوسطى	<p>- صنف الفراعنة التالية أسمائهم حسب العصر الذي ينتمي إليه :</p> <table border="1" data-bbox="1176 750 1780 973"> <thead> <tr> <th>اسم الفرعون</th> <th>العصر الذي ينتمي</th> </tr> </thead> <tbody> <tr> <td>أحمس</td> <td>.....</td> </tr> <tr> <td>توت عنخ آمون</td> <td>.....</td> </tr> <tr> <td>منقرع</td> <td>.....</td> </tr> <tr> <td>أمنحوتب الثاني</td> <td>.....</td> </tr> </tbody> </table>	اسم الفرعون	العصر الذي ينتمي	أحمس	توت عنخ آمون	منقرع	أمنحوتب الثاني	<p>تطبيق</p>	<p>٢٨</p>
اسم الفرعون	العصر الذي ينتمي																							
أحمس	عصر الدولة الحديثة																							
توت عنخ آمون	عصر الدولة الحديثة																							
منقرع	عصر الدولة القديمة																							
أمنحوتب الثاني	عصر الدولة الوسطى																							
اسم الفرعون	العصر الذي ينتمي																							
أحمس																							
توت عنخ آمون																							
منقرع																							
أمنحوتب الثاني																							
<p>٥ - ٢ - ص ٥٧،٥٥</p>	<p>أ - الحضارة البابلية . ب - الحضارة الآشورية .</p>	<p>- سمي الحضارة التي ينتمي إليها الملوك التالية أسمائهم : أ - حمورابي : ب - سرجون الثاني :</p>	<p>تذكر</p>	<p>٢٩</p>																				

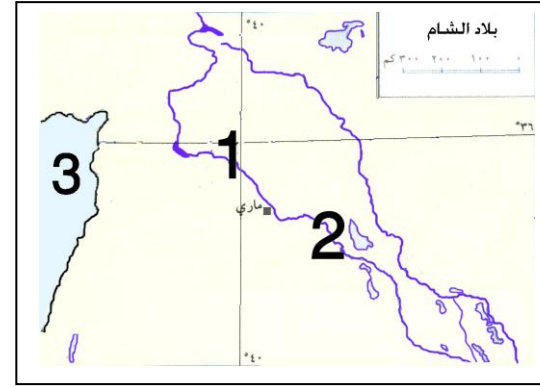
	<p>٥ - ٢ - ٥٣</p>	<p>أ - استخداماتها : تسهيل المعاملات التجارية . ب - وسائل و أدوات الكتابة : سجلوا كتاباتهم على ألواح من الطين قبل تجفيفها و استخدموا للكتابة عليها أداة صنعت من العظم أو من الخيزران تشبه المسمار لذلك عرفت بالكتابة المسمارية .</p>	<p>- الكتابة المسمارية هي الكتابة التي عرفها السومريون منذ الألف الرابعة قبل الميلاد ، أكتب عن: أ- استخداماتها ب- وسائل وأدوات الكتابة </p>	<p>تذكر</p>	<p>٣٠</p>
	<p>٥ - ٢ - ص ٥٨</p>	<p>أ - البحر المتوسط . ب - تكتب كما هو واضح في الخريطة</p> 	 <p>- انظر للخريطة التي أمامك و أجب عما يلي : أ - اسم البحر المشار إليه بالرقم (١) (.....) ب - حدد (شبه الجزيرة العربية) كتابتها على الخريطة . ج - قارن بين أشهر حكام الحضارة الواضح عاصمتها (نينوى) في الخريطة في الجدول التالي :</p>	<p>مهاري - تطبيق</p>	<p>٣١</p>

		<table border="1"> <tr> <th data-bbox="474 300 788 343">الانجازات</th> <th data-bbox="788 300 981 343">اسم الحاكم</th> </tr> <tr> <td data-bbox="474 343 788 603">اهتم بالجيش و زوده بالعجلات الحربية و الأسلحة المصنوعة من الحديد و شجع الفنون والآداب و التجارة والصناعة .</td> <td data-bbox="788 343 981 603">أ - سرجون الثاني :</td> </tr> <tr> <td data-bbox="474 603 788 949">كان مغرما بالعمارة و الأدب فجمع علوم البابليين و آدابهم وسجلها على ألواح طينية و حفظها في مكتبة نينوى العاصمة الجديدة للأشوريين</td> <td data-bbox="788 603 981 949">ب - آشور باتييال :</td> </tr> </table>	الانجازات	اسم الحاكم	اهتم بالجيش و زوده بالعجلات الحربية و الأسلحة المصنوعة من الحديد و شجع الفنون والآداب و التجارة والصناعة .	أ - سرجون الثاني :	كان مغرما بالعمارة و الأدب فجمع علوم البابليين و آدابهم وسجلها على ألواح طينية و حفظها في مكتبة نينوى العاصمة الجديدة للأشوريين	ب - آشور باتييال :	<table border="1"> <tr> <th data-bbox="1189 323 1435 367">الانجازات</th> <th data-bbox="1435 323 1771 367">اسم الحاكم</th> </tr> <tr> <td data-bbox="1189 367 1435 454">.....</td> <td data-bbox="1435 367 1771 454">أ - سرجون الثاني :</td> </tr> <tr> <td data-bbox="1189 454 1435 542">.....</td> <td data-bbox="1435 454 1771 542">ب - آشور باتييال .:</td> </tr> </table>	الانجازات	اسم الحاكم	أ - سرجون الثاني :	ب - آشور باتييال .:		
الانجازات	اسم الحاكم																
اهتم بالجيش و زوده بالعجلات الحربية و الأسلحة المصنوعة من الحديد و شجع الفنون والآداب و التجارة والصناعة .	أ - سرجون الثاني :																
كان مغرما بالعمارة و الأدب فجمع علوم البابليين و آدابهم وسجلها على ألواح طينية و حفظها في مكتبة نينوى العاصمة الجديدة للأشوريين	ب - آشور باتييال :																
الانجازات	اسم الحاكم																
.....	أ - سرجون الثاني :																
.....	ب - آشور باتييال .:																
	٥ - ٢ - ص ٥١	- تقع في القسم الجنوبي الغربي من قارة آسيا في ما بين هضبة الأناضول شمالا و الخليج العربي جنوبا .	- ٢ - ما الموقع الجغرافي لبلاد الرافدين .	تذكر	٣٢												

٥ - ٣ - ٦٢	تقع بلاد الشام في جنوبي غربي قارة آسيا ، وتمتد بين جبال طوروس شمالا و شبه الجزيرة العربية جنوبا	- ما الموقع الجغرافي لبلاد الشام .	٣٣	تذكر
٥ - ٢ - ص ٥٩، ٥٤	أ - الحضارة الآكادية . ب - الحضارة الكلدانية .	- سمي الحضارة التي ينتمي إليها الملوك التالية أسماهم أ - نارام سن : ب - نبوخذ نصر الثاني :	٣٤	تذكر
٥ - ٢ - ص ٥٩	هي مدرجات زرعت بالأشجار المثمرة و الأزهار ، وكانت المياه ترفع إليها بواسطة روافع و بنى نبوخذ نصر في وسطها قصر لزوجته في بابل .	- أكتب ما تعرفه عن الحدائق المعلقة .	٣٥	تذكر
٥ - ٢ - ص ٥٢	- توفر المياه (نهري دجلة و الفرات) . - وجود السهل الجنوبي الذي يعد من أخصب بقاع العالم و هو سهل رسوبي يتكون من تربة خصبة . - المناخ الملائم الذي يساعد على استقرار السكان .	- استنتج العوامل التي ساعدت على قيام حضارات بلاد الرافدين .	٣٦	قدرات / تحليل
٥ - ٢ - ص ٥٦	- إذا تزوج رجل امرأة و أصيبت بمرض ، يستطيع أن يتزوج من غيرها ، ولكن لا يحق له أن يطلق زوجته المريضة ، وعليه أن يبقيها في البيت ويعيّلها .	أكتب قانون متعلق بالأحوال الشخصية لحمورابي .	٣٧	تذكر

٥ - ٣ -
ص ٦٢

- أ - الحضارة الأمورية .
ب - نهر الفرات .
ج - البحر المتوسط .
د - سوريا .
و - الاشتغال بالزراعة المروية والسيطرة
على الطرق التجارية التي تمر بعاصمتهم
ماري .



- لاحظ الخريطة التي أمامك و أجب
عما يلي :

أ - ما اسم الحضارة المشار إليها بالرقم (١)

.....
ب - ما اسم النهر القائمة على ضفافه الحضارة

المشار إليها بالرقم (٢)

ج - ما اسم البحر المشار إليه بالرقم (٣)

.....
د - ما اسم الدولة الحالية التي توجد فيها آثار مدينة

ماري التاريخية

و- وضح أهمية موقع الحضارة المشار إليها بالرقم

(١)

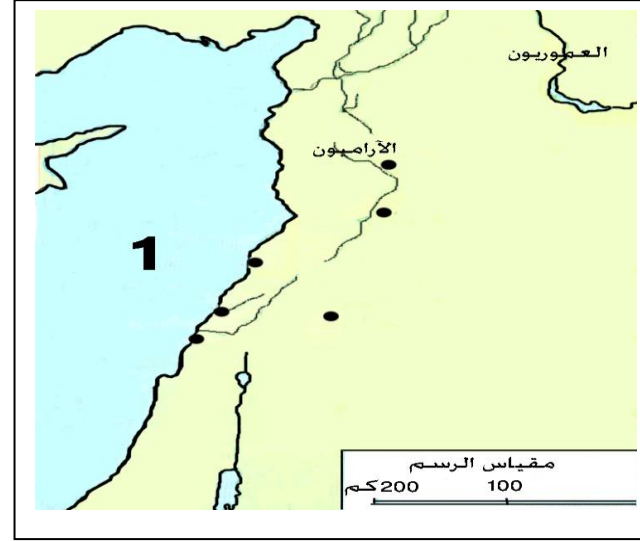
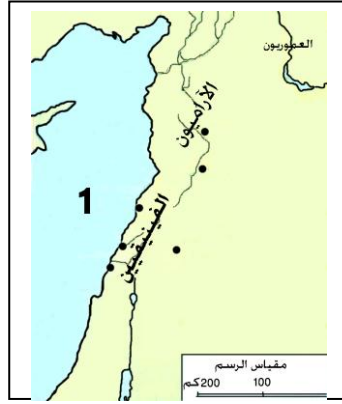
مهاري
تطبيق

<p>٥ - ٣ - ص ٦٦،٦٧</p>	<p>- وجود الجبال التي كانت تعيق التجارة مع الدول المجاورة برا . - وفرة الأخشاب التي ساعدتهم على صناعة السفن التي عبروا بها البحر . - المتاجرة بمنتجاتهم من موانئهم المحلية إلى موانئ الدول المجاورة</p>	<p>استنتج أوجه الشبه بين حضارة مجان و الحضارة الفينيقية .</p>	<p>قدرات / تركيب</p>	<p>٣٩</p>
<p>٥ - ٣ - ص ٦٣</p>	<p>أ - دولة حوران جنوب سوريا ب - دولة حسان في الأردن .</p>	<p>سمي أشهر الدويلات الأمورية التي ظهرت في العام (١٥٠٠ ق . م بعد ضم الدولة الأمورية إلى الإمبراطورية البابلية الأولى . أ - ب -</p>	<p>تذكر</p>	<p>٤٠</p>
<p>٥ - ٣ - ص ٦٦</p>	<p>- الموقع الجغرافي حيث جبال لبنان كانت تعيق التجارة مع داخل سوريا ، ووفرة الأخشاب الأمر الذي ساعدهم على صناعة السفن التي عبروا بها البحر و تاجروا بمنتجاتهم من موانئهم المحلية في لبنان مثل صيدا وصور و جبيل .</p>	<p>- بم تفسر : يعتبر الفينيقيون أول أمة بحرية .</p>	<p>فهم</p>	<p>٤١</p>

٥ - ٣ - ص
٦٧

أ - البحر المتوسط .

ب - كتابة الفينيقيين في الخريطة كما هو
واضح في الخريطة المقابلة



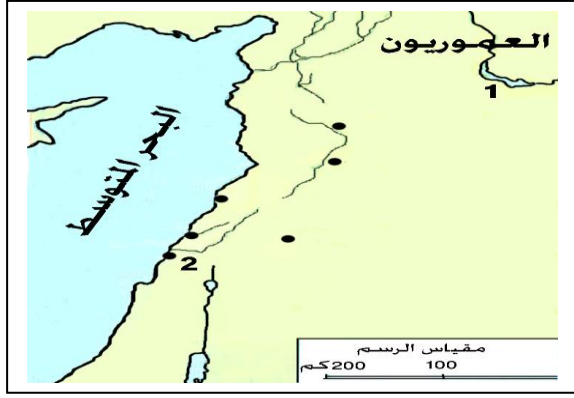
- انظر الى خريطة حضارات بلاد الشام التي امامك ثم
اجب عما يلي:

أ - ما اسم البحر المشار إليها بالرقم (١)

.....

ب - حدد موقع الحضارة الفينيقية
من خلال كتابة اسم الحضارة الفينيقية
على الخريطة المقابلة في المكان الصحيح .

مهاري
/
تطبيق

<p>٥ - ٣ - ص ٦٣، ٦٦</p>	<table border="1"> <tr> <td>الفينيقيين</td> <td>العموريين</td> <td>وجه المقارنة</td> </tr> <tr> <td>المنطقة الساحلية من بلاد الشام</td> <td>سهول بلاد الشام الشمالية</td> <td>الموقع الجغرافي</td> </tr> </table>	الفينيقيين	العموريين	وجه المقارنة	المنطقة الساحلية من بلاد الشام	سهول بلاد الشام الشمالية	الموقع الجغرافي	<p>قارن بين العموريين و الفينيقيين في الجدول التالي :</p> <table border="1"> <tr> <td>الفينيقيين</td> <td>العموريين</td> <td>وجه المقارنة</td> </tr> <tr> <td>.....</td> <td>.....</td> <td>الموقع الجغرافي</td> </tr> <tr> <td>.....</td> <td>.....</td> <td></td> </tr> <tr> <td>.....</td> <td>.....</td> <td></td> </tr> </table>	الفينيقيين	العموريين	وجه المقارنة	الموقع الجغرافي		<p>٤٣ تطبيق</p>
الفينيقيين	العموريين	وجه المقارنة																			
المنطقة الساحلية من بلاد الشام	سهول بلاد الشام الشمالية	الموقع الجغرافي																			
الفينيقيين	العموريين	وجه المقارنة																			
.....	الموقع الجغرافي																			
.....																				
.....																				
<p>٥ - ٣ - ص ٦٧</p>	<p>أ - نهر الفرات . ب - ميناء صور .</p>	<p>- لاحظ الخريطة التي أمامك و أجب عما يلي :</p>  <p>أ - اسم النهر المشار إليه بالرقم (١)</p> <p>ب - أحد الموانئ المحلية التي تاجر الفينيقيون من خلاله بمنتجاتهم عبر البحر والمشار إليه بالرقم (٢)</p>	<p>٤٤ مهاري / تطبيق</p>																		

