

شكراً لتحميلك هذا الملف من موقع المناهج العمانية



نموذج أسئلة الاختبار الرسمي (جنوب الشرقية)

[موقع المناهج](#) ← [المناهج العمانية](#) ← [الصف السابع](#) ← [اجتماعيات](#) ← [الفصل الأول](#) ← [الملف](#)

التواصل الاجتماعي بحسب الصف السابع

روابط مواد الصف السابع على تلغرام

[الرياضيات](#)

[اللغة الانجليزية](#)

[اللغة العربية](#)

[التربية الاسلامية](#)

المزيد من الملفات بحسب الصف السابع والمادة اجتماعيات في الفصل الأول

[ملخص الوحدة الأولى الحضارات القديمة في عمان وشبه الجزيرة العربية](#)

1

[نموذج أسئلة الاختبار الرسمي](#)

2

[أسئلة الاختبار الرسمي مسقط](#)

3

[نموذج أسئلة الاختبار الرسمي \(جنوب الشرقية\)](#)

4

[نموذج أسئلة الاختبار الرسمي \(الظاهرة\)](#)

5

(٧)

المادة: الدراسات الاجتماعية - الصف: السابع - الدور الأول - الفصل الدراسي الأول
العام الدراسي ٢٠٢٢/٢٠٢٣ م

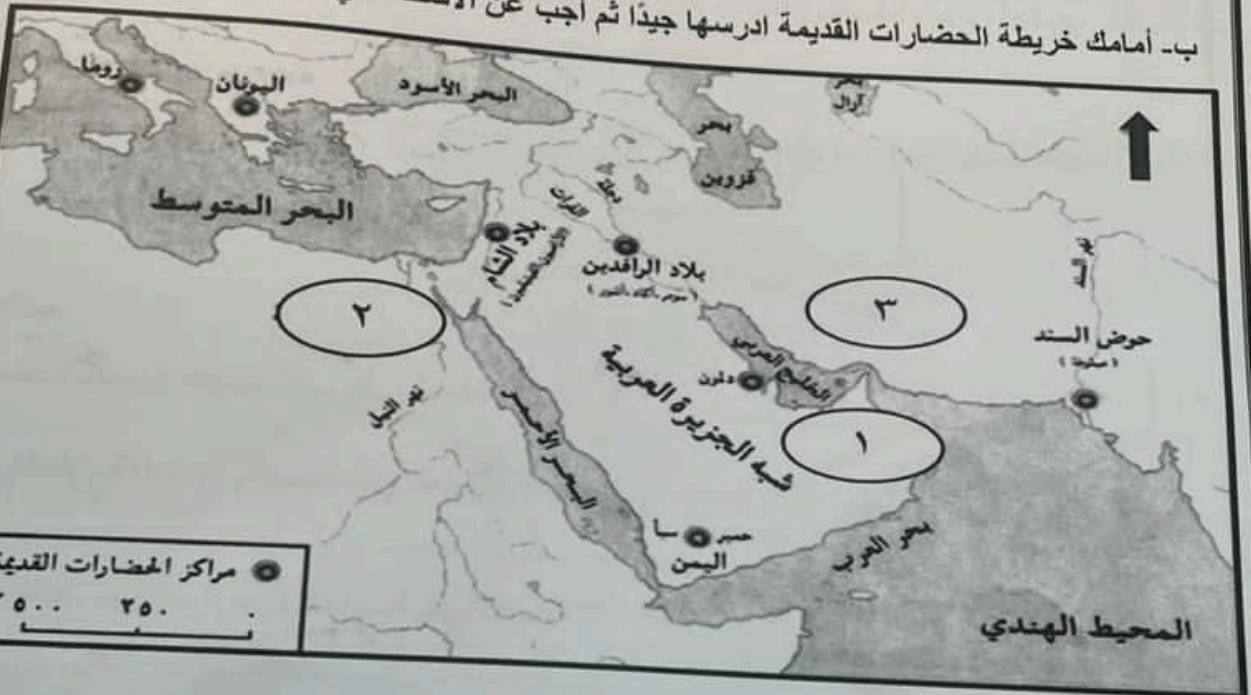
السؤال الخامس :

أ- اذكر نتيجة واحدة مترتبة لكل مما يأتي:

١- انهيار سد مأرب.

٢- انتشار ظاهرة حوادث الطرق.

ب- أمامك خريطة الحضارات القديمة ادرسها جيدًا ثم أجب عن الأسئلة التي تليها:



١- استخراج من الخريطة الآتي:

أ- الرقم الذي يدل على الموقع الصحيح لحضارة مجان ()

ب- الجهة التي تقع فيها حضارة بلاد الشام بالنسبة للبحر المتوسط

٢- ضع دائرة على الحضارة التي أطلق عليها اليونان اسم بلاد العرب السعيدة.

٣- اعطِ دليلًا واحدًا على وجود تواصل بين حضارة مجان والحضارة المشار إليها برقم ٢ على الخريطة.

.....

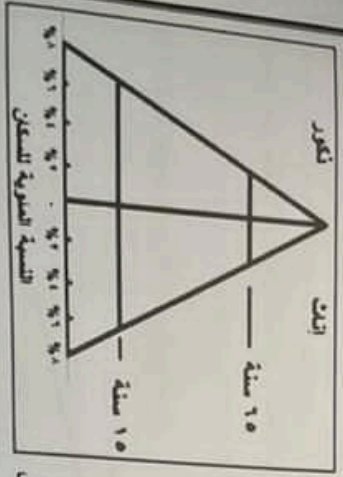
٦

انتهت الأسئلة مع الدعاء للجميع بالتوفيق والنجاح

(٤)

تابع السؤال الثاني:

ج- املك شكل يمثل الهرم السكاني ادرسه جيدًا، ثم اجب عن الأسئلة الآتية:



- ١- اكتب نوع الهرم السكاني الذي يوضحه الشكل.

 2- يمثل هذا الهرم المجتمع القوي الضعيف المتدهور المتنامي
 3- ضع علامة (✓) على الإجابة الصحيحة


3- ظلل الفئة العمرية المنتجة في الهرم السكاني المقابل
 د- رتب مراحل تطور الحضارة القديمة وفقا لتسلسلها التاريخي (من الأقدم إلى الأحدث) بكتابة الأرقام من (٤-١):

- () العصر الحديدي
 () العصر الحجري القديم
 () العصر البرونزي
 () العصر الحجري الحديث

(٣)

تابع السؤال الأول:

١- الصورة التي تمثل عائلًا تاريخيًا ساعد على تنسيق قطاع السياحة في السلطنة:



١١- مصطلح يقصد به استغلال المال الزائد عن الحاجة لإقامة مشاريع تزيد من الدخل:

- (أ) الاستثمار (ب) الادخار (ج) الإنفاق (د) الاستهلاك

١٢- السبب الرئيسي في زيادة حوادث المرور بسببها عمان

عدد الحوادث	السبب
١١٣٩	سوء التصرف
٣٧٤	التجاوز الخطأ
٣٧٤	السرعة
٦١٥	الإهمال

- عام ٢٠٠٩م وفقًا للجدول المقابل:
 (أ) سوء التصرف (ب) السرعة
 (ج) التجاوز الخطأ (د) الإهمال

السؤال الثاني:

١- اكتب المصطلح أو المفهوم المناسب للعبارة الآتية:

١- كل ما أوجده الإنسان من أجل سد احتياجاته سواء كان مادي أو غير مادي.	
٢- عدد السنوات التي يعيها الفرد الواحد.	
ب- علل: يفضل السكان الانتشار في المناطق التي تشرف على المسطحات المائية	

تابع السؤال الأول:

- ٥- العام الميلادي الذي تم فيه إجراء أول تعداد شامل للسكان في سلطنة عُمان:
 (د) ٢٠٢٠ (ج) ٢٠١٠ (ب) ٢٠٠٣ (أ) ١٩٩٣


- ٦- البنية التي يقصد بها نسبة عدد الذكور إلى الإناث في المجتمع:
 (د) الاقتصادية (ج) الاجتماعية (ب) النوعية (أ) العمرية

٧- إذا علمت أن عدد سكان السلطنة في منتصف عام ٢٠١٠ م بلغ (٢٧٧٢٤٧٩) نسمة وكان عدد المواليد (٥٦٠٠٠) في نفس العام، فإن الطريقة الصحيحة لحساب معدل المواليد:

(أ) $\frac{2772479}{51000} \times 1000$ (ب) $\frac{1000 \times 2772479}{51000}$ (ج) $\frac{1000 \times 51000}{2772479}$ (د) $\frac{2772479}{51000} \times 1000$

٨- الدولة التي تحصل المرتبة الأولى في معدل

- الوفيات من خلال الشكل المقارن:
 (أ) قطر (ب) السعودية (ج) الكويت (د) مصر



٩- تتأثر العلاقة بين السكان والموارد الطبيعية:

- (أ) سلباً بقلّة عدد السكان.
 (ب) سلباً بزيادة عدد السكان.
 (ج) سلباً وإيجاباً بزيادة عدد السكان.
 (د) سلباً وإيجاباً بقلّة عدد السكان.

أجب عن جميع الأسئلة الآتية

السؤال الأول: ضع دائرة حول رمز الإجابة الصحيحة لكل مفردة من المفردات الآتية:

١- الموقع الاتري الذي تم فيه اكتشاف المقابر الموضحة في الصورة المقابلة:

- (أ) الروطبة (ب) البليد
 (ج) سيوان (د) بات



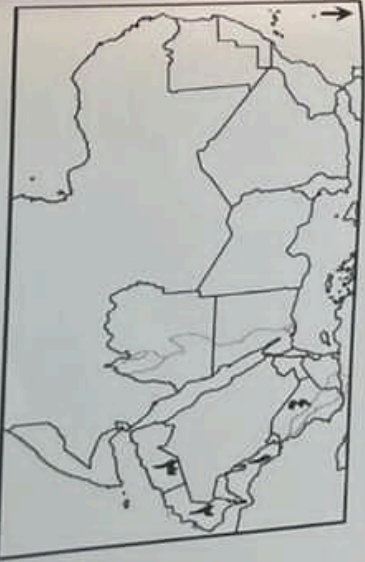
- ٢- الحضارة التي أطلقت على عُمان قديماً اسم مجان:
 (أ) السومرية (ب) الأكادية (ج) الآشورية (د) الفرعونية

٣- الشكل الصحيح الذي يمثل المنجزات والخصائص التي ارتبطت بالمصر العديدي:

تحتن صناعة السفن	ظهور نظام المقايضة	استخدام العبود	ظهور المدن التجارية
زيادة التبادل التجاري	تحتن صناعة السفن	قلة التبادل التجاري	استخدام العبود
ظهور المدن التجارية	زيادة التبادل التجاري	ظهور نظام المقايضة	ظهور المدن التجارية
د	ج	ب	أ

٤- الرقم الذي يشير إلى الموقع الصحيح لحضارة ديلون في الخريطة المقابلة:

- (أ) ١ (ب) ٢ (ج) ٣ (د) ٤



السؤال الرابع :
١- صفّ الموارد الطبيعية الواردة بين القوسين إلى موارد متجددة وموارد غير متجددة في الجدول التالي:

موارد غير متجددة	موارد متجددة
٣-.....	١-.....
٤-.....	٢-.....

ب- مستعينا بالصورة المعبأة اكتب عن الأمثلة الآتية:

١- اسم الممارسة الضارة بالصحة التي تشير إليها الصورة.

٢- اكتب اثنين من أضرار هذه الممارسة على الفرد.

٣- اقترح حلا لتجنب هذه الممارسة.



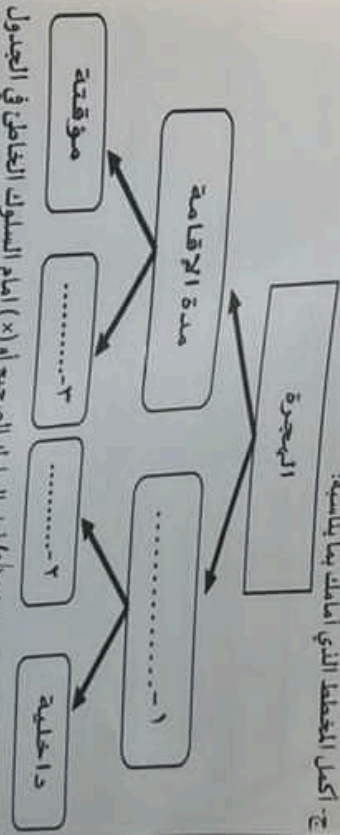
1

السؤال الثالث:

اكتب عن الأمثلة الآتية:

١- اكتب اثنين من المواقف الآتية الدالة على استخراج النحاس وتصنيعه قديما في عمان:
٢-.....
٣-.....

ج- اكمل المخطط الذي أمامك بما يناسبه:



د- قيم السلوكيات بوضع إشارة (٧) أمام السلوك الصحيح أو (x) أمام السلوك الخاطئ في الجدول الآتي:

رقم	السلوكيات	تقيم السلوك
١	طالب يصعد إلى الحافلة قبل توقفها.	
٢	رب أسرة يصرف الدخل الشهري بالكامل في الأسبوع الأول من الشهر.	
٣	طالب يطلق مغانيع المكثف والأوزاب نهاية الدوام قبل مغادرة الصف.	
٤	طفل صغير يلبس حزام الأمان أثناء قيادة والده للسيارة.	

٨
