

تم تحميل هذا الملف من موقع المناهج العُمانية



* للحصول على أوراق عمل لجميع الصفوف وجميع المواد اضغط هنا

<https://almanahj.com/om>

* للحصول على أوراق عمل لجميع مواد الصف السابع اضغط هنا

<https://almanahj.com/om/7>

* للحصول على جميع أوراق الصف السابع في مادة اجتماعيات وجميع الفصول, اضغط هنا

<https://almanahj.com/om/7social>

* للحصول على أوراق عمل لجميع مواد الصف السابع في مادة اجتماعيات الخاصة بـ الفصل الثاني اضغط هنا

<https://almanahj.com/om/7social2>

* لتحميل كتب جميع المواد في جميع الفصول للـ الصف السابع اضغط هنا

<https://almanahj.com/om/grade7>

* لتحميل جميع ملفات المدرس علي بن محمد الحسان اضغط هنا

للتحدث إلى بوت على تلغرام: اضغط هنا

https://t.me/omcourse_bot

وقل رب زدني علما

مذكرة إثرائية لمادة الدراسات الاجتماعية

الصف السابع

٢٠١٨ / ٢٠١٧

الفصل الدراسي الثاني

الوحدة الرابعة

أنماط الحياة والإحتياجات السكانية

(أسئلة)

إعداد :

علي بن محمد الحسان

للتواصل :

99493923

Ali 47536@moe.om

{ درس : الإستيطان الريفي والحضري }

السؤال الأول : ضع علامة (✓) أو (X) أمام العبارة المناسبة مع تصحيح ماتحته خط إذا كانت العبارة خطأ :

- ١- () عاش الإنسان مستهلكاً لما تنتجه البيئة دون أن يبذل جهداً كبيراً .
- ٢- () أدت كثرة الحاصلات الزراعية إلى قيام التبادل التجاري بين البيئات المختلفة .
- ٣- () صاحب ظهور المدن التجارية تقدم بعض الصناعات المعتمدة على الحاصلات الزراعية .
- ٤- () تمثل المناطق الريفية مراكز للتحويل الاجتماعي من نمط الحياة الريفية إلى أنماط الحياة الحضرية بصورة تدريجية .

السؤال الثاني : إختار الكلمة المناسبة من بين القوسين وضعها في الفراغ المناسب لها في الجملة التالية :

(ينتمي - القرى - الاستقرار - التعاون - التجمعات - الآخرين - دور)

عندما بدأ الإنسان البدائي حياة قام بتنظيم علاقاته مع من بني جنسه وتكون نظام حياة يعتمد على وتبادل المنافع وأصبح لكل فرد يقوم به ضمن الجماعة التي إليها ولذلك ظهرت البشرية التي تطورت مع تزايد السكان وأخذت شكل الصغيرة .

السؤال الثالث : ضع دائرة حول الإجابة الصحيحة من بين البدائل المعطاه :

- ١- تم استخدام الإنسان للمحراث الخشبي في
(مرحلة الصيد والرعي - مرحلة الزراعة - مرحلة التجارة)
- ٢- هجرة سكان القرى من المناطق الزراعية إلى المناطق الصناعية كانت في مرحلة
(مرحلة الزراعة - مرحلة التجارة - مرحلة الصناعة)

السؤال الرابع : علل مايلي " أذكر السبب " :

- ١- " إنتقال الإنسان البدائي من منطقة إلى أخرى "

السؤال الخامس : ضع بين القوسين المصطلح الدال على المفاهيم التالية :

- ١- () يطلق على مناطق الاستقرار في القرى سواء أكانت قرى صغيرة أم كبيرة .
- ٢- () يطلق على التجمع السكاني الذي تتوافر فيه خدمات البنى التحتية كالماء والكهرباء ...

السؤال السادس : أجب عن الأسئلة التالية :

س ١ : ماهي الأسباب التي أدت إلى ظهور التجمعات البشرية ؟

- ج ١ -
-
-

س ٢ : " مرت المجتمعات البشرية بعدة مراحل " أذكرها ؟

- ج ٢ : ١-
- ٢-
- ٣-
- ٤-
- ٥-

س ٣ : تحدث باختصار عن كل مرحلة من مراحل المجتمعات البشرية ؟

١- مرحلة الجمع والإنتقاط :

٢- مرحلة الصيد والرعي :

٣- مرحلة الزراعة :

٤- مرحلة التجارة :

٥- مرحلة الصناعة :

س ٤ : "يتميز الريف بعدة خصائص " أذكر ثلاث من هذه الخصائص ؟

ج ٤ ١-

٢-

٣-

س ٥: ماهي خصائص ومميزات الحضر ؟

ج ٥ -

-

-

س ٥: ماذا يقصد بالتوسط والمركزية؟

ج ٥ :

السؤال السابع : عرف الصور التالية :



{ درس : الريف ومشكلاته }

السؤال الأول : ضع علامة (✓) أو (X) أمام العبارة المناسبة مع تصحيح ماتحته خط إذا كانت العبارة خطأ :

- ١- () جعلت البيت في الحياة الريفية محور الحياة الاجتماعية لاسيما في مواسم الحصاد .
- ٢- () من مشكلات الهجرة تغير نمط الاسرة من أسرة كبيرة إلى أسرة صغيرة .
- ٣- () من مشكلات الهجرة تفتت الملكية الزراعية حيث أصبحت الأراضي الزراعية ذات مساحات كبيرة .
- ٤- () من مشكلات الاجتماعية تخلخل البناء الاجتماعي والإقتصادي فأذا ذلك إلى زيادة نسبة الذكور لسكان الريف .

السؤال الثاني : ضع دائرة حول الإجابة الصحيحة من بين البدائل المعطاه :

- ١- يتصف الريف بأنه مجتمع
(زراعي - تجاري - صناعي)
- ٢- تتميز الحياة في الريف بالبساطة و
(التخلف - الهدوء - الحروب)
- ٣- " الخطط التي يتم تصميمها بهدف تطوير الحياة الاقتصادية والاجتماعية لمجموعة معينة من الناس في المنطقة الريفية " يقصد بها ؟
(التنمية النهضية - التنمية النوعية - التنمية الريفية)
- ٤- تواجه الكثير من المجتمعات الريفية ظاهرة الناتجة عن الرعي الجائر .
(التملح - التصحر - الجفاف)

السؤال الثالث : علل مايلي " أذكر السبب " :

- ١- " ضعف الإنتاج الزراعي الريفي في الدول النامية "

السؤال الرابع : أجب عن الأسئلة التالية :

س ١ : وماهي مقومات الحياة في الريف ؟

ج ١ :

س ٢ : ماهي المشكلات والمعوقات التي يواجهها المجتمع الريفي ؟

ج ٢ :

س ٣ : ماهى الأسباب الرئيسية لحركة الهجرة من الريف الى المدن ؟

ج ٣ :

س ٤ : ماهى النتائج والمشكلات المترتبة على الهجرة من الريف الى المدن ؟ أذكر ثلاث منها .

ج ٤ : ١ -

٢ -

٣ -

س ٥ : ماهى أهم المشكلات التى تواجهها الزراعة فى الوقت الحاضر ؟ أذكر ثلاث منها .

١ -

٢ -

٣ -

س ٦ : ماهى المشكلات الاجتماعية التى يواجهها المجتمع الريفى ؟ اذكر اثنان منها .

ج ٦ : ١ -

٢ -

س ٧ : " يواجه الريف فى الدول النامية بعض المشكلات الإقتصادية " اذكر أهمها ؟

ج ٧ :

س ٨ : ماهى أسباب ظهور ظاهرة التصحر ؟

ج ٨ : ١ -

٢ -

٣ -

س ٩ : كيف تعمل الحكومة الرشيدة على دعم القطاع الزراعى ؟ اذكر اثنان منها .

ج ٩ : ١ -

٢ -

{ درس : التحضر ومشكلات المدن }

السؤال الأول : ضع علامة (✓) أو (X) أمام العبارة المناسبة مع تصحيح ماتحته خط إذا كانت العبارة خطأ :

- ١- () يحدث الجزء الأكبر من النمو السكاني العالمي في المدن وبخاصة في الدول النامية .
- ٢- () في الوقت الحاضر بدأت ظاهرة الهجرة إلى المدن بالتزايد في الدول المتقدمة .
- ٣- () تقع معظم الدول المليونية في الدول النامية .
- ٤- () يقصد بالمدن المليونية التي يزيد عدد سكانها عن (١٤) مليون نسمة.

السؤال الثاني : ضع دائرة حول الإجابة الصحيحة من بين البدائل المعطاه :

- ١- يطلق على عملية تزايد نسبة سكان المدن إلى المجموع الكلي للسكان في بلد ما اسم .
(الهجرة - التحضر - المواليد)
- ٢- أسهمت الثورة في الدول المتقدمة في زيادة نمو المدن وتضخمها .
(الزراعية - التجارية - الصناعية)
- ٣- يمثل سكان المدن في العالم الآن مانسبته من سكان مدن الدول النامية .
(٤٠% - ٥٠% - ٦٠%)
- ٤- وصل عدد المدن المليونية مع بداية هذا القرن حوالي مدينه .
(١٠٠ - ٢٠٠ - ٣٠٠)

السؤال الثالث : أكمل الجمل التالية بكلمات مناسبة من عندك :

- ١- نتيجة لإضطراب المهاجر لبناء مساكن متواضعة وبمواد غير ثابتة أدى ذلك إلى ظهور مدن
- ٢- من الأمراض التي تظهر نتيجة في المدن الكبيرة نتيجة لتلوث الهواء والماء الكوليرا و.....

السؤال الرابع : علل ماييلي " اذكر السبب " :

س ١ : " يحدث الجزء الأكبر من النمو في مدن الدول النامية "

ج ١ :

س ٢ : أسهمت الثورة الصناعية في الدول المتقدمة في زيادة نمو المدن وتضخمها

ج ٢ :

السؤال الخامس : أجب عن الأسئلة التالية :

س ١ : ما المقصود بالتراجع الحضري ؟

ج ١ :
.....

س ٢ : أذكر ثلاث من المدن التي يزيد عدد سكانها عن ١٢ مليون نسمة ؟

ج ٢ :
.....

س ٣ : ماهي المدينة الأسرع نموا في العالم ؟ والمدينة الأكبر سكانا ؟

ج ٣ :
.....

س ٤ : " أدى النمو السريع للمدن في الدول النامية إلى ظهور مشكلات خطيرة " أذكر ثلاث من هذه المشكلات ؟

ج ٤ : ١ -
.....

٢ -
.....

٣ -
.....

س ٥ : متى تظهر مشكلة الإسكان في المدن الضخمة ؟

ج ٥ :
.....

س ٦ : " يواجه المهاجر في المدن الضخمة ثلاثة خيارات " ماهي ؟

ج ٦ : ١ -
.....

٢ -
.....

٣ -
.....

س ٧ : أذكر ثلاث مما تتميز به مدن الأكواخ ؟

ج ٧ : ١ -
.....

٢ -
.....

٣ -
.....

س ٨ : " يواجه السكان في المدن الكبيرة في الدول النامية عدة مشاكل من حيث الخدمات " أذكر أربعة منها ؟

ج ٨ : تتمثل هذه المشكلات في :

١ -
.....

٢ -
.....

٣ -
.....

٤ -
.....

س ٩ : " يترتب على ازدحام الطرق بالسيارات والمركبات إلى مشكلات إقتصادية " أذكر أهم هذه المشكلات ؟

ج ٩ :
.....

س ١٠ : " يؤدي ازدحام الطرق بالسيارات والمركبات إلى مشكلات إجتماعية " أذكر أهم هذه المشكلات ؟

ج ١٠ :
.....

{ درس : الإحتياجات السكانية }

السؤال الأول : ضع علامة (✓) أو (X) أمام العبارة المناسبة مع تصحيح ماتحته خط إذا كانت العبارة خطأ :

- ١- () تضع الحكومة الرشيدة المخططات السكانية وتوزع الأراضي السكانية على المواطنين برسوم ميسرة .
- ٢- () برنامج المساعدات السكانية وضع لمساعدة الأسر ذات الدخل المحدود وتصرف كهيئة من الدولة للمواطنين .
- ٣- () بنت الحكومة الرشيدة المدارس ووفرت التعليم لجميع المواطنين مقابل مبلغ مالي سنوي عن كل فرد .

السؤال الثاني : أكمل الجمل التالية بكلمات مناسبة من عندك :

- ١- يتم توفير المواد الغذائية الأساسية للمواطنين بطريقتين الأولى الإنتاج المحلي والثانية
- ٢- يخدم برنامج القروض السكانية المواطنين ذوي الدخل المحدود ويسدد المواطن القرض بأقساط..... في مدة معينة
- ٣- تنوعت وسائل الإتصال لتشمل الهاتف الأرضي و الهاتف وصولاً إلى

السؤال الثالث : علل مايلي " اذكر السبب " :

س ١ : تعاني السلطنة من شح المياه وجفاف بعض الأفلاج.

ج ١ :

س ٢ : تهتم السلطنة بتوفير الكهرباء لجميع القطاعات الاقتصادية والصناعية والتجارية والزراعية .

ج ٢ :

السؤال الرابع : أجب عن الأسئلة التالية :

س ١ : ما هي الإحتياجات الضرورية التي يحتاجها السكان وترعاها الدولة ؟

ج ١ :

س ٢ : " حرصت الحكومة الرشيدة على توفير السكن الملائم للمواطنين " كيف يتم ذلك ؟

ج ٢ :

س ٣ : " مجال الإسكان الإجتماعي له برنامجان " ماهما ؟

ج ٣ : ١-

٢-

س ٤ : " سعت الحكومة الرشيدة إلى توفير الرعاية الصحية لمواطنيها " وضح ذلك ؟

ج ٤ : :

س ٥ : سعت الحكومة الرشيدة إلى نشر التعليم بين جميع مواطنيها " كيف ذلك ؟

ج ٥ :

س ٦ : ماهو دور المواطن في العمل على توفير المياه ؟

ج ٦ :

.....

س ٧ : " تعد الكهرباء من الضروريات الأساسية للمواطنين " مادور الحكومة في ذلك ؟

ج ٧ :

س ٨ : " تعد الطرق من الوسائل الضرورية للإنسان والدولة " ما اهمية الطرق للإنسان والدولة ؟ اذكر ثلاث منها .

ج ٨ : ١-

٢-

٣-

almanahj.com/om

وقل رب زدني علما

مذكرة إثرائية لمادة الدراسات الاجتماعية

الصف السابع

٢٠١٨ / ٢٠١٧

الفصل الدراسي الثاني

الوحدة الرابعة

(أنماط الحياة والإحتياجات السكانية)

(أسئلة وأجوبة)

إعداد :

علي بن محمد الحسان

للتواصل :

99493923

Ali 47536@moe.om

{ درس : الإستيطان الريفي والحضري }

السؤال الأول : ضع علامة (✓) أو (X) أمام العبارة المناسبة مع تصحيح ماتحته خط إذا كانت العبارة خطأ :

- ١- (✓) عاش الإنسان مستهلكاً لما تنتجه البيئة دون أن يبذل جهداً كبيراً .
- ٢- (✓) أدت كثرة الحاصلات الزراعية إلى قيام التبادل التجاري بين البيئات المختلفة .
- ٣- (✓) صاحب ظهور المدن التجارية تقدم بعض الصناعات المعتمدة على الحاصلات الزراعية .
- ٤- (X) تمثل المناطق الريفية مراكز للتحويل الاجتماعي من نمط الحياة الريفية إلى أنماط الحياة الحضرية بصورة تدريجية . الحضرية

السؤال الثاني : إختار الكلمة المناسبة من بين القوسين وضعها في الفراغ المناسب لها في الجملة التالية :

(ينتمي - القرى - الاستقرار - التعاون - التجمعات - الآخرين - دور)

عندما بدأ الإنسان البدائي حياة الاستقرار قام بتنظيم علاقاته مع الآخرين من بني جنسه وتكون نظام حياة يعتمد على التعاون وتبادل المنافع وأصبح لكل فرد دور يقوم به ضمن الجماعة التي ينتمي إليها ولذلك ظهرت التجمعات البشرية التي تطورت مع تزايد السكان وأخذت شكل القرى الصغيرة .

السؤال الثالث : ضع دائرة حول الإجابة الصحيحة من بين البدائل المعطاه :

- ١- تم استخدام الإنسان للمحراث الخشبي في
(مرحلة الصيد والرعي - مرحلة الزراعة - مرحلة التجارة)
- ٢- هجرة سكان القرى من المناطق الزراعية إلى المناطق الصناعية كانت في مرحلة
(مرحلة الزراعة - مرحلة التجارة - مرحلة الصناعة)

السؤال الرابع : علل ماييلي " أذكر السبب " :

- ١- " إنتقال الإنسان البدائي من منطقة إلى أخرى " سعياً وراء الماء والغذاء .

السؤال الخامس : ضع بين القوسين المصطلح الدال على المفاهيم التالية :

- ١- (الريف) يطلق على مناطق الاستقرار في القرى سواء أكانت قرى صغيرة أم كبيرة .
- ٢- (الحضر) يطلق على التجمع السكاني الذي تتوافر فيه خدمات البنى التحتية كالماء والكهرباء ...

السؤال السادس : أجب عن الأسئلة التالية :

س ١ : ماهي الأسباب التي أدت إلى ظهور التجمعات البشرية ؟

- ج ١ - تنظيم علاقاته مع الآخرين من بني جنسه .
- تكوين نظام حياه يعتمد على التعاون وتبادل المنافع .
- أصبح لكل فرد دور يقوم به ضمن الجماعة التي ينتمي إليها .

س ٢ : " مرت المجتمعات البشرية بعدة مراحل " أذكرها ؟

- ج ٢ : ١- مرحلة الجمع والإلتقاط .
- ٢- مرحلة الصيد والرعي .
- ٣- مرحلة الزراعة .
- ٤- مرحلة التجارة .
- ٥- مرحلة الصناعة .

س ٣ : تحدث باختصار عن كل مرحلة من مراحل المجتمعات البشرية ؟

١- مرحلة الجمع والإلتقاط : يحصل على طعامه ويعيش على ما يحصل عليه من قمار الأشجار دون أن يبذل جهداً كبيراً
٢- مرحلة الصيد والرعي : (أهم إنجازات هذه المرحلة)

- أ- صنع الأدوات البسيطة لإستخدامها في الدفاع عن النفس كما صنع بعض أدوات الصيد .
- ب- إستأنس الحيوانات من خلال تربيتها .
- ج- كون تجمعات إنسانية غير مستقرة تنتقل من مكان لآخر نتيجة لظروف البيئة الطبيعية .

٣- مرحلة الزراعة : إستغل الإنسان موارد الأرض المحيطة به فأخذ بزراعة الأرض فأصبحت الزراعة الغذاء الرئيسي لهم حيث تم إختراع المحراث الخشبي .

٤- مرحلة التجارة : أدت كثرة الحاصلات الزراعية إلى قيام التبادل التجاري بين البيئات المختلفة مما دفع الناس إلى الهجرة من القرى والتجمع في مراكز للإشتغال بالتجارة حيث نشأت المدن التجارية وظهر تقدم بعض الصناعات المعتمدة على الحاصلات الزراعية.

٥- مرحلة الصناعة : بعد إستقرار الإنسان في المناطق الزراعية إتجه الإنسان لتصنيع كل ما يحتاج إليه من المواد الزراعية والحيوانية والمعدنية مما أدى إلى ظهور صناعات في مناطق معينة من نتيجة هجرة سكان القرى من مناطق الزراعة إلى المناطق الصناعية .

س ٤ : " يتميز الريف بعدة خصائص " أذكر ثلاث من هذه الخصائص ؟

- ١- توافر الإمكانيات الطبيعية للإنتاج الزراعي .
- ٢- توافر بعض الخامات الزراعية والحيوانية المستخدمة في الصناعة .
- ٣- إنتشار نمط الأسرة الكبيرة (الممتدة)
- ٤- قوة العلاقات الأسرية بين أفراد المجتمع الريفي .


س ٥: ماهي خصائص ومميزات الحضر ؟

- ٥ - التوسط والمركزية .
- تصبح أراضي المركز الحضري أكثر قيمة .
- وجود المقومات الأساسية (الأراضي - المباني - الحكم - الأمن - مؤسسات حكومية ...)

س ٦: ماذا يقصد بالتوسط والمركزية؟

- ج ٦ : يقصد به توسط الخدمات ونركزها في وسط المدينة (المركز)

السؤال السابع : عرف الصور التالية :



بداية إستخدام الإنسان للمحراث



أدوات صيد قديمة

{ درس : الريف ومشكلاته }

السؤال الأول : ضع علامة (✓) أو (X) أمام العبارة المناسبة مع تصحيح ماتحته خط إذا كانت العبارة خطأ :

- ١- (✓) جعلت البيت في الحياة الريفية محور الحياة الاجتماعية لاسيما في مواسم الحصاد .
- ٢- (✓) من مشكلات الهجرة تغير نمط الاسرة من أسرة كبيرة إلى أسرة صغيرة .
- ٣- (X) من مشكلات الهجرة تفتت الملكية الزراعية حيث أصبحت الأراضي الزراعية ذات مساحات كبيرة . صغيرة
- ٤- (X) من مشكلات الاجتماعية تخلخل البناء الاجتماعي والإقتصادي فأذا ذلك إلى زيادة نسبة الذكور لسكان الريف . الإناث

السؤال الثاني : ضع دائرة حول الإجابة الصحيحة من بين البدائل المعطاه :

- ١- يتصف الريف بأنه مجتمع.....
(زراعي - تجاري - صناعي)
- ٢- تتميز الحياة في الريف بالبساطة و.....
(التخلف - الهدوء - الحروب)
- ٣- " الخطط التي يتم تصميمها بهدف تطوير الحياة الاقتصادية والاجتماعية لمجموعة معينة من الناس في المنطقة الريفية" يقصد بها ؟
(التنمية النهضية - التنمية التنوعية - التنمية الريفية)
- ٤- تواجه الكثير من المجتمعات الريفية ظاهرة الناتجة عن الرعي الجائر .
(التملح - التصحر - الجفاف)

السؤال الثالث : علل مايلي " أذكر السبب " :

- ١- " ضعف الإنتاج الزراعي الريفي في الدول النامية"
بسبب قلة الأمطار وهجرة السكان من مهنة الزراعة لمن أخرى .

السؤال الرابع : أجب عن الأسئلة التالية :

س ١ : وماهي مقومات الحياة في الريف ؟

- ج ١ : يرتبط قيام المجتمع الريفي بتوافر ١- مصادر المياه بشكل دائم .
- ٢- توافر التربة الخصبة .

س ٢ : ماهي المشكلات والمعوقات التي يواجهها المجتمع الريفي ؟

- ج ٢ : الهجرة - الزراعة - المشكلات الزراعية - المشكلات الاقتصادية

س ٣ : ماهي الأسباب الرئيسية لحركة الهجرة من الريف إلى المدن ؟

- ج ٣ - تركيز الخدمات والصناعات في المدن .
- توفر فرص العمل في المدن .
- ارتفاع دخل الفرد .

س ٤ : ماهي النتائج والمشكلات المترتبة على الهجرة من الريف إلى المدن ؟ أذكر ثلاث منها .

- ج ٤ : ١ - عرقلة تنمية القطاع الزراعي " حيث يفقد الريف كثيراً من القوى العاملة " وبالتالي " يقل الإنتاج الزراعي ويقل دخل الفرد
٢ - إنتقال أكثر الأشخاص المتميزين والطموحين من الريف إلى المدن .
٣ - تغير نمط الأسرة من الأسرة الكبيرة إلى الأسرة الصغيرة .
٤ - التحول من العمل الزراعي إلى أعمال مهنية أخرى .
٥ - الضغط على الخدمات العامة في المدن .

س ٥ : ماهي أهم المشكلات التي تواجهها الزراعة في الوقت الحاضر ؟ أذكر ثلاث منها .

- ١ - تغير النظرة إلى العمل الزراعي وإلى الأرض الزراعية .
٢ - تعرض الزراعة إلى الزحف الحضري .
٣ - تفتت الملكية الزراعية .
٤ - بروز مشكلة التملح والزحف الصحراوي في المناطق الجافة وبالفيضانات المدمرة في مناطق الأمطار الغزيرة " ظاهرة التصحر"
٥ - تناقص موارد المياه بسبب الظروف المناخية .

س ٦ : ماهي المشكلات الاجتماعية التي يواجهها المجتمع الريفي ؟ اذكر اثنان منها .

- ج ٦ : ١ - ضعف الروابط الاجتماعية نتيجة خروج الأبناء من نطاق رب الأسرة
٢ - ضعف التقيد بالعادات والتقاليد والقيم الاجتماعية .
٣ - تخلخل البناء الاجتماعي والإقتصادي .

س ٧ : " يواجه الريف في الدول النامية بعض المشكلات الاقتصادية " اذكر أهمها ؟

- ج ٧ : ١ - ضعف الإنتاج الزراعي " بسبب قلة الأمطار وبسبب هجرة السكان من مهنة الزراعة لمن أخرى "
٢ - ظهور ظاهرة التصحر .

س ٨ : ماهي أسباب ظهور ظاهرة التصحر ؟

- ج ٨ : ١ - الرعي الجائر
٢ - تدهور المراعي بسبب الجفاف
٣ - تملح التربة أو أنجرافها

س ٩ : كيف تعمل الحكومة الرشيدة على دعم القطاع الزراعي ؟ اذكر اثنان منها .

- ج ٩ : ١ - توفير أجهزة الري الحديثة للمزارعين .
٢ - تقديم البذور والشتلات للمزارعين .
٣ - تقديم الإرشاد الزراعي المناسب للمزارعين .

{ درس : التحضر ومشكلات المدن }

السؤال الأول : ضع علامة (✓) أو (X) أمام العبارة المناسبة مع تصحيح ماتحته خط إذا كانت العبارة خطأ :

- ١- (✓) يحدث الجزء الأكبر من النمو السكاني العالمي في المدن وبخاصة في الدول النامية .
- ٢- (X) في الوقت الحاضر بدأت ظاهرة الهجرة إلى المدن بالتزايد في الدول المتقدمة . بالتراجع
- ٣- (✓) تقع معظم الدول المليونية في الدول النامية .
- ٤- (X) يقصد بالمدن المليونية التي يزيد عدد سكانها عن (١٤) مليون نسمة. ١٢ مليون

السؤال الثاني : ضع دائرة حول الإجابة الصحيحة من بين البدائل المعطاه :

- ١- يطلق على عملية تزايد نسبة سكان المدن إلى المجموع الكلي للسكان في بلد ما اسم .
(الهجرة - التحضر - المواليد)
- ٢- أسهمت الثورة في الدول المتقدمة في زيادة نمو المدن وتضخمها .
(الزراعية - التجارية - الصناعية)
- ٣- يمثل سكان المدن في العالم الآن مانسبته من سكان مدن الدول النامية .
(٤٠% - ٥٠% - ٦٠%)
- ٤- وصل عدد المدن المليونية مع بداية هذا القرن حوالي مدينه .
(١٠٠ - ٢٠٠ - ٣٠٠)

السؤال الثالث : أكمل الجمل التالية بكلمات مناسبة من عندك :

- ١- نتيجة لإضطراب المهاجر لبناء مساكن متواضعة وبمواد غير ثابتة أدى ذلك إلى ظهور مدن الأكواخ .
- ٢- من الأمراض التي تظهر نتيجة في المدن الكبيرة نتيجة لتلوث الهواء والماء الكوليرا والتيفويد والدوسنتاريا

السؤال الرابع : علل ماييلي " اذكر السبب " :

س ١ : " يحدث الجزء الأكبر من النمو في مدن الدول النامية "

ج ١ : بسبب الهجرة من الريف إلى المدن

س ٢ : أسهمت الثورة الصناعية في الدول المتقدمة في زيادة نمو المدن وتضخمها

ج ٢ : نتيجة التطور الذي طرأ على الآلة الزراعية وهو ما قلل من عدد الأيدي العاملة في الزراعة .

السؤال الخامس : أجب عن الأسئلة التالية :

س ١ : ما المقصود بالتراجع الحضري ؟

ج ١ : أي أن ظاهرة الهجرة إلى المدن بدأت بالتراجع في الدول المتقدمة وأصبحت نسبة المدن إلى المجموع الكلي للسكان إما ثابتة أو أخذت بالتناقص ببطء وأصبحت هناك هجرة عكسية من المدينة إلى الريف .

س ٢ : أذكر ثلاث من المدن التي يزيد عدد سكانها عن ١٢ مليون نسمة ؟

ج ٢ : طوكيو - نيويورك - شنغهاي - كاليكوتا - مكسيكو سيتي - ساوباولو

س ٣ : ماهي المدينة الأسرع نمواً في العالم ؟ والمدينة الأكبر سكاناً ؟

ج ٣ : المدينة الأكثر نمواً هي " ساوباولو " والمدينة الأكثر سكاناً " مكسيكو سيتي "

س ٤ : " أدى النمو السريع للمدن في الدول النامية إلى ظهور مشكلات خطيرة " أذكر ثلاث من هذه المشكلات ؟

ج ٤ : ١- صعوبة توفير السكن اللائم .

٢ - الضغط على الخدمات الأساسية " الكهرباء ، الماء

٣- عدم إمكانية توفير الوظائف للجميع .

س ٥ : متى تظهر مشكلة الإسكان في المدن الضخمة ؟

ج ٥ : تظهر عندما لا تتمكن هذه المدن من توفير المأوى والخدمات الكافية لمواجهة النمو السريع بها .

س ٦ : " يواجه المهاجر في المدن الضخمة ثلاثة خيارات " ماهي ؟

ج ٦ : ١- إستئجار غرفة واحدة إذا كان لديه المال اللازم .

٢- بناء مسكن على قطعة أرض لا يملكها وبمواد غير ثابتة .

٣- العيش والنوم على أرصفة الشوارع والأماكن والساحات العامة إذا كان ليس لديه المال اللازم .

س ٧ : أذكر ثلاث مما تتميز به مدن الأكواخ ؟

ج ٧ : ١- بناء المنزل من بقايا الخشب أو الصفيح الذي يتم الحصول عليه من بقايا البناء .

٢- تنتشر المنازل لى التخطيط وتنمو بسرعة كبيرة نظراً لإزدحامها بالسكان .

٣- تنقصها الخدمات الأساسية كالمياه والصرف الصحي والكهرباء والشوارع .

س ٨ : " يواجه السكان في المدن الكبيرة في الدول النامية عدة مشاكل من حيث الخدمات " أذكر أربعة منها ؟

ج ٨ : تتمثل هذه المشكلات في :

١- صعوبة الحصول على المياه الصالحة للشرب نظراً لضعف شبكات المياه .

٢- ضعف خدمات الصرف الصحي .

٣- نقص في الكهرباء .

٤- نقص في المدارس

س ٩ : " يترتب على ازدحام الطرق بالسيارات والمركبات إلى مشكلات إقتصادية " أذكر أهم هذه المشكلات ؟

ج ٩ : - ضياع ساعات العمل - تأخر نقل البضائع

س ١٠ : " يؤدي ازدحام الطرق بالسيارات والمركبات إلى مشكلات إجتماعية " أذكر أهم هذه المشكلات ؟

ج ١٠ : - وفاة آلاف السكان - وجود إصابات كثيرة بسبب الحوادث المرورية

{ درس : الإحتياجات السكانية }

السؤال الأول : ضع علامة (✓) أو (X) أمام العبارة المناسبة مع تصحيح ماتحته خط إذا كانت العبارة خطأ :

- ١- (✓) تضع الحكومة الرشيدة المخططات السكنية وتوزع الأراضي السكنية على المواطنين برسوم ميسرة .
- ٢- (✓) برنامج المساعدات السكنية وضع لمساعدة الأسر ذات الدخل المحدود وتصرف كهوة من الدولة للمواطنين .
- ٣- (X) بنت الحكومة الرشيدة المدارس ووفرت التعليم لجميع المواطنين مقابل مبلغ مالي سنوي عن كل فرد . بالمجان

السؤال الثاني : أكمل الجمل التالية بكلمات مناسبة من عندك :

- ١- يتم توفير المواد الغذائية الأساسية للمواطنين بطريقتين الأولى الإنتاج المحلي والثانية الإستيراد من الخارج .
- ٢- يخدم برنامج القروض السكنية المواطنين ذوي الدخل المحدود ويسدد المواطن القرض بأقساط شهرية في مدة معينة
- ٣- تنوعت وسائل الإتصال لتشمل الهاتف الأرضي و الهاتف المتنقل وصولاً إلى الإنترنت .

السؤال الثالث : علل مايلي " اذكر السبب " :

س ١ : تعاني السلطنة من شح المياه وجفاف بعض الأفلاج.

ج ١ : بسبب قلة سقوط الأمطار .

س ٢ : تهتم السلطنة بتوفير الكهرباء لجميع القطاعات الاقتصادية والصناعية والتجارية والزراعية .

ج ٢ : بهدف التنمية وتشجيع الإستثمار .

السؤال الرابع : أجب عن الأسئلة التالية :

س ١ : ما هي الإحتياجات الضرورية التي يحتاجها السكان وترعاها الدولة ؟

ج ١ : الغذاء - الماء - الكساء - السكن - الصحة - التعليم - الكهرباء - وسائل الإتصال

س ٢ : " حرصت الحكومة الرشيدة على توفير السكن الملائم للمواطنين " كيف يتم ذلك ؟

ج ٢ أ - مجال التخطيط والمساحة " توزيع الأراضي السكنية على المواطنين "

ب- مجال الإسكان الاجتماعي .

س ٣ : " مجال الإسكان الإجتماعي له برنامجان " ماهما ؟

ج ٣ : ١- برنامج المساعدات السكنية : وهي تخدم ذوي الدخل المتوسط وأسر الضمان الاجتماعي .

٢- برنامج القروض السكنية : ويخدم ذوي الدخل المتوسط ويسدد المواطن القرض بأقساط شهرية في مدة معينة حسب حجم القرض .

س ٤ : " سعت الحكومة الرشيدة إلى توفير الرعاية الصحية لمواطنيها " وضح ذلك ؟

ج ٤ : : وفرت الدولة المستشفيات والمراكز الصحية بمختلف ولايات ومناطق السلطنة وزودتها بالكوادر الطبية المختلفة .

س ٥ : سعت الحكومة الرشيدة إلى نشر التعليم بين جميع مواطنيها " كيف ذلك ؟

ج ٥ : بنت المدارس في جميع ربوع عمانا الحبيبة وأستفاد منها كل مواطن أينما كان وبالمجان .

س ٦ : ماهو دور المواطن في العمل على توفير المياه ؟

ج ٦ : ١- عدم الإسراف في إستخدام المياه .
٢- التعاون مع الجهود المبذولة من الحكومة في ترشيد المياه .

س ٧ : " تعد الكهرباء من الضروريات الأساسية للمواطنين " مador الحكومة في ذلك ؟

ج ٧ : تم توصيل الكهرباء لمعظم التجمعات السكانية في السلطنة ووفرتها لجميع القطاعات الخدمية المختلفة
" إقتصاد - زراعة - صناعة "

س ٨ : " تعد الطرق من الوسائل الضرورية للإنسان والدولة " ما اهمية الطرق للإنسان والدولة ؟ اذكر ثلاث منها .

ج ٨ : ١- تربط بين التجمعات السكانية بالمدن .
٢- تربط مواقع الإنتاج بأسواق الإستهلاك والتصدير
٣- تعد مؤشراً على التحضر في الدولة .
٤- ربط الدولة بالدول المجاورة .

وقل رب زدني علما

مذكرة إثنائية لمادة الدراسات الاجتماعية

الصف السابع

٢٠١٨ / ٢٠١٧

الفصل الدراسي الثاني

الوحدة الخامسة

(حضارات مصر والهلل الخصب)

(أسئلة)

إعداد :

علي بن محمد الحسن

للتواصل :

99493923

Ali 47536@moe.om

{ درس : الحضارة المصرية القديمة }

السؤال الأول : ضع علامة (✓) أو (X) أمام العبارة المناسبة مع تصحيح ماتحته خط إذا كانت العبارة خطأ :

- ١- () كان المصريون القدماء يعتقدون أن فيضان النيل كل عام يجلب لهم الكوارث .
- ٢- () كان لكل إقليم من الأقاليم المصرية حاكمه وجيشه ومعبوده الخاص .
- ٣- () يعد عصر الأسرتين الأولى والثانية بداية العصر التاريخي في مصر القديمة .
- ٤- () يقصد بالخط الهيروغليفي أي النقش القديم .
- ٥- () الفراعنة إسم أطلق على ملوك مصر في العصور القديمة .
- ٦- () نظر الشعب في عصر الدولة القديمة إلى الملك نظرة مقدسة وأنه ابن الإله " خوفو " .
- ٧- () لم يعتقد قدماء المصريين في البعث والحساب بعد الموت .
- ٨- () تمثل أبو الهول عبارة عن جسم أسد له رأس إنسان .
- ٩- () الأمير الذي استطاع من طرد الهكسوس وفي عهده بدء عصر الدولة الحديثة هو اخناتون .
- ١٠- () عند اكتشاف مقبرة توت عنخ آمون وجدوا له قناع مصنوع من فضة .

السؤال الثاني : ضع دائرة حول الإجابة الصحيحة من بين البدائل المعطاه :

- ١- المؤرخ اليوناني الذي قال أن مصر هبة النيل هو
(مانيقون - هيردوت - زينوفون)
- ٢- نظرا لإعتقاد المصريين القدماء بأهمية النيل في حياتهم فقد كانوا يقدمون له وللآلهة .
(التماثيل - الصلوات - القرابين)
- ٣- العالم الفرنسي الذي حل رموز الكتابة الهيروغليفيه الموجودة على حجر رشيد هو . (٤٢)
(شامبليون - نارمر - اخناتون)
- ٤- قسم المؤرخون القدماء تاريخ مصر الفرعونية إلى .
(٢٠ - ٣٠ - ٤٠) أسرة حاكمة
- ٥- قسم المؤرخون المحدثون تاريخ مصر القديمة الى .
(٣ - ٤ - ٥) أقسام
- ٦- أهتم ملوك الأسرة ببناء الأهرامات وجلبوا لها خشب الأرز من بلاد فينيقيا .
(الثانية - الثالثة - الرابعة)
- ٧- أشهر ملوك مصر دام حكمها ٢٢ سنة وتميز عصرها بالاستقرار والسلام هي الملكة .
(كيلوبترا - حتشبسوت - منهاتن)
- ٨- من أشهر القادة العسكريين من الاسرة ١٨ أهتم بالاسطول البحري وقام بحملات عسكرية ومن أشهر معاركه معركة مجدو .
(تحتس الاول - تحتس الثاني - تحتس الثالث)
- ٩- آخر فراعنة الدولة الحديثة العظام عمل على إعادة مجد الامبراطوية المصرية من أهم معاركه معركة قادش شمالي فلسطين .
(رمسيس الاول - رمسيس الثاني - رمسيس الثالث)
- ١٠- أشتهر رمسيس الثاني بأعماله التي خلدت إسمه في التاريخ .
(العمرانية - الزراعية - التجارية)

**السؤال الثالث : (أ) (قال هيردوت أن مصر هبة النيل وذلك لأن أساليب حياتهم تغيرت بسبب وجوده بينهم)
من العبارة السابقة أكمل ماييلي :**

- ١- أستفاد من خصوبة أرض مصر النيل فعرف
- ٢- إستأنس الحيوان فعمل على
- ٣- عاش حياة الاستقرار فأنشأ المساكن من الطين و.....

السؤال الثالث : (ب) أكمل الجمل التالية بكلمات مناسبة من عندك :

- ١- كانت الحياة الإنسانية في مصر تمر بظروف قاسية تمثلت هذه الظروف بالجفاف
- ٢- قامت حضارات وادي النيل على ضفاف نهر
- ٣- إتحدت أقاليم الوجه البحري وكونت مملكة وإتحدت أقاليم الوجه القبلي وكونت مملكة
- ٤- أستطاع الملك من توحيد المملكتين في مملكة واحدة عاصمتها مدينة
- ٥- استخدم المصريون القدماء أسلوب على الخشب و على الحجر .
- ٦- صنع المصريون القدماء الورق من نبات واستخدموا أقلام
- ٧- يشمل عصر الدولة القديمة الأسر من الثالثة حتى نهاية الأسرة وقد إتخذت مدينة عاصمة لها .
- ٨- يتكون تمثال ابو الهول من جسم أسد ويرمز الى ورأس إنسان ويرمز الى
- ٩- استطاع أمير طيبة أمنحوتب الثاني أن يوحد البلاد ويؤسس الأسرة وكان ذلك ايذاناً بعصر الدولة الوسطى .
- ١٠- كان يعتقد أمنحوتب الرابع (اخناتون) بوجود إله واحد يسيطر على العالم وهو إله الشمس

السؤال الرابع : علل ماييلي " اذكر السبب " :

- ١- عرف الملك مينا ولقب بصاحب التاجين .

- ٢- عرفت الدولة القديمة بعصر بناء الأهرام .

- ٣- حرص المصريون القدماء على تحنيط موتاهم .

- ٤- تعد اهرامات الجيزة من عجائب الدنيا السبع .

السؤال الخامس : صحح العبارات الخاطئة التالية :

- ١- أمر الملك خوفو بنحت تمثال أبي الهول :
- ٢- لم يرتبط بناء الأهرامات بعقيدة المصريون القدماء الدينية :
- ٣- كانت مدينة طيبة عاصمة الدولة القديمة :
- ٤- جلب ملوك مصر خشب الأرز لبناء الجسور على نهر النيل :
- ٥- انتهت موقعة مجدو بانتصار أمير قادش :

السؤال السادس : أجب عن الأسئلة التالية :

س ١ : ماذا تعنى كلمة " برعو " عند المصريين القدماء ؟

ج ١ :

س ٢ : من هم بناء اهرامات الجيزة ؟

ج ٢ :

س ٣ : اذكر اهم مظاهر الدولة الوسطى ؟ يكتفى بثلاث مظاهر فقط

ج ٣ : ١-

٢-

٣-

س ٤ : من الذين احتلوا الدلتا ومصر الوسطى ؟ وما الذى ساعدهم على ذلك ؟

ج ٤ :

س ٥ : ماهى الأشياء التى أكتشفت فى مقبرة توت عنخ آمون ؟

ج ٥ :

س ٦ : " اشتهر رمسيس الثانى بأعماله المعمارية التى خلدت اسمه فى التاريخ " ما اهم اعماله فى هذا المجال ؟ يكتفى بذكر عمليين

ج ٦ : ١-

٢-

السؤال السابع : أذكر أهم الأعمال التي قام كل من :

١- الملكة حتشبسوت

.....

.....

٢- تحتمس الثالث :

.....

.....

٣- امنحوتب الرابع " اخناتون "

.....

.....

٤- توت عنخ آمون

.....







.....

٥- رمسيس الثانى

.....

.....

السؤال الثامن : عرف الصور التالية :



{ درس : حضارات بلاد الرافدين }

السؤال الأول : ضع علامة (✓) أو (X) أمام العبارة المناسبة مع تصحيح ماتحته خط إذا كانت العبارة خطأ :

- ١- () يلتقي نهري دجلة والفرات في مجرى واحد ويسمى شط الشمال .
- ٢- () عاش السومريون في دويلات المدن ولم يعرفوا الوحدة السياسية .
- ٣- () استطاع الملك سرجون الاول من توحيد المدن السومرية وأتخذ مدينة أكاد عاصمة له .
- ٤- () يعد نارام سن من أشهر ملوك الأكاديين فقد تمكن من المحافظة على وحدة البلاد .
- ٥- () من قوانين حمورابي أنه إذا تزوج رجل امرأة وأصبحت بمرض يستطيع أن يتزوج من غيرها .
- ٦- () توجد القوانين التي أصدرها حمورابي حاليا في متحف الكرملين بباريس .

السؤال الثاني : (أ) أكمل الجمل التالية بكلمات مناسبة من عندك :

- ١- تقع بلاد الرافدين أو بلاد ما بين النهرين في القسم الجنوبي الغربي من قارة
- ٢- يصب نهري دجلة والفرات في
- ٣- ظهر في سومر نظام حكومات الذي يجعل كل مدينة دولة
- ٤- إتخذ البابليون مدينة بابل مركزا لها واشتغلوا
- ٥- عرفت عمان قديما باسم والبحرين باسم
- ٦- العاصمة الأولى للأشوريين كانت مدينة آشور والثانية كانت مدينة
- ٧- أهتم نبوخذ نصر الثاني بالعمارة ومن أشهر آثاره برج بابل وبوابة عشتار و
- ٨- اهرامات الجيزة ومنارة الإسكندرية توجد في أما حدائق بابل المعلقة فتوجد في

السؤال الثاني : (ب) أكمل الجمل التالية بكلمات مناسبة من عندك :

- سجل السومريون كتاباتهم على ألواح من قبل تجفيفها وأستخدموا للكتابة عليها أداة صنعت من العظم أو
- تشبه لذلك عرفت كتابتهم باسم الكتابة

السؤال الثالث : ضع دائرة حول الإجابة الصحيحة من بين البدائل المعطاه :

- ١- ينبع نهري دجلة والفرات من هضبة .
(التبت - الأناضول - ارمينا)
 - ٢- الذين قضوا على حكم الكلدانيين عام ٥٣٩ ق.م.
(الفرس - الروم - الأحباش)
 - ٣- توصل السومريون إلى معرفة الكتابة التي عرفت باسم .
(المسمارية - الحمورابية - القلمية)
 - ٤- من أشهر ملوك البابليين الذي تولى عرش بابل واستمر حكمه حوالي ٤٣ سنة هو .
(سان رام - بوذا - حمورابي)
 - ٥- اعتقد حمورابي بأنه يتلقى تشريعاته من إله الشمس والعدالة وهو .
(شمس - قمر - كوكب)
 - ٦- استطاع الأمير الكلداني " نابو بولاسر " من ضم كل من بلاد سومر وآكاد تحت دولة واحدة عرفت بالدولة البابلية الثانية أوبالملكة
- (السومرية - الأكادية - الكلدانية)

السؤال الرابع : علل مايلي " اذكر السبب " :

١- يعد السهل الجنوبي لبلاد الرافدين من أخصب بقاع العالم .

.....

٢- تسمية السومريون بهذا الاسم ؟

.....

٣- سميت الكتابة المسمارية بهذا الاسم ؟

.....

٤- أطلق على الآشوريون هذا الاسم ؟

.....

٥- سميت حضارة العراق القديمة بحضارة بلاد ما بين النهرين .

.....

السؤال الخامس : عرف كل مما يلي :

١- بوابة عشتار .

.....

٢- الحدائق المعلقة .

.....

السؤال السادس : أذكر أهم الأعمال التي قام بها كل من :

١- سرجون الثاني

.....



٢- آشور بانيبال :

.....

٣- حمورابي :

.....

السؤال السابع : عرف الصور التالية :



.....

.....

.....

almanahj.com/om

{ درس : حضارات بلاد الشام }

السؤال الأول : ضع علامة (✓) أو (X) أمام العبارة المناسبة مع تصحيح ماتحته خط إذا كانت العبارة خطأ :

- ١- () تقع بلاد الشام في جنوب غربي قارة أفريقيا .
- ٢- () استقرت الشعوب السامية في بلاد الشام .
- ٣- () استطاع الفينيقيون من إنشاء مستعمرات لهم في شمال إفريقيا أهمها مدينة قرطاجنة على ساحل تونس حالياً .
- ٤- () يعتبر الآراميون أول أمة بحرية في بلاد الشام .

السؤال الثاني : ضع دائرة حول الإجابة الصحيحة من بين البدائل المعطاه :

- ١- يعد ... من أوائل الشعوب السامية التي هاجرت من شبه الجزيرة العربية الى سهول بلاد الشام الشمالية .
(الآراميون - الآموريون - الفينيقيون)
- ٢- اتخذ الآموريون مدينة ... عاصمة لهم بعد ان انتشروا شمال وجنوب بلاد الشام .
(ماري - كاري - هاري)
- ٣- الملك الذي أستطاع من القضاء على الدولة الأمورية وضمها لأمبراطوريته البابلية الاولى هو
(حورس - المنحوتب - حمورابي)
- ٤- يعود إكتشاف النجم القطبي إلى
(الآراميون - الآموريون - الفينيقيون)

السؤال الثالث : أكمل الجمل التالية بكلمات مناسبة من عندك .

- ١- استطاع الآموريون عندما سكنوا بلاد الشام من بناء عدة مدن أهمها مدينة حلب ومدينة
- ٢- يعد كل من الآموريين والكنعانيين والفينييين من الشعوب وموطنهم الأصلي
- ٣- إشتغل الآموريون بالزراعة وسيطروا على طرق التي كانت تمر بعاصمتهم ماري .
- ٤- منذ عام ١٥٠٠ ق.م تحول مركز الثقل الأموري إلى وسط بلاد الشام حيث أنشأوا دولاً عرفت باسم
- ٥- من أشهر الدويلات الأمورية دولةجنوبي سوريا ودولة في الأردن .

السؤال الرابع : علل ماييلي " اذكر السبب :

- ١- فضل سكان بلاد الشام الإستيطان في المناطق الجبلية والساحلية .

.....

- ٢- يعتبر الفينيقيون أول أمة بحرية في التاريخ .

.....

السؤال الخامس : أجب عن الأسئلة التالية :

س ١ : أذكر الحضارات التي تعاقبت على الإسططان فى بلاد الشام ؟ .

ج ١ :

س ٢ : " بالرغم من ان موقع الأموريون جعلهم ينشطون بالتجارة إلا أنه جلب عليهم بالأخطار الخارجية "وضح ذلك

ج ٢ :

س ٣ : كيف كانت علاقة الدويلات الأمورية مع جيرانها ؟

ج ٣ :

س ٤ : ما أهم عمل قام به الآراميون فترة جودهم فى بلاد الشام ؟

ج ٤ :

س ٥ : ما أهم اسهامات الفينيقيون ؟

ج ٥ :

س ٦ : ماهى أهم الموانىء المحلية فى لبنان التى كان الفينيقيون يتبادلون منتجاتهم معها ؟

ج ٦ :

almanahj.com/om

وقل رب زدني علما

مذكرة إثنائية لمادة الدراسات الاجتماعية

الصف السابع

٢٠١٨ / ٢٠١٧

الفصل الدراسي الثاني

الوحدة الخامسة

(حضارات مصر والهلل الخصب)

(أسئلة وأجوبة)

إعداد :

علي بن محمد الحسن

للتواصل :

99493923

Ali 47536@moe.om

{ درس : الحضارة المصرية القديمة }

السؤال الأول : ضع علامة (✓) أو (X) أمام العبارة المناسبة مع تصحيح مانتته خط إذا كانت العبارة خطأ :

- ١- (X) كان المصريون القدماء يعتقدون أن فيضان النيل كل عام يجلب لهم الكوارث . (٣٩) الحياة والثروة
- ٢- (✓) كان لكل إقليم من الأقاليم المصرية حاكمه وجيشه ومعبده الخاص . (٤٠)
- ٣- (✓) يعد عصر الأسرتين الأولى والثانية بداية العصر التاريخي في مصر القديمة . (٤٠)
- ٤- (X) يقصد بالخط الهيروغليفي أي النقش القديم . (٤١) النقش المقدس
- ٥- (✓) الفراعنة إسم أطلق على ملوك مصر في العصور القديمة . (٤٢)
- ٦- (X) نظر الشعب في عصر الدولة القديمة إلى الملك نظرة مقدسة وأنه إبن الإله " خوفو " . (٤٣) رع
- ٧- (X) لم يعتقد قدماء المصريين في البعث والحساب بعد الموت . (٤٣) اعتقد
- ٨- (✓) تمثال أبو الهول عبارة عن جسم أسد له رأس إنسان . (٤٤)
- ٩- (X) الأمير الذي استطاع من طرد الهكسوس وفي عهده بدء عصر الدولة الحديثة هو إخناتون . (٤٦) أحمس
- ١٠- (X) عند إكتشاف مقبرة توت عنخ آمون وجدوا له قناع مصنوع من فضة . (٤٦) من ذهب

السؤال الثاني : ضع دائرة حول الإجابة الصحيحة من بين البدائل المعطاه :

- ١- المؤرخ اليوناني الذي قال أن مصر هبة النيل هو (٣٨)
(مانيون - هيردوت - زينوفون)
- ٢- نظرا لإعتقاد المصريين القدماء بأهمية النيل في حياتهم فقد كانوا يقدمون له وللآلهة . (٣٩)
(التماثيل - الصلوات - القرابين)
- ٣ - العالم الفرنسي الذي حل رموز الكتابة الهيروغليفيه الموجودة على حجر رشيد هو . (٤٢)
(شامبليون - نارمر - إخناتون)
- ٤- قسم المؤرخون القدماء تاريخ مصر الفرعونية إلى . (٤٢)
(٢٠ - ٣٠ - ٤٠) أسرة حاكمة
- ٥- قسم المؤرخون المحدثون تاريخ مصر القديمة إلى . (٤٢)
(٣ - ٤ - ٥) أقسام
- ٦- أهتم ملوك الأسرة ببناء الأهرامات وجلبوا لها خشب الأرز من بلاد فينيقيا . (٤٣)
(الثانية - الثالثة - الرابعة)
- ٧- أشهر ملوك مصر دام حكمها ٢٢ سنة وتميز عصرها بالاستقرار والسلام هي الملكة . (٤٧)
(كيلوبترا - حتشبسوت - منهاتن)
- ٨- من أشهر القادة العسكريين من الأسرة ١٨ أهتم بالأسطول البحري وقام بحملات عسكرية ومن أشهر معاركه معركة مجدو . (٤٨)
(تحتس الأول - تحتس الثاني - تحتس الثالث)
- ٩ - آخر فراعنة الدولة الحديثة العظام عمل على إعادة مجد الامبراطورية المصرية من أهم معاركه معركة قادش شمالي فلسطين . (٤٩)
(رمسيس الأول - رمسيس الثاني - رمسيس الثالث)
- ١٠ - أشهر رمسيس الثاني بأعماله التي خلدت إسمه في التاريخ . (٤٩)
(العمرانية - الزراعية - التجارية)

السؤال الثالث : (أ) (قال هيردودت أن مصر هبة النيل وذلك لأن أساليب حياتهم تغيرت بسبب وجوده بينهم) (٣٨)
من العبارة السابقة أكمل ماييلي :

- ١- أستفاد من خصوبة أرض مصر النيل فعرف الزراعة .
- ٢- إستأنس الحيوان فعمل على تربيته .
- ٣- عاش حياة الاستقرار فأنشأ المساكن من الطين والخشب .

السؤال الثالث : (ب) (أكمل الجمل التالية بكلمات مناسبة من عندك) :

- ١- كانت الحياة الإنسانية في مصر تمر بظروف قاسية تمثلت هذه الظروف بالجفاف وقلة الأمطار . (٣٨)
- ٢- قامت حضارات وادي النيل على ضفاف نهر النيل . (٣٨)
- ٣- إتحدت أقاليم الوجه البحري وكونت مملكة الشمال وإتحدت أقاليم الوجه القبلي وكونت مملكة الجنوب . (٤٠)
- ٤- أستطاع الملك مينا " نارمر " من توحيد المملكتين في مملكة واحدة عاصمتها مدينة ممفيس " منف " . (٤٠)
- ٥- استخدم المصريون القدماء أسلوب الحفر على الخشب و النقش على الحجر . (٤١)
- ٦- صنع المصريون القدماء الورق من نبات البردي واستخدموا أقلام البوص . (٤١)
- ٧- يشمل عصر الدولة القديمة الأسر من الثالثة حتى نهاية الأسرة السادسة . وقد إتخذت مدينة ممفيس " منف " عاصمة لها . (٤٣)
- ٨- يتكون تمثال ابو الهول من جسم أسد ويرمز الى القوة ورأس إنسان ويرمز الى العقل . (٤٤)
- ٩- أستطاع أمير طيبة أمنحوتب الثاني أن يوحد البلاد ويؤسس الأسرة ١١ وكان ذلك ايذاناً بعصر الدولة الوسطى . (٤٥)
- ١٠- كان يعتقد أمنحوتب الرابع (اخناتون) بوجود إله واحد يسيطر على العالم وهو إله الشمس آتون . (٤٨)

السؤال الرابع : علل ماييلي " اذكر السبب " :

- ١- عرف الملك مينا ولقب بصاحب التاجين . (٤٠)
لأنه إتخذ لنفسه تاجاً مزدوجاً من تاج الشمال وتاج الجنوب .
- ٢- عرفت الدولة القديمة بعصر بناء الأهرام . (٤٣)
إشارة إلى ماشيده ملوكها من أهرامات .
- ٣- حرص المصريين القدماء على تحنيط موتاهم . (٤٣)
لإعتقادهم بالبعث والحساب بعد الموت
- ٤- تعد اهرامات الجيزة من عجائب الدنيا السبع . (٤٣)
نظراً لضخامة بنائها ومنظرها وبراعة تصميمها

السؤال الخامس : صحح العبارات الخاطئة التالية :

- ١- أمر الملك خوفو بنحت تمثال أبي الهول : الملك خفرع . (٤٤)
- ٢- لم يرتبط بناء الأهرامات بعقيدة المصريين القدماء الدينية : بل ارتبطت بعقيدتهم وهي البعث والحساب بعد الموت . (٤٣)
- ٣- كانت مدينة طيبة عاصمة الدولة القديمة : مدينة ممفيس " منف " (٤٣)
- ٤- جلب ملوك مصر خشب الأرز لبناء الجسور على نهر النيل : لبناء الأهرامات . (٤٣)
- ٥- انتهت موقعة مجدو بانتصار أمير قادش : انتهت بعقد معاهدة سلام بين الطرفين . (٤٩)

السؤال السادس : أجب عن الأسئلة التالية :

س ١ : ماذا تعني كلمة " برعو " عند المصريين القدماء ؟ (٤٢)
ج ١ : أي ساكن البيت العالي أو القصر العظيم

س ٢ : من هم بناء اهرامات الجيزة ؟ (٤٣)
ج ٢ : خوفو وخفرع ومنقرع

س ٣ : اذكر اهم مظاهر الدولة الوسطى ؟ (٤٥)
ج ٣ : ١- استغلال المناجم والمحاجر وبالتالي ادى الى تقدم الصناعات والفنون والعمارة
٢ - استئناف العلاقات التجارية مع البلدان المجاورة
٣- اقامة السدود وقنوات الري لاستغلالها في الزراعة
٤- حفر قناة تربط بين البحر الأحمر والبحر المتوسط عن طريق نهر النيل
٥- اهتم ملوك الدولة بتقوية الجيش وتأمين الحدود فاقاموا الأسوار وبنوا القلاع

س ٤ : من الذين احتلوا الدلتا ومصر الوسطى ؟ وما الذي ساعدهم على ذلك ؟ (٤٦)
ج ٤ : الهكسوس - والعوامل التي ساعدتهم هي كثرة عددهم واستخدامهم العجلات الحربية

س ٥ : ماهي الأشياء التي اكتشفت في مقبرة توت عنخ آمون ؟ (٤٨)
ج ٥ : سرر - عروش - مقاعد - صناديق - عجلات - تابوت من ذهب يحوي مومياء الملك .

س ٦ : " اشتهر رمسيس الثاني بأعماله المعمارية التي خلدت اسمه في التاريخ " ما اهم اعماله في هذا المجال ؟ (٤٩)
ج ٦ : - أمر بنحت معبدتين في الصخر عند أبو سمبل .
- أتم بهو الأعمدة في معبد الكرنك .
- أقام عدداً كبيراً من المسلات والتماثيل الضخمة .
- شيد عاصمة جديدة لمصر في شرقي الدلتا .

السؤال السابع : أذكر أهم الأعمال التي قام كل من :

١- الملكة حتشبسوت

تعتبر من أشهر ملوك مصر وتميز عصرها بالاستقرار والسلام في الداخل والخارج كما ارسلت بعثة تجارية الى بلاد بونت " الصومال " واطراف الجزيرة العربية وقد سجلت اخبار هذه البعثة على جدران معبد الدير البحري في غربي طيبة

٢- تحتمس الثالث :

يعتبر من أشهر القادة العسكريين قام بعدة حملات على بلاد الشام أشهرها معركة مجدو في فلسطين وقد اهتم بالاسطول البحري الذي استطاع من السيطرة على كثير من جزر البحر المتوسط ومعظم مواني الساحل الفينيقي

٣- امنحوتب الرابع " اخناتون "

اعتقد بوجود إله واحد في العالم وهو إله الشمس " آتون " وبذلك غير اسمه الى أخناتون الذي يعني المخلص لآتون .


٤- توت عنخ آمون

هو زوج ابنة اخناتون الثانية حيث ترك عبادة آتون واعاد العاصمة الى طيبة مقر عبادة الإله آمون ، وقد اكتشفت مقبرته عام ١٩٢٢ في طيبة ووجد فيها سرر وعروش ومقاعد وصناديق وتابوت من الذهب يحوي مومياء الملك


٥- رمسيس الثاني

يعتبر آخر فراعنة الدولة الحديثة حكم مصر ٦٧ سنة حيث عمل على اعادة مجد الإمبراطورية المصرية في بلاد الشام ومن أهم معاركه ضد الحيثيين موقعة " قادش " شمال فلسطين ، ومن أهم اعماله بناء معبد ابوسمبل جنوب مصر واقام عدد كبير من المسلات والتمثال الضخمة كما شيد عاصمة جديدة لمصر في شرقي الدلتا


السؤال الثامن : عرف الصور التالية :




اهرامات الجيزة




حجر رشيد




الكتابة الهيروغليفية



تمثال أبو الهول



الملك مينا بعد توحيد المملكتين



قناع توت عنخ آمون



الملكة حتشبسوت

{ درس : حضارات بلاد الرافدين }

السؤال الأول : ضع علامة (✓) أو (X) أمام العبارة المناسبة مع تصحيح ماتحته خط إذا كانت العبارة خطأ :

- ١- (X) يلتقي نهري دجلة والفرات في مجرى واحد ويسمى شط الشمال . (٥١) شط العرب
- ٢- (✓) عاش السومريون في دويلات المدن ولم يعرفوا الوحدة السياسية . (٥٢)
- ٣- (✓) استطاع الملك سرجون الاول من توحيد المدن السومرية وأخذ مدينة أكاد عاصمة له . (٥٤)
- ٤- (✓) يعد نارام سن من أشهر ملوك الأكاديين فقد تمكن من المحافظة على وحدة البلاد . (٥٤)
- ٥- (✓) من قوانين حمورابي أنه إذا تزوج رجل امرأة وأصيب بمرض يستطيع أن يتزوج من غيرها . (٥٦)
- ٦- (X) توجد القوانين التي أصدرها حمورابي حاليا في متحف الكرملين بباريس . (٥٧) اللوفر

السؤال الثاني : (أ) أكمل الجمل التالية بكلمات مناسبة من عندك :

- ١- تقع بلاد الرافدين أو بلاد ما بين النهرين في القسم الجنوبي الغربي من قارة آسيا . (٥١)
- ٢- يصب نهري دجلة والفرات في الخليج العربي . (٥١)
- ٣- ظهر في سومر نظام حكومات المدن الذي يجعل كل مدينة دولة مستقلة . (٥٢)
- ٤- إتخذ البابليون مدينة بابل مركزا لها وأشتغلوا بالزراعة . (٥٥)
- ٥- عرفت عمان قديما باسم مجان والبحرين باسم دلمون . (٥٤)
- ٦- العاصمة الأولى للأشوريين كانت مدينة آشور والثانية كانت مدينة نينوى . (٥٧)
- ٧- أهتم نبوخذ نصر الثاني بالعمارة ومن أشهر آثاره برج بابل وبوابة عشتار والحدائق المعلقة . (٥٩)
- ٨- اهرامات الجيزة ومنارة الإسكندرية توجد في مصر أما حدائق بابل المعلقة فتوجد في العراق . (٦٠)

السؤال الثاني : (ب) أكمل الجمل التالية بكلمات مناسبة من عندك :

سجل السومريون كتاباتهم على ألواح من الطين قبل تجفيفها وأستخدموا الكتابة عليها أداة صنعت من العظم أو الخيزران تشبه المسمار لذلك عرفت كتابتهم باسم الكتابة المسمارية .

السؤال الثالث : ضع دائرة حول الإجابة الصحيحة من بين البدائل المعطاه :

- ١- ينبع نهري دجلة والفرات من هضبة . (٥١)
(التبت - الأناضول - أرمينا)
- ٢- الذين قضوا على حكم الكلدانيين عام ٥٣٩ ق.م . (٥٩)
(الفرس - الروم - الأحباش)
- ٣- توصل السومريون إلى معرفة الكتابة التي عرفت باسم . (٥٣)
(المسمارية - الحمورابية - القلمية)
- ٤- من أشهر ملوك البابليين الذي تولى عرش بابل واستمر حكمه حوالي ٤٣ سنة هو . (٥٥)
(سان رام - بوذا - حمورابي)
- ٥- اعتقد حمورابي بأنه يتلقى تشريعاته من إله الشمس والعدالة وهو . (٥٦)
(شمس - قمر - كوكب)
- ٦- استطاع الأمير الكلداني " نابو بولاسر " من ضم كل من بلاد سومر وأكاد تحت دولة واحدة عرفت بالدولة البابلية الثانية أوبالمملكة (٥٩)
(السومرية - الأكادية - الكلدانية)

السؤال الرابع : علل مايلي " اذكر السبب " :

١- يعد السهل الجنوبي لبلاد الرافدين من أخصب بقاع العالم . (٥٢)
لأنه يتكون من سهول رسوبية ذات تربة خصبة كما يتمتع بمناخ ملائم ساعد على استقرار السكان ونشأة الحضارات .

٢- تسمية السومريون بهذا الاسم ؟ (٥٢)
نسبة إلى المنطقة التي سكنوها جنوبي العراق التي عرفت باسم " ارض سومر " .

٣- سميت الكتابة المسمارية بهذا الاسم ؟ (٥٢)
لأنهم كانوا يكتبون بقلم يشبه المسمار.

٤- أطلق على الآشوريون هذا الاسم ؟ (٥٧)
نسبة إلى إلههم آشور

٥- سميت حضارة العراق القديمة بحضارة بلاد ما بين النهرين .
لوجود نهر دجلة والفرات بها

السؤال الخامس : عرف كل مما يلي :

١- بوابة عشتار . (٥٩)
عبارة عن مدخل ضخم لشارع كان يصل بين القصور والمعابد وكانت تقام فيه الإحتفالات الدينية .

٢- الحدائق المعلقة . (٥٩)
عبارة عن مدرجات زرعت بالأشجار المثمرة والأزهار وكانت المياه ترفع إليها بواسطة روافع وبنى نبوخذ نصر في وسطها قصراً لزوجته .


السؤال السادس : أذكر أهم الأعمال التي قام بها كل من :

١- سرجون الثاني (٥٧)
أهتم بالجيش فزوده بالعجلات الحربية والأسلحة المصنوعة من الحديد وشجع الفنون والآداب والتجارة والصناعة .


٢- آشور بانيبال : (٥٧)
حكم الإمبراطورية الآشورية ٤١ عاماً وكان مغرماً بالعلم والأدب فجمع علوم البابليين وآدابهم وسجلها على ألواح طينية حفظها في مكتبة نيتوى العاصمة الجديدة للآشوريين .

٣- حمورابي : (٥٥)
عمل على توحيد بلاد ما بين النهرين فازدهرت في عهده الزراعة والتجارة والصناعة كما اشتهر بإصدار القوانين التشريعية التي عرفت باسمه " قوانين حمورابي " وهي توجد الآن في متحف اللوفر بباريس .

السؤال السابع : عرف الصور التالية :



بوابة عشتار



حمورابي يتلقى تشريعاته من الاله شمس



الكتابه المسمارية

almanahj.com/om

{ درس : حضارات بلاد الشام }

السؤال الأول : ضع علامة (✓) أو (X) أمام العبارة المناسبة مع تصحيح مانتته خط إذا كانت العبارة خطأ :

- ١- (X) تقع بلاد الشام في جنوب غربي قارة أفريقيا . (٦٢) اسيا
- ٢- (✓) إستقرت الشعوب السامية في بلاد الشام . (٦٣)
- ٣- (✓) استطاع الفينيقيون من إنشاء مستعمرات لهم في شمال إفريقيا أهمها مدينة قرطاجنة على ساحل تونس حاليا . (٦٦)
- ٤- (X) يعتبر الآراميون أول أمة بحرية في بلاد الشام . (٦٦) الفينيقيون .

السؤال الثاني : ضع دائرة حول الإجابة الصحيحة من بين البدائل المعطاه :

- ١- يعد ... من أوائل الشعوب السامية التي هاجرت من شبه الجزيرة العربية الى سهول بلاد الشام الشمالية .
(الآراميون - الأموريون - الفينيقيون)
- ٢- إتخذ الأموريون مدينة ... عاصمة لهم بعد ان انتشروا شمال وجنوب بلاد الشام . (٦٢)
(ماري - كاري - هاري)
- ٣- الملك الذي أستطاع من القضاء على الدولة الأمورية وضمها لأمبراطوريته البابلية الاولى هو (٦٣)
(حورس - منحوتب - حمورابي)
- ٤- يعود إكتشاف النجم القطبي إلى (٦٣)
(الآراميون - الأموريون - الفيينيقيون)

السؤال الثالث : أكمل الجمل التالية بكلمات مناسبة من عندك :

- ١- استطاع الاموريون عندما سكنوا بلاد الشام من بناء عدة مدن أهمها مدينة حلب ومدينة جبيل . (٦٢)
- ٢- يعد كل من الاموريين والكنعانيين والفينييين من الشعوب السامية وموطنهم الأصلي شبه الجزيرة العربية . (٦٣)
- ٣- إشتغل الأموريون بالزراعة المروية وسيطروا على طرق التجارة التي كانت تمر بعاصمتهم ماري . (٦٣)
- ٤- منذ عام ١٥٠٠ ق.م تحول مركز الثقل الأموري إلى وسط بلاد الشام حيث أنشأوا دولاً عرفت باسم الدويلات الأمورية . (٦٣)
- ٥- من أشهر الدويلات الأمورية دولة حوران جنوبي سوريا ودولة حسبان في الأردن . (٦٣)

السؤال الرابع : علل ماييلي " اذكر السبب :

- ١- فضل سكان بلاد الشام الإستيطان في المناطق الجبلية والساحلية . (٦٢)

بسبب وفرة تساقط مياه الأمطار في تلك المناطق .

- ٢- يعتبر الفينيقيون أول أمة بحرية في التاريخ . (٦٦)

- ١- جبال لبنان كانت تعيق التجارة مع داخل سوريا ٢- وفرة الأخشاب ساعدتهم على صناعة السفن .

السؤال الخامس : أجب عن الأسئلة التالية :

- س ١ : أذكر الحضارات التي تعاقبت على الإسططان فى بلاد الشام ؟ (٦٢-٦٦)
 ج ١ : الأموريون " العموريون " - الآراميون - الفينيقيون
- س ٢ : " بالرغم من ان موقع الأموريون جعلهم ينشطون بالتجارة إلا أنه جلب عليهم بالأخطار الخارجية "وضح ذلك (٦٣)
 ج ٢ : نظرا لأهمية موقعهم التجاري فقد عرضهم للإحتلال من الآخرين فى مقدمتهم الأكاديين والبابليين والفراعنة .
- س ٣ : كيف كانت علاقة الدويلات الأمورية مع جيرانها ؟ (٦٤)
 ج ٣ : كانت علاقاتها مع جيرانها غير حسنة فقد شهدت العلاقات توترا شديدا بسبب الحروب المستمرة بينهم .
- س ٤ : ما أهم عمل قام به الآراميون فترة جودهم فى بلاد الشام ؟ (٦٥)
 ج ٤ : أنهم طوروا أبجدية خاصة اشتقوها من الأبجدية الفينيقية التي تطورت منها الكتابة العربية .
- س ٥ : ما أهم إسهامات الفينيقيون ؟ (٦٧)
 ج ٥ : تقدموا فى علم الجغرافيا والفلك اكتشفوا النجم القطبي وشيدوا القلاع والابرار والمعابد واهتموا بالزراعة والصناعة
- س ٦ : ماهى أهم الموانئ المحلية فى لبنان التي كان الفينيقيون يتبادلون منتجاتهم معها ؟ (٦٦)
 ج ٦ : ميناء صور وصيدا وجبيل