

تم تحميل هذا الملف من موقع المناهج العُمانية



\*للحصول على أوراق عمل لجميع الصفوف وجميع المواد اضغط هنا

<https://almanahj.com/om>

\* للحصول على أوراق عمل لجميع مواد الصف السابع اضغط هنا

<https://almanahj.com/om/7>

\* للحصول على جميع أوراق الصف السابع في مادة علوم ولجميع الفصول, اضغط هنا

<https://almanahj.com/om/7science>

\* للحصول على أوراق عمل لجميع مواد الصف السابع في مادة علوم الخاصة بـ الفصل الأول اضغط هنا

<https://almanahj.com/om/7science1>

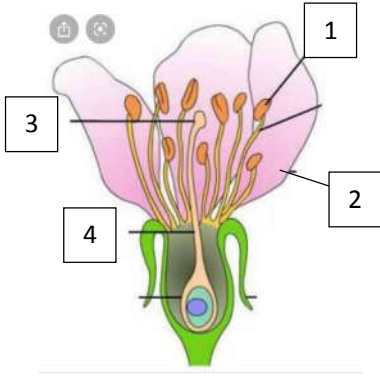
\* لتحميل كتب جميع المواد في جميع الفصول للـ الصف السابع اضغط هنا

<https://almanahj.com/om/grade7>

للتحدث إلى بوت على تلغرام: اضغط هنا

[https://t.me/omcourse\\_bot](https://t.me/omcourse_bot)

1- أمامك مخطط للزهرة



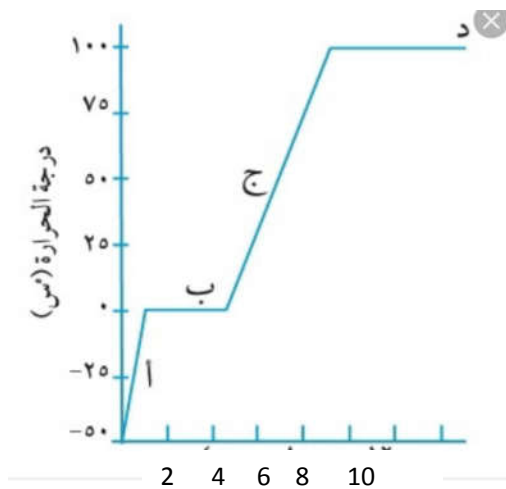
أ- مارمز الجزء المسؤول عن جذب الحشرات؟

درجة  4  3  2  1

(ظلل الإجابة الصحيحة)

رقم السؤال	المفردة	الإجابة	الدرجة	معلومات أخرى	رقم الهدف	مستوى التعلم	الموضوع	الوحدة
1	أ	2	1	- الإجابة الصحيحة يعطى درجة - غير ذلك صفر	7Bp2	معرفة	الأزهار	الأولى

2- قامت مجموعة طلاب تجريبية تسخين قطعة ثلج لمدة 10 دقائق وتسجيل النتائج على الرسم البياني المقابل:

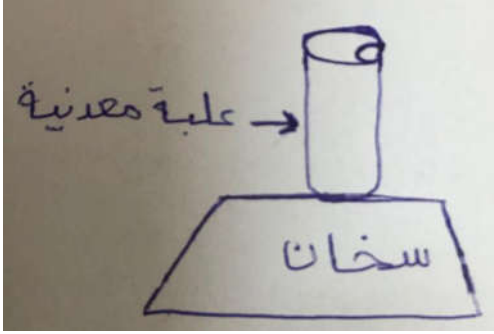


1- لاحظ الطلاب ثبوت درجة حرارة الماء في الفترة (د) فسري.

(درجة) .....

رقم السؤال	المفردة	الإجابة	الدرجة	معلومات أخرى	رقم الهدف	مستوى التعلم	الموضوع	الوحدة
2	1	لأن الماء يتحول إلى بخار عند درجة الغليان 100	1	-درجة إذا ذكر الطالب تحول الماء لبخار عند الغليان -صفا إذا لم يذكر الغليان	7Cs1	تطبيق	تغير الحالة	الثانية

3- من الشكل المقابل:



1- تنبأ ماذا سيحدث إذا تم إبعاد العلبة المعدنية عن مصدر التسخين؟

.....

فسر إجابتك:

(درجة) .....

رقم السؤال	المفردة	الإجابة	الدرجة	معلومات أخرى	رقم الهدف	مستوى التعلم	الموضوع	الوحدة
3	1	تتكمش العلبة لأن الضغط الداخلي أقل من الضغط الخارجي بسبب تسخين العلبة فتتكمش	1	-درجة إذا اعطى الإجابة الصحيحة مع التفسير . - صفر إذا لم يعط التفسير الصحيح.	7Cs1	استدلال	ضغط الغاز	الثانية