

تم تحميل هذا الملف من موقع المناهج العمانية



## الامتحان النهائي الرسمي الدور الأول الفترة الصباحية

موقع فايلاتي ← المناهج العمانية ← الصف السابع ← اجتماعيات ← الفصل الأول ← الامتحان النهائي ← الملف

تاريخ إضافة الملف على موقع المناهج: 2025-01-20 09:25:50

ملفات اكتب للمعلم اكتب للطالب الاختبارات الكترونية الاختبارات ا حلول ا عروض بوربوينت ا أوراق عمل  
منهج انجليزي ا ملخصات و تقارير ا مذكرات و بنوك الامتحان النهائي للمدرس

المزيد من مادة  
اجتماعيات:

## التواصل الاجتماعي بحسب الصف السابع



الرياضيات



اللغة الانجليزية



اللغة العربية



التربية الاسلامية



المواد على تلغرام

صفحة المناهج  
العمانية على  
فيسبوك

## المزيد من الملفات بحسب الصف السابع والمادة اجتماعيات في الفصل الأول

امتحان تجريبي مع نموذج الإجابة في محافظة ظفار

1

تقرير عن المواقع الأثرية في عمان

2

تقرير عن نشأة الحضارات القديمة في الوطن العربي

3

تقرير ثاني عن الحضارات القديمة

4

تقرير عن النمو السكاني

5

لا: الأسئلة الموضوعية:

١٢

امل الشكـل ( □ ) المقترن بالإجابة الصحيحة لكل مفردة من المفردات الآتية:  
الجدول الصحيح الذي تنطبق عليه المعلومات عن الحضارات الواردة في (أ) و (ب) بالجدول الآتي، حسب الموقع في الخريطة التالية:

(أ) اشتهرت قديماً بالأرض المباركة.  
(ب) عثروا فيها على ٥٠ مدفنًا تعود للألف الثالثة قبل الميلاد.



رمز العبارة	رقم الحضارة في الخريطة
أ	٤
ب	١

رمز العبارة	رقم الحضارة في الخريطة
أ	١
ب	٣

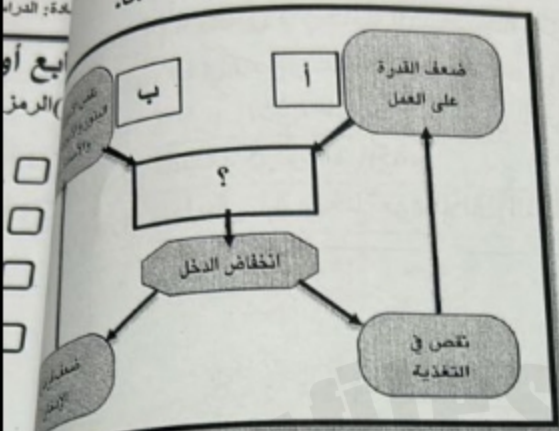
رمز العبارة	رقم الحضارة في الخريطة
أ	٢
ب	٣

رمز العبارة	رقم الحضارة في الخريطة
أ	٢
ب	١

يتبع ٢

تابع أولاً: الأسئلة الموضوعية:

٢) النتيجة المباشرة للعاملين المشار إليهما بالرمزين (أ) و (ب) في المخطط المقابل:



- انتشار الأمراض.
- حدوث المجاعات.
- ارتفاع الوفيات.
- انخفاض الإنتاجية الزراعية.



عذنين اللذين خلطهما الإنسان القديم لصنع الأسلحة الموضحة سورة المقابلة:

- النحاس + القصدير
- الحديد + النحاس

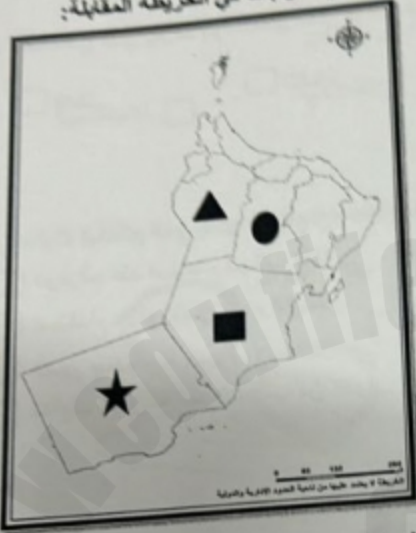
النحاس + البرونز  
صدير + البرونز

الصحيح الذي يوضح أمثلة للممتلكات العامة في الدولة:

مزرعة العائلة	مستشفى خولة	متنوف
قلعة نزوى	جامعة السلطان قابوس	مستشفى الرفاعة الخاص
سيارات الأجرة	محمية السلاحف	الجمهورية الجلالي
سد وادي ضيقة	وزارة التربية والتعليم	مف عمان عبر الزمان

### تابع أولاً: الأسئلة الموضوعية:

الرمز الصحيح الذي يشير إلى المحافظة التي يوجد بها موقع آثار بات في الخريطة المقابلة:



- ▲
- 
- 
- ★

الشكل الصحيح الذي يمثل العوامل الطبيعية المؤثرة في توزيع سكان العالم:

التضاريس	الهجرة	المعادن	الأمطار		السهول	الحرارة	النقل	المسطحات العانية
<input type="checkbox"/>				<input type="checkbox"/>				
التضاريس	النقل	المناخ	فرص العمل		الأمطار	المسطحات العانية	السهول	مدن
<input type="checkbox"/>				<input type="checkbox"/>				

يتبع ٤

الدخل

الإخبار

الترشيد

٨) السلوك الخاطى الذي يمكن أن يقع فيه سائقي المركبات أثناء القيادة:

الوقوف عند استخدام الهاتف النقال.

استخدام حزام الأمان أثناء القيادة.

السير ببطء أمام سيارة الإسعاف.

تخفيف السرعة عند الاقتراب من الدوار.

جدول الصحيح الذي يوضح أمثلة للموارد الطبيعية المتجددة:

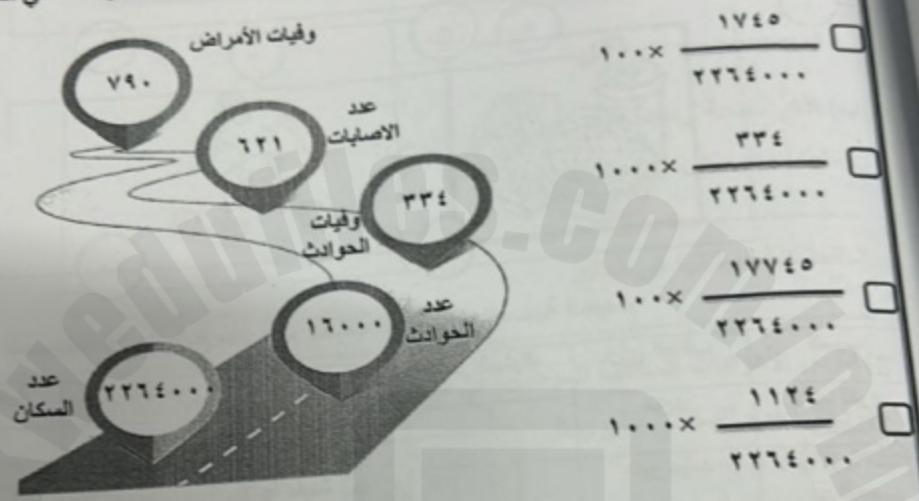
الهواء	الغاز الطبيعي	الماء
النفط	الماء	التربة
الماء	التربة	الهواء
النفط	الهواء	المعادن

**تابع أولاً: الأسئلة الموضوعية:**

١٠) البنية السكانية التي تهتم بدراسة المستوى التعليمي للسكان:

- العمرية       النوعية       الاقتصادية       الاجتماعية

١١) المعادلة الصحيحة لحساب معدل الوفيات الخام في الدولة حسب المعطيات الموضحة في الشكل المقابل:



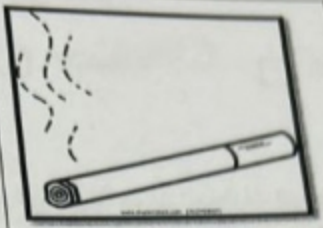
ينبع ٦

## تابع أولاً: الأسئلة الموضوعية:

١٢) قام معلم بتطبيق استبانة لمجموعة من طلبة الصف السابع، لقياس مدى تأييدهم للسلوكيات الصحية السائدة في المجتمع وأثرها على صحة الفرد. ادرس الأشكال التي أمامك ثم أجب على الأسئلة التي يليها:



ج



ا



د



ب

الاستبانة الصحيحة التي توضح مدى فهم الطالب للسلوكيات الصحية الجيدة:

رمز السلوك	رأي الطالب	السبب
ا	مؤيد	لأنها تقوي القلب
د	غير مؤيد	لأنها مفيدة للجسم

رمز السلوك	رأي الطالب	السبب
ب	غير مؤيد	لأنها تزيد من دقات القلب
ج	مؤيد	لأنها مفيدة للجسم


رمز السلوك	رأي الطالب	السبب
ا	غير مؤيد	لأنها تقوي القلب
ب	مؤيد	لأنها مفيدة للجسم

رمز السلوك	رأي الطالب	السبب
ا	مؤيد	لأنها تقوي القلب
ب	غير مؤيد	لأنها تزيد الدهون

يتبع

### ثانياً: الأسئلة المقالية:

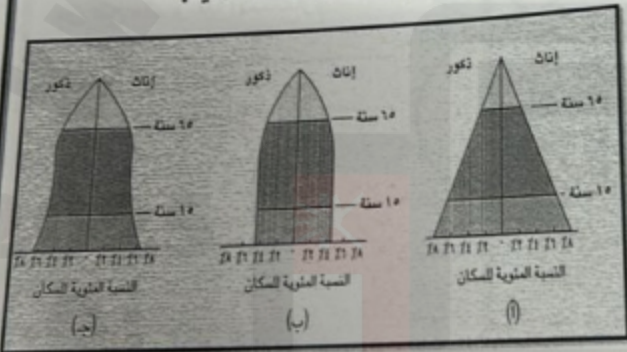
- ١٣) أ- أنقل الانجازات الحضارية الآتية، حسب تسلسلها الزمني في المخطط التالي:
- ممارسة الزراعة.
  - اكتشاف النار.
  - استخدام النقود.



ب) اذكر نتيجة واحدة فقط ترتبت على كل من:

- ١- ابتعاد الفرد عن ممارسة التدخين.
- ٢- المشكلة السكانية في العالم.

ج) درس الأهرامات السكانية الموضحة في الشكل المقابل ثم أجب عن الأسئلة الآتية:



ما رمز الهرم السكاني الذي يمثل  
نة عمان؟ .....

كتب خاصية واحدة فقط تصف  
السكاني المشار إليه  
(ب)

يتبع ٨



## تابع ثانياً: الأسئلة المقالية:

١٤) أ- اقرأ الفقرة التي أمامك قراءة جيدة، ثم أجب عن الأسئلة التي تليها:  
" تعاني معظم دول العالم من نزوح السكان من الأرياف إلى المدن، بحثاً عن فرص العمل ومستوى أفضل للعيش والسكن بأجور مناسبة، مما يسهل حصولهم على المتطلبات الأساسية والعيش في مكان تتوفر فيه البنى التحتية الحديثة".

١- استخرج العبارة التي تشير إلى مفهوم الهجرة.

٢- ما نوع الهجرة التي تتحدث عنها الفقرة السابقة؟

- اقترح حلاً مناسباً للتقليل من هذه الهجرة.

اجتمعت أسرة أحمد لمناقشة فتح مشروع استثماري للأسرة، ولكن واجهتها الكثير من

عقبات المالية الموضحة في الشكل

ل في ضوء ذلك:

اقترح حلاً واحداً للعقبات يُمكن الأسرة

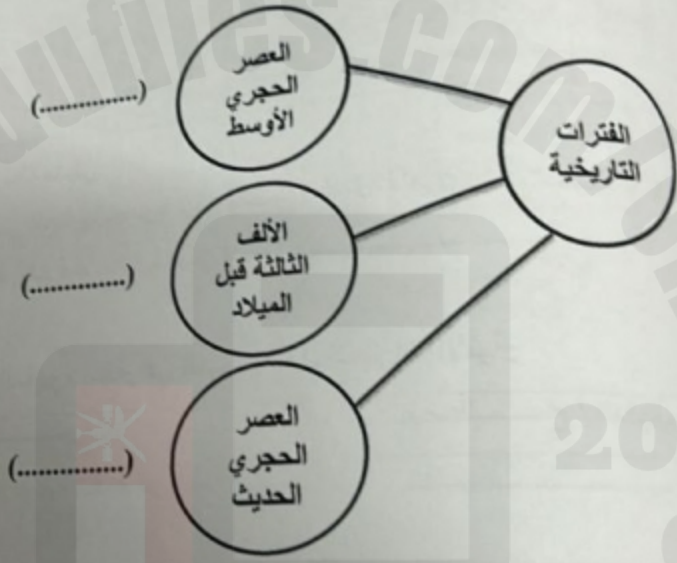
فتح مشروعها الاستثماري.



يتبع ٩

### الأسئلة المقالية:

اقرأ أرقام الصور التي تعبر عن الآثار المرتبطة بحضارة عمان خلال الفترات التاريخية المختلفة  
وضعها الصحيح بالمخطط الزمني التالي:



يتبع ١٠

### تابع ثانياً: الأسئلة المقالية:

(١٥) ادرس خريطة شبه الجزيرة العربية التي أمامك، ثم أجب عن السؤال الذي يليها:



تنتج من الخريطة ما يلي:

- ١- أهمية الرنيسة التي تقع فيها حضارة اليمن بالنسبة لحضارة دلمون (.....)
- ٢- لا واحد مساعد على قيام حضارة اليمن قديما (.....)

المصطلح/المفهوم الجغرافي المناسب أمام العبارات الآتية:

المصطلح / المفهوم	العبارات
.....	كمية ونوعية الغذاء عن الحد المطلوب في الدولة.
.....	الشاملة لحصر الأفراد والتعرف على تفاعلية والاقتصادية في الدولة وفي زمن معين.

جيدا في الشكل الآتي، ثم استخراج بيانات المخطط التالي:



سببا رئيسيا  
للحوادث المرورية.

أثرا واحدا للحوادث  
المرورية.

اقترح حلا واحدا  
للتقليل من الحوادث  
المرورية.

## تابع ثانياً: الأسئلة المقالية:

(١٦) علل لما يأتي:


٧ ١- هجرة القبائل العربية اليمنية نحو أطراف شبه الجزيرة العربية زمن الدولة الحميرية.

٢- تسمية اليمن قديماً بـ (بلاد العرب السعيدة).

ب) ادرس جيداً الأشكال الموضحة أمامك، ثم أجب عن الأسئلة التالية بكتابة:



(ج)



(ب)



(أ)

- نوع الممتلكات الموضحة في الشكل (أ) و (ج) .....

- أهمية الممتلكات الموضحة في الشكل (ب).

خريطة العالم التي أمامك، ثم أجب عن الأسئلة التالية:



ع الكثافة السكانية في المنطقة المشار إليها بالرمز (أ) في الخريطة.

ثافة السكانية في المنطقة الواقعة داخل المستطيل في الخريطة؟

- (ضع إشارة ✓ أمام الإجابة الصحيحة )
- مرتفعة
- منخفضة

الذي يدل على وجود ازدهام سكاني في العالم بسبب سيادة المناطق الصناعية فيها.

انتهت الأسئلة مع الدعاء للجميع بالنجاح والتوفيق.