

شكراً لتحميلك هذا الملف من موقع المناهج العمانية



أسئلة امتحانات سابقة على درس الحضارة المصرية القديمة

[موقع المناهج](#) ← [المناهج العمانية](#) ← [الصف السابع](#) ← [اجتماعيات](#) ← [الفصل الثاني](#) ← [الملف](#)

التواصل الاجتماعي بحسب الصف السابع



روابط مواد الصف السابع على تلغرام

[الرياضيات](#)

[اللغة الانجليزية](#)

[اللغة العربية](#)

[التربية الاسلامية](#)

المزيد من الملفات بحسب الصف السابع والمادة اجتماعيات في الفصل الثاني

الامتحان الرسمي النهائي بمحافظة الداخلية	1
الاختبار النهائي الرسمي في محافظة مسقط	2
نموذج إجابة الاختبار النهائي الرسمي في محافظة شمال الشرقية	3
الامتحان الرسمي النهائي لمحافظة الشرقية	4
الامتحان الرسمي النهائي لمحافظة الداخلية	5

أسئلة امتحانات سابقة على درس (الحضارة المصرية القديمة)

٢- تمكن العالم شامبليون من حل رموز الكتابة الهيروغليفية على حجر رشيد في العام الميلادي :

د- ١٨٢٨

ج- ١٨٢٦

ب- ١٨٢٤

أ- ١٨٢٢

٥) اكتشفت مقبرة توت عنخ آمون في العام الميلادي:

د. ١٩٦٦

ج. ١٩٤٤

ب. ١٩٢٢

أ. ١٩٠٠



٨- الخريطة المقابلة تمثل مصر في عصر الدولة :

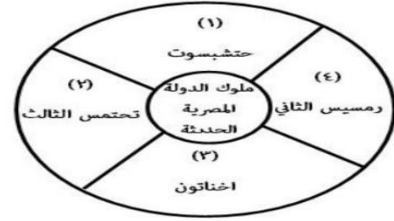
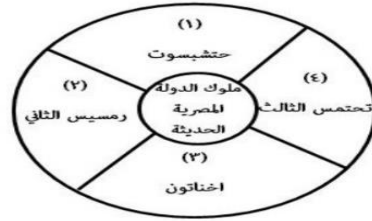
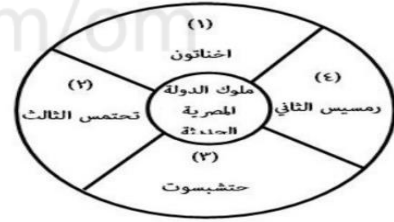
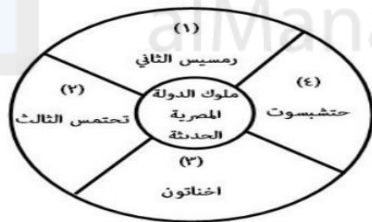
ب- الدنيا

أ- القديمة

د- الوسطى


ج- الحديثة

٨) الشكل الصحيح لترتيب ملوك الدولة المصرية الحديثة من الأقدم إلى الأحدث :



السؤال الأول : ضع دائرة حول رمز الإجابة الصحيحة فيما يلي :

١- تمثل الصورة التالية من أبرز إنجازات الحضارة:



أ / السومرية

ب/ الآشورية

ج/ المصرية

د/ البابلية

احمس	١
امنحوتب الرابع(اخناتون)	٢
حتشبسوت	٣

٧-الترتيب الصحيح لأسماء ملوك مصر في عهد الدولة الحديثة حسب
أسبقية حكمهم لمصر (من الأقدم الى الأحدث) هو:
أ-(١-٢-٣) ب-(١-٣-٢) ج-(١-٢-٣) د-(٢-٣-١)

٥- الترتيب الصحيح لإجازات تاريخ مصر الفرعونية من الأقدم الى الأحدث، حسب الجدول الآتي هو:

١	بناء الاهرامات
٢	طردهكسوس من مصر
٣	استغلال المناجم والمحاجر

أ- (٣-٢-١) ب- (١-٣-٢) ج- (١-٢-٣) د- (٢-٣-١)




٦- تشير الصورة التالية إلى فرعون مصري عبد الاله آمون وتم اكتشاف مقبرته عام ١٩٢٢ م :

أ- أخناتون ب- رمسيس الاول ج- توت عنخ آمون د- تحتمس الثالث

٦) عُقدت أقدم معاهدة سلام في التاريخ في عهد رمسيس الثاني الذي يُعتبر من فراعنة مصر في الدولة :
أ - القديمة ب- الوسطى ج- الحديثة د- المعاصرة

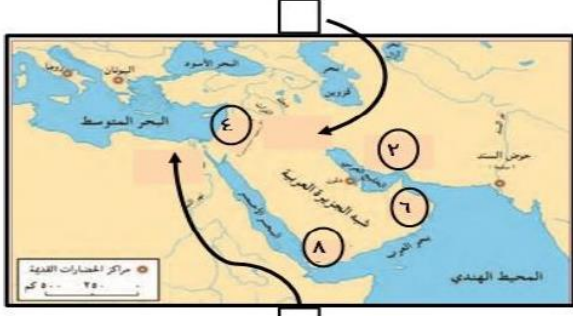
٣- الملك الفرعوني الذي أمر بنحت تمثال أبو الهول :
أ- خوفو ب- خفرع ج- منقرع د- أحمس



٦ (الفرعون الذي أمر بنحت التمثال الذي أمامك هو :

أ (تحتمس ب (خفرع
ج (منقرع د (خوفو

أمامك خريطة (مراكز الحضارات القديمة) ادرسها، ثم أجب عن الأسئلة الآتية:



ب) ادرس الصورة التي أمامك وأجب عن الأسئلة التي تليها :
١. اسم الملك أو الفرعون.

٢. أهم المكتشفات في مقبرته التي عثر عليها عام ١٩٢٢م.

٣. عصر الحضارة المصرية التي ينتمي إليها.

١- اكتب على الخريطة يعز كل صورة داخل المربع الدال على الموقع الصحيح للحضارة التي ينتم





(١)

٢- الصورة التي أمامك تمثل قناع للملك الفرعوني.....



ثالثاً: قارن بين الصورتين من حيث :

		الصورة وجه المقارنة اسم الملك الإنجازات (يكتفى بواحد)
(ب)	(أ)	

ب- صنف أشهر ملوك مصر وإنجازاتهم حسب معطيات الجدول التالي (تحتمس الثالث- خفرع):

الملك	إنجازاته
.....	تمثال ابو الهول
.....	انتصر في معركة مجدو في فلسطين



ب- من خلال الصورة أجب على الأسئلة التالية :

١- اسم المعلم الذي تبينه الصورة ؟

٢- في أي مدينة من مدن مصر ؟

٣- من أين جلب المصريون أخشاب الأرز ؟

أ - اذكر واحد فقط لكل مما يلي :

٢- أحد عجائب الدنيا في مصر .

٣- أهم أعمال الملكة حتشبسوت في العام التاسع لحكمها .

٣- أنسب الانجازات التالية الى الملك التي تمت في عصره .

(رمسيس الثاني - مينا)

٦) ملك فرعوني يعتبر أول من أسس سلالة حاكمة في مصر قبل أكثر من خمسة آلاف سنة :
أ- خفرع ب- خوفو ج- مينا د- منقرع

٤.....
أسس أول سلالة حاكمة في مصر وعرف بصاحب التاجين

٣.....
وقعت في عهده أقدم معاهدة سلام في التاريخ

موقع المناهج العُمانية

ب- استكمل بيانات الجدول التالي مستعيناً بالمعلومات الآتية (طرد الهكسوس - منف - بناء الأهرامات - طيبة

وجه المقارنة	عصر الدولة القديمة	عصر الدولة الحديثة
العاصمة
أهم الانجازات

ب - رتب أسماء ملوك مصر في عهد الدولة الحديثة حسب أسبقيتهم لحكم مصر من الأقدم إلى الأحدث :

(.....) رمسيس الثاني

(.....) أمنحوتب الرابع

(.....) تحتمس الثالث

٣- رتب أحداث الحضارة المصرية القديمة من الأقدم إلى الأحدث وذلك بوضع الرقم بين القوسين :

أ/ (.....) بناء تمثال أبو الهول .

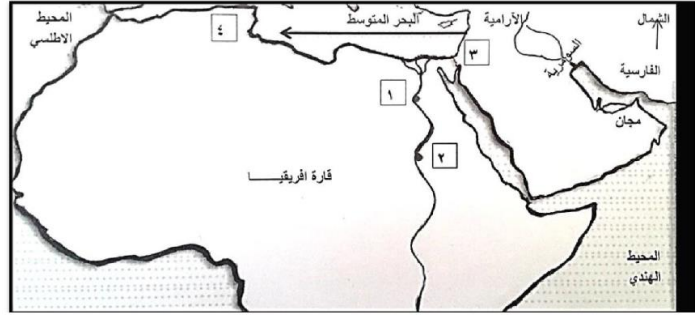
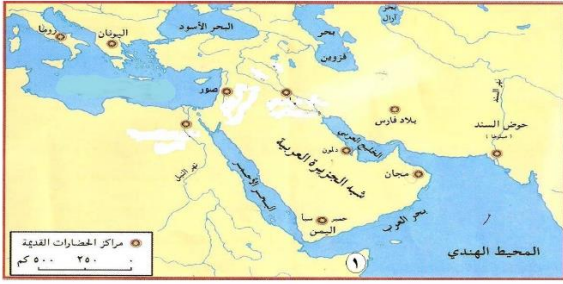
ب/ (.....) حفر قناة تربط بين البحر الأحمر والبحر المتوسط عن طريق نهر النيل .

ج/ (.....) الملك مينا يوحد مصر .

١- امامك خريطة الوطن العربي ادرسها جيدا ثم اجب عن الاسئلة التي تليها:

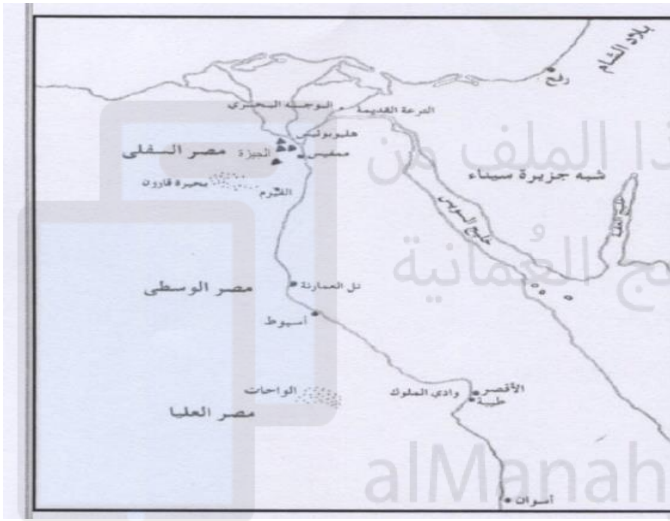
١) امامك خريطة توضح مراكز الحضارات القديمة ، ادرسها جيدا ، ثم اجب عن الاسئلة

التالية:



ج) دال على أن الملكة حتشبسوت أقامت علاقات تجارية مع المنطقة المشار إليها بالرقم (١).

الظاهرة	عاصمة مصر في عصر الدولة القديمة
الرقم الذي يشير إليه	



ب- ادرس الخريطة التالية جيدا ، ثم اجب عما يليها من أسئلة :

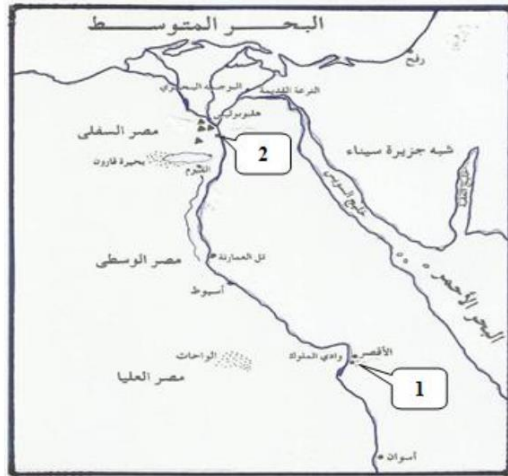
١- اكتب على الخريطة اسم المسطح المائي

الذي يصب فيه نهر النيل.

٢- ضع دائرة في الخريطة على:

أ- عاصمة الدولة المصرية القديمة (٢٧٨٠ - ٢٢٨٠ ق. م).

ب- المدينة التي بنى فيها المصريون الأهرامات.



- ساعد أمراء مدينة (طيبة) الملك أممس لطررد الهكسوس و يشير لهذه المدينة على الخريطة الرقم (.....)

- مدينة ممفيس كانت عاصمة مصر العليا والسفلى في عهد الملك مينا ويشير إليها على الخريطة الرقم (.....)

- ما هو موقع بلاد الشام بالنسبة لمصر

ب - امامك خريطة مصر القديمة ادرسها جيدا ثم اجب عن الاسئلة التي تليها :



1 - حدد بوضع دائرة على العاصمة التي اتخذها (نارمر) ملك الجنوب .

2 - أين يصب نهر النيل؟

3 - أي من الأرقام الواضحة على الخريطة يمثل

مصر السفلى ؟

ثالثا:

أ- أعط نتيجة واحدة فقط لكل مما يلي:
١- استفادة المصريين القدماء من خصوبة أرض النيل.

ب - عرف المقصود بحضارات وادي النيل ؟

السؤال الثالث:

أ) سم.

٢. النهر الذي قامت عليه الحضارة المصرية القديمة.

١. أصدر حكماً على العبارتين الآتيتين، وفقاً للجدول الآتي.

التعليق	صحيحة أو خاطئة	العبرة
		اتخذ الملك مينا لقب ملك الأرضين.

٣- علل لما يلي :

أ/ حرص المصريون القدماء على تحنيط جثث موتاهم وتزويد المقبرة بكل ما يحتاج إليه الميت من أدوات وأثاث وطعام .

٣- فسر العبارات التالية:

١- اذكر دليلاً واحداً على صحة العبارات التالية:
ج- تعد اهرامات الجيزة احدى عجائب الدنيا أ- اهتمام الملكة حتشبسوت بالتجارة

اذكر نتيجة واحدة ترتبت على :

٢- اذكر نتيجة واحدة ترتبت على :-
ب- تأثر الهكسوس بالحضارة المصرية القديمة ج . اهتمام تحتمس الثالث بالأسطول البحري .

السؤال الرابع:

أ- أعط نتيجة واحدة فقط لكل مما يلي:

١- اعتقاد المصريين القدماء أن فيضان نهر النيل في كل عام يجلب لهم الحياة والثروة.

السؤال الثالث : أجب عن الأسئلة التالية:

١ (أ) - ما معنى الخط الهيروغليفي ؟

ب - أدرس الشكل التالي جيد ثم أجب عن الأسئلة التي تليه:

١- نوع الكتابة الواضحة في الشكل.

٢- الموضوع الذي تناوله الشكل .

