

تم تحميل هذا الملف من موقع المناهج العمانية



## الامتحان النهائي الرسمي الدور الأول بمحافظة شمال الباطنة

[موقع المناهج](#) ⇨ [المناهج العمانية](#) ⇨ [الصف السابع](#) ⇨ [علوم](#) ⇨ [الفصل الثاني](#) ⇨ [الملف](#)

تاريخ إضافة الملف على موقع المناهج: 08:27:00 2024-06-09

## التواصل الاجتماعي بحسب الصف السابع



اضغط هنا للحصول على جميع روابط "الصف السابع"

## روابط مواد الصف السابع على تلغرام

[الرياضيات](#)

[اللغة الانجليزية](#)

[اللغة العربية](#)

[التربية الاسلامية](#)

## المزيد من الملفات بحسب الصف السابع والمادة علوم في الفصل الثاني

[الامتحان النهائي الرسمي الدور الأول في المحافظات مسقط والداخلية والشرقية وجنوب وشمال والوسطى](#)

1

[امتحان تحريبي نهائي في مدرسة حوفاء](#)

2

[المراجعة النهائية للمادة](#)

3

[امتحان تحريبي نهائي](#)

4

[حل مراجعة الاختبار القصير الثاني على الوحدة التاسعة القوى والحركة](#)

5

( 1 )

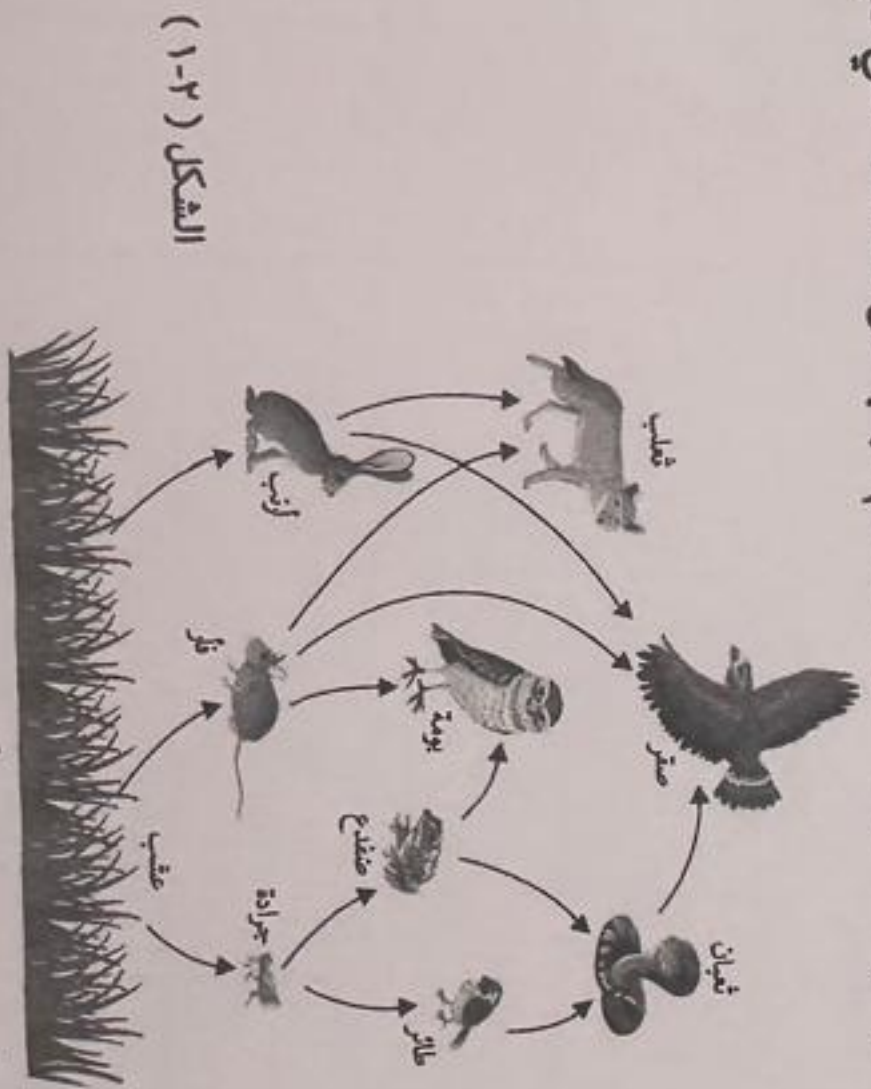
أجب عن جميع الأسئلة الآتية

١- يوضح الشكل (١-١) وسائل التكيف في ثعلب الصحراء ، ما الرقم الذي يشير إلى وسيلة التكيف التي تساعد على فقدان الحرارة بسهولة ؟  
 ( ظلل  أمام الإجابة الصحيحة )



- 2  1   
 4  3

٢- ادرس الشبكة الغذائية في الشكل (١-٢) أدناه ثم أجب عن الأسئلة التي تليها.



الشكل (١-٢)

١- اكتب سلسلة غذائية تحتوي على فار .


عقرب - جراد - ثعلب

ب- ما الذي تمثله الأسهم في الشبكة الغذائية؟

يريد الألبان المسمن في المبيدات الحشرية على أن هذا الملاحظة

ج- اقترح طريقة يمكن أن تزيد بها عدد الأرانب في هذه الشبكة.

الفصل الدراسي الثاني  
العام الدراسي ٢٠٢٣ / ٢٠٢٤ م  
نتائج دراسة تأثير الأشعة على أمراض الجلد في أربع مناطق



الشكل ( ١-٣ )

البياني في الشكل ( ١-٣ ) نتائج دراسة تأثير الأشعة فوق البنفسجية ؟

المنطقة الأكثر تأثيراً بالأشعة فوق البنفسجية ؟

أمام الإجابة الصحيحة ( ظل ) أمام الإجابة الصحيحة ( ظل )

A

B

C

D

نقص انخفاض عدد المصابين بسرطان الجلد في المنطقة ( A ) .

الخط

خطاب صواب خطأ

العبارة

أوراق الوقود والبنزين ينتج عنه غاز الأكسجين .

المطر الحمضي ينتج عندما يذوب ثاني أكسيد الكبريت في مياه الأمطار .

مياه الصرف الصحي المعالجة تزيد من تلوث البيئة .

مياه الصرف الصحي المعالجة تزيد من تلوث البيئة .

ير إلى وسيلة التكيف

[ ١ ]

2

1

تليها .

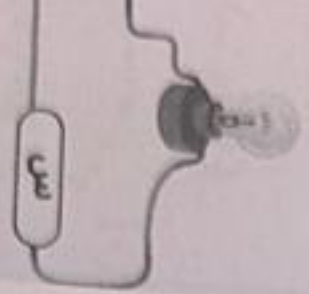
( ١-٢ )

طاقة

[ ١ ]

- المادة
- الكور
- الكر
- ال

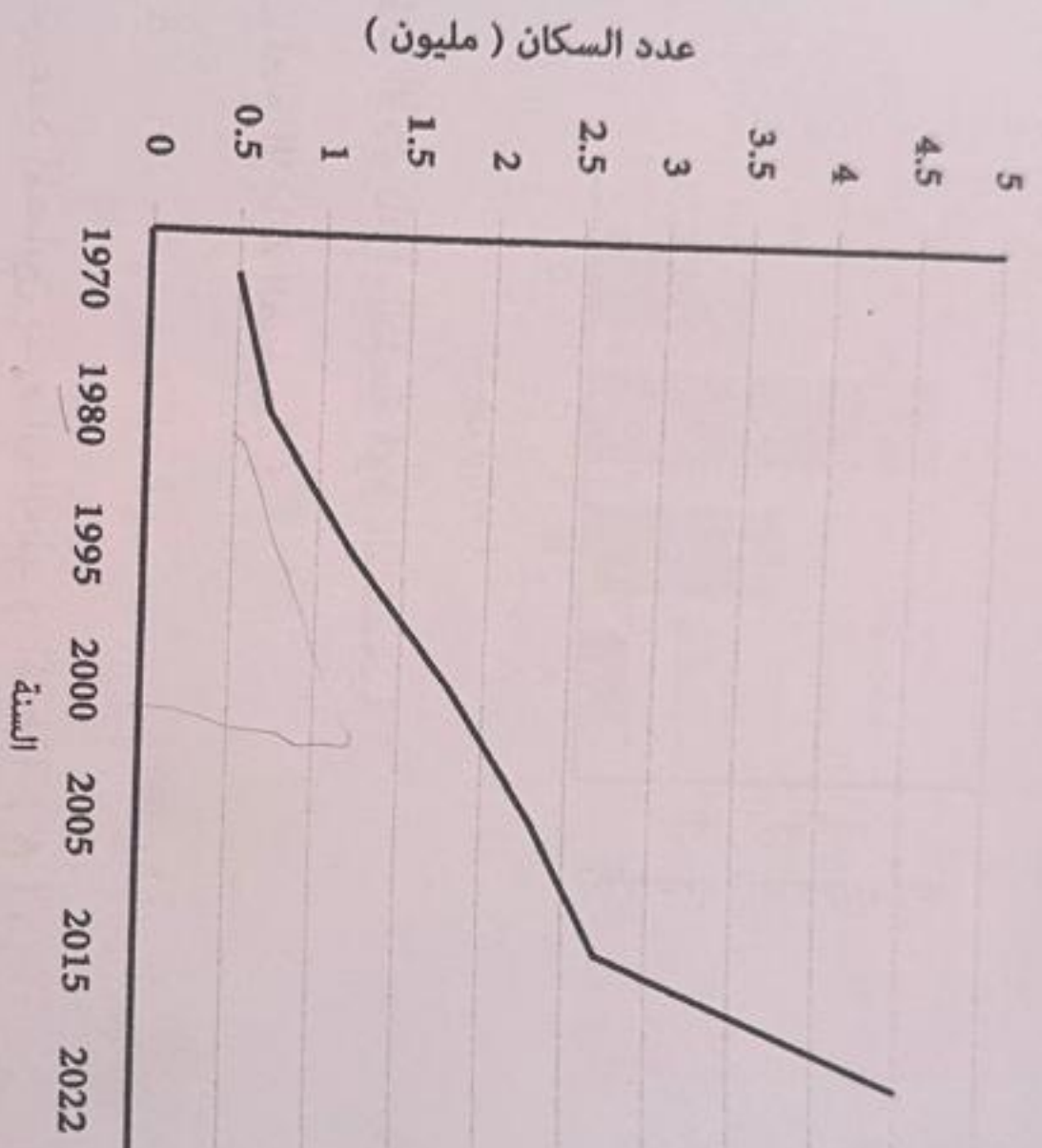
7- قام مجموعة أدناه .



1- أي مادة ( ظلل )

ب- تستخدم  أسلاك ال  ظلل ) فسر إجابتك

0- يوضح الرسم البياني في الشكل ( ١-٥ ) تعداد السكان لإحدى الدول في العالم.



الشكل ( ١-٥ )

1- ماذا حدث لعدد السكان من السنة 1980م إلى السنة 2000م ؟  
تزايد أعداد السكان منذ سنة (2000-1980)

ب- تبنيا بالأسباب التي أدت إلى ارتفاع عدد السكان بشكل ملحوظ في السنة 2022 عن السنوات السابقة لها.

السبب الرئيسي ارتفاع عدد السكان فكلما جاءت بيوتك يناد عدد السكان إلى الازدياد. مثل سنه 1970 كان الازدياد ٥٠٠ وكان الازدياد ( 4٥٥ )


( 4 )

٦- صل بين المادة في العمود الأول وما يناسبها من وصف في العمود الثاني فيما يلي :

الوصف	المادة
فلز سائل في درجة حرارة الغرفة	الكوبالت
فلز مغناطيسي	الكربون
لا فلز هش وغير لامع	الزئبق
لا فلز في الحالة الغازية	

[٣]

٧- قام مجموعة من الطلاب بدراسة خصائص الفلزات واللافلزات في أربع مواد مختلفة كما بالشكل أدناه .



[١]

ل

ع

ص

س

١- أي مادة يمكن تصنيفها من الفلزات؟  
( ظلل  أمام الإجابة الصحيحة )

٢- تستخدم المادة ( س ) في صنع :

أسلاك الكابلات الكهربائية  
( ظلل  أمام الإجابة الصحيحة )

فسر إجابتك .

السنة إلى

م عن السنوات

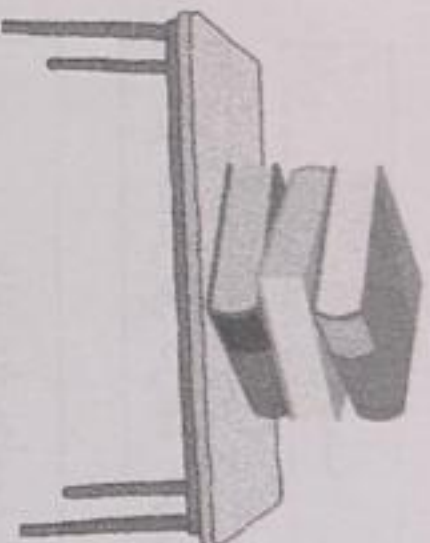
( 5 )

الفترة الصباحية

الدور الأول

المادة : علوم الصف : السابع

٨- ارسم في الشكل ( ١-٨ ) سهم يوضح اتجاه قوة وزن الكتب.



الشكل ( ١-٨ )

٩- توضح الصورة ( ١-٩ ) إحدى أنواع القوى وهي قوة .....

( ظلل  أمام الإجابة الصحيحة )

سحب

شد

دوران

دفع



الشكل ( ١-٩ )

١٠- جسم كتلته ( 15 Kg )، احسب وزن هذا الجسم .

١١- صل بين المصطلح في العمود الأول وما يناسبه من وصف في العمود الثاني فيما يلي:

الوصف

المصطلح

قوة الجاذبية الأرضية على الجسم

النيوتن

وحدة قياس القوى

الميزان الزنبركي

أداة قياس لقوة الأجسام

الوزن

قوة تؤثر على الأجسام في الهواء

المادة : علوم الصف : السابع الدور

١٢- المظلة التي تكون فيها مقاوم

( ظلل  الإجابة الصحيحة )



فسر إجابتك.

١٣- ما الشاحنة التي تكو

( ظلل  الإجابة الد



١٤- ما المقصود بالنوع

١٥- توضح الصورة (

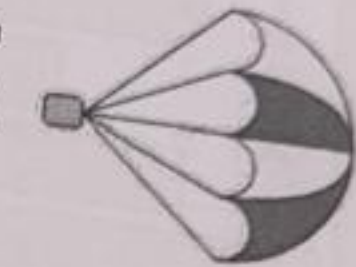
مجموعات مفصلية

ما اسم المجموعة ال

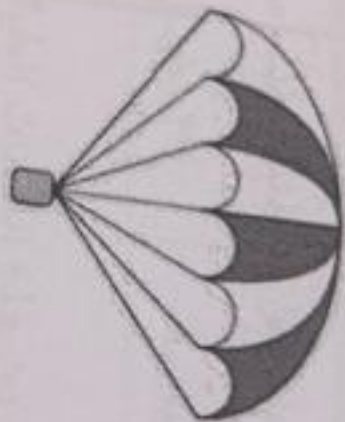
( 6 )

١٢- المظلة التي تكون فيها مقاومة الهواء أكبر هي :

( ظلل  الإجابة الصحيحة )



B



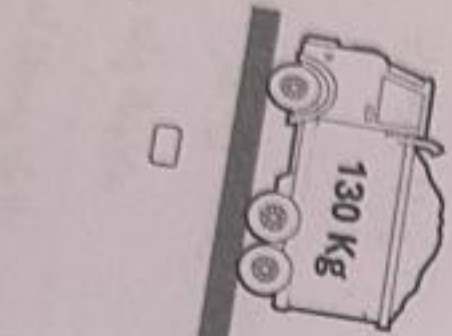
A

فسر إجابتك.

[١]

١٣- ما المشاحة التي تكون فيها قوة الاحتكاك أقل ؟


( ظلل  الإجابة الصحيحة )



[١]

١٤- ما المقصود بالنوع ؟

[٢]



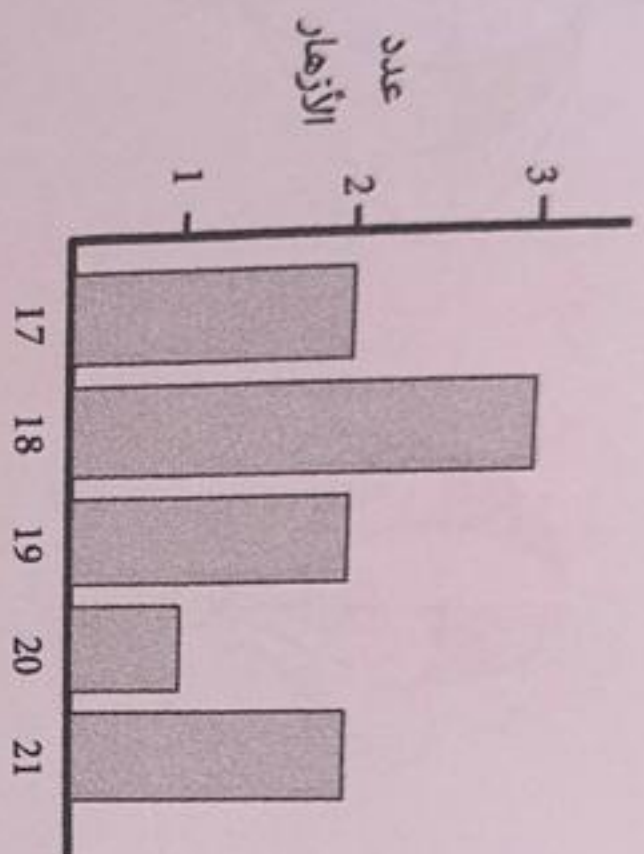
الشكل (١-١٥)

[١]

١٥- توضع الصورة (١-١٥) كائن حي ينتمي إلى أحد مجموعات مفصليات الأرجل .  
ما اسم المجموعة التي ينتمي إليها ؟

الاجسام
في
اجسام
في الهواء

١٦- يوضح الشكل (١٦-١) مخطط تكرار لعدد البتلات التي تم احصاؤها في مجموعة من



الشكل (١٦-١)

أ- قيمة المنوال لعدد البتلات تساوي:

( ظلل  الإجابة الصحيحة )

17

18

19

20

ب- قيمة المدى لعدد البتلات تساوي ..... ( أكمل )

١٧- يوضح الشكل (١٧-١) أحد النباتات التي يدرس خصائصها باحث

في علم النبات.

أ- ما المجموعة التي ينتمي إليها؟ .....

ب- اكتب خاصية واحدة من خصائص هذا النبات .



الشكل (١٧-١)



( 8 )

١٨- يوضح الجدول أدناه خصائص ثلاث كائنات حية ( A , B , C ) من طوائف مختلفة.

	A	B	C
يغطي جسمها ريش		تمتلك جلد أملس رطب	يغطي جسمها شعر
تبيض في اليابسة		تبيض في الماء	تلد

١- الخصائص المشتركة بين هذه الكائنات الحية ( A , B , C ) :

( ظلل  أمام الإجابة الصحيحة )

لها عمود فقري

ليس لها عمود فقري

( أكمل )

ب- رمز الطائفة التي ينتمي إليها الماعز هي .....

ج- وجد طالب في الصف السابع ضفدع عند بركة ماء بعد منخفض المطير، وصف الضفدع أنه ينتمي إلى الطائفة ( A ). هل تصنيفه صحيح ؟

( ظلل  أمام الإجابة الصحيحة )

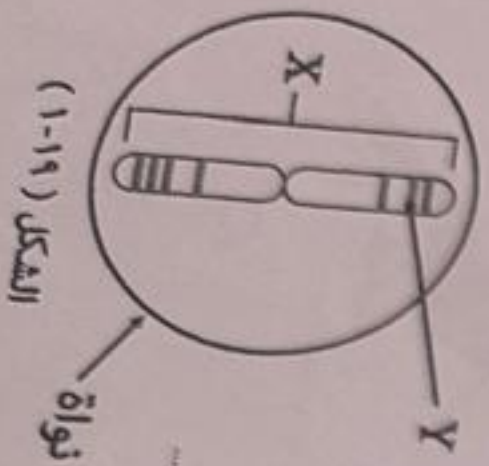
نعم

لا

فسر إجابتك.

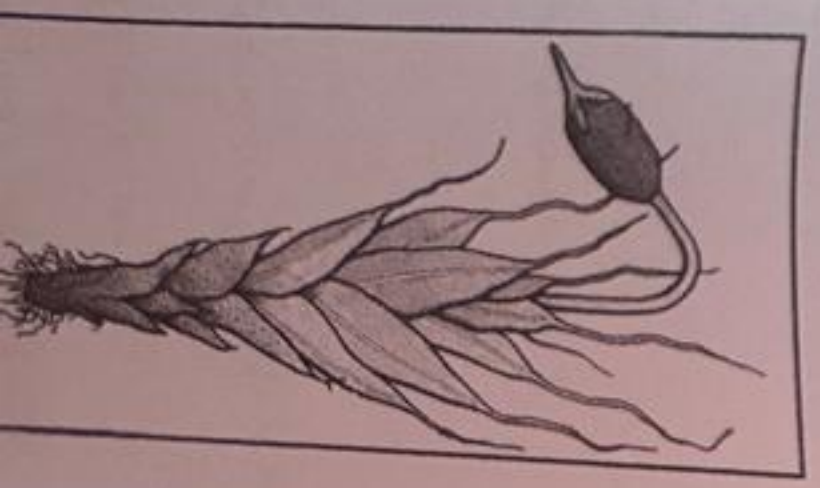
١٩- يوضح الشكل ( ١-١٩ ) نواة خلية بها كروموسوم .

ما الرمز الذي يشير إلى مكان تواجد الجينات ؟

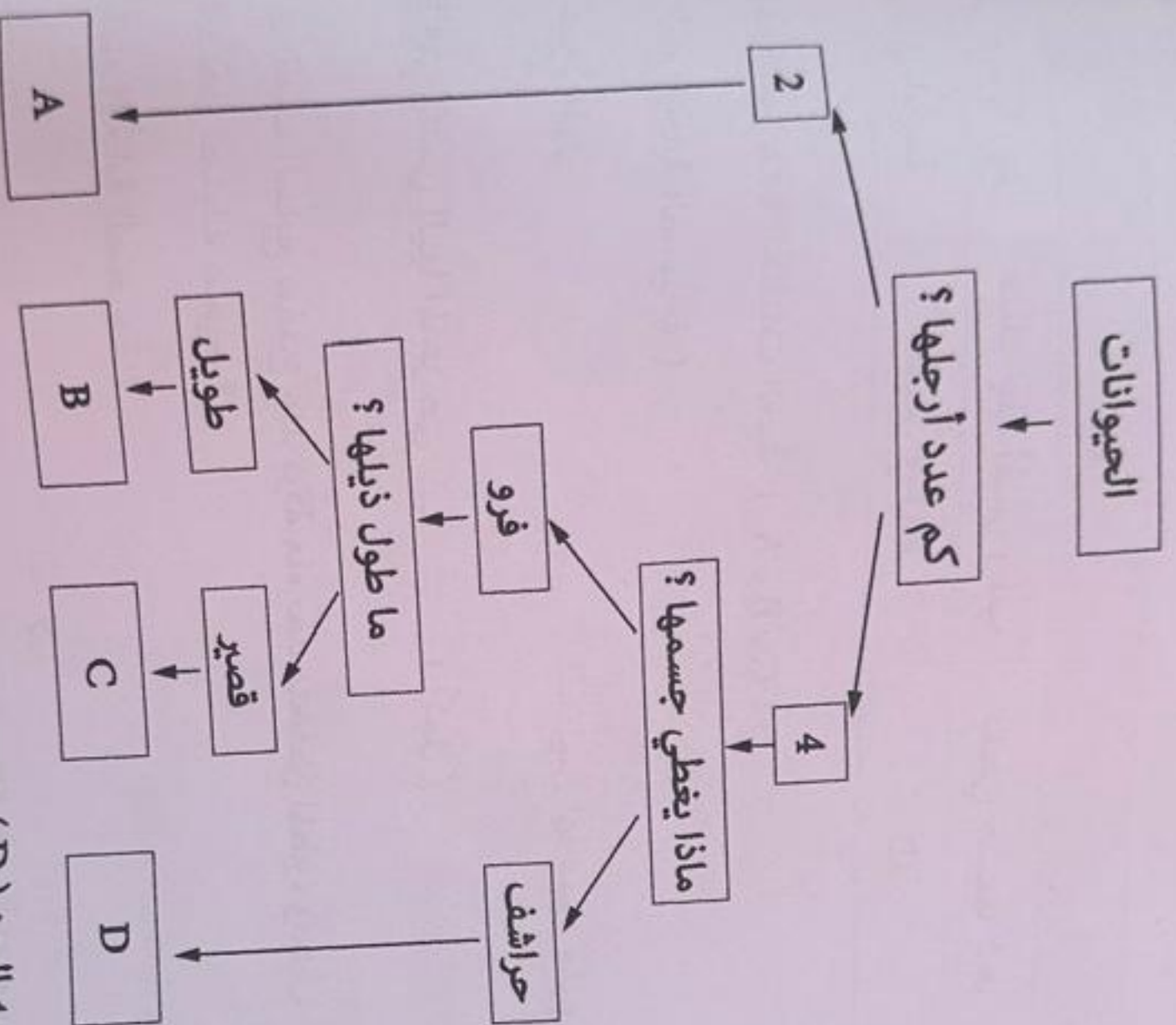


17

( أكمل )



٢٠- يوضح المخطط أدناه الأسئلة المفتاحية للبحث عن صورة كائن حي معين.



الحيوان الذي يشير إليه الرمز ( D ) هو :

( ظلل □ الإجابة الصحيحة )



(10) الفترة الصباحية

الدور الاول

الصف : السابع

علم

العام الدراسي ٢٠٢٣ / ٢٠٢٤ م

الفصل الدراسي الثاني

الجدول الآتي يوضح الرقم الهيدروجيني لمجموعة من المواد.

المادة	A	B	C	D
الرقم الهيدروجيني	3	7	9	13

(أكمل)

..... المادة الحمضية هو

ما الغرض من استخدام مقياس الرقم الهيدروجيني؟

عند استخدام الكاشف العام مع المادة (D).

أي العبارات الآتية تنطبق على المواد القلوية؟

(ظل)  أمام الإجابة الصحيحة

تُعمر ورق تباع الشمس الأزرق

لها رقم هيدروجيني أكبر من 7

تظهر باللون البرتقالي عند إضافة الكاشف العام

لها مذاق حامض

(أكمل)

التفاعل الذي يحدث بين الحمض والقلوي ؟

1

العام الدراسي ٢٠٢٣ / ٢٠٢٤ م

الصف : السابع

العام الدراسي الثاني

حي معين.

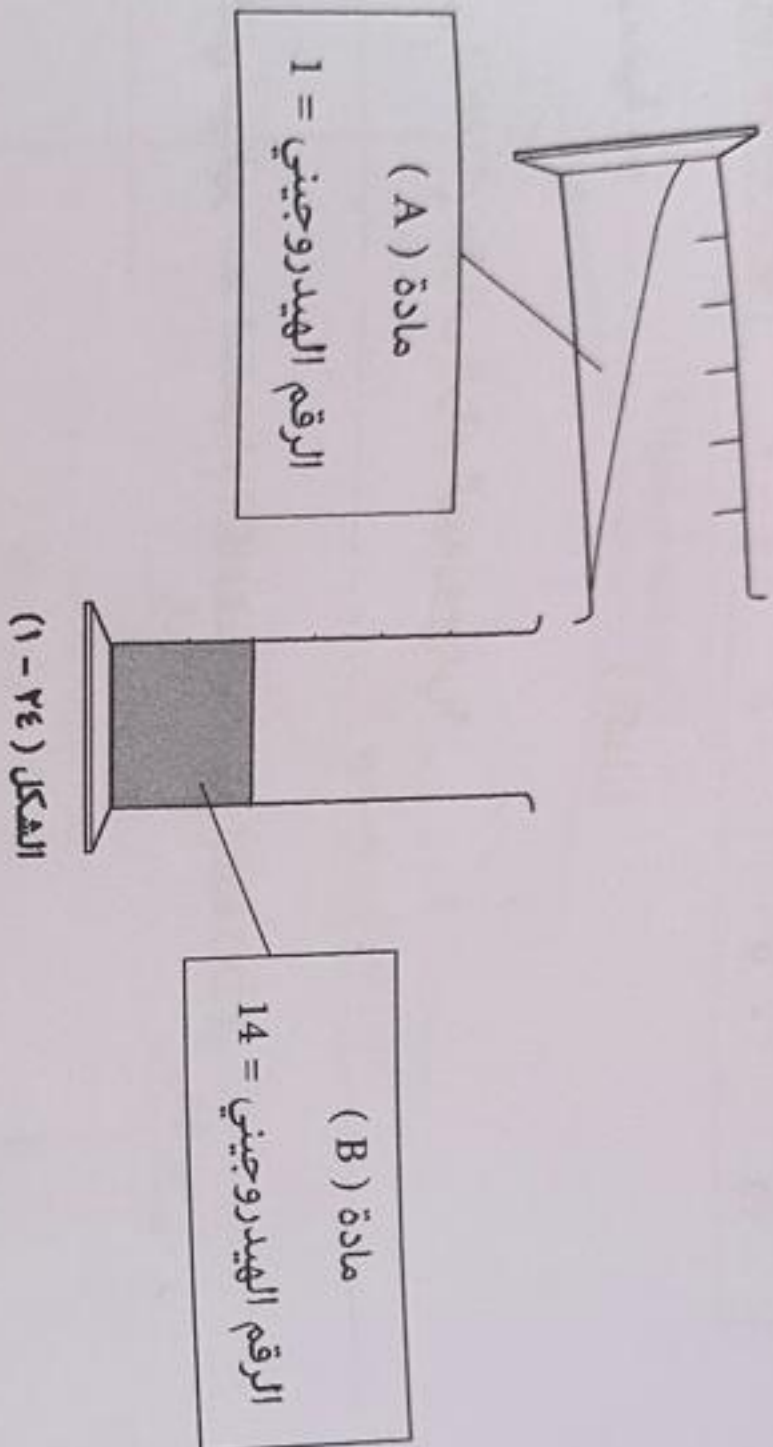
2

A



[11]

٢٤- يوضح الشكل ( ١-٢٤ ) إضافة المادة ( A ) إلى المادة ( B ) .



[١]

تنبأ ما سيحدث لقيمة الرقم الهيدروجيني للمادة ( B ) بعد إضافة المادة ( A ) .

( ظلل  أمام الإجابة الصحيحة )

تقل

تزيد

٢٥- يعاني مزارع من التربة الحمضية في مزرعته، اقترح طريقة لتكون التربة أفضل لنمو النباتات . [١]

	٢

انتهت الأسئلة وبالتوفيق للجميع