

شكراً لتحميلك هذا الملف من موقع المناهج العمانية



الاختبار النهائي الرسمي في محافظة البريمي

[موقع المناهج](#) ← [المناهج العمانية](#) ← [الصف السابع](#) ← [اجتماعيات](#) ← [الفصل الثاني](#) ← [الملف](#)

تاريخ نشر الملف على موقع المناهج: 2023-05-16 07:37:54

التواصل الاجتماعي بحسب الصف السابع



روابط مواد الصف السابع على تلغرام

[الرياضيات](#)

[اللغة الانجليزية](#)

[اللغة العربية](#)

[التربية الاسلامية](#)

المزيد من الملفات بحسب الصف السابع والمادة اجتماعيات في الفصل الثاني

[الامتحان الرسمي النهائي بمحافظة الداخلية](#)

1

[الاختبار النهائي الرسمي في محافظة مسقط](#)

2

[نموذج إجابة الاختبار النهائي الرسمي في محافظة شمال الشرقية](#)

3

[الامتحان الرسمي النهائي لمحافظة الشرقية](#)

4

[الامتحان الرسمي النهائي لمحافظة الداخلية](#)

5

تابع السؤال الثاني:

ثالثاً:

أدرس الصورتين أمامك، ثم أجب عن الأسئلة الآتية:



(٢)



(١)

١- أي الصورتان تعبر عن السلوك

الصحيح لترشيد المياه؟

١

٢

ضع إشارة (✓)

٢- ما النصيحة التي تقدمها لمن يسرف في استخدام المياه؟

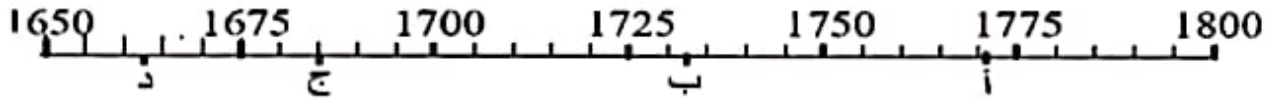
السؤال الثالث:

أولاً: صنف العبارات الآتية بوضع (✓) تحت مرحلة تطور المجتمعات البشرية التي تنتمي إليها:

مراحل تطور المجتمعات البشرية				المنجزات
الصناعة	التجارة	الزراعة	الصيد والرعي	
				اختراع المحراث
				ظهور المدن التجارية
				صنع أدوات الصيد والدفاع عن النفس
				تصنيع المواد الزراعية والحيوانية والمعدنية

أ- نينوى ب- كيش ج- آشور د- أكاد

٩- السنة التي انتهى فيها حكم حمورابي والذي تولى الحكم عام ١٧٢٨ ق.م لمدة ٤٣ سنة:

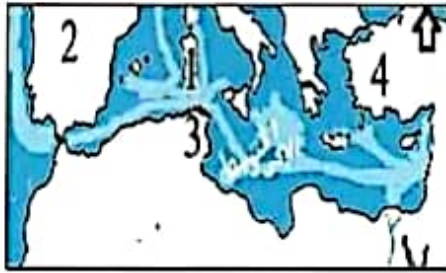


١٠- الظاهرة الجغرافية التي توجد شرق بلاد الشام:

أ- جبال ب- صحراء ج- هضاب د- سهول

١١- الحضارتان اللتان استطاعتا القضاء على الممالك الأرامية في بلاد الشام:

الأنباط	الأشوريون	الفينيقيون	الكنعانيون
✓		✓	
✓	✓		
	✓		✓
		✓	✓



١٢- الأرقام في الخريطة التي تدل على موقع

المستعمرات الفينيقية في البحر المتوسط:

- أ- ١ و ٢ ب- ١ و ٣
ج- ٢ و ٣ د- ٢ و ٤

السؤال الثاني :

١- رتب الأحداث التاريخية لحضارات بلاد الرافدين من الأقدم إلى الأحدث بالأرقام من ١-٤:

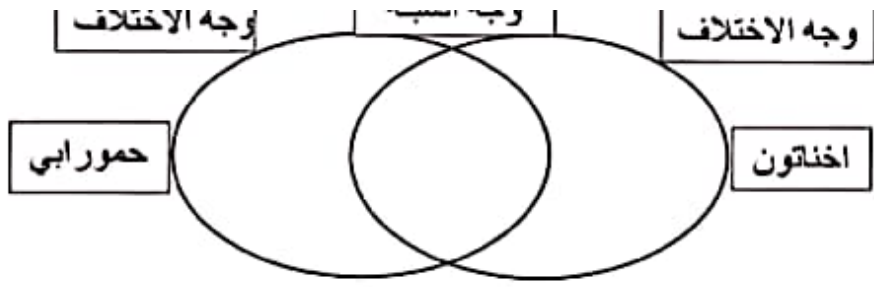
- () - استقلال الدولة الآشورية وتمكنها من القضاء على الدولة البابلية الأولى
() - تعرض الدولة الكلدانية للغزو الفارسي والقضاء على حكمهم.
() - إخضاع سرجون الأول الأكادي المدن السومرية وتوحيدها تحت سيطرته
() - ازدهار التجارة والصناعة والزراعة في عهد الملك البابلي حمورابي.

يتبع/٣

(٣)

المادة: الدراسات الاجتماعية الصف: السابع الفصل الدراسي الثاني

٢٢ - ٢٣ / ٢٠٢٢



٢- اكتب وجهاً للشبه والاختلاف بين حمورابي واختلفون من حيث:
 أ- وجه الشبه: الألهة.
 ب- وجه الاختلاف: الحضارة.

٣- اكتب ما تعرفه عما يأتي:

أ- معركة قادش.

الإجابة:

ب- مصطلح: حضارات وادي النيل.

الإجابة:

السؤال الرابع:

١- اكتب اجابتين لكل عنصر مما يأتي:

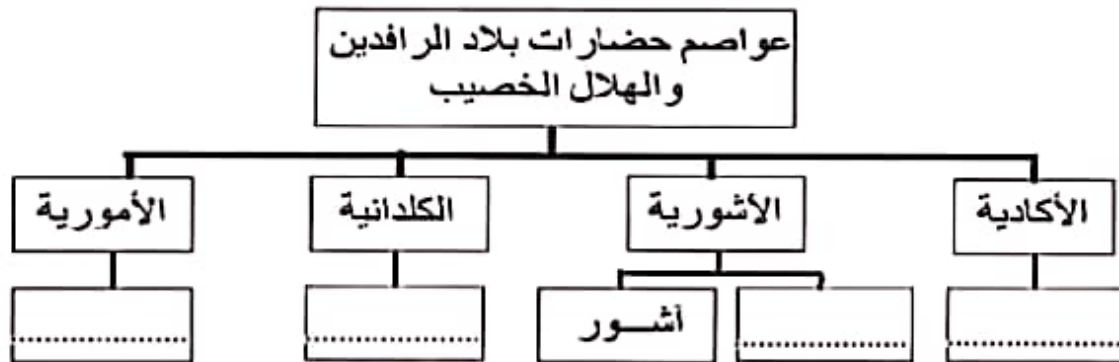
أ- العوامل التي جعلت من الفينيقيين أول أمة بحرية في التاريخ.

الإجابة:

ب- تأثيرات الظروف القاسية على حياة الإنسان في مصر

الإجابة:

٢- أكمل المخطط بأسماء عواصم الحضارات الواردة فيه:



يتبع/٤

(٥)

المادة: الدراسات الاجتماعية الصف: السابع الفصل الدراسي الثاني

العام الدراسي ٢٠٢٢/٢٠٢٣ م

(٤)

المادة: الدراسات الاجتماعية الصف: السابع الدور الأول - الفصل الدراسي الثاني / العام الدراسي: ٢٠٢٢-٢٠٢٣ م


السؤال الثاني
أ- أكتب المصطلح / المفهوم الدال على العبارات الآتية:

أ- المدن التي يزيد عدد سكانها عن (١٢) مليون نسمة
ب- كتابة سجلت على الواح من الطين بأداة تشبه المسمار مصنوعة من العظم او الخيزران

ب- أنقل أرقام الصور الآتية للحضارات التي تنتمي إليها في الجدول ادناه:



٣



٢



١

السومرية	الكلدانية	الفرعونية
.....

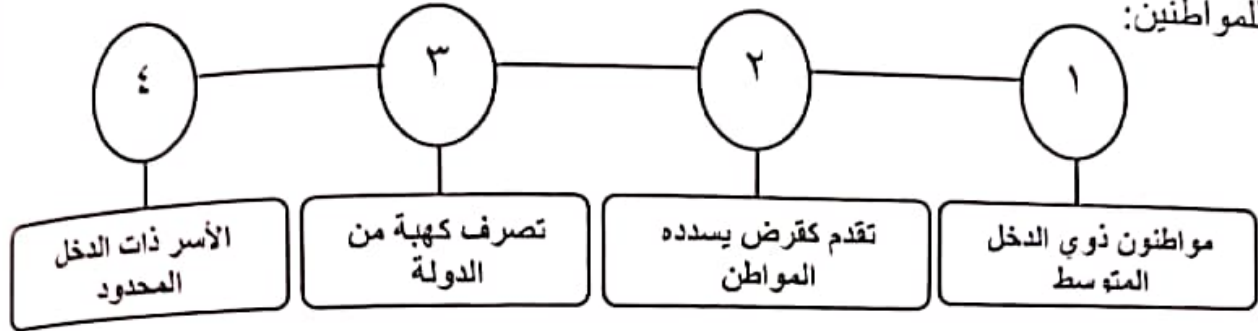
ثانياً: دال لكل مما يأتي: (يكتفى بدليل واحد).

١- اهتمام حكومة سلطنة عُمان بالرعاية الصحية للمواطنين.

٢- تأثير الهكسوس بالحضارة المصرية.

تابع السؤال الأول:

١٠) الأرقام الدالة على اشتراطات برنامج المساعدات السكنية الذي تقدمه الحكومة للمواطنين:



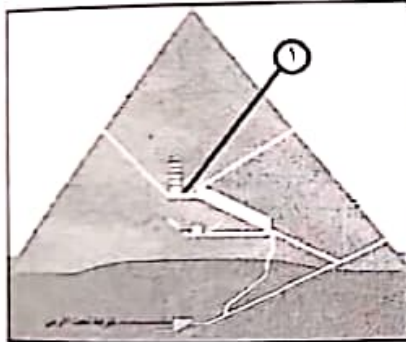
د- (١، ٤)

ج- (٤، ٣)

ب- (٣، ٢)

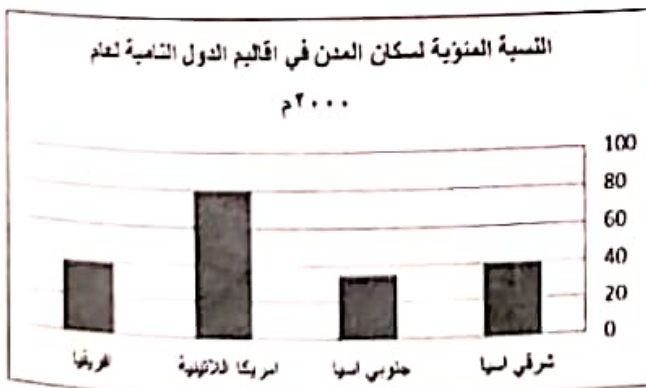
أ- (٢، ١)

١١) يمثل الرقم (١) في المقطع التفصيلي للهرم الذي أمامك:



- أ- حجرة الملك
- ب- حجرة الملكة
- ج- ممر الصعود
- د- بهو كبير

١٢) بالاستعانة بالرسم البياني المقابل، الإقليم الذي يحتل المرتبة الأعلى من حيث النسبة المئوية لسكان المدن في الدول النامية لعام ٢٠٠٠م:



- أ- جنوبي آسيا
- ب- أفريقيا
- ج- شرقي آسيا
- د- أمريكا اللاتينية

(١)

المادة: الدراسات الاجتماعية الصف: السابع الفصل الدراسي الثاني
العام الدراسي ٢٠٢٢/٢٠٢٣ م

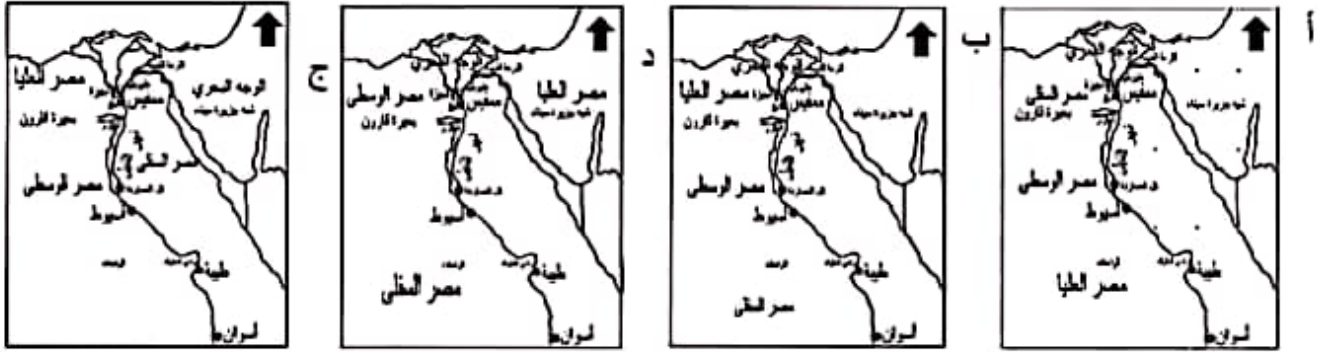
أجب عن جميع الأسئلة الآتية

السؤال الأول: ضع دائرة حول رمز الإجابة الصحيحة لكل مفردة من المفردات الآتية:

١- المؤرخ اليوناني الذي وصف مصر بأنها هبة النيل:

أ- هيردوت ب- نارمر ج- تحتمس د- شامبليون

٢- الخريطة التي يظهر فيها التوزيع الصحيح لأقاليم مصر قبل توحيدها:



٣- الأسر التي حكمت مصر في عصر الدولة القديمة:

أ- الأسرة الأولى حتى السادسة
ب- الأسرة الثانية حتى السادسة
ج- الأسرة الثالثة حتى السادسة
د- الأسرة الرابعة حتى السادسة

٤- الأسرة الحاكمة لمصر والتي قامت ببناء المعلم الأثري الذي تشير إليه الصورة المقابلة:

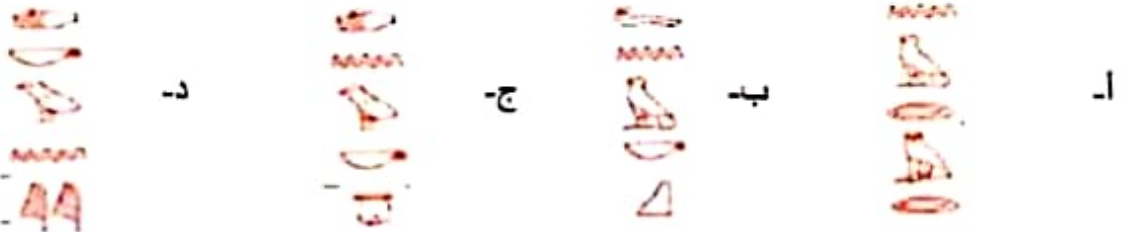


أ- الأولى ب- الثانية ج- الثالثة د- الرابعة

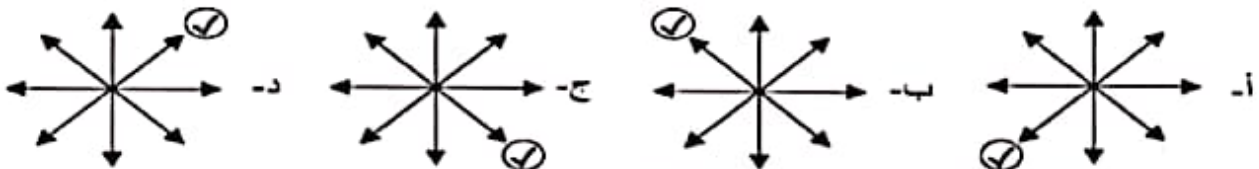
٥- ترتيب بناء أهرامات الجيزة حسب التسلسل الزمني من الأقدم إلى الأحدث:

أ- خوفو، خفرع، منقرع ب- منقرع، خوفو، خفرع ج- خفرع، خوفو، منقرع د- خوفو، منقرع، خفرع

٦- العلامات الهيروغليفية التي كتب بها اسم الملك المصري نارمر



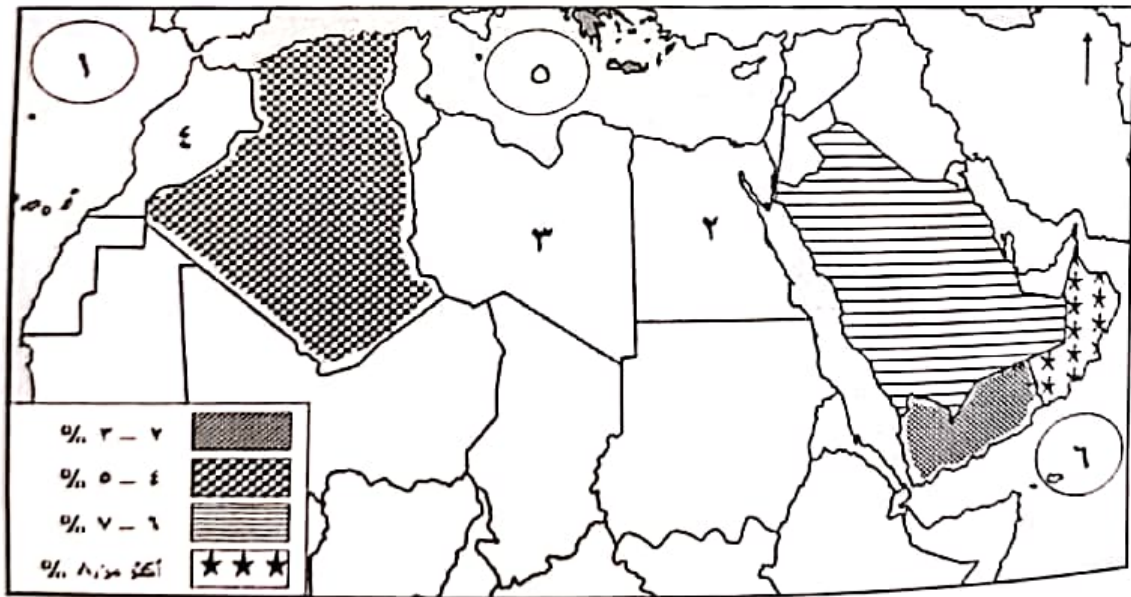
٧- الجهة التي تقع فيها بلاد الرافدين من قارة آسيا:



تابع السؤال الثالث:
ثانياً: أكمل البطاقة التعريفية للحضارة أمامك مستعينا بالمعلومات الواردة في الشكل
الآتي:

الموطن الأصلي	الفينيقيون	بلاد الرافدين	بناء الاهرامات
اشهر مستعمراتهم	انجازاتهم	شبه الجزيرة العربية	قرطاجة
		اكتشاف النجم القطبي	حمص
			بناء حدائق بابل المعلقة

ثالثاً: أمامك خريطة توضح النسبة المئوية لزيادة سكان بعض المدن في دول الوطن العربي ادرسها جيداً ثم أجب عن الأسئلة التالية:





استخرج الأرقام الدالة على كل من:

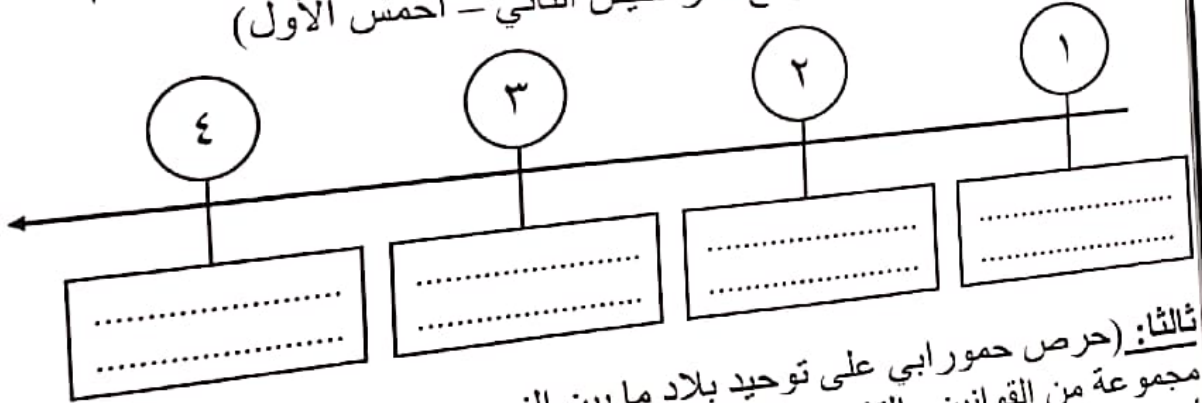
- المسطح المائي الذي يصب فيه نهر النيل.
..... بعدولة عربية يوجد بها مدينة مليونية.
..... ٢ كم تبلغ نسبة نمو سكان المدن في الدولة المشار إليها بالرمز

المادة: الدراسات الاجتماعية الصف: السابع الدور الأول - الفصل الدراسي الثاني/ العام الدراسي: ٢٠٢٢-٢٠٢٣ م (٧)

السؤال الرابع: أولاً: قارن بين الصورتين أدناه:

(ب)	(أ)	وجه المقارنة
		نوع الاسرة
		العلاقات الأسرية

ثانياً: رتب أسماء الملوك الذين حكموا مصر حسب اسبقية كل منهم في الحكم:
(توت عنخ أمون - أمنحوتب الرابع - رمسيس الثاني - أحمس الأول)




ثالثاً: (حرص حمورابي على توحيد بلاد ما بين النهرين وتنظيم دولته فأصدر مجموعة من القوانين والتشريعات) في ضوء ذلك أذكر اثنين من المجالات التي أصدر فيها تشريعاته.

- ١-
- ٢-

يتبع / ٨

مدرسة /
مدة متصلة من الساعة
والمناسبات الرسمية ، ويحق
البند الخامس : في حال كانت وسيلة النقل المدرسية من
١- تجهيز القارب بالوقود الكافي، وكذلك أدوات الإنقاذ ومكافحة
٢- اختيار طاقم من البحارة ذوي الخبرة في مجال قيادة القارب.
الإسعافات الأولية بالإضافة إلى توفير مظلة واقية لحماية الركاب
حالات والوقوف في الأماكن الآمنة المسموح بها أثناء
مدى خلال فترة امتحانات الصفوف (5 - ٤ - ٣ - ٢ - ١)
المقد ، على أن تكون في نطاق المد

٢- اكمل المخطط بالمعلومات الجغرافية والتاريخية حول معركة مجدو:



قيام تحتمس الثالث بحملات عسكرية على بلاد الشام.

الذي وقعت فيه المعركة

النتيجة:

أطراف المعركة:

-1

-2

٣- فسر ما يأتي:

أ- يحمل الخط الهيروغليفي معنى النقش المقدس.

الإجابة:

ب- تعد إهرامات الجيزة إحدى عجائب الدنيا.

الإجابة:

ج- لم تكن علاقة الدويلات الأمورية مع جيرانها حسنة.

الإجابة:

السؤال الثالث:

١- صنف الحضارات التي ظهرت فيها الأحداث الواردة في الجدول التالي:

(الأمورية - الأكادية - المصرية - الأرامية - الفينيقية - السومرية)

الإجابة	العبارات
	قاموا بتحنيط جثث الموتى واشتهروا ببناء الإهرامات
	من أقدم الشعوب التي استقرت في السهل الجنوبي للعراق.
	من أوائل الشعوب السامية التي هاجرت من شبه الجزيرة العربية إلى بلاد الشام
	قاموا بتطوير أبجدية خاصة اشتقوها من الأبجدية الفينيقية
	أنشأوا مستعمرة قرطاجنة على الشاطئ الشمالي في إفريقيا (ساحل تونس حالياً)
	ضعفت امبراطورية الملك (نارام سن) بعد وفاته حتى استولى عليها البابليون

أ- اهتمام المصريين بموتاهم.

الإجابة:

ب- كان آشور باتيبال مغرما بالعلم والأدب.

الإجابة:

السؤال الخامس:

١- أمامك خريطة للحضارة المصرية ادرسها وأجب عما يأتي:

أ- استخراج الرقم الذي يدل على المنطقة التي بنيت فيها الإهرامات

ب- ما الإنجاز الذي تحقق في عصر الدولة الوسطى في المنطقة

المشار إليها بالرقم ٣؟

ج- ضع دائرة على عاصمتي مصر في فترتي:

١- عصر الدولة القديمة. ٢- حكم توت عنخ آمون



٢- قارن بين الكتابة الهيروغليفية والكتابة المسمارية في الجدول التالي:

الكتابة المسمارية	الكتابة الهيروغليفية	أوجه المقارنة
		الحضارة التي ظهرت فيها
		استخدامها
		أداة الكتابة
		مادة الكتابة



٣- ادرس الصورة التي أمامك وأجب عما يأتي:

أ- من هو صاحب القناع الذي تشير إليه الصورة؟

ب- اعط مثالا واحدا على عمل قام به.

(١)

المادة: الدراسات الاجتماعية الصف: السابع الدور الأول - الفصل الدراسي الثاني/ العام الدراسي: ٢٠٢٢-٢٠٢٣

أجب عن جميع الأسئلة الآتية

السؤال الأول: ضع دائرة حول رمز الإجابة الصحيحة لكل مفردة من المفردات الآتية:

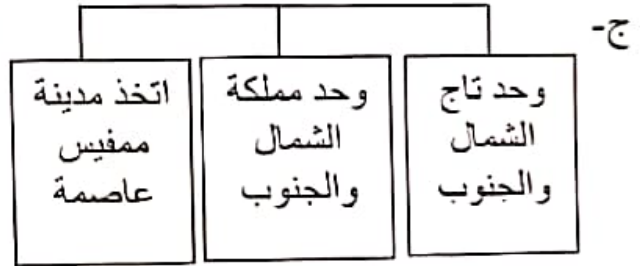
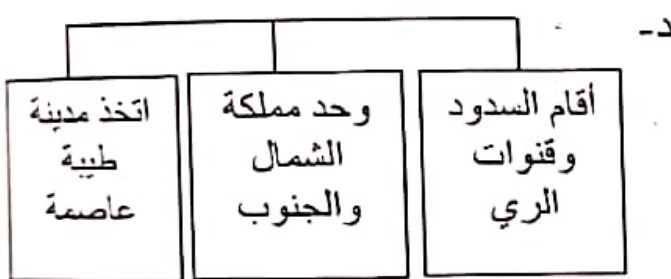
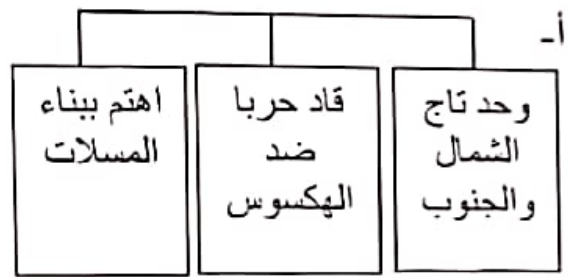
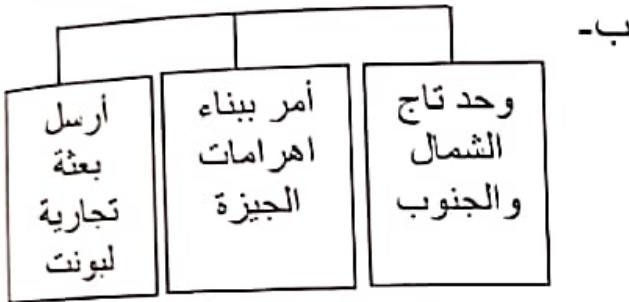
(١) سبب الهجرة من الريف إلى الحضر الذي يوضحه الكاريكاتير أمامك:




أ- ارتفاع الدخل ب- توفر فرص العمل

ج- تركيز الخدمات د- تحسين مستوى المعيشة

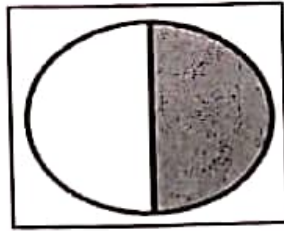
(٢) الشكل الصحيح لإنجازات الملك نارمر:




(٣) الجزء المظلل الذي يمثل نسبة سكان مدن الدول النامية في العالم:



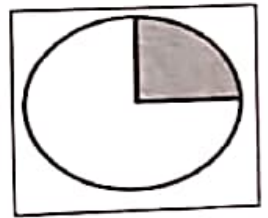
د



ج



ب



أ

(٤) المحافظة العمانية التي عقدت فيها ندوة التصحر عام ٢٠٠٢ م:

أ- مسقط

ب- ظفار

ج- الوسطى

د- مسندم

(٥) مؤسس الدولة الكلدانية (البابلية الثانية):

أ- نابوبولاسر

ب- آشور بانيبال

ج- حمورابي

د- نارام سن

يتبع ٢