

شكراً لتحميلك هذا الملف من موقع المناهج العمانية



أهم الأسئلة المتوقعة في الاختبار القصير

موقع المناهج ← المناهج العمانية ← الصف السابع ← اجتماعيات ← الفصل الأول ← الملف

التواصل الاجتماعي بحسب الصف السابع



روابط مواد الصف السابع على تلغرام

[الرياضيات](#)

[اللغة الانجليزية](#)

[اللغة العربية](#)

[التربية الاسلامية](#)

المزيد من الملفات بحسب الصف السابع والمادة اجتماعيات في الفصل الأول

[ملخص الوحدة الأولى الحضارات القديمة في عمان وشبه الجزيرة العربية](#)

1

[نموذج أسئلة الاختبار الرسمي](#)

2

[أسئلة الاختبار الرسمي مسقط](#)

3

[نموذج أسئلة الاختبار الرسمي \(جنوب الشرقية\)](#)

4

[نموذج أسئلة الاختبار الرسمي \(الظاهرة\)](#)

5

## اهم الأسئلة المتوقعة دخولها في الاختبار القصير

للدراستات للصف السابع ( اعداد أبو الياس )

السؤال الأول: ضع دائرة حول رمز الإجابة الصحيحة لكل مفردة من المفردات الآتية: الدولة اليمنية القديمة التي اتخذت مدينة قرناو عاصمة لها هي :

أ - معين

ب - فان

ج- سبا

د- حمير

( ٢ ) العصر الذي بدأ فيه الانسان استخدام النقود بدلا من نظام المقايضة هو العصر

أ- البروزي

ب - الحديدي

ج - الحجري الحديث

د - الحجري القديم

( ٣ ) الحضارة القديمة التي عاصرت حضارة مجان وامتدت على الساحل الغربي للخليج العربي :

أ- سومر

ب- دلمون

ج- أكاد

د - آشور



تم تحميل هذا الملف من  
موقع المناهج العُمانية

alManahj.com/om

أ) اكتب أسفل كل صورة من الصور الآتية المهنة التي مارسها الإنسان في عمان منذ القدم:



..... (٢)



..... (١)

٣- أكمل الجدول الآتي:

الآثار المكتشفة	الحضارة التي تنتمي إليها
 <p>(أ)</p>	
 <p>(ب)</p>	

١- رتب الأحداث التاريخية الآتية بكتابة الأرقام (١، ٢، ٣) من الأقدم إلى الأحدث.

( — ) ظهور المدن التجارية.

( — ) اختراع الكتابة.

( — ) اكتشاف النار.

٢- انسب معاني أسماء مجان التاريخية حسب الشعوب التي اطلقتها عليها وفقاً للجدول الآتي.

(بلاد الفضة - أرض اللبان - سفن الناس - أرض النحاس)

الشعب.	معاني أسماء مجان التاريخية.
السومريون.	_____
الأكاديون.	_____
الأشوريون.	_____

١- تشير الصورة المقابلة إلى حياة الإنسان في مرحلة :



- أ ( الصناعة )  
ب ( التجارة )  
ج ( الزراعة )  
د ( الجمع والصيد )

أ- انسب كلاماً من المنجزات التالية إلى العصر الذي ظهرت فيه :

م	المنجزات الحضارية	العصر الذي ظهرت فيه
١	تربية الحيوانات	
٢	اكتشاف النار	
٣	ظهور المدن التجارية	
٤	تقدم علوم الهندسة والفلك	

ب) تشير الصورة التي أمامك إلى أحد الآثار في حضارة دلمون .. ادرسها ثم اجب عما يلي :



١- سم المكتشف الأثري الواضح في الصورة ؟

.....

٢- فيما استخدمت هذه المكتشفات الأثرية ؟

.....

٣- أمامك مجموعة من المنجزات الإنسانية الحضارية ، صنفها حسب العصر الذي بدأت بالظهور فيه ( مزج النحاس بالقصدير، بدأ استخدام النقود ، استئناس الحيوانات ، اكتشاف النار)

العصر	المنجزات الحضارية
الحجري القديم	
الحجري الحديث	
البرونزي	
الحديدي	

٣- قارن بين إنتاج اللبان في الضربة الأولى والضربة الثالثة حسب أوجه المقارنة الواردة بالجدول التالي:

كمية الإنتاج	جودة اللبان	أوجه المقارنة استخراج اللبان
.....	.....	الضربة الأولى
.....	.....	الضربة الثالثة

١- اكتب في الجدول أسماء الدول العربية الحالية حسب ما تشير إليه التسميات التاريخية:

بلاد الفضة	دلمون	بلاد العرب السعيدة	التسمية التاريخية
			اسم الدولة العربية حالياً

أولاً: عرف كلا من :

- (١) العصور الحجرية: .....
- (٢) الضربة الأولى (التوقيع): .....

١- الدولة اليمينية التي اتخذت من مدينة تمنع عاصمة لها:  
أ- معين      ب- سبأ      ج- قتبان      د- حمير

٢- تعد مقابر بات من المعالم الأثرية لمحافظة:  
أ- ظفار      ب- الداخلية      ج- الوسطى      د- الظاهرة

٣- نفذ آخر تعداد للسكان في سلطنة عمان في العام الميلادي:  
أ- ١٩٩٣      ب- ٢٠٠٣      ج- ٢٠١٠      د- ٢٠١٣

ب - إقرأ الفقرة التالية ثم صحح الخطأ في الكلمات التي تحتها خط بكتابة الكلمة الصحيحة

بين القوسين :

" يصل إرتفاع شجرة اللبان في العادة إلى حوالي ٤ أمتار ( ..... ) ، وفي بداية شهر مايو (.....) يبدأ المشتغلون بجمع اللبان بجرح الشجرة في عدة مواضع ."

٢ ( أ - أكمل الجدول التالي الذي يمثل الدول والحضارات التي قامت فيها :

م	اسم الحضارة	الدولة
١	أم النار	.....
٢	.....	مصر
٣	ميلوفا	.....
٤	.....	العراق

ب- اذكر عاملين فقط من عوامل قيام الحضارات القديمة في الوطن العربي ؟

٥- الترتيب الصحيح لمراحل تطور عصور الحضارات القديمة من الأقدم إلى الأحدث:

- (أ) الحجري القديم - الحجري الحديث - الحديدي - البرونزي  
(ب) الحجري القديم - البرونزي - الحديدي - الحجري الحديث  
(ج) الحجري القديم - الحجري الحديث - البرونزي - الحديدي  
(د) الحجري القديم - الحديدي - الحجري الحديث - البرونزي

٦- الموقع الأثري الذي عُثر فيه على حوالي (١٠٠) مقبرة مبنية من الحجر المحلي في شبه الجزيرة العربية:



- (أ) ١  
(ب) ٢  
(ج) ٣  
(د) ٤



١- أطلق اليونان على البحرين اسم:-

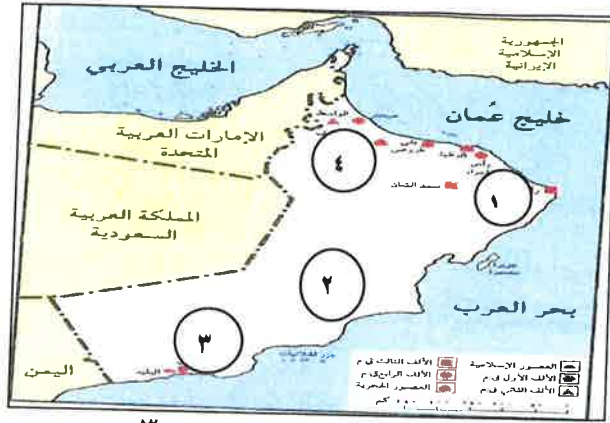
دستايوس

ج - مجان

ب - ام النار

أ - اوال

٢- الرقم الذي يشير الى موقع بات الاثري في الخريطة التي امامك :



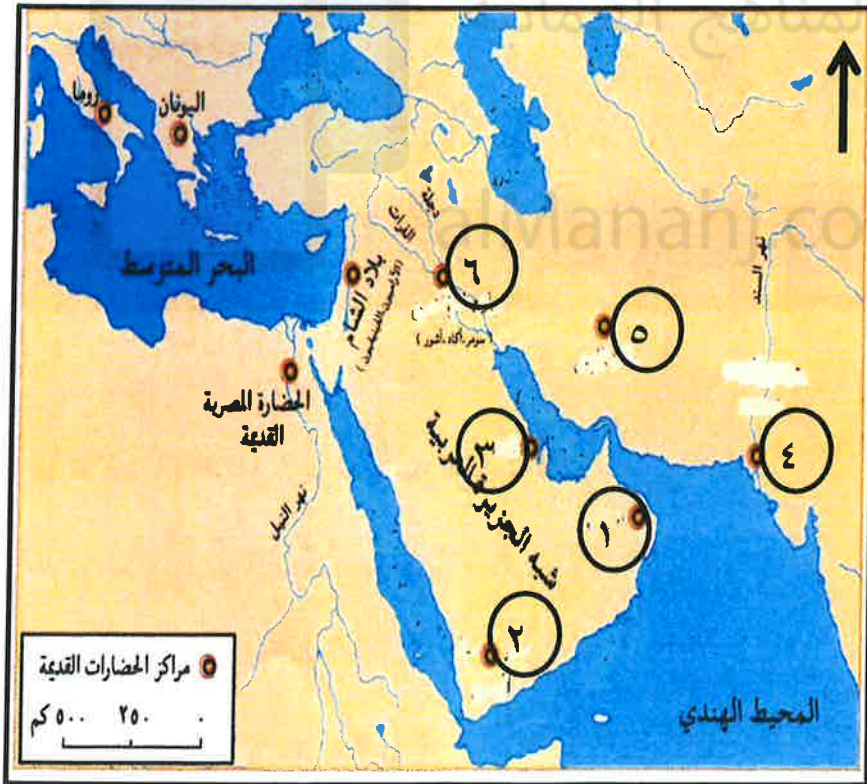
د- ٤

ج- ٣

ب- ٢

أ- ١

٢ - أمامك خريطة مراكز الحضارات القديمة ، ادرسها جيدا ، ثم أجب عن الاسئلة التي تليها:



أ- ما الاسم الذي أطلقه  
الاكاديون على الحضارة  
المشار إليها بالرقم ( ١ )

ب- ما الجهة الرئيسية التي يقع  
فيها البحر المتوسط  
بالنسبة للحضارة المصرية.

ج- أكتب أسم الخليج العربي  
في موقعه الصحيح على  
الخريطة.

د- استخرج من الخريطة الرقم  
الذال على الحضارة التي توجد  
بها أكبر مقبرة تاريخية في  
العالم.

ب - انسب المكتشفات التالية حسب العصور التاريخية التي ظهرت فيها :

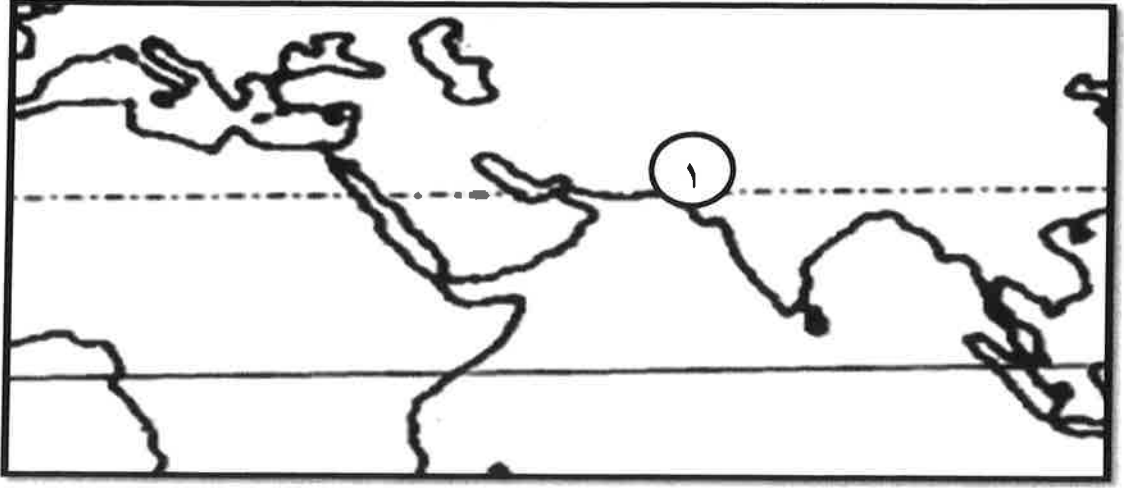
( استخدام الأثاث الخشبي - معرفة النقود - ممارسة الزراعة )

١ - العصر الحجري الحديث ( ..... )

٢ - العصر البرونزي ( ..... )

٣ - العصر الحديدي ( ..... )

ب) أدرس الخريطة التي أمامك ، ثم أجب عن الأسئلة التالية:

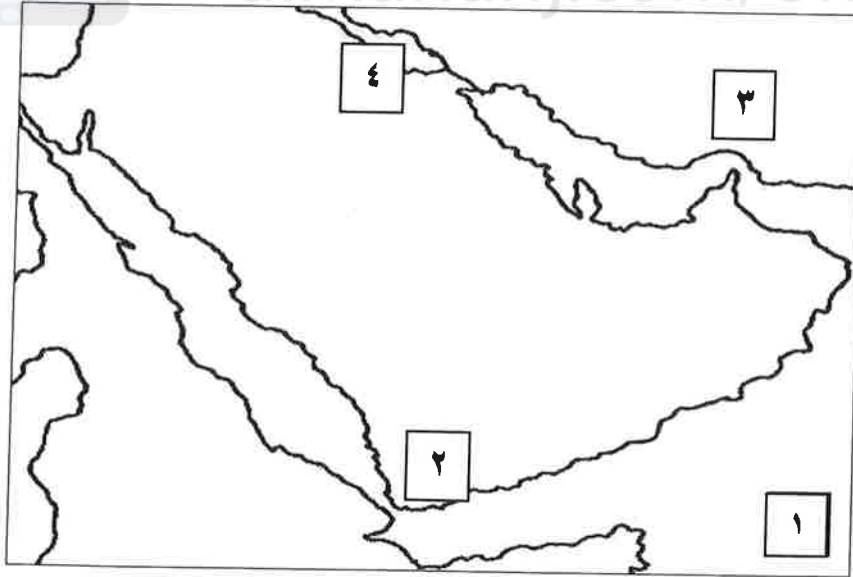


- ١- يشير الرقم (١) في الخريطة إلى إحدى الحضارات القديمة وهي : ( ..... ) أكمل .  
٢- ظلل موقع البحر الأحمر على الخريطة.

تم تحميل هذا الملف من

ج) ١- أعط دليلا واحدا على ازدهار الزراعة في دولة سبأ .  
موقع المناهج العمانية

من خلال خريطة الحضارات القديمة أجب عن الاسئلة التالية :



- أ- وقع على الخريطة حضارة مجان في موقعها الصحيح ؟  
ب- المحيط المشار إليه بالرقم (١) ؟ .....  
ج - الرقم الذي يشير إلى حضارة بلاد فارس ؟ .....  
- ظلل بالقلم الرصاص موقع الخليج العربي على الخريطة ؟