

شكراً لتحميلك هذا الملف من موقع المناهج العمانية



نموذج أسئلة الاختبار الرسمي

[موقع المناهج](#) ⇨ [المناهج العمانية](#) ⇨ [الصف السابع](#) ⇨ [اجتماعيات](#) ⇨ [الفصل الأول](#) ⇨ [الملف](#)

تاريخ نشر الملف على موقع المناهج: 06:33:59 2023-01-17

التواصل الاجتماعي بحسب الصف السابع



روابط مواد الصف السابع على تلغرام

[الرياضيات](#)

[اللغة الانجليزية](#)

[اللغة العربية](#)

[التربية الاسلامية](#)

المزيد من الملفات بحسب الصف السابع والمادة اجتماعيات في الفصل الأول

[نموذج إجابة الامتحان النهائي الدور الأول الفترة الصباحية للمحافظات الداخلية ومسقط](#)

1

[اختبار نهائي رسمي في محافظة الظاهرة](#)

2

[الامتحان النهائي الدور الأول الفترة الصباحية للمحافظات الداخلية ومسقط](#)

3

[الامتحان النهائي الدور الأول الفترة الصباحية لمحافظة شمال الباطنة](#)

4

المزيد من الملفات بحسب الصف السابع والمادة اجتماعيات في الفصل الأول

[امتحان تحريبي نهائي مع نموذج الإجابة](#)

5

تم تحميل هذا الملف من موقع المناهج العمانية



موقع المناهج العمانية

www.alManahj.com/om

الملف نموذج أسئلة الاختبار الرسمي

[موقع المناهج](#) ⇌ [المناهج العمانية](#) ⇌ [الصف السابع](#) ⇌ [اجتماعيات](#) ⇌ [الفصل الأول](#)

روابط مواقع التواصل الاجتماعي بحسب الصف السابع



روابط مواد الصف السابع على تلغرام

[الرياضيات](#)

[اللغة الانجليزية](#)

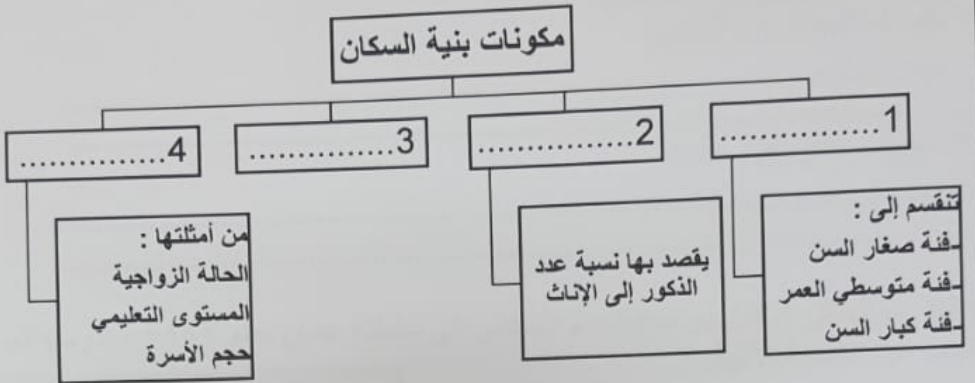
[اللغة العربية](#)

[التربية الاسلامية](#)

المزيد من الملفات بحسب الصف السابع والمادة اجتماعيات في الفصل الأول

أسئلة الاختبار الرسمي مسقط	1
نموذج أسئلة الاختبار الرسمي (جنوب الشرقية)	2
نموذج أسئلة الاختبار الرسمي (الظاهرة)	3
نموذج أسئلة الاختبار الرسمي (جنوب الشرقية)	4
أسئلة الاختبار الرسمي	5

السؤال الثالث: أجب عن الأسئلة الآتية:
أولاً: أ) أكمل المخطط الآتي:



ب) انظر إلى الصورة التي أمامك ثم أجب عن الآتي:
١- تشير الصورة إلى حياة الإنسان القديم في مرحلة:

.....
٢- أين سكن الإنسان في هذه المرحلة؟
.....

ثانياً: أ) عدد اثنين لكل مما يلي:

١- دول اليمن القديمة

.....
.....

٢- الأساليب التي تتبعها شرطة عمان السلطانية فيما يتعلق بالتنوعية المرورية

.....
.....

ثالثاً: أ) صنف العبارات الآتية التي توضح اسم عمان لدى بعض الحضارات القديمة حسب الجدول التالي: (مجان، مزون، بلاد الفضة، سفن الناس):

الحضارة	الاسم الذي أطلقته على عمان
الفرس	
الأكادية	
السومرية	
الأشورية	

السؤال الخامس: أجب عن الأسئلة الآتية:
أولاً: أ) أدرس الخريطة التي أمامك جيداً ثم أجب عما يلي :



- ١- الحضارة التي أطلق اليونان عليها بلا العرب السعيدة، يشار إليها بالرقم (.....).
- ٢- الرمز (▲) يشير إلى مضيق
- ٣- يقع البحر المتوسط بالنسبة لحضارة الفراعنة في جهة
- ٤- وقع على الخريطة موقع حضارة مجان



ثانياً: أ) أنظر للصورة ثم أجب عن الآتي:

- ١- الصورة تمثل أحد :
☐ الممتلكات عامة ☐ الممتلكات خاصة
(ضع علامة ✓ أمام الإجابة الصحيحة)

٢- فسر اجابتك

.....
.....
.....

٣- ما دورك كطالب اتجاه هذه الممتلكات؟ (يكتفى بذكر اثنين)

.....
.....
.....

انتهت الأسئلة مع الدعاء للجميع بالتوفيق والنجاح

السؤال الثاني: أجب عن الأسئلة الآتية:

أولاً: أ) اكتب مقابل كل عبارة في الجدول الآتي المفهوم / المصطلح الدال عليها:

م	العبارة	المفهوم/المصطلح
١	افتقار الغذاء للعناصر الغذائية المطلوبة للجسم
٢	سلامة الإنسان من أي مرض وقيامه بوظائفه على أكمل وجه

ب) علل ما يلي:

١- فشل الحملة الرومانية في السيطرة على اليمن

.....

.....

٢- ارتفاع معدلات المواليد في المجتمعات الزراعية التقليدية

.....

.....

ثانياً: أ) أذكر نتيجة واحدة مترتبة على كل مما يلي:

١- انهيار سد مأرب

.....

٢- تناول الطالب للوجبة الغذائية

.....

ثالثاً: أ) صنف العوامل التي تؤثر في توزيع سكان العالم إلى عوامل طبيعية وعوامل بشرية في الجدول الذي أمامك: (الهجرة - المناخ - التضاريس - وسائل النقل)

عوامل طبيعية	عوامل بشرية
.....
.....

السؤال الرابع: أجب عن الأسئلة الآتية:
أولاً: (أ) أذكر مثال واحد لكل من:
١- فوائد الابتعاد عن التدخين

٢- مصادر دخل الفرد حديثاً

ثانياً: (أ) الشكل المقابل يوضح الهرم السكاني في سلطنة عمان لعام ١٩٩٣ ، ادرسه ثم أجب عن الأسئلة الآتية:



١- ما هي نسبة فئة صغار السن في سلطنة عمان؟

٢- ما نوع الهرم السكاني في سلطنة عمان؟

٣- برأيك ما أهمية دراسة الخصائص السكانية المتعلقة بالنوع والسن في المجتمعات؟

ثالثاً: (أ) رتب الأحداث التاريخية الآتية بكتابة الأرقام (١, ٢, ٣, ٤) من الأقدم إلى الأحدث

(....) استخدام الطوب في البناء

(....) ظهور المدن التجارية

(....) اكتشاف النار

(....) استقرار الإنسان القديم

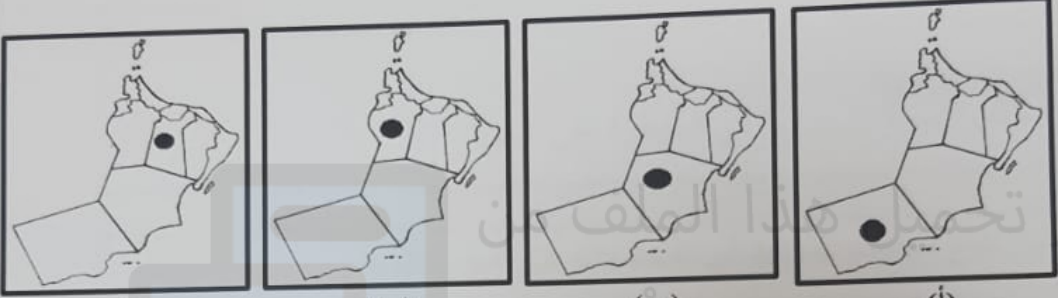
المادة: الدراسات الاجتماعية الصف: السابع الدور الأول - العام الدراسي ٢٠٢٢/٢٠٢٣ م (٢)

تابع: السؤال الأول:

٦- المصدر الأول والرئيسي لدراسة توزيع السكان وبنيتهم:
(أ) التعداد (ب) الاحصاءات الحيوية (ج) سجلات الهجرة (د) الزيادة الطبيعية

٧- من الموارد التي لا تتجدد بسبب طبيعة تكوينها:
(أ) الماء (ب) المعادن (ج) الهواء (د) التربة

٨- الخريطة التي تمثل موقع المحافظة التي كان يصدر منها اللبان قديما هي:



(د) (ج) (ب) (أ)

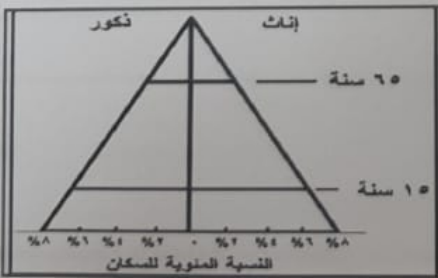
٩- يحصل محمد علي مصروف يومي مقداره ٥٠٠ بيسة، ويوفر منه كل يوم ٢٠٠ بيسة، محمد في هذه الحالة يطبق مفهوم:

(أ) الاستثمار (ب) الدخل (ج) الادخار (د) الانفاق

١٠- أطلق اليونانيون على دلمون اسم:

(أ) تايلوس (ب) أوال (ج) أرض النحاس (د) مزون

١١- زيادة أعداد السكان بصورة كبيرة تفوق الزيادة في الموارد الطبيعية يعرف بـ:
(أ) سوء التغذية (ب) بنية السكان (ج) المجاعة (د) الانفجار السكاني



١٢- من أهم خصائص الهرم الذي أمامك:

(أ) انخفاض نسبة صغار السن
(ب) ارتفاع نسبة صغار السن
(ج) انخفاض نسبة متوسطي السن
(د) ارتفاع نسبة كبار السن

أجب عن جميع الأسئلة الآتية


السؤال الأول: ضع دائرة حول رمز الإجابة الصحيحة لكل مفردة من المفردات الآتية:

١- عرف الإنسان القديم في الوطن العربي الكثبان خلال الألف:
(أ) الرابع ق.م (ب) الخامس ق.م (ج) السادس ق.م (د) السابع ق.م

٢- من أنواع الهجرة التي تصنف حسب الرغبة:
(أ) دائمة ومؤقتة (ب) داخلية وخارجية (ج) اختيارية وإجبارية (د) محلية ودولية
٣- الصورة التي تمثل أحد أبرز المكتشفات القديمة في العصر البرونزي:



(د)



(ج)



(ب)



(أ)

٤- جميع ما يلي من أخلاقيات سائق المركبة مأعدا:
(أ) التعاون (ب) الهدوء (ج) السرعة (د) ربط الحزام

٥- المخطط الصحيح لمقومات الصحة الجيدة هو:

تجنب التدخين
قلّة الرياضة
الابتعاد عن الوجبات السريعة

(ب)

تجنب التدخين
ممارسة الرياضة بانتظام
الابتعاد عن الوجبات السريعة

(أ)

تجنب التدخين
قلّة ممارسة الرياضة
تجنب الدهون

(د)

تجنب التدخين
ممارسة الرياضة بانتظام
الابتعاد عن الوجبات السريعة

(ج)