

## شكراً لتحميلك هذا الملف من موقع المناهج العمانية



## الاختبار النهائي الرسمي في محافظة ظفار

[موقع المناهج](#) ← [المناهج العمانية](#) ← [الصف السابع](#) ← [اجتماعيات](#) ← [الفصل الثاني](#) ← [الملف](#)

تاريخ نشر الملف على موقع المناهج: 2023-05-16 07:42:42

## التواصل الاجتماعي بحسب الصف السابع



## روابط مواد الصف السابع على تلغرام

[الرياضيات](#)

[اللغة الانجليزية](#)

[اللغة العربية](#)

[التربية الاسلامية](#)

## المزيد من الملفات بحسب الصف السابع والمادة اجتماعيات في الفصل الثاني

[الامتحان الرسمي النهائي بمحافظة الداخلية](#)

1

[الاختبار النهائي الرسمي في محافظة مسقط](#)

2

[نموذج إجابة الاختبار النهائي الرسمي في محافظة شمال الشرقية](#)

3

[الامتحان الرسمي النهائي لمحافظة الشرقية](#)

4

[الامتحان الرسمي النهائي لمحافظة الداخلية](#)

5

(٢)

المادة: الدراسات الاجتماعية الصف: السابع الدور الأول - الفصل الدراسي الثاني - العام الدراسي ٢٠٢٢/٢٠٢٣ م

تابع السؤال الأول:


٦- الشكل الذي يوضح السلوك الصحيح لترشيد استهلاك الكهرباء:



(د)



(ج)



(ب)



(أ)

٧- من ملوك فراعنة مصر في عهد الدولة الحديثة دام حكمها ٢٢ سنة وتميز عصرها بالاستقرار والسلام:

أ- تحتمس الثالث ب- حتشبسوت ج- توت عنخ آمون د- رمسيس الثاني



٨- ترمز هيئة الجسم في الشكل المقابل إلى:

أ- العقل ب- الضعف ج- القوة د- الخوف

٩- عرف السومريون الكتابة المسمارية في الألف:

أ- الثالثة قبل الميلاد ب- الرابعة قبل الميلاد ج- الخامسة قبل الميلاد د- السادسة قبل الميلاد



١٠- تنسب الخريطة التي أمامك لأحدى الحضارات

التي ظهرت في العراق في أقصى اتساع لها:  
أ- السومرية ب- الأكادية ج- البابلية د- الآشورية

١١- من أوائل الشعوب السامية التي هاجرت من شبه الجزيرة العربية حوالي ٢٥٠٠ ق.م إلى سهول بلاد الشام:

أ- الأموريون ب- الأراميون ج- الفينيقيون د- الكنعانيون

١٢- الشكل المقابل يمثل أحد الكتابات في الحضارات القديمة:

أ- الهيروغليفية ب- المسمارية ج- الفينيقية د- العربية



السؤال الثاني:

أولاً: ١- أجب عن ما يلي :  
( أ ) بم تفسر: هجرة السكان من الريف إلى الحضر ؟

ب ) أذكر أهمية واحدة للتعليم في حياة المواطن ؟

٢ - " يعتبر نبوخذ نصر الثاني أشهر ملوك الدولة البابلية الثانية، وحكم أكثر من نصف قرن واهتم بالعمارة " في ضوء العبارة السابقة.  
- عدد اثنين من أشهر آثار الملك نبوخذ نصر الثاني؟

ثانياً: ١ - فسر : استوطن سكان حضارات بلاد الشام المناطق الجبلية والساحلية ؟

٢ - أجب عن ما يلي:  
( أ ) يتميز الموقع الحضري بالتوسط والمركزية ، ما المقصود بذلك ؟

ب) بم تفسر : تعاني سلطنة عمان من شح المياه وجفاف بعض الأفلاج ؟

السؤال الثالث:

أولاً: أجب عن ما يلي:

١ - ما المقصود بحضارات وادي النيل ؟

٢ - من خلال الصبورة المقابلة : فسر نمو هذه الأحياء بسرعة كبيرة في المدن المليونية بالدول النامية ؟





(٤)

المادة: الدراسات الاجتماعية الصف: السابع الدور الأول - الفصل الدراسي الثاني - العام الدراسي ٢٠٢٢/٢٠٢٣ م

تابع السؤال الثالث:

ثانياً: أجب عن ما يلي:

١ - لاحظ الصورة المقابلة: ما أهمية هذا الاحتياج للسكان؟



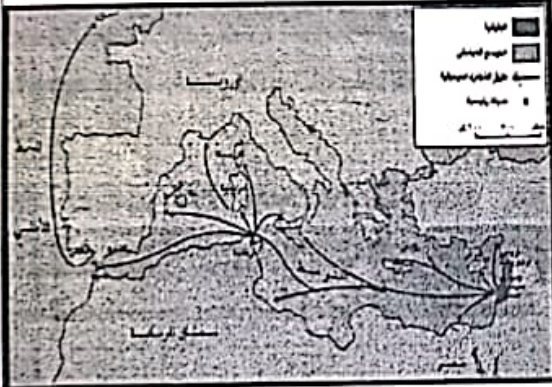
.....  
.....

٢ - بالاستعانة بخريطة المدن والمستعمرات الفينيقية السابقة، أجب عن ما يلي:

( أ ) ضع دائرة على المستعمرة الفينيقية الأشهر في شمال أفريقيا.

( ب ) فسر: يعد الفينيقيون من رواد صنّاع السفن؟

( ج ) برأيك: ما تأثير الفينيقيون على علم الجغرافيا والفلك؟



.....

السؤال الرابع:

أولاً: ١ - ( أدى التسارع في النمو الحضري في السنوات الثلاثين الأخيرة إلى تزايد أعداد المدن المليونية، حيث تشهد هذه المدن نمواً سريعاً في حجمها ) .

( أ ) ما المقصود بالمدن المليونية الضخمة؟

.....  
ب ( كم يبلغ عدد المدن المليونية مع بداية هذا القرن؟

.....  
٢ - بم تفسر: قيام التبادل التجاري بين البيئات المختلفة قديماً؟

.....  
.....

ثانياً: ١ - ( حرص حمورابي على تنظيم دولته، فأصدر القوانين والتشريعات المشهورة باسم (قوانين حمورابي) .

- أين يوجد النصب الأصلي المسجلة عليه قوانين حمورابي حالياً؟

.....

يتبع/٥

٢ - قسم المؤرخون المحدثون تاريخ مصر الفرعونية إلى ثلاثة أقسام (الدولة القديمة والدولة الوسطى والدولة الحديثة) : صنف المعلومات التالية حسب الفراغ المناسب لها في الجدول الآتي :

( من الأسرة ٣ إلى الأسرة ٦ / من الأسرة ١٨ إلى الأسرة ٢٠ / إقامة دولة كبرى ضمت مصر وفلسطين و سوريا و شمالي العراق / بناء الأهرام )

وجه المقارنة	الدولة القديمة	الدولة الحديثة
امتداد الأسر		
أهم المظاهر		

### السؤال الخامس:

أولاً: (١) عدد اثنين من النتائج المترتبة على حركة الهجرة من الريف إلى الحضر؟

..... / ١

..... / ٢

(٢) قدم نصيحة للشباب الذين يفتقدون العادات الدخيلة؟

.....

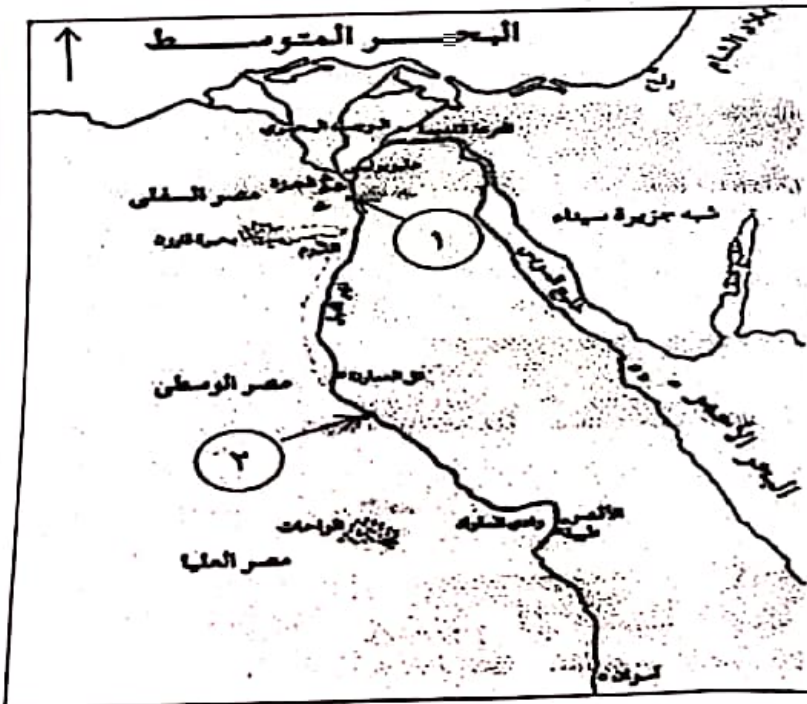
.....

ثانياً: ادرس الخريطة التي أمامك

، ثم أجب عن الأسئلة الآتية :

١ - ضع دائرة حول اسم المدينة التي قام أمراؤها بمساعدة الملك أحمس لطرد الهكسوس من مصر.

٢ - مدينة (ممفيس) كانت عاصمة مصر العليا والسفلى في عهد الملك مينا (نارمر) ، ويشار إليها بالرقم (.....) .



انتهت الأسئلة مع الدعاء للجميع بالتوفيق والنجاح .



### أجب عن جميع الأسئلة الآتية

السؤال الأول: ضع دائرة حول رمز الإجابة الصحيحة لكل مفردة من المفردات الآتية:

- ١ - المرحلة التي كان فيها الإنسان مستهلكاً لما تنتجه البيئة دون بذل جهد كبير:  
أ - الصيد والرعي      ب - الجمع والالتقاط      ج - الزراعة      د - التجارة




- ٢ - الصورة المقابلة لأداة زراعية أدت لاستقرار الإنسان:  
أ - الفأس      ب - المعول      ج - المحراث      د - المنجل

- ٣ - هي خطط يتم تصميمها بهدف تطوير الحياة الاقتصادية والاجتماعية لمجموعة معينة من الناس في المناطق الريفية:  
أ - الهجرة      ب - الريف      ج - التنمية الريفية      د - الحضر



- ٤ - تمثل الصورة المقابلة مشكلة من مشكلات المدن وهي:  
أ - التلوث      ب - الاختناقات المروري      ج - الإسكان      د - ضعف مستوى الخدمات



- ٥ - الخدمة التي توفرها الحكومة العمانية حسب الصورة المقابلة:  
أ - الاتصالات      ب - التعليم      ج - الإسكان      د - الرعاية الصحية