

شكراً لتحميلك هذا الملف من موقع المناهج العمانية



الامتحان الرسمي النهائي بمحافظة الداخلية

[موقع المناهج](#) ← [المناهج العمانية](#) ← [الصف السابع](#) ← [اجتماعيات](#) ← [الفصل الثاني](#) ← [الملف](#)

التواصل الاجتماعي بحسب الصف السابع



روابط مواد الصف السابع على تلغرام

[الرياضيات](#)

[اللغة الانجليزية](#)

[اللغة العربية](#)

[التربية الاسلامية](#)

المزيد من الملفات بحسب الصف السابع والمادة اجتماعيات في الفصل الثاني

الامتحان الرسمي النهائي بمحافظة الداخلية	1
الاختبار النهائي الرسمي في محافظة مسقط	2
نموذج إجابة الاختبار النهائي الرسمي في محافظة شمال الشرقية	3
الامتحان الرسمي النهائي لمحافظة الشرقية	4
الامتحان الرسمي النهائي لمحافظة الداخلية	5

(١)

المادة : الدراسات الاجتماعية - الصف : التاسع - الدور الأول - الفصل الدراسي الثاني - العام الدراسي : ٢٠٢٢-٢٠٢٣ م

أجب عن جميع الأسئلة الآتية

السؤال الأول: ضع دائرة حول رمز الإجابة الصحيحة لكل مفردة من المفردات الآتية:

١-المرتبة التي احتلها الأسطول العماني في عهد السيد سعيد بن سلطان في المحيط الهندي:

أ- الأولى ب- الثانية ج- الثالثة د- الرابعة

٢- تخيل أنك في رحلة سياحية إلى دولة اليابان، فإن العملة النقدية التي ستستخدمها في تعاملاتك:

أ- الين ب- الرينجت ج- الريال د- الروبية

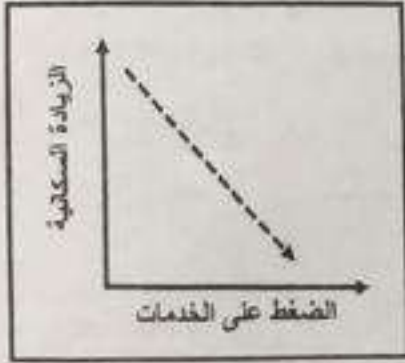


٣- الحضارة التي ينسب إليها اختراع الأداة الظاهرة في الصورة المقابلة:

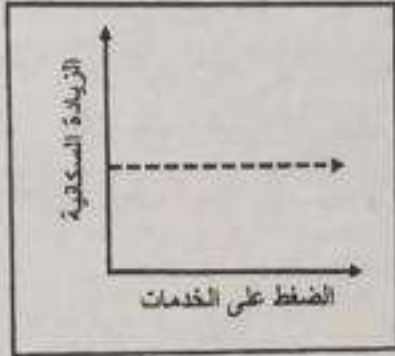
أ- الفارسية ب- اليابانية

ج- الصينية د- الهندية

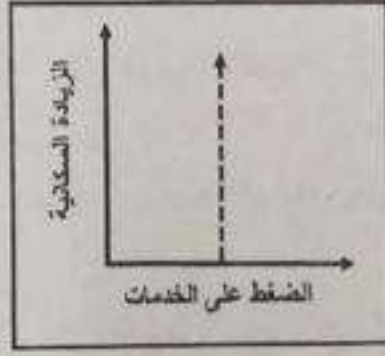
٤- الشكل البياني الذي يوضح العلاقة بين الزيادة السكانية والضغط على الخدمات :



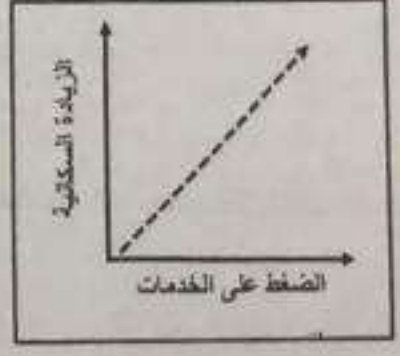
د



ج




ب

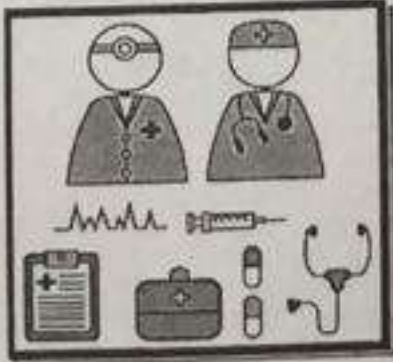


أ

٥- المجال العلمي الذي دخلت فيه الصين عام ٢٠٠٣ م:



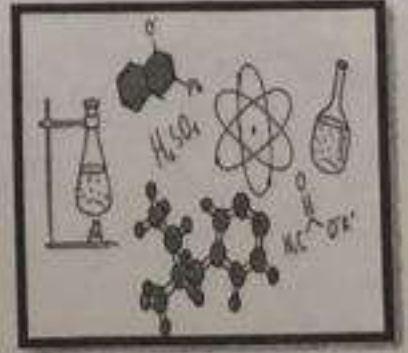
د



ج



ب



أ

٦- العام الميلادي الذي اتخذ فيه السيد سعيد بن سلطان زنجبار مركزا لحكمه في أفريقيا:

د- ١٨٣٣

ج- ١٨٣٢

ب- ١٨٣١

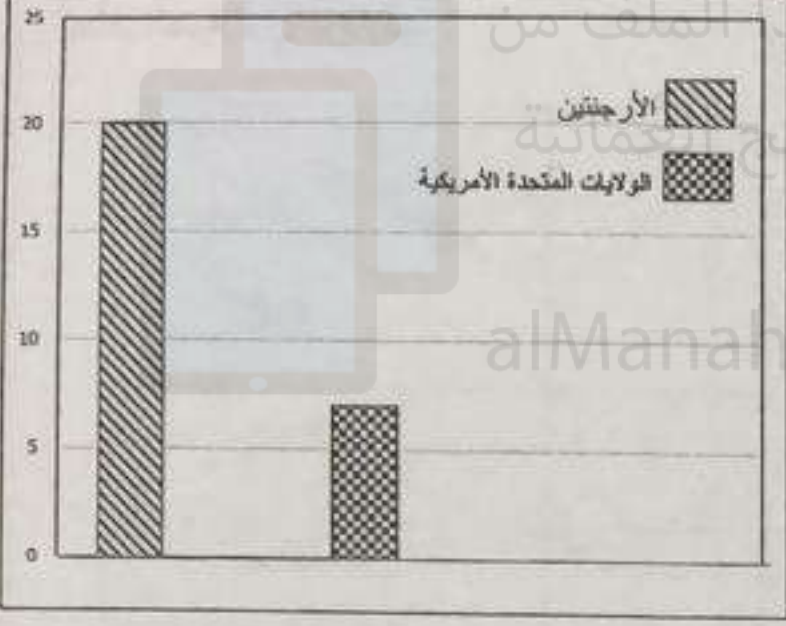
أ- ١٨٣٠

(٤)

المادة : الدراسات الاجتماعية - الصف : التاسع - الدور الأول - الفصل الدراسي الثاني - العام الدراسي : ٢٠٢٢-٢٠٢٣ م

تابع السؤال الثاني:


ثالثا: ١- ادرس الشكل البياني الذي يمثل نسبة الباحثين عن عمل في دولتي الأرجنتين والولايات المتحدة الأمريكية ثم أجب عن الأسئلة التالية:



أ- أي الدولتان تمثل أعلى نسبة للباحثين عن عمل؟

ب- استنتج سببا واحدا لارتفاع نسبة الباحثين عن عمل في هذه الدولة.

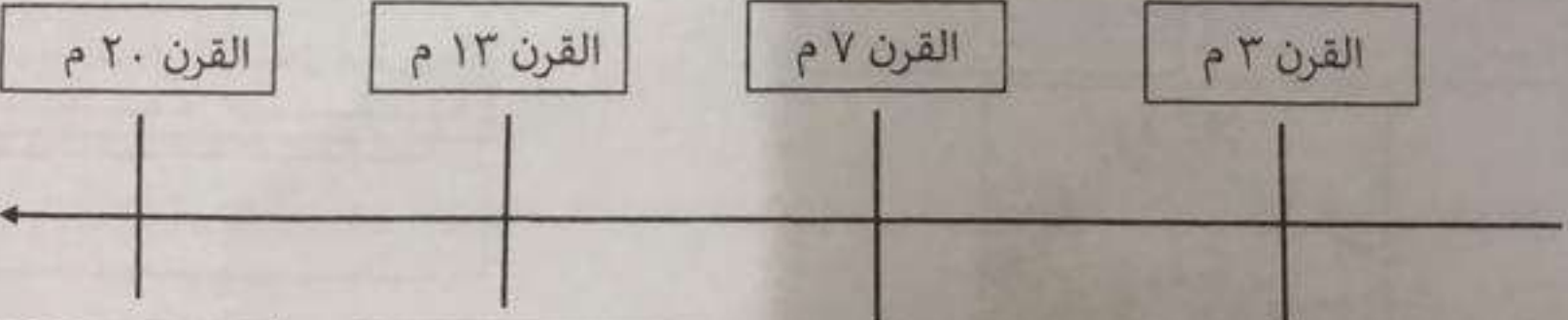
٢- دلل / على دور العمانيين في نشر اللغة العربية في مناطق المحيط الهندي.



السؤال الثالث: أجب عن الأسئلة الآتية:

أولا: رتب الأحداث المرتبطة بتاريخ الجمهورية الإسلامية الإيرانية من الأقدم إلى الأحدث في السلم الزمني التالي:

(الغزو المغولي - قيام الدولة الساسانية - قيام الجمهورية الإيرانية - دخول معظم سكانها الإسلام)



١ -	٢ -	٣ -	٤ -
.....
.....
.....
.....

المادة : الدراسات الاجتماعية - الصف : التاسع - الدور الأول - الفصل الدراسي الثاني - العام الدراسي : ٢٠٢٢-٢٠٢٣ م (٥)

تابع السؤال الثالث:

٨

ثانيا: قارن بين السفينتين سلطنة و صحار من حيث الميناء الذي زارته السفينة والعام الميلادي لزيارتها :

وجه المقارنة	السفينة	وجه المقارنه
صحرار	١ -	٢ -
سلطنة	٣ -	٤ -

السؤال الرابع: أجب عن الأسئلة الآتية:

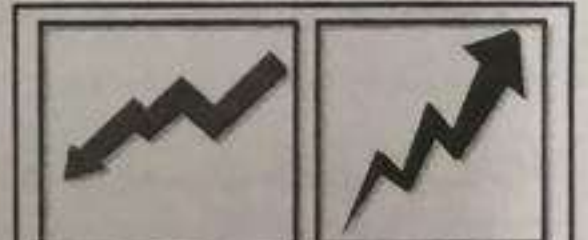
٦

أولا: أكمل بيانات المخطط الآتي:

مشكلة الانفجار السكاني

نتائجها

أسبابها



معدل الوفيات

معدل المواليد

١-

٣-

٢-



٤-

ثانيا: اذكر نتيجة سلبية واحدة ترتبت على كل من :

١- فيضان النهر الأصفر في الصين .

٢- إلقاء القنابل النووية على المدينتين اليابانيتين هيروشيما وناجازاكي .

يتبع/٦

(٦)

المادة : الدراسات الاجتماعية - الصف : التاسع - الدور الأول - الفصل الدراسي الثاني - العام الدراسي : ٢٠٢٢-٢٠٢٣ م

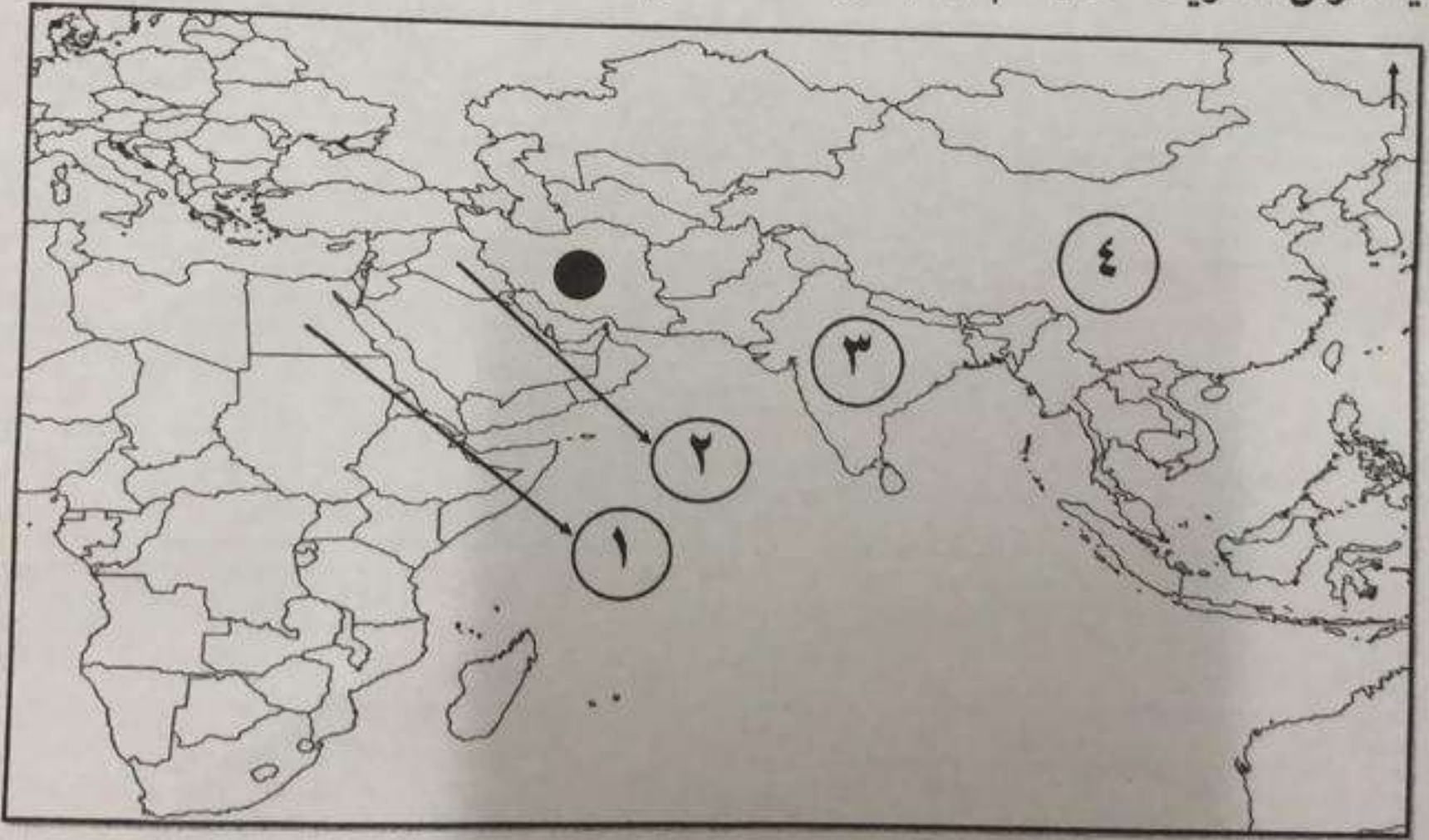
السؤال الخامس: أجب عن الأسئلة الآتية:

ثانيا: أكمل بيانات الجدول الآتي من خلال المعلومات الواردة في الشكل المقابل:



الميناء	الساحل
صور	١-.....
.....	٢- الساحل الهندي
.....	٣- الساحل الأفريقي الشرقي
سيراف	٤-.....

ثانيا: ادرس الخريطة الآتية ثم أجب عن الأسئلة التي تليها:



١ - اكتب المحيط الهندي في موقعه الصحيح على الخريطة .

٢ - استخراج الأرقام الدالة على كل من :

أ - دولة اقتبس منها الفرس فن العمارة (.....)

ب - دولة دخلت مع بريطانيا حرب الأفيون (.....)

٣ - أعط مثلا واحدا على صناعة ازدهرت في الدولة المشار إليها بالرمز ●

انتهت الأسئلة مع الدعاء للجميع بالتوفيق والنجاح.

(٢)

المادة : الدراسات الاجتماعية - الصف : التاسع - الدور الأول - الفصل الدراسي الثاني - العام الدراسي : ٢٠٢٢-٢٠٢٣ م

تابع السؤال الأول:


٧- الشكل الصحيح لمصدر الطاقة المتجددة :




د



ج

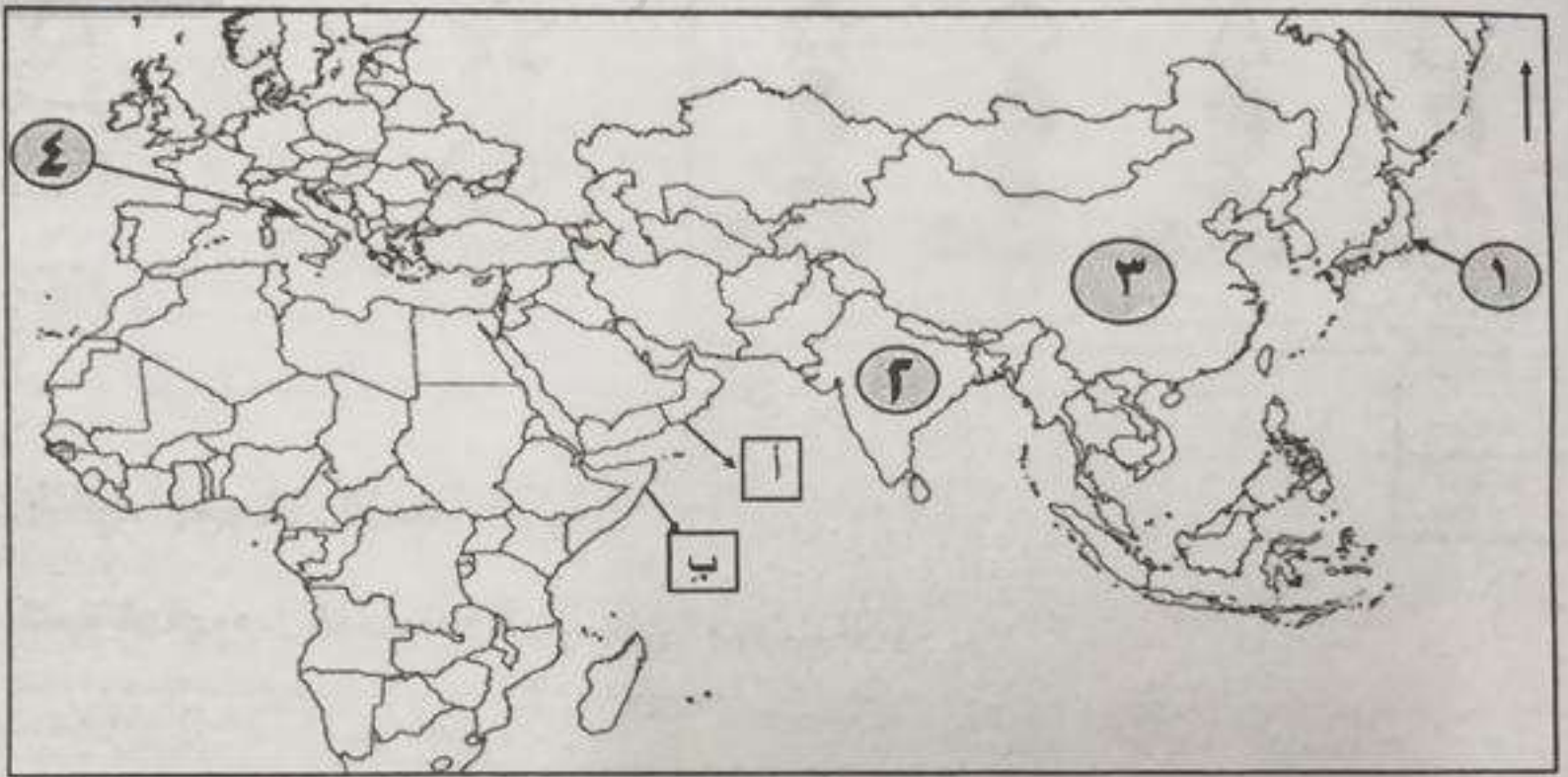


ب



أ

٨- استعن بخريطة الدول المطلة على المحيط الهندي للإجابة عن المفردتين (٨ ، ٩)



٨- الرقم الذي يشير إلى الدولة التي بُني فيها بعض السفن العمانية زمن الإمام سلطان بن سيف :

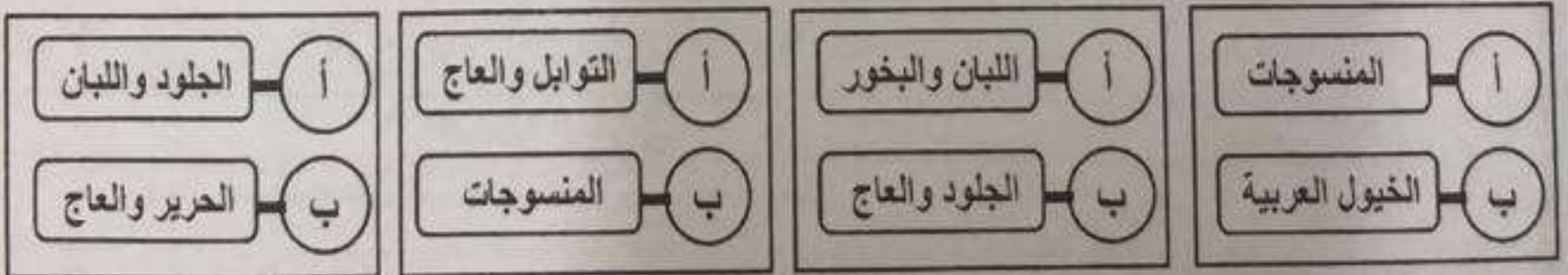
د- ٤

ج- ٣

ب- ٢

أ- ١

٩- الشكل الصحيح لصادرات الموانئ المشار إليها بالرموز (أ ، ب) :



د

ج

ب

أ

١٠- النتيجة المترتبة على الامتداد الطولي لدولة اليابان من الشمال إلى الجنوب :

أ- التنوع المناخي ب- وفرة الموارد المعدنية ج- السهول الواسعة د- تنوع مصادر الطاقة

(٣)

المادة : الدراسات الاجتماعية - الصف : التاسع - الدور الأول - الفصل الدراسي الثاني - العام الدراسي : ٢٠٢٢-٢٠٢٣

تابع السؤال الأول:

١١- الدولة التي تعبر عنها البطاقة التعريفية في الشكل المقابل :




أ- الصين

ب- اليابان

ج- إيران

د- الهند

١٢- الرمز الصحيح الذي يشير إلى كمية السعرات الحرارية التي يحتاجها جسم الإنسان في اليوم الواحد:



ب- ☆

أ- △

د- ○

ج- □

١٢

السؤال الثاني: أجب عن الأسئلة الآتية:

أولاً : اكتب المفهوم / المصطلح الدال على العبارات الآتية :

المصطلح	العبرة
.....	١- العلم الذي يهدف إلى التعريف بالسكان والظواهر السكانية من حيث أسبابها والعوامل التي تتحكم فيها والعلاقات التي تربطها.
.....	٢. سفينة حربية صغيرة الحجم ، سريعة تستخدم للمناورة .

ثانياً : صنف العصور التاريخية لتطور الملاحة البحرية عند العمانيين أمام المنجز الملاحي الذي تنتمي له: (القديم - الإسلامي - اليعاربة - البوسعيد)

العصر	المنجز الملاحي
	١- ازدهار مدن عمان الساحلية مثل مدينة صحار
	٢- إعداد قوة بحرية لتعقب البرتغاليين في المحيط الهندي
	٣- محاولة ابحار الإنسان العماني باستخدام الصاري والشرع
	٤- امتلاك أسطول تجاري يضم ١٥ سفينة كبيرة

يتبع / ٤