

شكراً لتحميلك هذا الملف من موقع المناهج العمانية



الامتحان الرسمي النهائي لمحافظة الداخلية

[موقع المناهج](#) ← [المناهج العمانية](#) ← [الصف السابع](#) ← [اجتماعيات](#) ← [الفصل الثاني](#) ← [الملف](#)

التواصل الاجتماعي بحسب الصف السابع



روابط مواد الصف السابع على تلغرام

[الرياضيات](#)

[اللغة الانجليزية](#)

[اللغة العربية](#)

[التربية الاسلامية](#)

المزيد من الملفات بحسب الصف السابع والمادة اجتماعيات في الفصل الثاني


الامتحان الرسمي النهائي بمحافظة الداخلية	1
الاختبار النهائي الرسمي في محافظة مسقط	2
نموذج إجابة الاختبار النهائي الرسمي في محافظة شمال الشرقية	3
الامتحان الرسمي النهائي لمحافظة الشرقية	4
الامتحان الرسمي النهائي لمحافظة الداخلية	5

أجب عن جميع الأسئلة الآتية

السؤال الأول: ضع دائرة حول رمز الإجابة الصحيحة لكل مفردة من المفردات الآتية:
١- الشعب الذي أقام في المناطق الشمالية من بلاد الرافدين:

- (أ) الآشوري (ب) الأكادي (ج) البابلي (د) الكلداني

٢- الشكل البياني الذي يوضح نسبة سكان المدن في الدول النامية بالنسبة لسكان المدن في العالم :



٢- الرقم الذي يشير إلى الموقع الصحيح للمحافظة التي عُقد فيها "ندوة التصحر" عام 2002م في الخريطة المقابلة:




- (أ) ١
(ب) ٢
(ج) ٣
(د) ٤

٤- يطلق على التجمع السكاني الذي تتوافر فيه خدمات البنى التحتية:

- (أ) الريف (ب) المدينة (ج) التنمية الريفية (د) التراجع الحضري

٥- الملك الذي بنى المعلم المعماري الذي تشير إليه الصورة المقابلة :



- (أ) نبوخذ نصر (ب) آشور بانبيال (ج) نارام سن (د) نابوبولاسر

المادة : الدراسات الاجتماعية الصف السابع الدور الأول - الفصل الدراسي الثاني - العام الدراسي ٢٠٢٢/٢٠٢٣ م (٥)

السؤال الثالث:

ثالثا: ادرس الخريطة التي أمامك جيدًا، والتي توضح النسبة المئوية لزيادة سكان المدن في الوطن العربي، ثم أجب عن الأسئلة التي تليها:



١- كم يبلغ النمو السنوي لسكان ليبيا؟

٢- وضح سبب تزايد سكان المدن في الدولة المشار إليها بالرمز ●

٣- استخرج دولة عربية اسيوية تتراوح فيها نسبة نمو سكان المدن بين ٢-٣%.

٤- سمّ المدينة المليونية التي يزيد سكانها عن ١٠ مليون نسمة في الدولة المشار إليها بالرمز ✚

المدينة الرئيسية الموحدة

8

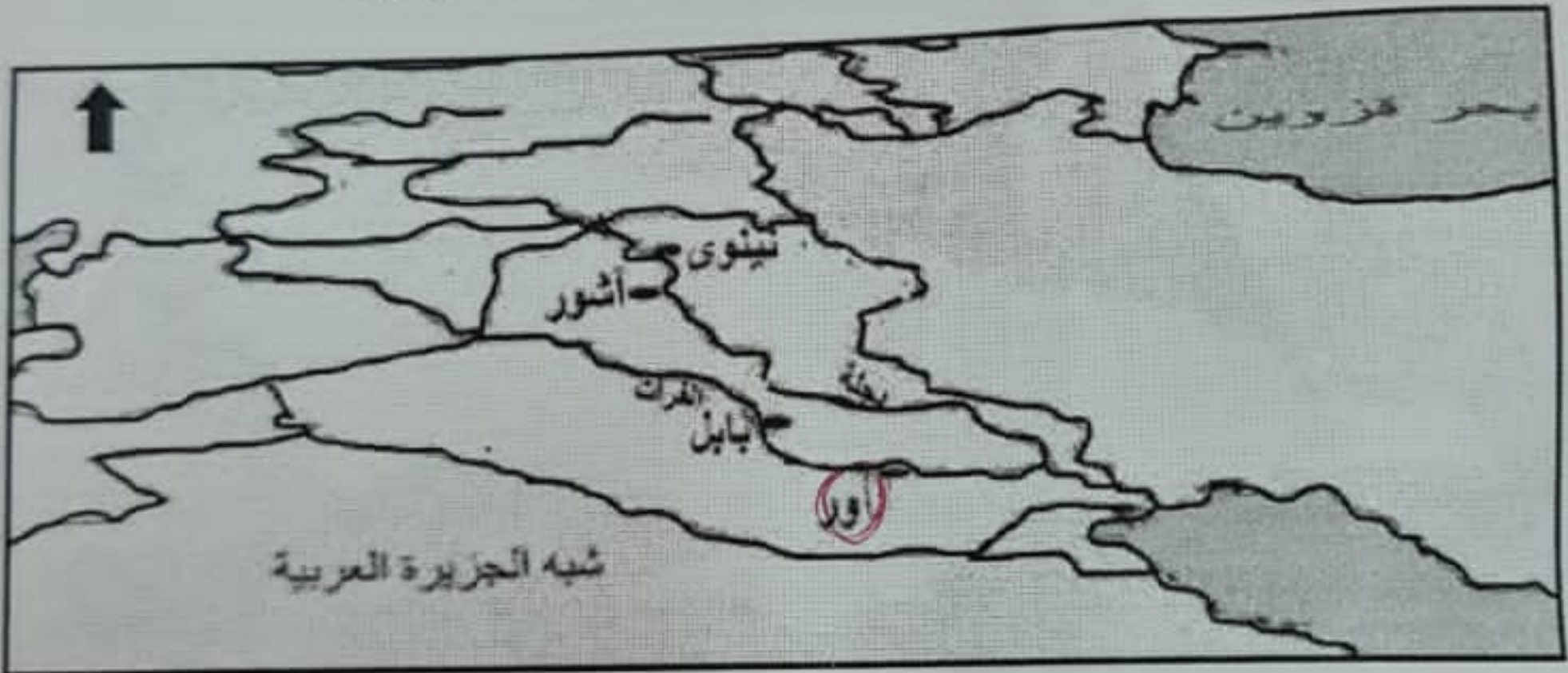
السؤال الخامس:

أولاً: تنقسم بلاد الرافدين جغرافياً إلى إقليمين مختلفين، أذكرهما. هذا الملف من موقع المناهج التعليمية

ثانياً: قارن بين استخدامات خشب الأرز و نبات البردي عند قدماء المصريين في الجدول الآتي :

المادة المستخدمة	خشب الأرز	نبات البردي
الإستخدام

ثالثاً: ادرس خريطة الأمبراطورية الآشورية جيداً، ثم أجب عن الأسئلة التي تليها :



١- استخراج من الخريطة عاصمة الآشوريين الجديدة في عهد آشور بانيبال. (.....)

٢- ضع دائرة حول المدينة السومرية التي قامت على نهر الفرات.

٣- اكتب اسم المسطح المائي الذي يصب فيه نهري دجلة والفرات في موقعه الصحيح على الخريطة.

انتهت الأسئلة مع الدعاء للجميع بالتوفيق والنجاح.

(٦)

المادة: الدراسات الاجتماعية الصف السابع الدور الأول - الفصل الدراسي الثاني - العام الدراسي ٢٠٢٢/٢٠٢٣ م

السؤال الرابع:

أولاً: أمامك جدول يوضح النسبة المئوية لسكان المدن في بعض الأقاليم في العالم. أدرسه جيداً، ثم أجب عن الأسئلة الآتية:

النسبة المئوية لسكان المدن (%)			أقاليم العالم
٢٠٠٠ م	١٩٨٠ م	١٩٢٠ م	
٤٣	٣٢	١٠	• الدول النامية
٤٠	٣١	٩	- شرقي آسيا
٨٠	٦٠	٢٢	- أمريكا اللاتينية
٣٩	٢٨	٧	- أفريقيا
٨٠	٧٠	٤٠	• الدول المتقدمة
٧١	٤٦	٤٦	- أوروبا
٧٨	٦٥	٥٢	- أمريكا الشمالية
٨٠	٦٨	٤٧	→ أستراليا والمحيط الهادي
٥١	٤٦	١٩	• العالم

١- صف اتجاه نمو سكان المدن بصفة عامة خلال الفترة ١٩٢٠ - ٢٠٠٠ م.

٢- احسب نسبة نمو سكان المدن في أستراليا والمحيط الهادي بين عامي ١٩٨٠ و ٢٠٠٠ م.

٣- ما أقل القارات نمواً في عام ١٩٢٠ م؟

ثانياً: انظر إلى صور الكتابات في الحضارات القديمة التي أمامك، ثم أجب عن الأسئلة التي تليها:

N	J	G	A
S	K	H	B
T	M	I	D
W	R	Q	F

(ص)



(س)

١- تنتمي الكتابات في الصورة (ص) إلى الحضارة:

(ضع علامة ✓ على الإجابة الصحيحة) المصرية الفينيقية

٢- ما الاسم الذي أطلق على الكتابة التي تمثلها الصورة (س)؟

٣- ما الأداة التي استخدمت في الكتابة الموضحة بالصورة (س)؟

٦

يتبع/٧

(٤)

المادة : الدراسات الاجتماعية الصف السابع الدور الأول - الفصل الدراسي الثاني - العام الدراسي ٢٠٢٢/٢٠٢٣ م

تابع السؤال الثاني:

ثالثا: ١- دُلِّلْ تأثير الهكسوس بالحضارة المصرية .

تم تحميل هذا الملف من

٢- صف تمثال أبو الهول الذي أمر الملك خفرع بنحته أمام هرمه . ناهج العمانية

alManahj.com/om

٣- صنف المعطيات الآتية بين القوسين (اختراع المحراث - اكتظاظ المدن بالسكان - استأنس الحيوانات - نشأت المدن التجارية) حسب مراحل تطور المجتمعات البشرية التي تنتمي إليها في الجدول الذي أمامك.

مرحلة الرعي والصيد	مرحلة الزراعة	مرحلة التجارة	مرحلة الصناعة

8

السؤال الثالث:

أولا : ١- علل: حرصت الدويلات الأمورية على إرضاء الدول المجاورة لها .

٢ - (تعد الطرق من الوسائل الضرورية للإنسان والدولة على حد سواء) في ضوء هذه العبارة . أكتب أهمية واحدة لهذه الطرق.

ثانيا: أنسب الملوك الموضحة بين القوسين حسب الحضارة التي ينتمي إليها كل منهم :

(سرجون الأول - نابو بولاسر - حمورابي - سرجون الثاني)

الحضارة التي ينتمي إليها	اسم الملك
الكلدانية (الدولة البابلية الثانية)	سرجون الثاني
الآشورية	سرجون الأول
البابلية	نابو بولاسر
الأكادية	حمورابي

يتبع/٥

المادة: الدراسات الاجتماعية الصف السابع الدور الأول - الفصل الدراسي الثاني - العام الدراسي ٢٠٢٢/٢٠٢٣ م (٣)

تابع السؤال الأول:

١١- جميع ما يأتي ينطبق على مفهوم الحضرة عدا:
(أ) توفر الخدمات (ب) ضعف العلاقات الأسرية

١٢- الجدول الذي يمثل التسلسل الصحيح لمملوك الدولة المصرية الحديثة من الأقدم إلى الأحدث:
(د) انتشار الأسر الكبيرة.

١	رَمِيسِيسِ الثَّانِي
٢	تَحْتَمَسِ الثَّالِثِ
٣	اِخْنَاتُون
٤	حَتَشْبِسُوت

(ب)

١	حَتَشْبِسُوت
٢	تَحْتَمَسِ الثَّالِثِ
٣	اِخْنَاتُون
٤	رَمِيسِيسِ الثَّانِي

(أ)

١	اِخْنَاتُون
٢	تَحْتَمَسِ الثَّالِثِ
٣	حَتَشْبِسُوت
٤	رَمِيسِيسِ الثَّانِي

(د)

١	حَتَشْبِسُوت
٢	رَمِيسِيسِ الثَّانِي
٣	اِخْنَاتُون
٤	تَحْتَمَسِ الثَّالِثِ

(ج)

12

السؤال الثاني:

أولاً: اكتب المصطلح أو المفهوم الدال على العبارات في الجدول الآتي:

المصطلح / المفهوم	العبرة
.....	١- صخور صلبة قوية تعترض مجرى النهر وتعوق حركة الملاحة فيه .
.....	٢- المدن التي يزيد سكانها عن (12) مليون نسمة.

ثانياً: أعط نتيجة واحدة ترتبت على الآتي :

١- استغلال المصريون المناجم والمحاجر في عصر الدولة الوسطى .

٢- بناء المهاجرين إلى المدن مساكن متواضعة على أرض لا يمتلكونها وبمواد غير ثابتة .

يتبع/٤

(٢)

المادة : الدراسات الاجتماعية الصف السابع الدور الأول - الفصل الدراسي الثاني - العام الدراسي ٢٠٢٢/٢٠٢٣ م

تابع السؤال الأول:

تم تحميل هذا الملف من

موقع المناهج العُمانية

٦- استقر السومريون في السهل الجنوبي للعراق منذ الألف :

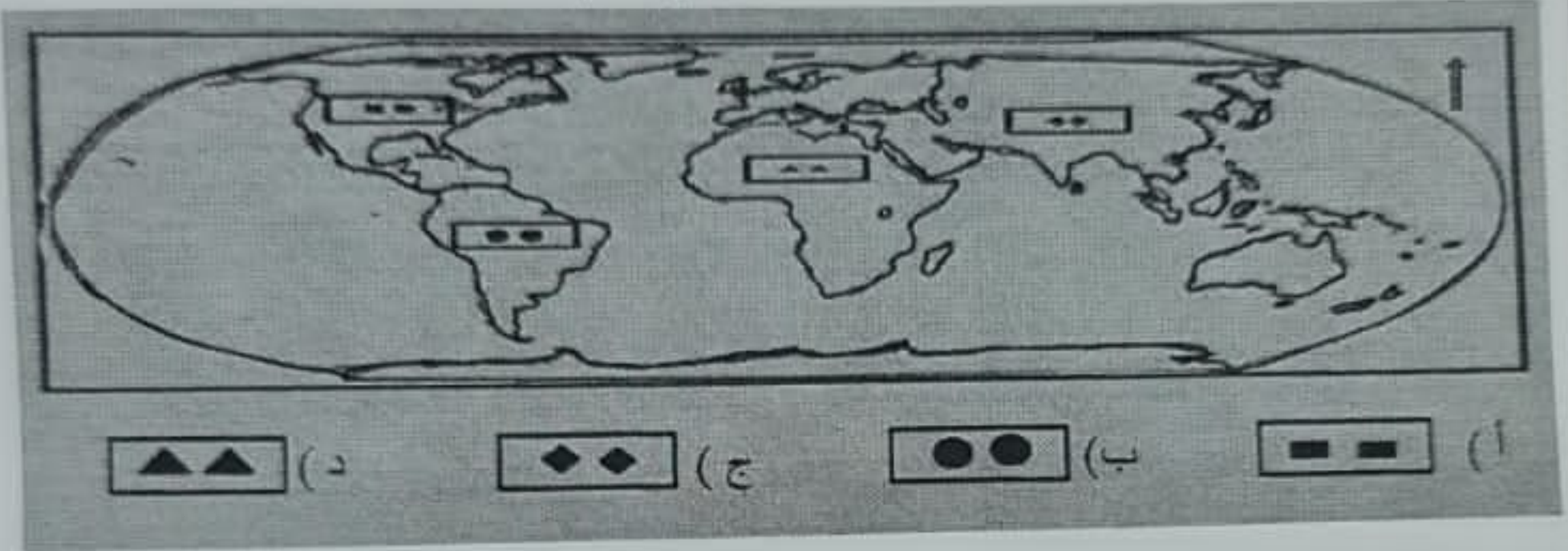
(أ) الثانية ق.م

(ب) الثالثة ق.م

(ج) الرابعة ق.م

(د) الخامسة ق.م

٧- الرمز الدال على القارة التي توجد بها المدينة الأسرع نموا في العالم :



٨- يعد الأموريون من الشعوب السامية لأنهم جاءوا من :

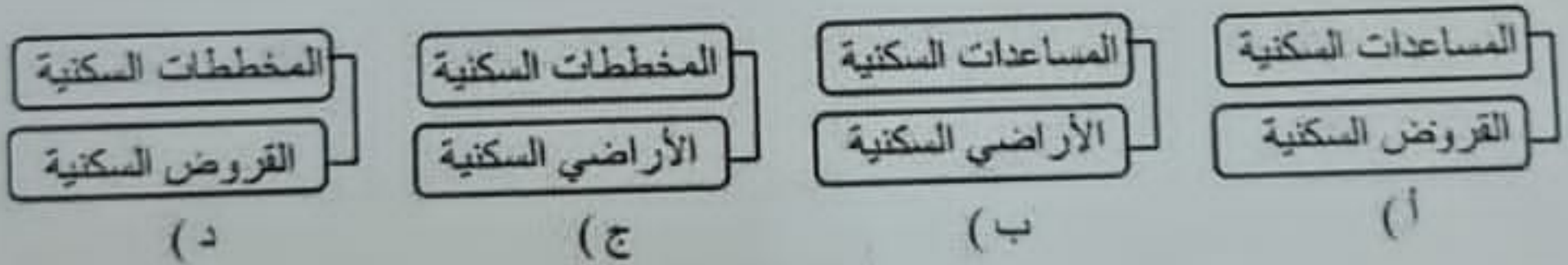
(أ) شرق آسيا

(ب) شبه جزيرة سيناء

(ج) شرق أفريقيا

(د) شبه الجزيرة العربية

٩- المخطط الصحيح للبرامج التي يشملها مجال الإسكان الاجتماعي في سلطنة عُمان:



١٠- الحرف الدال على الموقع الجغرافي الصحيح

للإهرامات في خريطة مصر القديمة المقابلة:

(أ) س

(ب) ع

(ج) ك

(د) و

