

تم تحميل هذا الملف من موقع المناهج العُمانية



*للحصول على أوراق عمل لجميع الصفوف وجميع المواد اضغط هنا

<https://almanahj.com/om>

* للحصول على أوراق عمل لجميع مواد الصف السابع اضغط هنا

<https://almanahj.com/om/7>

* للحصول على جميع أوراق الصف السابع في مادة علوم ولجميع الفصول, اضغط هنا

<https://almanahj.com/om/7science>

* للحصول على أوراق عمل لجميع مواد الصف السابع في مادة علوم الخاصة بـ الفصل الأول اضغط هنا

<https://almanahj.com/om/7science1>

* لتحميل كتب جميع المواد في جميع الفصول لـ الصف السابع اضغط هنا

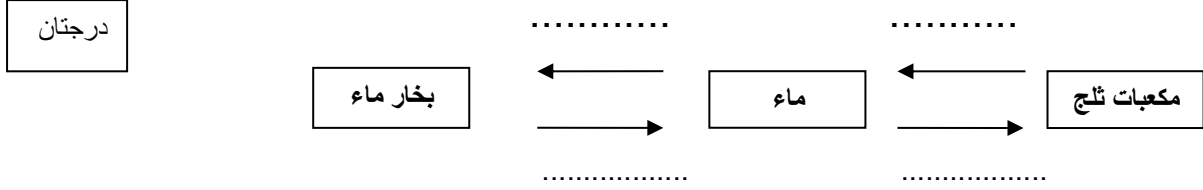
<https://almanahj.com/om/grade7>

للتحدث إلى بوت على تلغرام: اضغط هنا

https://t.me/omcourse_bot

اختبار قصير للصف السابع

السؤال الاول : اكمل الفراغات بالعمليات المناسبة :



السؤال الثاني :

رتب المواد التالية من حيث سرعة انتشار جزيئاتها :

درجتان

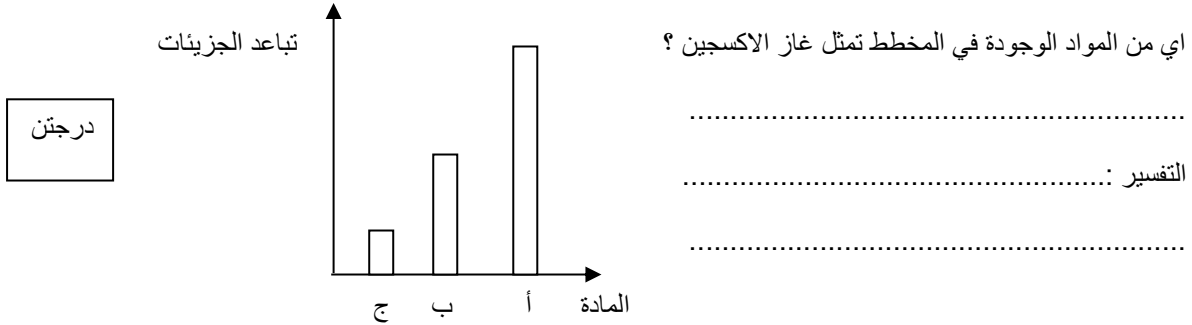
الهواء	الحديد	الماء
--------	--------	-------

.....

مع التفسير

السؤال الثالث:

الشكل التالي يمثل ثلاث أعمدة لمواد صلبة وسائلة وغازية



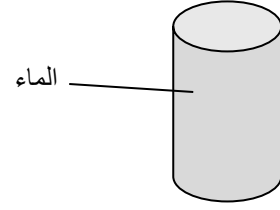
السؤال الرابع :

صل بخط بين العمود (أ) والعمود (ب)

درجة

الاكسجين	صلبة
ملح الطعام	سائلة
عصير الليمون	غازية

درجتان



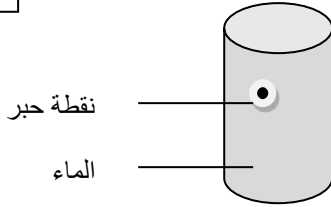
السؤال الخامس :

ما هي خصائص المادة الموجودة في الكأس من حيث :

1- الشكل :

2- الحجم :

درجة



السؤال السادس :

ماذا يحدث لسرعة انتشار نقطة الحبر عند تسخين الماء

(تزداد / تقل /)

التفسير :

.....

انتهت الاسئلة