

تم تحميل هذا الملف من موقع المناهج العمانية



امتحان تجريبي مع نموذج الإجابة في محافظة ظفار

موقع فايلاتي ← المناهج العمانية ← الصف السابع ← اجتماعيات ← الفصل الأول ← الامتحان النهائي ← الملف

تاريخ إضافة الملف على موقع المناهج: 11:06:48 2025-01-06

ملفات اكتب للمعلم اكتب للطالب الاختبارات الكترونية | اختبارات | حلول | عروض بوربوينت | أوراق عمل
منهج انجليزي | ملخصات و تقارير | مذكرات و بنوك | الامتحان النهائي للمدرس

المزيد من مادة
اجتماعيات:

التواصل الاجتماعي بحسب الصف السابع



صفحة المناهج
العمانية على
فيسبوك

الرياضيات

اللغة الانجليزية

اللغة العربية

التربية الاسلامية

المواد على تلغرام

المزيد من الملفات بحسب الصف السابع والمادة اجتماعيات في الفصل الأول

تقرير عن المواقع الأثرية في عمان

1

تقرير عن نشأة الحضارات القديمة في الوطن العربي

2

تقرير ثاني عن الحضارات القديمة

3

تقرير عن النمو السكاني

4

تقرير عن حضارة دلمون

5



امتحان مادة الدراسات الاجتماعية للصف السابع

الفصل الدراسي: الأول – الدور الأول

للعام الدراسي ١٤٤٦ / ١٤٤٧ هـ - ٢٠٢٤ / ٢٠٢٥ م

▪ عدد صفحات أسئلة الامتحان: ٧ صفحة	▪ زمن الامتحان: ساعة ونصف
▪ الدرجة الكلية للامتحان: ٤٠	▪ الإجابة في دفتر الأسئلة نفسه.
	▪ تكتب الإجابة بالقلم الأزرق أو الأسود.

اسم الطالب: _____ الصف: _____

التوقيع بالاسم		الدرجة		السؤال
اسم المراجع	اسم المصحح	بالحروف	بالأرقام	
				أولاً: الأسئلة الموضوعية (١ - ١٢)
				١٣
				١٤
				١٥
				١٦
مراجعة الجمع	جمعه			المجموع
			٤٠	المجموع الكلي

أجب عن جميع الأسئلة الآتية

أولاً: الأسئلة الموضوعية

١٢

ظل الشكل () المقترن بالإجابة الصحيحة لكل مفردة من المفردات الآتية :

(١) الإسم الذي عرفت به مجان في النصوص الأكاديمية :





الحديد

الذهب

الفضة

النحاس

(٢) الشكل الصحيح الذي يعبر أكبر معدل للكثافة السكانية (نسمة /كم²) :



(٣) الصورة التي تمثل بيئة غير جاذبة للسكان:



(٤) دولة يمنية تمكن ملوكها من توحيد معظم مناطق اليمن في دولة واحدة:

سبأ

حمير

قتبان

معين

(٥) العنصر المناخي الذي يساعد على ارتفاع الكثافة السكانية في العديد من العالم :

الرطوبة

المطر

الضغط الجوي

الرياح

(٦) المورد الطبيعي المتجدد في بيئة سلطنة عُمان:


الغاز الطبيعي

النفط

الماء

المعادن

تابع أولاً: الأسئلة الموضوعية:



٧) نوع البنية السكانية التي يمثلها الشكل أمامك :

لنوعية الاقتصادية

للاجتماعية العمرية

٨) شرط الأمان الذي يجب على صاحب المركبة الإلتزام به :

لسرعة الزائدة التجاوز فحص الإطارات استخدام الهاتف

٩) تستغل فاطمة المال الزائد من راتبها الشهري لإقامة مشروع يزيد من دخلها ،يسمى ماقامت به فاطمة :

الدخل الإدخار الاستثمار الانفاق

١٠) الترتيب الصحيح لمراحل تطور الحضارات القديمة من الأقدم إلى الأحدث :



١١) الصورة التي تشير الى الممتلكات الخاصة :



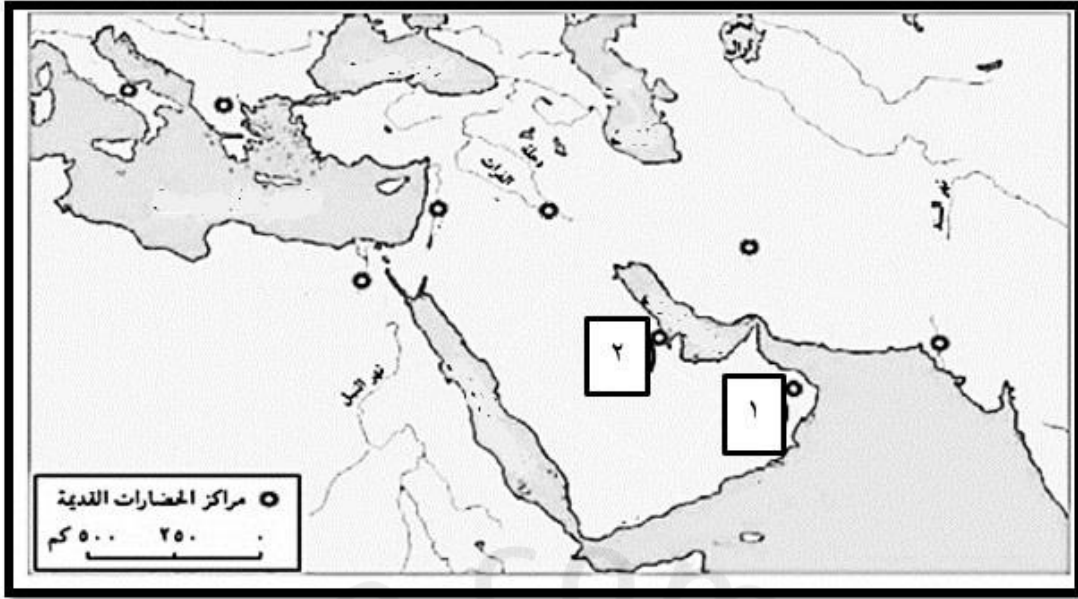
١٢) المخطط الصحيح الذي يمثل مقومات الصحة الجيدة:

<input type="checkbox"/> تجنب الدهون	ترك الوجبات السريعة	ممارسة الرياضة بانتظام	تجنب المشروبات الغازية	تجنب التدخين
<input type="checkbox"/> تجنب الدهون	قلة ممارسة الرياضة	ترك وجبة الإفطار	تناول المشروبات الغازية	تجنب التدخين
<input type="checkbox"/> تجنب الدهون	تناول الوجبات السريعة بكثرة	تجنب المشروبات الغازية	عدم ممارسة الرياضة	تجنب التدخين
<input type="checkbox"/> تجنب الدهون	الاكثار من السكريات	الاكثار من الوجبات السريعة	الاكثار من المشروبات الغازية	تجنب التدخين

ثانياً : الأسئلة المقالية

٧

١٣) أ. ادرس خريطة مراكز الحضارات القديمة ثم اجب عن الأسئلة التي تليها :



[٣]

(١) سمّ الحضارة المشار لها بالرقم (١).

(٢) اكتب اسم المسطح المائي بحر العرب في موقعه الصحيح على الخريطة.

(٣) اكتب عامل واحد ساهم في تكون الحضارات القديمة في الوطن العربي .

(٤) اعط مثالين على المكتشفات الأثرية للحضارة المشار لها بالرقم (٢).

ب. ادرس الصورة التي أمامك جيداً، ثم اجب عن الأسئلة التي تقابلها:

[٢]



(١) سمّ الأداة المستخدمة في الصورة.

(٢) اكتب اسم المادة التي يتم استخراجها في هذه

العملية .

تابع ثانياً : الأسئلة المقالية

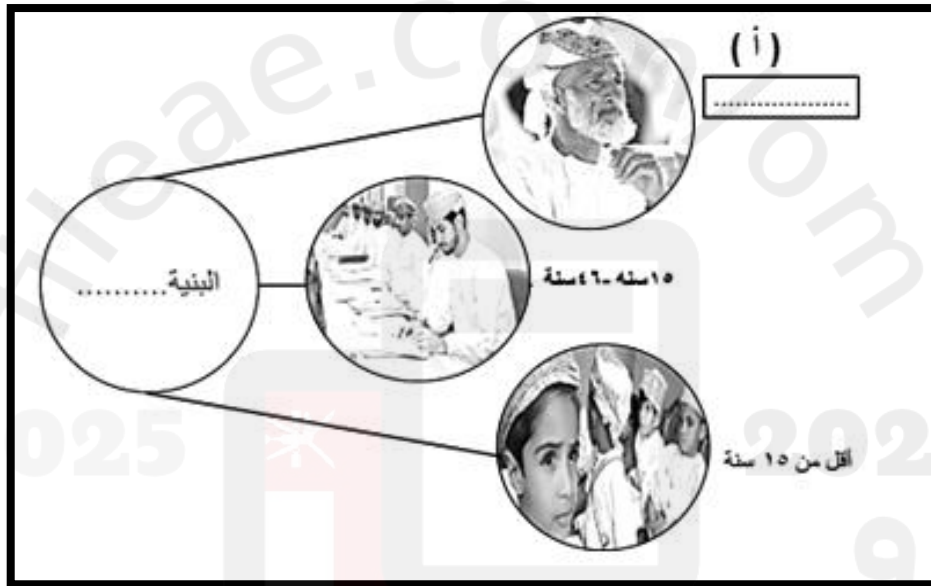
[٣]

١٤) أ. اكتب المفهوم / المصطلح الدال على العبارات الآتية :

المفهوم / المصطلح	العبارات
	١- كل ما أوجده الانسان من أجل سد احتياجاته سواء كان مادي أو غير مادي .
	٢- العصور التي كان الانسان يصنع فيها أدواته من الحجار الصوانية البسيطة .
	٣- عملية تبادل سلعة بسلعة أخرى ولا يستخدم فيها أموال .

[٢]

ب. أكمل المخطط الآتي :



ج. قارن بين الأهرامات السكانية في الجدول الآتي :

[٢]

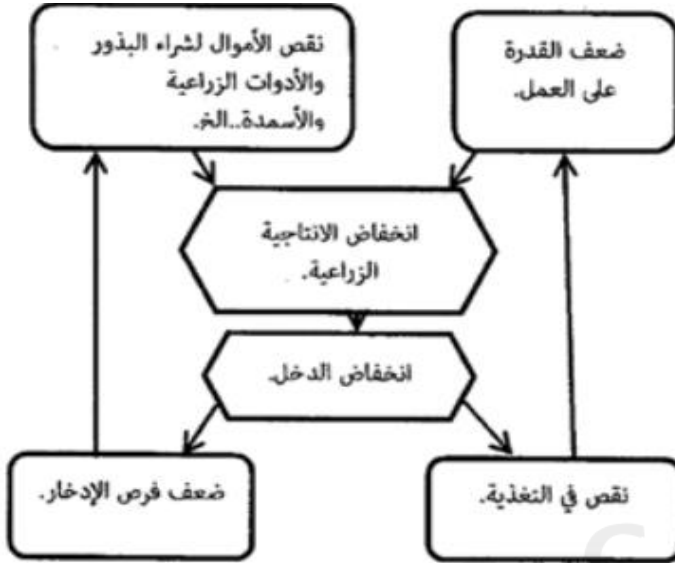
<p>ذكور</p> <p>إناث</p> <p>٦٥ سنة</p> <p>١٥ سنة</p> <p>النسبة المئوية للسكان</p>	<p>ذكور</p> <p>إناث</p> <p>٦٥ سنة</p> <p>١٥ سنة</p> <p>النسبة المئوية للسكان</p>	شكل الهرم
		الفئة التي يمثلها الهرم

تابع ثانياً : الأسئلة المقالية

٧

١٥) أ. ادرس المخطط الذي أمامك جيداً ، ثم أجب عن الأسئلة التي تليه:

[٣]



(١) اكتب اسم المشكلة الغذائية الظاهرة في

المخطط السابق.

(٢) اقترح حلاً واحداً لحل هذه المشكلة .

(٣) دلل اهتمام الأمم المتحدة بالمشكلة الغذائية وتعميق الوعي عنها.

[٢]

ب. اكتب اثنين من الآثار البيئية الناتجة عن التلوث .

ج. ادرس الشكلين الآتيين ، ثم أجب عن الأسئلة التي تليهما :

[٢]



(ب)



(ا)

الشكل الذي يمثل معدلات المواليد في المجتمعات الزراعية قديماً.

(ظلل الإجابة الصحيحة)

ب

أ

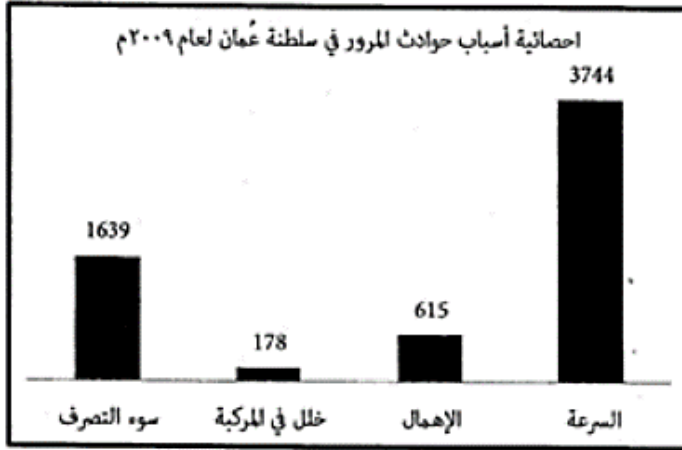
فسر إجابتك.

تابع ثانياً : الأسئلة المقالية

٧

١٦ أ. ادرس الشكل البياني الذي أمامك جيداً، ثم أجب عن الأسئلة التي تقابله:

رتب أسباب الحوادث المرورية تصاعدياً.



[٢]

(_____)

(_____)

(_____)

(_____)

[٢] ب. (أراد محمد السفر من مسقط الى صلالة ونصحه صديقه بضرورة فحص المركبة قبل السفر للتأكد من سلامتها ، ولكنه سافر دون القيام بذلك).

في ضوء العبارة السابقة اجب عن الأسئلة الآتية :

(١) ما رأيك في تصرف محمد .

(٢) اكتب شرط من شروط أمان المركبة التي يجب على محمد الالتزام بها.

ج. اقرأ النص الآتي، ثم أجب عن الأسئلة التي تليه:

[٢] عبدالرحمن يعيل اسرة مكونه من ٥ افراد ، يعمل موظفا في احدى الدوائر الحكومية براتب قدره

٨٠٠ ريال عماني ولديه اعمال تجارية يكتسب منها مبلغ قدره ٢٠٠ ريال عماني ، وينفق منها

مبلغ شهريا وقدره ٦٠٠ ريال .

(١) أحسب مقدار الدخل الشهري لأسرة عبدالرحمن .

(٢) كم يبلغ مقدار ما يدخره احمد في الشهر.

تابع ثانياً : الأسئلة المقالية

ادرس الصورة الآتية ثم اكتب اسفلها النصيحة التي تقدمها للمحافظة على الممتلكات العامة

[١]



2025

2024

انتهت الأسئلة مع الدعاء للجميع بالتوفيق والنجاح

نموذج إجابة الامتحان التجريبي للصف السابع

المادة : الدراسات الاجتماعية

الفصل الدراسي : الأول

للعام الدراسي ١٤٤٦ هـ - ٢٠٢٤م/٢٠٢٥م

المادة : الدراسات الاجتماعية **الدرجة الكلية: (٤٠) درجة.**
تنبيهه: نموذج الإجابة في (٦) .

أولاً: إجابة الأسئلة الموضوعية. الدرجة (١٢)

المفردة	الإجابة	الدرجة	الصفحة
١	الفضة	١	٢٧
٢		١	٦٤
٣		١	٥٧
٤	سبأ	١	٣٨
٥	المطر	١	٦١
٦	الماء	١	٦٨
٧	النوعية	١	٤٨
٨	فحص الإطارات	١	٩٥
٩	الاستثمار	١	٧٥
١٠	<div style="display: flex; flex-direction: column; align-items: center;"> <div style="border: 1px solid black; padding: 2px; margin-bottom: 2px;">الحجري القديم</div> <div style="border: 1px solid black; padding: 2px; margin-bottom: 2px;">الحجري الحديث</div> <div style="border: 1px solid black; padding: 2px; margin-bottom: 2px;">البرونزي</div> <div style="border: 1px solid black; padding: 2px; margin-bottom: 2px;">الحديدي</div> <div style="font-size: 2em;">↓</div> </div>	١	١٨-١٦

نموذج إجابة الامتحان التجريبي للصف السابع

المادة : الدراسات الاجتماعية

الفصل الدراسي : الأول

للعام الدراسي ١٤٤٦ هـ - ٢٠٢٤م/٢٠٢٥م

المادة : الدراسات الاجتماعية **الدرجة الكلية: (٤٠) درجة.**
تنبيهه: نموذج الإجابة في (٦) .

أولاً: إجابة الأسئلة الموضوعية. **الدرجة (١٢)**

المفردة	الإجابة	الدرجة	الصفحة					
١١		١	٨٦-٨٤					
١٢	<table border="1" style="width: 100%; border-collapse: collapse; text-align: center;"> <tr> <td style="width: 20%;">تجنب الدهون</td> <td style="width: 20%;">ترك الوجبات السريعة</td> <td style="width: 20%;">ممارسة الرياضة بانتظام</td> <td style="width: 20%;">تجنب المشروبات الغازية</td> <td style="width: 20%;">تجنب التدخين</td> </tr> </table>	تجنب الدهون	ترك الوجبات السريعة	ممارسة الرياضة بانتظام	تجنب المشروبات الغازية	تجنب التدخين	١	٧٩
تجنب الدهون	ترك الوجبات السريعة	ممارسة الرياضة بانتظام	تجنب المشروبات الغازية	تجنب التدخين				

نموذج إجابة الامتحان التجريبي للصف السابع

المادة : الدراسات الاجتماعية

الفصل الدراسي : الأول

للعام الدراسي ١٤٤٦ هـ - ٢٠٢٤م / ٢٠٢٥م

المادة : الدراسات الاجتماعية الدرجة الكلية: (٤٠) درجة.
 تنبيهه: نموذج الإجابة في (٦) .

الدرجة (٧)

أولاً: إجابة الأسئلة المقالية.

المفردة	الجزئية	الإجابة	الدرجة	الصفحة
١٣	أ	١- مجان	١	١٩
			١	١٩
		٣- الموقع الجغرافي المتميز والمتحكم في طرق المواصلات- المناخ المعتدل-وفرة موارد المياه سواء من الأنهار أم الأمطار-استغلال الانسان لعقله وجهده في تطوير أدواته وافكاره للإفادة من الظروف المحيطة به. <u>معيار التصحيح : يكتفي بإجابة واحدة</u>	١	٢٠
		٤- مقبرة عالي/الاواني الفخارية في القبور/أوان نحاسية/ تماثيل مختلفة/العقود الخواتم/ اختام كانت تستخدم للمهمات الرسمية . <u>معيار التصحيح : يكتفي بكتابه اجابتين لكل درجة.</u>	٢	٣٣-٣٢
ب	١- المنقف	١	٢٩	
	٢- اللبان	١	٢٩	

نموذج إجابة الامتحان التجريبي للصف السابع

المادة : الدراسات الاجتماعية

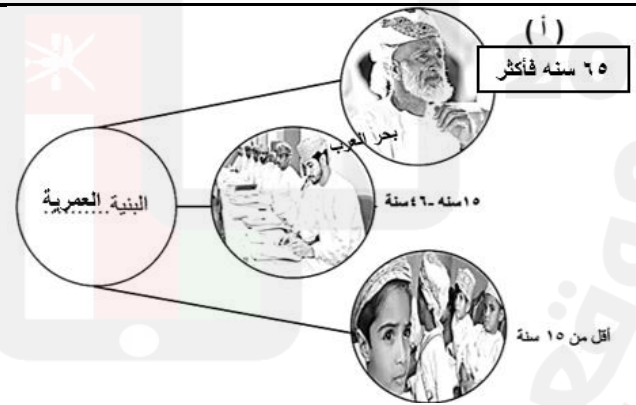
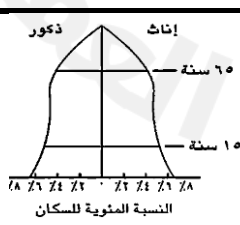
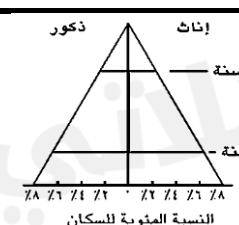




الفصل الدراسي : الأول

للعام الدراسي ١٤٤٦ هـ - ٢٠٢٤م / ٢٠٢٥م

المادة : الدراسات الاجتماعية **الدرجة الكلية: (٤٠) درجة.**
تنبيهه: نموذج الإجابة في (٦) .

الدرجة (٧)

أولاً: إجابة الأسئلة المقالية.

المفردة	الجزئية	الإجابة	الدرجة	الصفحة					
	أ	الحضارة	١	١٥					
		العصور الحجرية	١	١٧					
		المقايضة	١	١٨					
١٤	ب	 <p style="text-align: center;">(أ) ٦٥ سنة فأكثر بحر العرب ١٥ سنة - ٤٦ سنة أقل من ١٥ سنة البنية العمرية</p>	٢	٤٧					
	ج	<table border="1" style="width: 100%; border-collapse: collapse;"> <tr> <td style="width: 50%; text-align: center;">  <p style="text-align: center;">ذكور إناث ٦٥ سنة ١٥ سنة النسبة المئوية للسكان</p> </td> <td style="width: 50%; text-align: center;">  <p style="text-align: center;">ذكور إناث ٦٥ سنة ١٥ سنة النسبة المئوية للسكان</p> </td> </tr> <tr> <td style="text-align: center;"> الهرم السكاني التي يمثلها </td> <td style="text-align: center;"> المجتمع الفتى وتزيد فيه نسبة صغار السن </td> <td style="text-align: center;"> المجتمع الذي تزيد فيه نسبة متوسطي السن </td> </tr> </table>	 <p style="text-align: center;">ذكور إناث ٦٥ سنة ١٥ سنة النسبة المئوية للسكان</p>	 <p style="text-align: center;">ذكور إناث ٦٥ سنة ١٥ سنة النسبة المئوية للسكان</p>	الهرم السكاني التي يمثلها	المجتمع الفتى وتزيد فيه نسبة صغار السن	المجتمع الذي تزيد فيه نسبة متوسطي السن	٢	٤٧-٤٨
 <p style="text-align: center;">ذكور إناث ٦٥ سنة ١٥ سنة النسبة المئوية للسكان</p>	 <p style="text-align: center;">ذكور إناث ٦٥ سنة ١٥ سنة النسبة المئوية للسكان</p>								
الهرم السكاني التي يمثلها	المجتمع الفتى وتزيد فيه نسبة صغار السن	المجتمع الذي تزيد فيه نسبة متوسطي السن							



نموذج إجابة الامتحان التجريبي للصف السابع

المادة : الدراسات الاجتماعية

الفصل الدراسي : الأول

للعام الدراسي ١٤٤٦ هـ - ٢٠٢٤م/٢٠٢٥م

المادة : الدراسات الاجتماعية
الدرجة الكلية: (٤٠) درجة.
تنبيهه: نموذج الإجابة في (٦) .

الدرجة (٧)

أولاً: إجابة الأسئلة المقالية.

المفردة	الجزئية	الإجابة	الدرجة	الصفحة
		١- حلقة الفقر	١	٦٩
	أ	٢- تطوير الإنتاج الزراعي والاهتمام بالزراعة -استخدام الأساليب الحديثة في الزراعة -ضبط معدلات النمو السكاني-التوعية بالسلوكيات الغذائية السليمة والتوعية الغذائية . <u>معيار التصحيح : تقل إجابة الطالب بما يفيد المعنى</u>	١	٧٠-٦٩
		٣- خصصت يوم ١٦ أكتوبر من كل عام للاحتفال باليوم الغذائي العالمي كدعوة لتعميق الوعي بالمشكلة الغذائية .	١	٦٩
١٥	ب	الاضرار بصحة الانسان - التأثير على المناخ-تدهور الإنتاج الزراعي-اختلال توازن البيئي في المناطق التي يرتفع فيها التركيز السكاني . <u>معيار التصحيح : تقل إجابة الطالب بما يفيد المعنى</u>	٢	٧١
	ج	ب ترتفع معدلات المواليد في المجتمعات الزراعية التي تعتمد على انتاج غذائها ذاتيا ، والاسرة هي التي تقوم بالزراعة ، فهي بحاجة الى توفير اليد العاملة عن طريق أفرادها . <u>معيار التصحيح: شترط الحصول الدرجة كاملة كتابة الاختيار والتفسير الصحيح.</u> إذا كتب الطالب الاختيار أو التفسير خطأ لا تحسب له درجة .	٢	٥٢



نموذج إجابة الامتحان التجريبي للصف السابع

المادة : الدراسات الاجتماعية

الفصل الدراسي : الأول

للعام الدراسي ١٤٤٦ هـ - ٢٠٢٤م/٢٠٢٥م

المادة : الدراسات الاجتماعية
الدرجة الكلية: (٤٠) درجة.
تنبيهه: نموذج الإجابة في (٦) .

الدرجة (٧)

أولاً: إجابة الأسئلة المقالية.

المفردة	الجزئية	الإجابة	الدرجة	الصفحة
١٦	أ	١- خلل في المركبة ٢- الإهمال ٣- سوء التصرف السرعة <u>معياري التصحيح</u> : لا يشترط كتابة الأرقام. للحصول على الدرجة كاملة لابد من كتابة كل الترتيب صحيح. إذا كتب الطالب اجابتين صحيحتين تحسب له درجة فقط.	٢	٩٣ ٩٤
	ب	١- تصرف خاطئ قد يعرضه للخطر	١	٩٥
		٢- التأكد من صلاحية المصابيح الامامية والاشارات الجانبية- التأكد من سلامة مساحات الزجاج-فحص الإطارات وخاصة الاطار الاحتياطي-التأكد من مستوى الماء المبرد - التأكد من صلاحية بطارية المركبة - التأكد من مستوى زيت المحرك- التأكد من مستوى زيت الفرامل. <u>معياري التصحيح</u> : يكفي بذكر واحدة.	١	٩٥
	ج	١- ١- (٨٠٠+٢٠٠= ١٠٠٠ ريال) ٢- (١٠٠٠-٦٠٠=٤٠٠ ريال) <u>معياري التصحيح</u> : لا يشترط كتابة العملية الحسابية كاملة ويعطى الطالب درجة في حال كتابة النتيجة	٢	٧٦
	٢- ضع النفايات في مكانها المخصص	١	٧٦	

انتهى نموذج الإجابة