

شكراً لتحميلك هذا الملف من موقع المناهج العمانية



اختبار قصير ثاني في الحضارة المصرية

[موقع المناهج](#) ⇨ [المناهج العمانية](#) ⇨ [الصف السابع](#) ⇨ [اجتماعيات](#) ⇨ [الفصل الثاني](#) ⇨ [الملف](#)

تاريخ إضافة الملف على موقع المناهج: 2024-05-01 15:33:04

[إعداد: نعيمة المقبالية](#)

التواصل الاجتماعي بحسب الصف السابع



[اضغط هنا للحصول على جميع روابط "الصف السابع"](#)

روابط مواد الصف السابع على تلغرام

[الرياضيات](#)

[اللغة الانجليزية](#)

[اللغة العربية](#)

[التربية الاسلامية](#)

المزيد من الملفات بحسب الصف السابع والمادة اجتماعيات في الفصل الثاني

[الخرائط المقررة في المادة](#)

1

[مراجعة درس التحضر ومشكلات المدن](#)

2

[بنك الأسئلة مع نماذج الإجابة](#)

3

[تقرير التصحر](#)

4

المزيد من الملفات بحسب الصف السابع والمادة اجتماعيات في الفصل الثاني

[كتيب الأنشطة](#)


5

الاختبار القصير الثاني لمادة الدراسات الاجتماعية للصف السابع للفصل الدراسي الثاني للعام الدراسي ()

السؤال الأول : اختاري الإجابة الصحيحة من بين البدائل أمامك :

1- الأسرة الفرعونية الحاكمة التي اهتم ملوكها ببناء الأهرامات هي :

- أ- الأولى. ب- الثالثة. ج- الثانية. د- الرابعة.



2- تمثل خريطة المفاهيم أمامك ملوك الدولة المصرية :

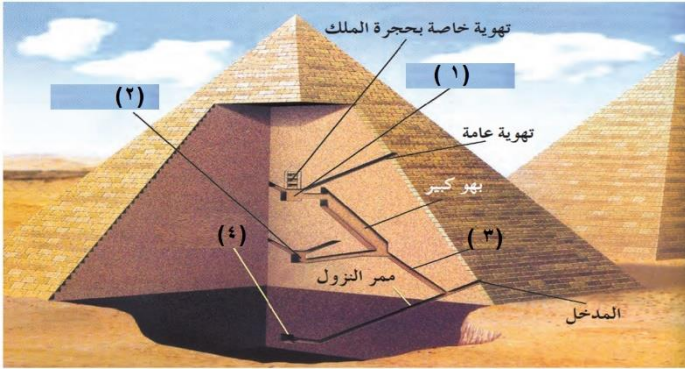
- أ- القديمة ب- الوسطى ج- الحديثة د- المستقبلية

3- يسمى المجرى الذي يلتقى فيه نهري دجلة والفرات ليكونا مجرى واحد شط :

- أ- البصرة ب- العرب ج- العراق د- الخليج

4- الرقم الذي يشير إلى حجرة دفن الملك الفرعوني في الهرم امامك هو:

- أ- 1 ب- 2 ج- 3 د- 4



5- الدولة العربية التي نشأت فيها حضارة بلاد الرافدين هي :

- أ- سوريا ب- مصر ج- العراق د- لبنان

السؤال الثاني : أجبني عن الأسئلة التالية :

1- انسبي الإنجازات التالية إلى الملك الذي تمت في عصره :

(تحتس الثالث - حتشبسوت - الملك مينا - أحمس الأول)

- أ- وحد مملكتي الشمال والجنوب في مملكة واحدة (.....)
- ب- طرد الهكسوس من مصر القديمة (.....)
- ج- أرسلت بعثة تجارية إلى بلاد بونت (.....)
- د- انتصر على اعدائه في معركة مجدو (.....)

2- سمي الآتي :

- أ- نهر من الأنهار التي قامت عليها حضارة بلاد الرافدين (.....)
ب- الإله الذي عبده توت عنخ آمون (.....)

3- ادرسي خريطة مصر القديمة أمامك ثم أجيب عن الأسئلة الآتية:



1- ما اسم الحضارة العربية التي تمثلها الخريطة أمامك

2- ضعي دائرة على العاصمة التي اتخذها الملك مينا بعد توحيد المملكتين.

3- استخرجي من الخريطة الآتي:

- أ- البحر الذي يصب فيه نهر النيل
ب- الرمز الدال على الأهرامات بالرسم

ارسمي الرمز هنا ←

8


السؤال الثالث :

1- (تأثر الهكسوس بالحضارة المصرية القديمة) برهني على صحة العبارة السابقة .


2- رتبي المعالم الأثرية الآتية من الأقدم إلى الأحدث :



()



()



()

متمنية التوفيق للجميع أ.نعيمه المقبالية

انتهت الأسئلة