

تم تحميل هذا الملف من موقع المناهج العُمانية



*للحصول على أوراق عمل لجميع الصفوف وجميع المواد اضغط هنا

<https://almanahj.com/om>

* للحصول على أوراق عمل لجميع مواد الصف السابع اضغط هنا

<https://almanahj.com/om/7>

* للحصول على جميع أوراق الصف السابع في مادة اجتماعيات ولجميع الفصول, اضغط هنا

<https://almanahj.com/om/7social>

* للحصول على أوراق عمل لجميع مواد الصف السابع في مادة اجتماعيات الخاصة بـ الفصل الثاني اضغط هنا

<https://almanahj.com/om/7social2>


* لتحميل كتب جميع المواد في جميع الفصول للـ الصف السابع اضغط هنا

<https://almanahj.com/om/grade7>

* لتحميل جميع ملفات المدرس علي بن محمد الحسان اضغط هنا

للتحدث إلى بوت على تلغرام: اضغط هنا

https://t.me/omcourse_bot



**مذكرة إثرائية لمادة
الدراسات الاجتماعية**

2020-2021

الصف السابع

الفصل الدراسي الثاني

الوحدة الخامسة

(حضارات مصر والهلل الخصب)

سؤال وجواب

إعداد :

علي بن محمد الحسن

للتواصل :

99493923

Ali 47536@moe.om

{ درس : حضارات بلاد الرافدين }

السؤال الأول : ضع علامة (✓) أو (X) أمام العبارة المناسبة مع تصحيح ما تحته خط إذا كانت العبارة خطأ :

- ١- (X) يلتقي نهري دجلة والفرات في مجرى واحد ويسمى شط العراق . شط العرب
- ٢- (X) تقع بلاد الرافدين أو بلاد ما بين النهرين في القسم الجنوبي الغربي من قارة أفريقيا . آسيا
- ٣- (✓) عاش السومريون في دويلات المدن ولم يعرفوا الوحدة السياسية .
- ٤- (✓) استطاع الملك سرجون الاول من توحيد المدن السومرية وتوحيدها وأخذ مدينة أكاد عاصمة له.
- ٥- (✓) يعد نارام سن من أشهر ملوك الأكاديين حيث تمكن من المحافظة على وحدة البلاد .
- ٦- (✓) من قوانين حمورابي أنه إذا تزوج رجل امرأة وأصيبت بمرض يستطيع أن يتزوج من غيرها .
- ٧- (X) من قوانين حمورابي أنه يحق للزوج أن يطلق زوجته المريضة . لا يحق له
- ٨- (X) توجد القوانين التي أصدرها حمورابي حاليا في متحف الكرمين بباريس . اللوفر

السؤال الثاني : (أ) أكمل الجمل التالية بكلمات مناسبة من عندك :

- ١- يصب نهري دجلة والفرات في الخليج العربي .
- ٢- ظهر في سومر نظام حكومات المدن الذي يجعل كل مدينة دولة مستقلة .
- ٣- اتخذ البابليون مدينة بابل مركزا لها واشتغلوا بالزراعة وأقاموا علاقات تجارية مع جيرانهم .
- ٤- عرفت عمان قديما باسم مجان والبحرين باسم دلمون .
- ٥- عمل حمورابي على توحيد بلاد ما بين النهرين فازدهرت في عهد الزراعة والتجارة والصناعة .
- ٦- حرص حمورابي على تنظيم دولته فأصدر القوانين والتشريعات المشهورة باسم قوانين حمورابي .
- ٧- العاصمة الأولى للأشوريين كانت مدينة آشور والثانية كانت مدينة نينوى .
- ٨- اهرامات الجيزة ومنازة الإسكندرية توجد في مصر أما حدائق بابل المعلقة فتوجد في العراق .

السؤال الثاني : (ب) أكمل الجمل التالية بكلمات مناسبة من عندك :

سجل السومريون كتاباتهم على ألواح من الطين قبل تجفيفها واستخدموا للكتابة عليها أداة صنعت من العظم أو الخيزران تشبه المسمار لذلك عرفت كتابتهم باسم الكتابة المسماية .

السؤال الثالث : عرف كل مما يلي :

- ١- بوابة عشتار .
- عبارة عن مدخل ضخم لشارع كان يصل بين القصور والمعابد وكانت تقام فيه الاحتفالات الدينية .
- ٢- الحدائق المعلقة .
- عبارة عن مدرجات زرعت بالأشجار المثمرة والأزهار وكانت المياه ترفع إليها بواسطة روافع وبنى نبوخذ نصر في وسطها قصرا لزوجته .

السؤال الرابع : ضع دائرة حول الإجابة الصحيحة من بين البدائل المعطاه :

- ١- ينبع نهري دجلة والفرات من هضبة .
(التبت - الأناضول - ارمينيا)
- ٢- من أشهر ملوك البابليين أستمتر حكمة حوالي ٤٣ سنة وعمل على توحيد بلاد ما بين النهرين
(حمورابي - سرجون الأول - نارام سن)
- ٣- توصل السومريون إلى معرفة الكتابة التي عرفت باسم الكتابة...
(المسمارية - السومرية - اللوحية)
- ٤- يتلقى حمورابي تشريعاته من إله الشمس والعدالة وهو....
(شمس - قمر - كوكب)
- ٥- الذين قضوا على حكم الكلدانيين عام ٥٣٩ ق.م هم....
(الفرس - الروم - الأحباش)
- ٦- استطاع الأمير الكلداني " نابو بولاسر " من ضم كل من بلاد سومر وآكاد تحت دولة واحدة عرفت بالدولة البابلية الثانية وبالمملكة.....
(السومرية - الأكادية - الكلدانية)

السؤال الخامس : علل ما يلي " اذكر السبب " :

- ١- يعد السهل الجنوبي لبلاد الرافدين من أخصب بقاع العالم .
لأنه يتكون من سهول رسوبية ذات تربة خصبة كما يتمتع بمناخ ملائم ساعد على استقرار السكان ونشأة الحضارات .
- ٢- تسمية السومريون بهذا الاسم ؟
نسبة إلى المنطقة التي سكنوها جنوبي العراق التي عرفت باسم " ارض سومر " .
- ٣- سميت الكتابة المسمارية بهذا الاسم ؟
لأنهم كانوا يكتبون بقلم يشبه المسمار.
- ٤- أطلق على الآشوريون هذا الاسم ؟
نسبة إلى إلههم آشور
- ٥- سميت حضارة العراق القديمة بحضارة بلاد ما بين النهرين .
لوجود نهري دجلة والفرات بها

السؤال السادس : أذكر أهم الأعمال التي قام بها كل من :

١- سرجون الثاني

تولى الحكم سنة ٧٢٢ ق. م وأهتم بالجيش فزوده بالعجلات الحربية والأسلحة المصنوعة من الحديد وشجع الفنون والآداب والتجارة والصناعة .

٢- آشور بانيبال :


تولى الحكم سنة ٦٦٨ ق. م وحكم الإمبراطورية الآشورية ٤١ عاماً وكان مغرماً بالعلم والأدب فجمع علوم البابليين وآدابهم وسجلها على ألواح طينية حفظها في مكتبة نيتوى العاصمة الجديدة للآشوريين .

٣- حمورابي :


عمل على توحيد بلاد ما بين النهرين فازدهرت في عهده الزراعة والتجارة والصناعة كما اشتهر بإصدار القوانين التشريعية التي عرفت باسمه " قوانين حمورابي " وهي توجد الآن في متحف اللوفر بباريس .

السؤال السابع : اكمل الشكل بكتابة اهم ثلاثة من معالم العمارة التي اهتم بها نبوخذ نصر

الحدائق المعلقة	بوابة عشتار	برج بابل
-----------------	-------------	----------

السؤال الثامن : اكتب ما تمثله الصور التالية :

بوابة عشتار

حمورابي يتلقى تشريعاته من
الاله شمس

الكتابة المسمارية

السؤال التاسع : أجب عن الأسئلة التالية :

س ١ : " تنقسم بلاد الرافدين جغرافياً إلى إقليمين مختلفين " ما هما ؟

ج ١ : ١- السهل الجنوبي المنبسط ويعد من أخصب بقاع العالم

٢- هضبة في شمال غربي العراق ويخترقها نهر دجلة والفرات .

س ٢ : " أصدر حمورابي الكثير من القوانين والتشريعات التي تنظم دولته " أذكر ثلاثة من هذه القوانين ؟

ج ٢ : ١- أمور القضاء والأمن . ٤ - الأحوال الشخصية والزواج والطلاق والمواريث .

٢- حقوق المحاربين ومسؤولياتهم . ٥ - القصاص والتعويضات .

٣- عقود الزراعة وشروط القروض . ٦- أجور أصحاب المهن ومسؤولياتهم