

شكراً لتحميلك هذا الملف من موقع المناهج العمانية



اختبار نهائي رسمي في محافظة الظاهرة

[موقع المناهج](#) ⇨ [المناهج العمانية](#) ⇨ [الصف السابع](#) ⇨ [اجتماعيات](#) ⇨ [الفصل الأول](#) ⇨ [الملف](#)

تاريخ نشر الملف على موقع المناهج: 05:33:21 2024-01-04

التواصل الاجتماعي بحسب الصف السابع



روابط مواد الصف السابع على تلغرام

[الرياضيات](#)

[اللغة الانجليزية](#)

[اللغة العربية](#)

[التربية الاسلامية](#)

المزيد من الملفات بحسب الصف السابع والمادة اجتماعيات في الفصل الأول

الامتحان النهائي الدور الأول الفترة الصباحية للمحافظات الداخلية ومسقط	1
الامتحان النهائي الدور الأول الفترة الصباحية لمحافظة شمال الباطنة	2
امتحان تحريبي نهائي مع نموذج الإجابة	3
حل أسئلة كتاب الطالب للوحدة الثالثة	4
حل أسئلة كتاب الطالب للوحدة الثانية	5

(٦)

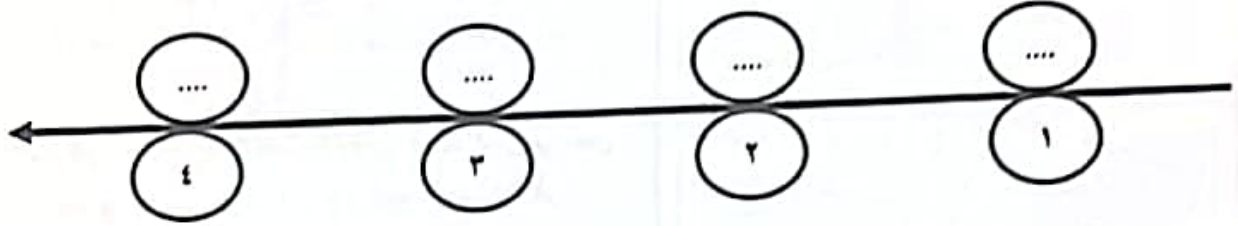
المادة : الدراسات الاجتماعية الصف : السابع - الدور الأول - الفصل الدراسي الأول - الفترة الصباحية
العام الدراسي ٢٠٢٣/٢٠٢٤م

٦

السؤال الرابع : أجب عن الأسئلة التالية :

أولاً : رتب الأحداث التاريخية التالية ترتيباً صحيحاً وذلك بوضع الرموز الصحيحة على المسطرة الزمنية أدناه .

- (أ) عرف الإنسان الزراعة واستأنس الحيوانات .
(ب) بدأ الإنسان باستخدام النقود .
(ج) اعتمد الإنسان في غذائه على جمع ثمار الأشجار وصيد الحيوانات .
(د) استخدم الإنسان معدن البرونز في صناعة أدواته وأسلحته .



ثانياً : اذكر مثلاً على صحة العبارات التالية :
(١) استخدام اللبن كمطهر قديماً .

(٢) إسهامات السلطنة في الحد من الهجرة من الريف إلى المدن .

ثالثاً : انظر إلى الصورة أدناه ثم اجب عن الأسئلة .



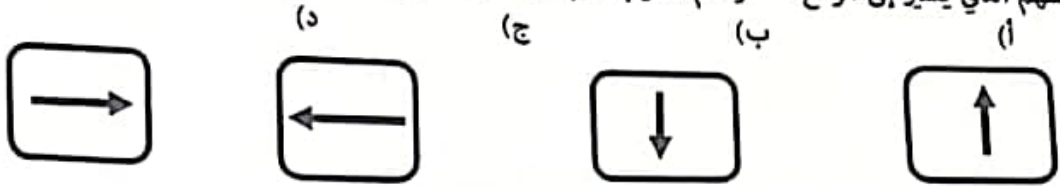
- (١) توضح الصورة أحد الممتلكات العامة التي تشرف عليها الدولة هي.....
(٢) ما دورك كطالب في المحافظة على المؤسسة الموضحة في الصورة؟

المادة : الدراسات الاجتماعية الصف : السابع - الدور الأول - الفصل الدراسي الأول - الفترة الصباحية
العام الدراسي ٢٠٢٣/٢٠٢٤م

تابع : السؤال الأول : ضع دائرة حول رمز الإجابة الصحيحة لكل مفردة من المفردات الآتية:

٦- الفئة العمرية المنتجة بالمجتمع :
(أ) أقل من ١٥ سنة (ب) من ١٥-٦٤ سنة (ج) من ٤٠-٦٥ سنة (د) أكثر من ٦٥ سنة

٧- السهم الذي يشير إلى موقع حضارة أم النار بالنسبة لحضارة دلمون:



٨- السبب الرئيسي في حوادث المرور في سلطنة عمان عام ٢٠٢٠م وفقا للجدول التالي :

٢٨٢	سوء التصرف
٢٠٦	الإهمال
٧٠٢	السرعة
٣٠	التجاوز الخاطئ

(أ) السرعة (ب) الإهمال
(ج) التجاوز الخاطئ (د) سوء التصرف

٩- العمود الصحيح الذي يمثل مقومات الصحة الجيدة :

(أ) (ب) (ج) (د)

تناول وجبة الإفطار	التقليل من الرياضة	ممارسة الرياضة بانتظام	تجنب التدخين
الاكثار المشروبات الغازية	تجنب التدخين	تناول وجبة الإفطار	ممارسة الرياضة بانتظام
تجنب التدخين	تناول وجبة الإفطار	تجنب المشروبات الغازية	تناول وجبة الإفطار
ممارسة الرياضة بانتظام	تجنب المشروبات الغازية	التدخين المستمر	تجنب المشروبات الغازية

١٠- الاسم الذي أطلقه العرب على اليمن :

(أ) اليمن السعيدة (ب) الأرض المباركة (ج) يمن الخير (د) اليمن الخضراء

١١- قام أحمد بتصفح موقع المركز الوطني للإحصاء والمعلومات ووجد أن عدد المواليد في محافظته في عام ٢٠٢٢م بلغ (٥٠٠٠) مولود وعدد الوفيات في نفس العام (٤٠٠) حالة وفاة ؛ فإن الزيادة الطبيعية في محافظته تبلغ :

(أ) ٤٠٠ (ب) ٤٦٠٠ (ج) ٥٠٠٠ (د) ٥٤٠٠

(5)

المادة : الدراسات الاجتماعية الصف : السابع - الدور الأول - الفصل الدراسي الأول - الفترة الصباحية
العام الدراسي ٢٠٢٣/٢٠٢٤م


تابع السؤال الثالث : تمعن خريطة سلطنة عمان التالية ثم اجب عن الأسئلة :



١- ضع الرمز ○ على المحافظة العمانية التي تعتبر الموطن الأصلي لشجرة اللبان .

٢- حدد بالرمز △ الولاية التي عثرفي جامع فكتتها على (٢٧٠) قطعة فضية تعود إلى الألف الثالثة قبل الميلاد .

٣- رقم المحافظة العمانية التي اتخذ الفرس من إحدى مدنها مركزا لتجارتهم البحرية في عصر الدولة الساسانية (.....)



٤- رقم المحافظة العمانية التي توجد بها الآثار في الصورة المقابلة (.....)

ثالثا : اقرأ الفقرة التالية ثم اجب عن الأسئلة التي تليها :
(يعمل أحمد في إحدى الشركات ويتقاضى أجراً شهرياً قدره ألف (١٠٠٠) ريالاً عمانياً ، ويقوم باستقطاع منة (١٠٠) ريال عماني من أجره ويضعها في حساب خاص لاستخدامه عند الضرورة . ويقوم بشراء بضاعة بقيمة منتي (٢٠٠) ريالاً ويبيعهها في السوق .

١- المبلغ الذي يدل على الاستثمار (أكمل)

٢- المبلغ الذي يدل على الدخل (أكمل)

٣- المبلغ الذي يدل على الادخار (أكمل)

٦


أجب عن الأسئلة التالية :
اكتب اسم المفهوم / المصطلح الدال على كل عبارة من العبارات التالية :

المفهوم / المصطلح	العبارة
.....	الوعي بقواعد المرور والسلوك الصحيح في تطبيقها
.....	عدد السنوات التي يعيشها الفرد الواحد

ثانياً : أذكر اثنين من نتائج الابتعاد عن التدخين .

-
-

ثالثاً : انظر إلى الشكل التالي ثم اجب عن الأسئلة التي تليه :



١) احسب الكثافة السكانية للمدينة أعلاه .

-
-
-

٢) يفضل الإنسان العيش في المناطق :

اختر الإجابة الصحيحة بوضع علامة (✓) .

() الجبلية () السهلية

علل اجابتك .

-
-

انتهت الأسئلة مع أطيب التمنيات بالتوفيق

(١)


المادة : الدراسات الاجتماعية الصف : السابع - الدور الأول - الفصل الدراسي الأول - الفترة الصباحية
العام الدراسي ٢٠٢٣/٢٠٢٤ م

السؤال الأول: ضع دائرة حول رمز الإجابة الصحيحة لكل مفردة من المفردات الآتية:

١٢

١- من الممتلكات العامة والتي تعد من الشواهد التاريخية على حضارات قامت على أرض الدولة وتعمل على تنشيط السياحة :


(ب)



(أ)



(د)



(ج)



٢- دولة ما أقيم فيها أول تعداد عام ٢٠١٤ م والثاني عام ٢٠١٩ م ؛ لذا فمن المتوقع أن يقام التعداد الثالث في العام :

٢٠٢٥ (د)

٢٠٢٤ (ج)

٢٠٢٣ (ب)

٢٠٢٢ (أ)

٣- الحضارة التي اطلقت على عمان أسم مجان هي :

(د) الفرعونية

(ج) الآشورية

(ب) الأكادية

(أ) السومرية

٤- من الموارد الطبيعية غير المتجددة :

(د) التربة

(ج) النفط

(ب) الماء

(أ) الهواء

٥- الإنجاز الذي حققه الإنسان في الصورة المقابلة ظهر في

لعصر :

(ب) البرونزي

(أ) الحديدي

(د) الحجري القديم

(ج) الحجري الحديث



(٤)

المادة : الدراسات الاجتماعية الصف : السابع - الدور الأول - الفصل الدراسي الأول - الفترة الصباحية
العام الدراسي ٢٠٢٣/٢٠٢٤ م

تابع السؤال الثاني : أجب عن الأسئلة التالية :

ثالثاً : صنف أرقام العبارات التالية بما يعد وصفاً صحيحاً للحضارات التي قامت في شبه الجزيرة العربية :

- ١- يضم موقعها ما يزيد عن خمسين مدفناً .
- ٢- توجد بها مقبرة عالي .
- ٣- بنو مدنهم محاطة بالأسوار .
- ٤- يتميز فخارها بتعدد الألوان والزخارف .
- ٥- تتواجد آثارها حالياً في إمارة أبو ظبي .
- ٦- توجد آثار للمعابد في منطقة باربار .

حضارة أم النار	حضارة دلمون
.....
.....
.....

لسؤال الثالث : أجب عن الأسئلة التالية :

٨

ولاً: أكمل المخطط التالي والذي يوضح حلقة الفقر بالعبارات بين القوسين :
(ضعف فرص الادخار ، نقص الأيدي العاملة ، ضعف القدرة على العمل ، انخفاض الدخل)

