

## شكراً لتحميلك هذا الملف من موقع المناهج العمانية



## أسئلة الاختبار الرسمي

[موقع المناهج](#) ⇨ [المناهج العمانية](#) ⇨ [الصف السابع](#) ⇨ [اجتماعيات](#) ⇨ [الفصل الأول](#) ⇨ [الملف](#)

تاريخ نشر الملف على موقع المناهج: 09:47:39 2023-01-09

## التواصل الاجتماعي بحسب الصف السابع



## روابط مواد الصف السابع على تلغرام

[الرياضيات](#)

[اللغة الانجليزية](#)

[اللغة العربية](#)

[التربية الاسلامية](#)

## المزيد من الملفات بحسب الصف السابع والمادة اجتماعيات في الفصل الأول

<a href="#">ملخص شامل للمادة</a>	1
<a href="#">ملخص الوحدة الأولى الحضارات القديمة في عمان وشبه الجزيرة العربية</a>	2
<a href="#">نموذج أسئلة الاختبار الرسمي</a>	3
<a href="#">أسئلة الاختبار الرسمي مسقط</a>	4
<a href="#">نموذج أسئلة الاختبار الرسمي (جنوب الشرقية)</a>	5

(٢)  
المادة: الدراسات الاجتماعية - الصف: السابع - الدور الأول - الفصل الدراسي الأول  
العام الدراسي ٢٠٢٢/٢٠٢٣

تابع السؤال الأول:

٥- العام الميلادي الذي تم فيه إجراء أول تعداد شامل للسكان في سلطنة عُمان:  
(د) ٢٠٢٠ (ج) ٢٠١٠ (ب) ٢٠٠٣ (أ) ١٩٩٣


٦- البنية التي يقصد بها نسبة عدد الماكورال الإناث في المجتمع:  
(أ) العمرية (ب) النوعية (ج) الاجتماعية (د) الاقتصادية

٧- إذا علمت أن عدد سكان السلطنة في منتصف عام ٢٠١٠ م بلغ ( ٢٧٧٣٤٧٩ ) نسمة وكان عدد المواليد ( ٥٦٠٠٠ ) في نفس العام، فإن الطريقة الصحيحة لحساب معدل المواليد:

(أ)  $\frac{٢٧٧٣٤٧٩}{٥٦٠٠٠} \times ١٠٠٠$  (ب)  $\frac{١٠٠٠ \times ٢٧٧٣٤٧٩}{٥٦٠٠٠}$  (ج)  $\frac{١٠٠٠ \times ٥٦٠٠٠}{٢٧٧٣٤٧٩}$  (د)  $\frac{٢٧٧٣٤٧٩}{٥٦٠٠٠} \times ١٠٠٠٠$

٨- الدولة التي تحل المرتبة الأولى في معدل

- الوفيات من خلال الشكل المقابل:  
(أ) قطر (ب) السعودية (ج) الكويت (د) مصر



٩- تناثر العلاقة بين السكان والموارد الطبيعية:

- (أ) سلبًا بقلّة عدد السكان.  
(ب) سلبًا بزيادة عدد السكان.  
(ج) سلبًا وإيجابًا بزيادة عدد السكان.  
(د) سلبًا وإيجابًا بقلّة عدد السكان.

(١)  
المادة: الدراسات الاجتماعية - الصف: السابع - الدور الأول - الفصل الدراسي الأول  
العام الدراسي ٢٠٢٢/٢٠٢٣

أجب عن جميع الأسئلة الآتية

السؤال الأول: ضع دائرة حول رمز الإجابة الصحيحة لكل مفردة من المفردات الآتية:

١- الموقع الأثري الذي تم فيه اكتشاف المقابر الموضحة في الصورة المقابلة:

- (أ) الوطية (ب) البليد (ج) سيوان (د) بات



٢- الحضارة التي أطلقت على عُمان قديماً اسم مجان:

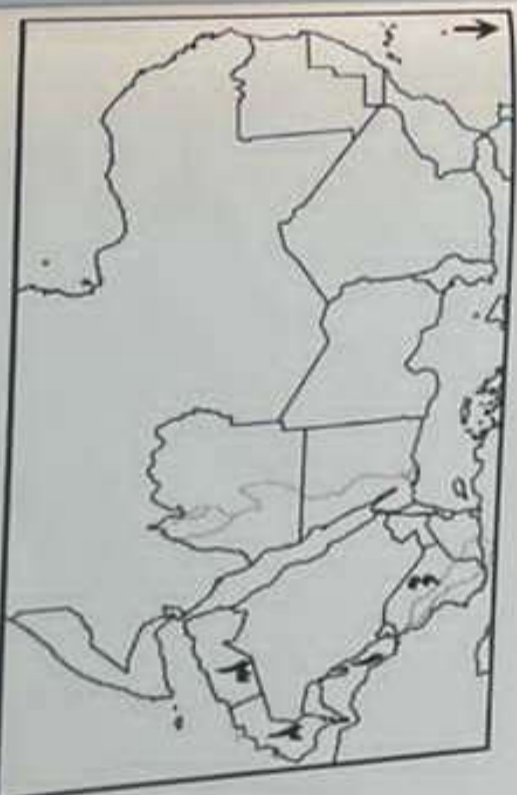
- (أ) السومرية (ب) الآكادية (ج) الآشورية (د) الفرعونية

٣- الشكل الصحيح الذي يمثل المنجزات والخصائص التي ارتبطت بالعصر الحديدي:

ظهور المدن التجارية	استخدام النقود	ظهور المدن التجارية
ظهور نظام المقايضة	ظهور المدن التجارية	ظهور نظام المقايضة
تخصن صناعة السفن	تخصن صناعة السفن	تخصن صناعة السفن
زيادة التبادل التجاري	زيادة التبادل التجاري	زيادة التبادل التجاري
تخصن صناعة السفن	تخصن صناعة السفن	تخصن صناعة السفن
ظهور المدن التجارية	ظهور المدن التجارية	ظهور المدن التجارية

٤- الرقم الذي يشير إلى الموقع الصحيح لحضارة ديلون في الخريطة المقابلة:

- (أ) ١ (ب) ٢ (ج) ٣ (د) ٤



المادة: الدراسات الاجتماعية - الصف: السابع - الدور الاول - الفصل الدراسي الاول  
العام الدراسي ٢٠٢٢/٢٠٢٣ م

(٤)

تابع السؤال الثاني:

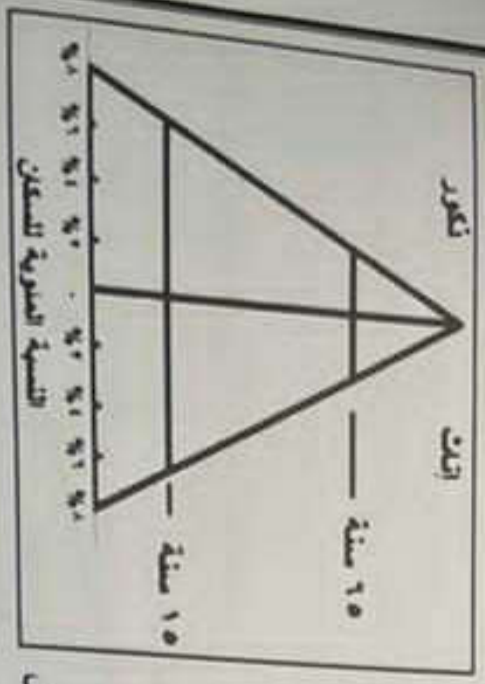
ج- املك شكل يمثل الهرم السكاني ادرسه جيداً ثم اجب عن الأسئلة الآتية:  
١- اكتب نوع الهرم السكاني الذي يوضحه الشكل.

.....

٢- يمثل هذا الهرم المجتمع  الفتي  المسن

ضع علامة (✓) على الإجابة الصحيحة

٣- ظلل الفئة العمرية المنتجة في الهرم السكاني المقابل



د- رتب مراحل تطور الحضارة القديمة وفقاً لتسلسلها التاريخي ( من الأقدم إلى الأحدث ) بكتابة الأرقام من (٤-١):

- ( ) العصر الحديدي
- ( ) العصر الحجري القديم
- ( ) العصر البرونزي
- ( ) العصر الحجري الحديث

(٣)  
المادة: الدراسات الاجتماعية - الصف: السابع - الدور الاول - الفصل الدراسي الاول  
العام الدراسي ٢٠٢٢/٢٠٢٣ م

تابع السؤال الاول:

١- الصورة التي تمثل شاهداً تاريخياً تساعد على تخطيط قطاع السياحة في السلطنة:



١١- مصطلح يقصد به استغلال المال الرائد عن الحاجة لإقامة مشاريع تزيد من الدخل:

(أ) الاستثمار (ب) الادخار (ج) الإنفاق (د) الاستثمار

١٢- السبب الرئيسي في زيادة حوادث المرور بسلطنة عمان

- (أ) سوء التصرف (ب) السرعة
- (ج) التجاوز الخطأ (د) الإهمال

عدد الحوادث	السبب
١٦٣٩	سوء التصرف
٣٧٤	التجاوز الخطأ
٣٧٤٤	السرعة
٦١٥	الإهمال

١٢

السؤال الثاني:

١- اكتب المصطلح أو المفهوم المناسب للعبارة الآتية:

١- كل ما أوجده الإنسان من أجل سد احتياجاته سواء كان مادي أو غير مادي.

٢- عدد السنوات التي يعيشها الفرد الواحد.

ب- علل: يفضل السكان الانتشار في المناطق التي تشرف على المسطحات المائية

السؤال الرابع :  
 ا- صف الموارد الطبيعية الواردة بين القوسين الى موارد متجددة وموارد غير متجددة في الجدول التالي:

موارد غير متجددة	موارد متجددة
٣-.....	١-.....
٤-.....	٢-.....



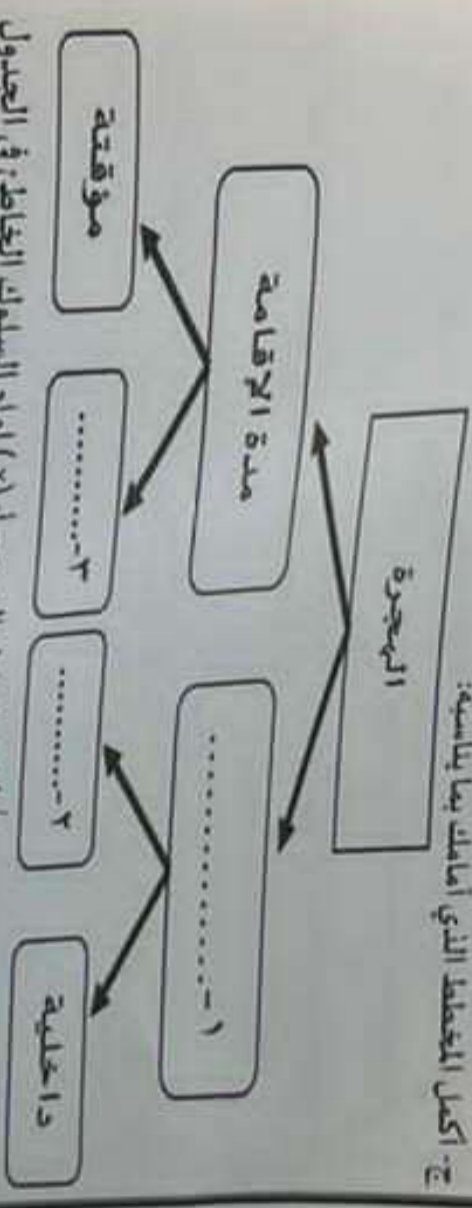
- ب- مستعينا بالصورة المقابلة اجب عن الاسئلة الاتية:
- ١- اسم الممارسة الضارة بالصحة التي تشير اليها الصورة.  
 .....  
 ٢- اكتب اثنين من اضرار هذه الممارسة على الفرد.  
 .....  
 .....  
 ٣- اقترح حلا لتجنب هذه الممارسة.  
 .....  
 .....

٦
---

السؤال الثالث:

- اجب عن الاسئلة الاتية:
- ١- اكتب اثنين من المواقع الازرية الدالة على استخراج النحاس وتصنيعه قديما في عمان:  
 .....  
 ٢- .....  
 ب- دلل على معرفة الإنسان العماني زراعة اللؤلؤ منذ العصور الحجرية القديمة  
 .....

ج- اكمل المخطط الذي امامك بما يناسبه:



السلوكيات	تقيم السلوك
١ طالب يصعد الى الحافلة قبل توقفها.	م
٢ رب أسرة يصرف الدخل الشهري بالكامل في الأسبوع الأول من الشهر.	م
٣ طالب يطلق مفاتيح المفتاح والأوراق بهاية الدوام قبل مغادرة الصف.	م
٤ طفل صغير يلبس حزام الأمان أثناء قيادة والده للسيارة.	م

٨
---

(٧)

المادة: الدراسات الاجتماعية - الصف: السابع - الدور الأول - الفصل الدراسي الأول  
العام الدراسي ٢٠٢٢/٢٠٢٣ م

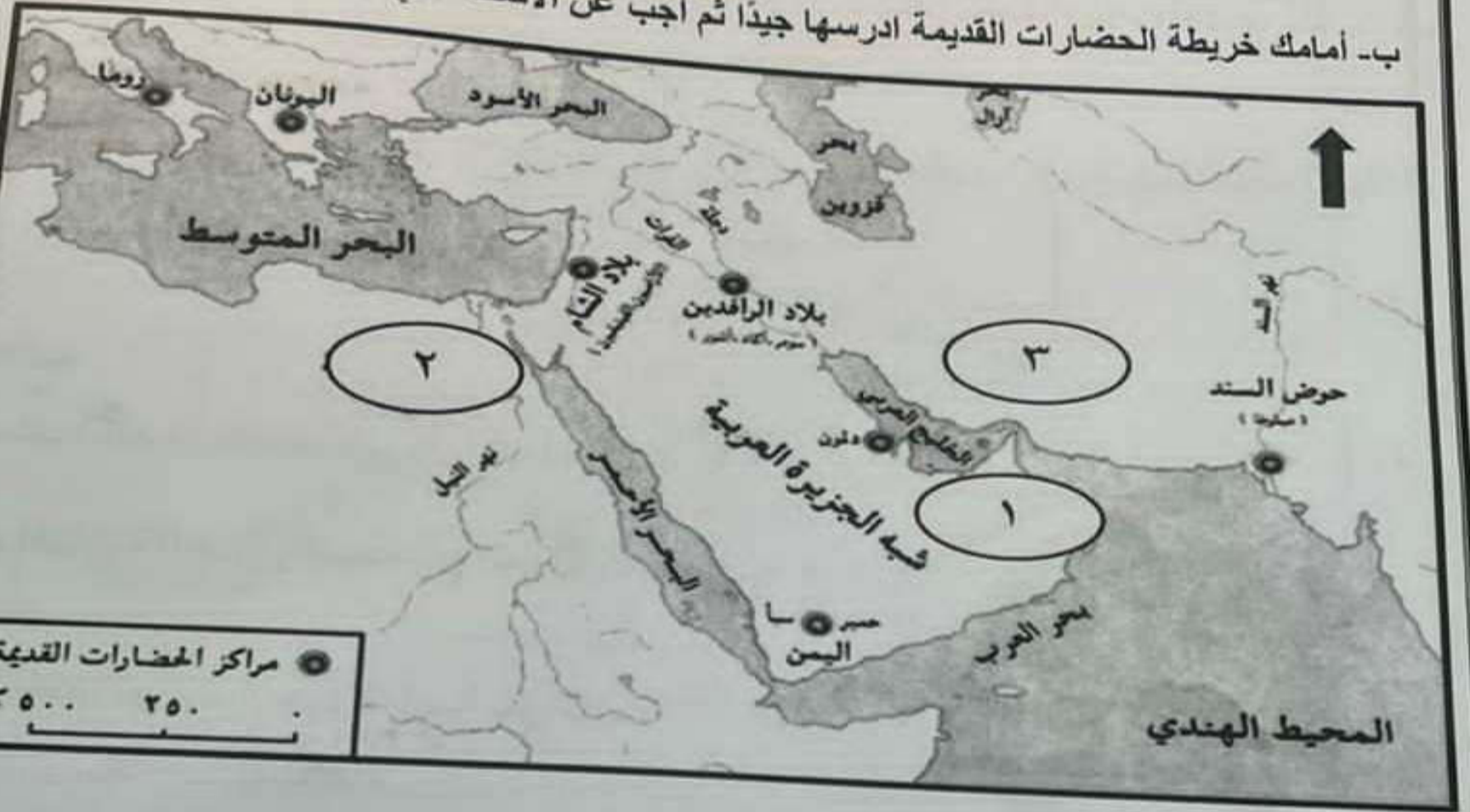
السؤال الخامس :

أ- اذكر نتيجة واحدة مترتبة لكل مما يأتي:

١- انهيار سد مارب.

٢- انتشار ظاهرة حوادث الطرق.

ب- أمامك خريطة الحضارات القديمة ادرسها جيدًا ثم أجب عن الأسئلة التي تليها:



١- استخراج من الخريطة الآتي:

أ- الرقم الذي يدل على الموقع الصحيح لحضارة مجان ( )

ب- الجهة التي تقع فيها حضارة بلاد الشام بالنسبة للبحر المتوسط .....

٢- ضع دائرة على الحضارة التي أطلق عليها اليونان اسم بلاد العرب السعيدة.

٣- اعطِ دليلًا واحدًا على وجود تواصل بين حضارة مجان والحضارة المشار إليها برقم ٢ على الخريطة.

٦

انتهت الأسئلة مع الدعاء للجميع بالتوفيق والنجاح