

تم تحميل هذا الملف من موقع المناهج العمانية



الامتحان النهائي الرسمي الدور الأول بمحافظة شمال الباطنة

[موقع المناهج](#) ⇨ [المناهج العمانية](#) ⇨ [الصف السابع](#) ⇨ [اجتماعيات](#) ⇨ [الفصل الثاني](#) ⇨ [الملف](#)

تاريخ إضافة الملف على موقع المناهج: 08:03:41 2024-06-06

التواصل الاجتماعي بحسب الصف السابع



اضغط هنا للحصول على جميع روابط "الصف السابع"

روابط مواد الصف السابع على تلغرام

[الرياضيات](#)

[اللغة الانجليزية](#)

[اللغة العربية](#)

[التربية الاسلامية](#)

المزيد من الملفات بحسب الصف السابع والمادة اجتماعيات في الفصل الثاني

الامتحان النهائي الرسمي الدور الأول بمحافظة ظفار	1
نموذج إجابة الامتحان النهائي الرسمي الدور الأول بمحافظة الشرقية	2
امتحان تحريبي نهائي في محافظة ظفار	3
مواصفات الورقة الامتحانية	4
مراجعة درس الحضارة المصرية القديمة	5

(١)

المادة: الدراسات الاجتماعية الصف: السابع الدور الأول-الفصل الدراسي الثاني-العام الدراسي ٢٠٢٣/٢٠٢٤ م (صباح)

أجب عن جميع الأسئلة الآتية

السؤال الأول: ضع دائرة حول رمز الإجابة الصحيحة لكل مفردة من المفردات الآتية:

١- عدد المراحل التي مر بها تطور المجتمعات البشرية تبعاً للمنجزات التي حققها الإنسان:

- (أ) ثلاثة. (ب) أربعة. (ج) خمسة. (د) ستة.

٢- المدينة العمانية التي تقع على بحر العرب:

- (أ) بركاء. (ب) خصب. (ج) صحار. (د) صلالة.

٣- الرقم الذي يشير إلى المدينة الأسرع نمواً في العالم من خلال الخريطة التي أمامك:



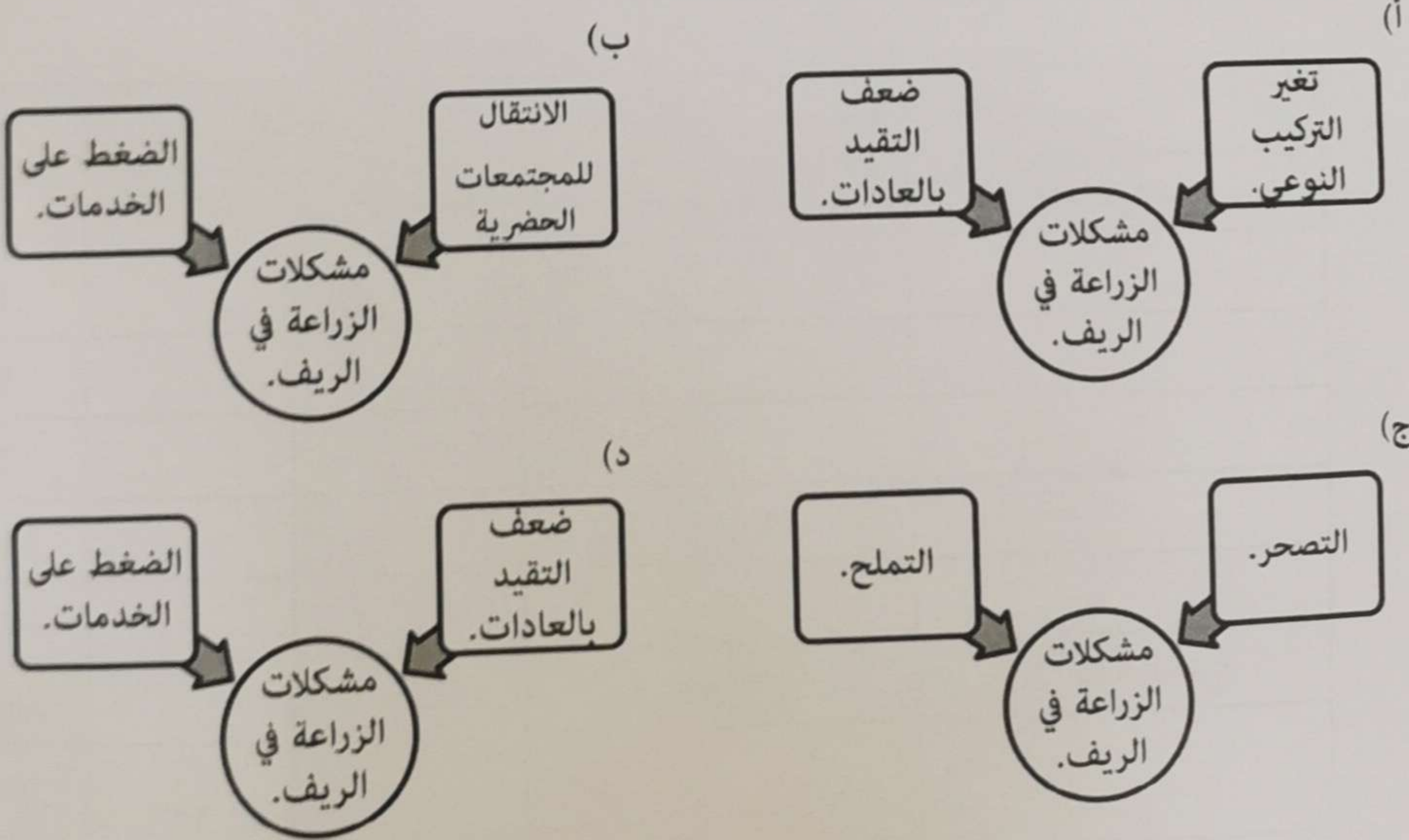
(أ) ١.

(ب) ٢.

(ج) ٣.

(د) ٤.

٤- المخطط الصحيح الذي يمثل مشكلات الزراعة في الريف:



د: الدراسات الاجتماعية الصف: السابع الدور الأول-الفصل الدراسي الثاني-العام الدراسي ٢٠٢٣/٢٠٢٤ م (صباح)

بيع السؤال الأول:

الشكل الذي يُمثل الوصف الصحيح لحدائق بابل المعلقة:

(أ)	وصف حدائق بابل المعلقة.	مدرجات زرعت بالأشجار.	بني في وسطها قصر.
(ب)	وصف حدائق بابل المعلقة.	يبلغ ارتفاعها ٦٠ متراً.	يوجد أسفلها هيكل للألهة.
(ج)	وصف حدائق بابل المعلقة.	تقام فيها الاحتفالات الدينية.	مدخل ضخم يصل إلى المعابد.
(د)	وصف حدائق بابل المعلقة.	يوجد بها معبد بين الصخور.	تميزت بوجود المسلات والتمائيل.

٦- مؤسس الدولة الوسطى في مصر الفرعونية:

(أ) أمنحوتب الثاني. (ب) أمنحوتب الرابع. (ج) تحتمس الثالث. (د) رمسيس الثاني.

٧- المدينة المصرية التي كانت مقراً لعبادة الإله آمون:

(أ) ممفيس. (ب) أسوان. (ج) طيبة. (د) أسيوط.

٨- الجدول الصحيح الذي يُمثل الأحداث التاريخية للدولة البابلية الثانية (الكلدانيون):

(أ)	أحداث الدولة الكلدانية.	بناء برج بابل.	سيطرة أحد ملوكها على القدس.
(ب)	أحداث الدولة الكلدانية.	معرفة الكتابة المسماوية.	تأسيس نظام حكومات المدن.
(ج)	أحداث الدولة الكلدانية.	إخضاع المدن السومرية.	اتخاذ آكاد عاصمة للدولة.
(د)	أحداث الدولة الكلدانية.	اتخاذ نينوى عاصمة لهم.	تزويد الجيش بأسلحة مصنوعة من الحديد.

٩- الظاهرة الناتجة عن توسع بعض المدن لتضم مناطق زراعية خصبة:

(أ) الزحف الصحراوي. (ب) الموقع الحضري. (ج) الرعي الجائر. (د) الزحف الحضري.

تابع السؤال الأول:

١٠- العام الذي استقر فيه الآراميون ببلاد الشام في فترة ما قبل الميلاد:

(د) ١٨٠٠

(ج) ١٦٠٠

(ب) ١٤٠٠

(أ) ١٢٠٠

١١- الموطن الأصلي للشعوب السامية:

(د) شبه الجزيرة العربية.

(ج) بلاد فارس.

(ب) بلاد المغرب.

(أ) شبه القارة الهندية.

١٢- الرمز النقطي الذي يشير إلى تركيز الخدمات في الموقع الحضري من خلال المخطط المقابل:



(ب) ◆

(أ) ▲

(د) ■

(ج) ●

السؤال الثاني:

أولاً:

(أ) أذكر نتيجة واحدة ترتبت على كل من:

١- استخدام الإنسان للمحراث في مرحلة الزراعة.

٢- تفتيت الملكية الزراعية في الريف.

(ب) علل:

١- النمو السريع للمنازل في مدن الأكوخ.

٢- ضعف إنتاجية الأراضي الزراعية في المجتمعات الريفية.

(٤)

مادة: الدراسات الاجتماعية الصف: السابع الدور الأول-الفصل الدراسي الثاني-العام الدراسي ٢٠٢٣/٢٠٢٤ م (صباحي)

أجب السؤال الثاني:

انياً:

انسب الانجازات الحضارية في الجدول الآتي إلى المرحلة التي تنتمي إليها في تطور المجتمعات البشرية.

م	الانجازات الحضارية.	المرحلة.
١	كثرة وتنوع الحاصلات الزراعية.	
٢	صنع أدوات بسيطة للدفاع عن النفس.	

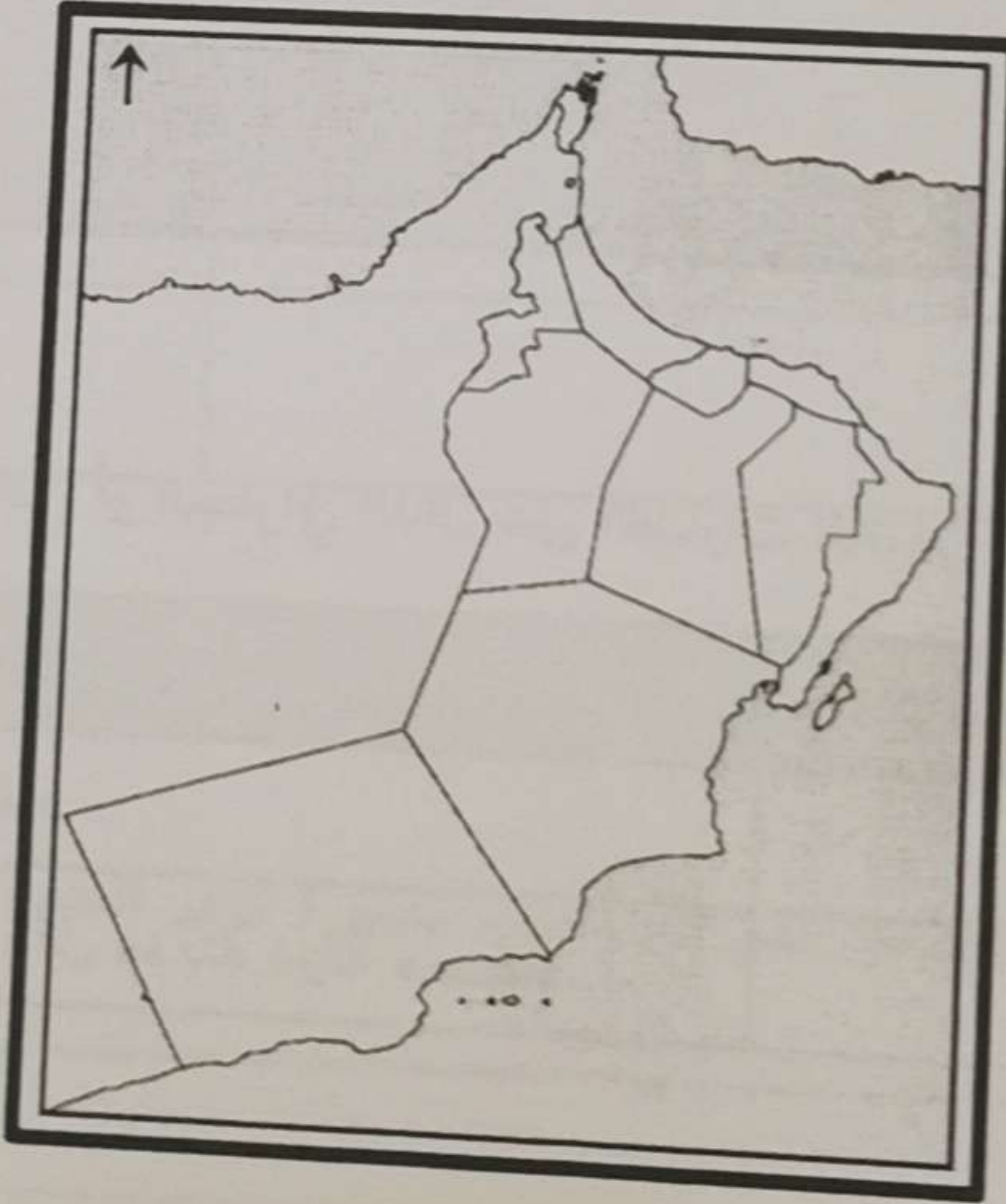
ب) اقرأ النص، ثم أجب عن الأسئلة التي تليه.

"..تعمل حكومة سلطنة عُمان على مكافحة التصحر في مختلف المحافظات العُمانية، بالتعاون مع المواطنين، ويبرز هذا في الاستراتيجية الوطنية لحماية البيئة، والخطة الوطنية لمكافحة التصحر التي أوصت بتنفيذها ندوة التصحر والتي عُقدت بإحدى المحافظات العُمانية مطلع القرن الحالي..".

١- حدد القرن الميلادي الذي عُقدت فيه ندوة التصحر.

٢- برهن على اهتمام حكومة سلطنة عُمان بمكافحة التصحر.

٣- ظلل على الخريطة التي أمامك المحافظة العُمانية التي عُقدت فيها ندوة التصحر مطلع القرن الحالي.



يتبع/٥

٢٠٢٤ م (صباحي)

بيرة العربية.

١٢

يتبع/٤

(٥)

المادة: الدراسات الاجتماعية الصف: السابع الدور الأول-الفصل الدراسي الثاني-العام الدراسي ٢٠٢٣/٢٠٢٤ م (صباحي)

السؤال الثالث:

أولاً:

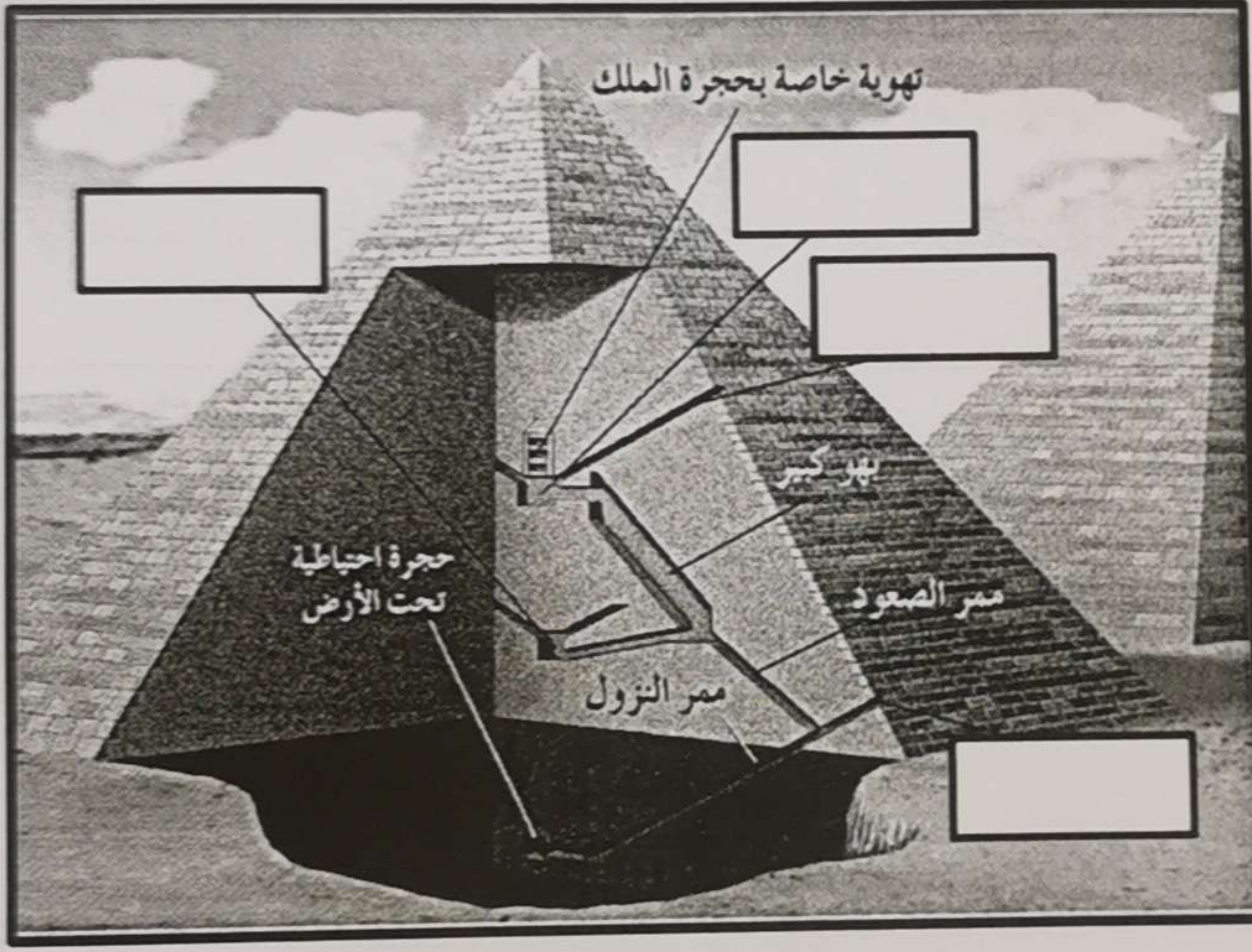
(أ) سم:

١- التمثال الذي أمر الملك خفرع بنحته أمام هرمه.

٢- المتحف الذي يوجد به النصب الأصلي المسجلة عليه قوانين حمورابي.

(ب) اكتب البيانات التالية في موقعها الصحيح على الصورة التي توضح مقطع تفصيلي للهرم من الداخل.

(المدخل - حجرة الملك - تهوية عامة - حجرة الملكة)



ثانياً:

(أ) اكتب في الجدول المفهوم / المصطلح التاريخي أو الجغرافي الدال على العبارات الآتية.

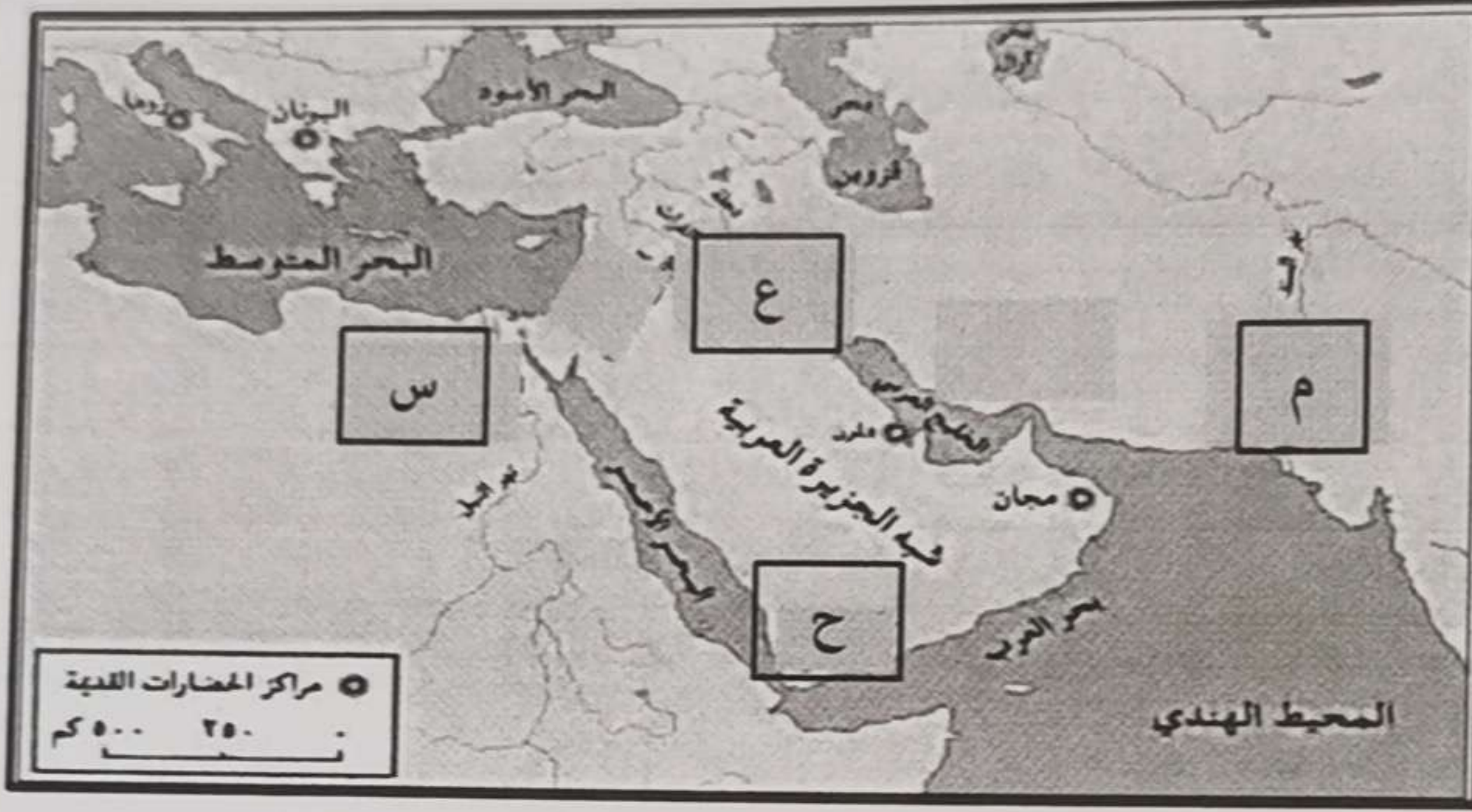
العبارات.	المفهوم / المصطلح.	م
الهجرة العكسية من المدينة إلى الريف.		١
نظام حكم ظهر في بلاد سومر، يجعل كل مدينة دولة مستقلة.		٢



(٦)

المادة: الدراسات الاجتماعية الصف: السابع الدور الأول-الفصل الدراسي الثاني-العام الدراسي ٢٠٢٣/٢٠٢٤ م (صباحي)

تابع السؤال الثالث:

تابع ثانياً: (ب) ادرس خريطة مراكز الحضارات القديمة جيداً، ثم انقل في الجدول الآتي الحرف الدال على الحضارة التي تنتمي إليها المكتشفات الأثرية.



٢	١	م
		المكتشفات الأثرية.
		الرمز الدال عليها في الخريطة.



السؤال الرابع:

أولاً:

(أ) بين نتائج عدم امتلاك العديد من مدن العالم نظاماً متطوراً للنقل العام (الحافلات-القطارات-مترو الانفاق).

يتبع/٧

يتبع/٦


(٧)

المادة: الدراسات الاجتماعية الصف: السابع الدور الأول-الفصل الدراسي الثاني-العام الدراسي ٢٠٢٣/٢٠٢٤ م (صباحي)

تابع السؤال الرابع:

تابع أولاً:

(ب) ادرس شكل نمو سكان الريف والحضر في العالم جيداً، ثم أجب عن الأسئلة التي تليه.



١- ما اتجاه نمو سكان الريف في العالم خلال الفترة من ١٨٠٠م إلى ١٩٥٠م؟

ظل الإجابة الصحيحة.

ارتفاع

انخفاض

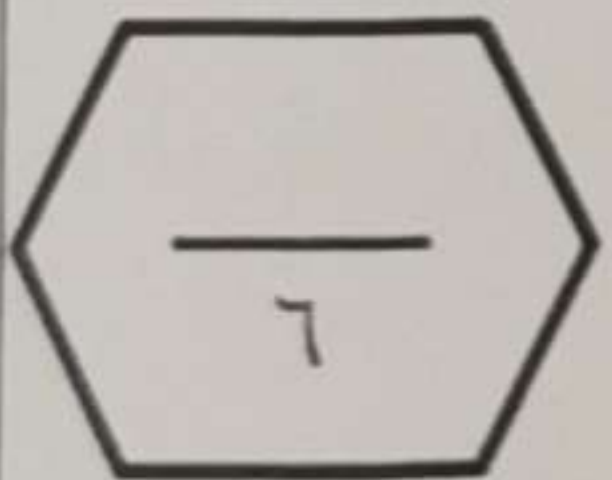
٢- كم بلغ عدد سكان الريف في العالم عام ٢٠٠٠م؟

٣- استخرج العام الميلادي الذي يمثل أقل نمو لسكان الحضر في العالم.

ثانياً: عدد اثنين من الإنجازات الحضارية للفينيقيين.

السؤال الخامس:

أولاً: "لم تكن علاقة الدويلات الأمورية مع الكنعانيين حسنة" دلل على ذلك.



يتبع/٨

(٨)

المادة: الدراسات الاجتماعية الصف: السابع الدور الأول-الفصل الدراسي الثاني-العام الدراسي ٢٠٢٣/٢٠٢٤ م (صباحي)

تابع السؤال الخامس:

ثانياً:

(أ) ما اسم المعركة الحربية التي انتصر فيها الملك تحتمس الثالث على بعض أمراء بلاد الشام؟

(ب) بم تفسر: يُعد السهل الجنوبي المنبسط ببلاد الرافدين من أخصب بقاع العالم؟

ثالثاً: رتب فترة حكم ملوك عصر الدولة الحديثة في الحضارة المصرية من الأقدم إلى الأحدث، بوضع الأرقام (١، ٢، ٣، ٤) يمين الشخصيات التاريخية الآتية:

(—) رمسيس الثاني.

(—) حتشبسوت.

(—) أخناتون.

(—) تحتمس الثالث.




انتهت الأسئلة مع الدعاء للجميع بالتوفيق والنجاح.

الدراسي ٢٠٢٣/٢٠٢٤ م (صباحي)

تليه.

السكان/بالمليار



ظل الإجابة الصحيحة.



يتبع/٨