

شكراً لتحميلك هذا الملف من موقع المناهج العمانية



الاختبار النهائي الرسمي في محافظة جنوب الباطنة

[موقع المناهج](#) ⇨ [المناهج العمانية](#) ⇨ [الصف السابع](#) ⇨ [اجتماعيات](#) ⇨ [الفصل الثاني](#) ⇨ [الملف](#)

تاريخ نشر الملف على موقع المناهج: 2023-05-15 06:45:53

التواصل الاجتماعي بحسب الصف السابع



روابط مواد الصف السابع على تلغرام

[الرياضيات](#)

[اللغة الانجليزية](#)

[اللغة العربية](#)

[التربية الاسلامية](#)

المزيد من الملفات بحسب الصف السابع والمادة اجتماعيات في الفصل الثاني

[الامتحان الرسمي النهائي بمحافظة الداخلية](#)

1

[الاختبار النهائي الرسمي في محافظة مسقط](#)

2

[نموذج إجابة الاختبار النهائي الرسمي في محافظة شمال الشرقية](#)

3

[الامتحان الرسمي النهائي لمحافظة الشرقية](#)



4

[الامتحان الرسمي النهائي لمحافظة الداخلية](#)

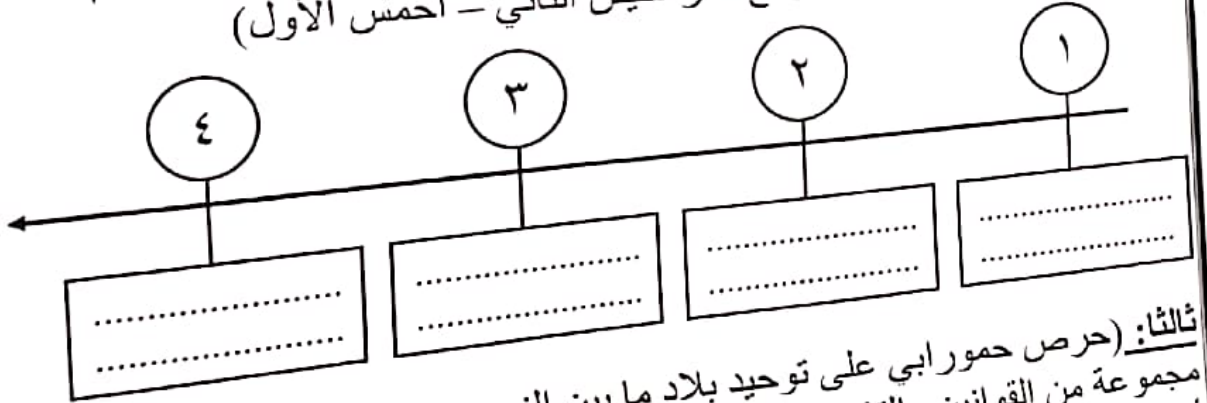
5

المادة: الدراسات الاجتماعية الصف: السابع - الدور الأول - الفصل الدراسي الثاني / العام الدراسي: ٢٠٢٢-٢٠٢٣ م (٧)

السؤال الرابع: أولاً: قارن بين الصورتين أدناه:

| (ب) | (أ) | وجه المقارنة |
|---|--|------------------|
|  |  | نوع الاسرة |
| | | العلاقات الأسرية |

ثانياً: رتب أسماء الملوك الذين حكموا مصر حسب اسبقية كل منهم في الحكم:
(توت عنخ أمون - أمنحوتب الرابع - رمسيس الثاني - أحمس الأول)



ثالثاً: (حرص حمورابي على توحيد بلاد ما بين النهرين وتنظيم دولته فأصدر مجموعة من القوانين والتشريعات) في ضوء ذلك أذكر اثنين من المجالات التي أصدر فيها تشريعاته.

- ١-
- ٢-

يتبع / ٨

مدرسة /
مدة متصلة من الساعة
والمناسبات الرسمية ، ويحق
البند الخامس : في حال كانت وسيلة النقل المدرسية من
١- تجهيز القارب بالوقود الكافي، وكذلك أدوات الإنقاذ ومكافحة
٢- اختيار طاقم من البحارة ذوي الخبرة في مجال قيادة القارب.
الإسعافات الأولية بالإضافة إلى توفير مظلة واقية لحماية الركاب
حالات والوقوف في الأماكن الآمنة المسموح بها أثناء
مدتها خلال فترة امتحانات الصفوف (5 - ٤ - ٣ - ٢ - ١)
المقد ، على أن تكون في نطاق المدرس

(٤)

المادة: الدراسات الاجتماعية الصف: السابع الدور الأول - الفصل الدراسي الثاني / العام الدراسي: ٢٠٢٢-٢٠٢٣ م


السؤال الثاني
أ- أكتب المصطلح / المفهوم الدال على العبارات الآتية:

| | |
|---|-------|
| أ- المدن التي يزيد عدد سكانها عن (١٢) مليون نسمة | |
| ب- كتابة سجلت على الواح من الطين بأداة تشبه المسمار مصنوعة من العظم او الخيزران | |

ب- أنقل أرقام الصور الآتية للحضارات التي تنتمي إليها في الجدول ادناه:



٣



٢



١

| السومرية | الكلدانية | الفرعونية |
|----------|-----------|-----------|
| | | |

ثانياً: دال لكل مما يأتي: (يكتفى بدليل واحد).

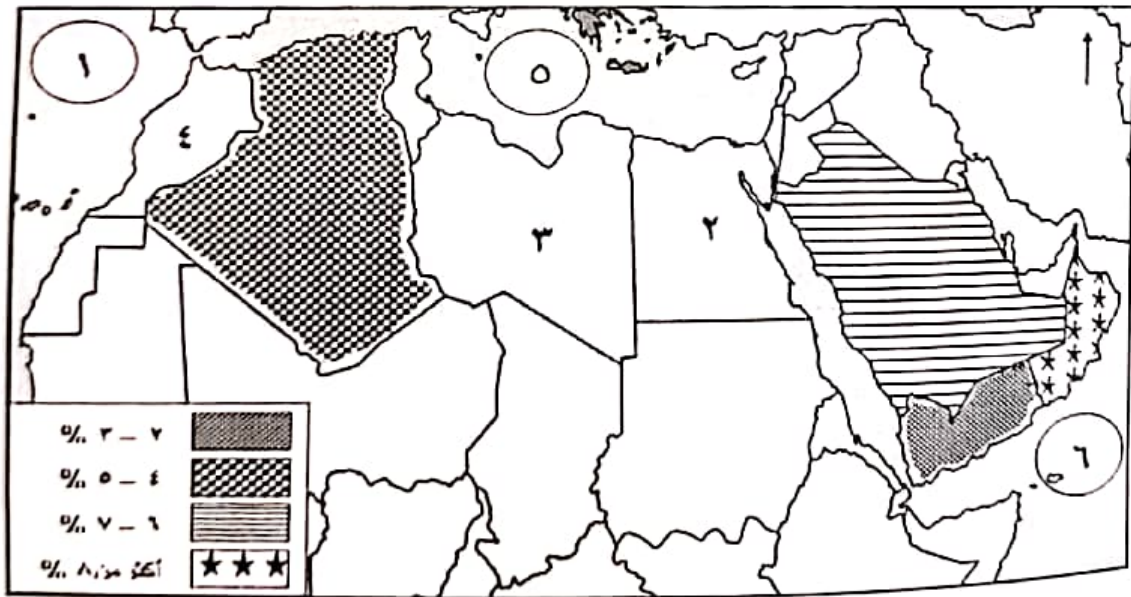
١- اهتمام حكومة سلطنة عُمان بالرعاية الصحية للمواطنين.

٢- تأثير الهكسوس بالحضارة المصرية.

تابع السؤال الثالث:
ثانياً: أكمل البطاقة التعريفية للحضارة أمامك مستعينا بالمعلومات الواردة في الشكل
الآتي:

| | | | |
|--|--------------------------------------|---------------------|-------------------------|
| الموطن الأصلي | الفينيقيون | بلاد الرافدين | بناء الاهرامات |
| اشهر مستعمراتهم | انجازاتهم | شبه الجزيرة العربية | قرطاجة |
| | | اكتشاف النجم القطبي | حمص |
| | | | بناء حدائق بابل المعلقة |

ثالثاً: أمامك خريطة توضح النسبة المئوية لزيادة سكان بعض المدن في دول الوطن العربي ادرسها جيداً ثم أجب عن الأسئلة التالية:



استخرج الأرقام الدالة على كل من:

- المسطح المائي الذي يصب فيه نهر النيل.
..... بعدولة عربية يوجد بها مدينة مليونية.
..... ٢ كم تبلغ نسبة نمو سكان المدن في الدولة المشار إليها بالرمز

تابع السؤال الثاني:

ثالثاً:

أدرس الصورتين أمامك، ثم أجب عن الأسئلة الآتية:



(٢)



(١)

١- أي الصورتان تعبر عن السلوك

الصحيح لترشيد المياه؟

١

٢

ضع إشارة (✓)

٢- ما النصيحة التي تقدمها لمن يسرف في استخدام المياه؟

السؤال الثالث:

أولاً: صنف العبارات الآتية بوضع (✓) تحت مرحلة تطور المجتمعات البشرية التي تنتمي إليها:

| مراحل تطور المجتمعات البشرية | | | | المنجزات |
|------------------------------|---------|---------|--------------|--|
| الصناعة | التجارة | الزراعة | الصيد والرعي | |
| | | | | اختراع المحراث |
| | | | | ظهور المدن التجارية |
| | | | | صنع أدوات الصيد والدفاع عن النفس |
| | | | | تصنيع المواد الزراعية والحيوانية والمعدنية |

(١)

المادة: الدراسات الاجتماعية الصف: السابع الدور الأول - الفصل الدراسي الثاني/ العام الدراسي: ٢٠٢٢-٢٠٢٣

أجب عن جميع الأسئلة الآتية

السؤال الأول: ضع دائرة حول رمز الإجابة الصحيحة لكل مفردة من المفردات الآتية:

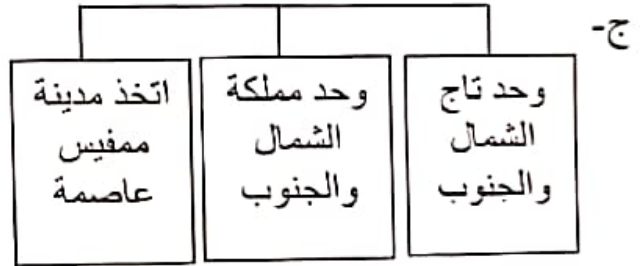
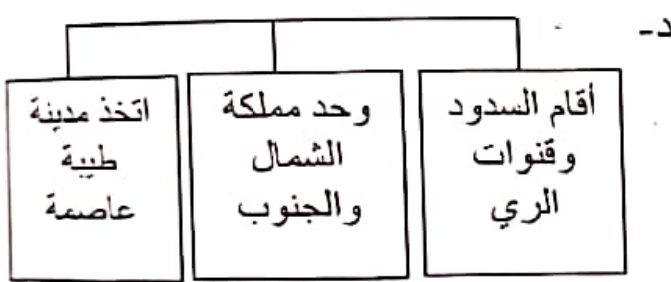
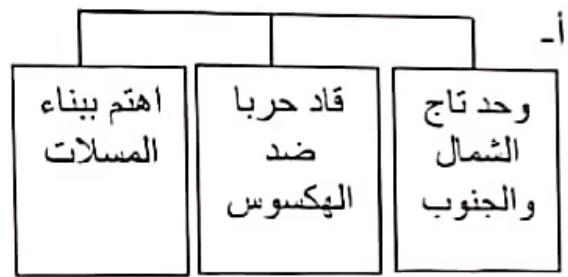
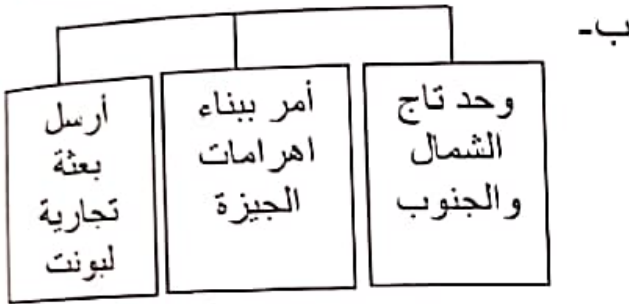
١) سبب الهجرة من الريف إلى الحضر الذي يوضحه الكاريكاتير أمامك:




أ- ارتفاع الدخل ب- توفر فرص العمل

ج- تركيز الخدمات د- تحسين مستوى المعيشة

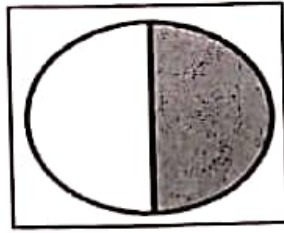
٢) الشكل الصحيح لإنجازات الملك نارمر:




٣) الجزء المظلل الذي يمثل نسبة سكان مدن الدول النامية في العالم:



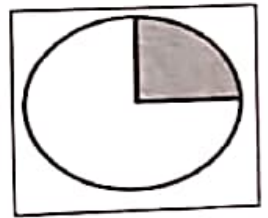
د



ج



ب



أ

٤) المحافظة العمانية التي عقدت فيها ندوة التصحر عام ٢٠٠٢ م:

أ- مسقط

ب- ظفار

ج- الوسطى

د- مسندم

٥) مؤسس الدولة الكلدانية (البابلية الثانية):

أ- نابوبولاسر

ب- آشور بانيبال

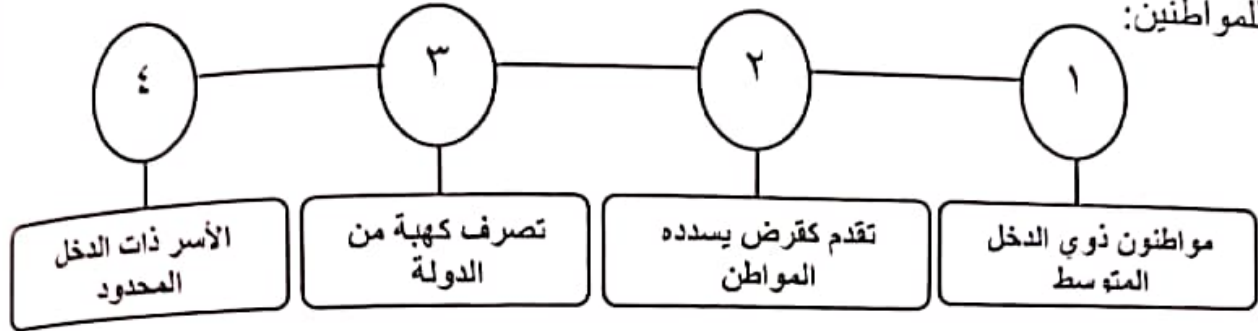
ج- حمورابي

د- نارام سن

يتبع ٢

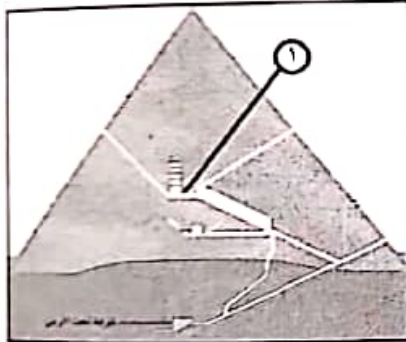
تابع السؤال الأول:

١٠) الأرقام الدالة على اشتراطات برنامج المساعدات السكنية الذي تقدمه الحكومة للمواطنين:



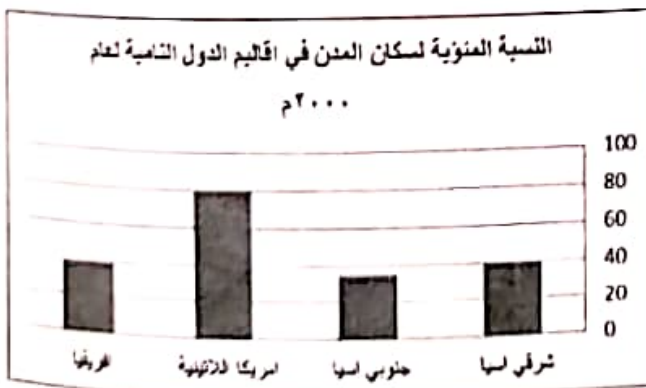
- أ- (٢، ١) ب- (٣، ٢) ج- (٤، ٣) د- (١، ٤)

١١) يمثل الرقم (١) في المقطع التفصيلي للهرم الذي أمامك:



- أ- حجرة الملك
ب- حجرة الملكة
ج- ممر الصعود
د- بهو كبير

١٢) بالاستعانة بالرسم البياني المقابل، الإقليم الذي يحتل المرتبة الأعلى من حيث النسبة المئوية لسكان المدن في الدول النامية لعام ٢٠٠٠م:



- أ- جنوبي اسيا
ب- أفريقيا
ج- شرقي آسيا
د- أمريكا اللاتينية

تابع السؤال الأول:

٦) النتيجة المترتبة على تداخل البناء الاجتماعي في المناطق الريفية بسبب الهجرة:
 أ- يزيد عدد الذكور ب- يتساوى عدد الذكور والإناث
 ج- يزيد عدد الإناث د- لا يتأثر التركيب النوعي

٧) الترتيب الصحيح لمراحل تطور المجتمعات البشرية:

- أ- ١-الجمع والالتقاط ٢-الزراعة ٣-الصناعة ٤-التجارة ٥-الصيد والرعي ←
- ب- ١-الصيد والرعي ٢-الجمع والالتقاط ٣-الصناعة ٤-الصناعة ٥-التجارة ←
- ج- ١-الجمع والالتقاط ٢-الصيد والرعي ٣-الزراعة ٤-التجارة ٥-الصناعة ←
- د- ١-الجمع والالتقاط ٢-الصيد والرعي ٣-الصناعة ٤-التجارة ٥-الزراعة ←

٨) الرقم الذي يشير لموقع الأموريين في الخريطة المقابلة:



- أ- ١
 ب- ٢
 ج- ٣
 د- ٤

٩) المدينة التي يوجد فيها النصب الأصلي المسجل عليه قوانين حمورابي:

- أ- دمشق ب- باريس ج- لندن د- قبرص