

شكراً لتحميلك هذا الملف من موقع المناهج العمانية



اختبار قصير أول نموذج ثاني

[موقع المناهج](#) ← [المناهج العمانية](#) ← [الصف السابع](#) ← [رياضيات](#) ← [الفصل الثاني](#) ← [الملف](#)

تاريخ نشر الملف على موقع المناهج: 05:52:44 2023-05-06

التواصل الاجتماعي بحسب الصف السابع



روابط مواد الصف السابع على تلغرام

[الرياضيات](#)

[اللغة الانجليزية](#)

[اللغة العربية](#)

[التربية الاسلامية](#)

المزيد من الملفات بحسب الصف السابع والمادة رياضيات في الفصل الثاني

[نموذج إجابة الامتحان الرسمي النهائي بمحافظة جنوب الباطنة](#)

1

[الامتحان الرسمي النهائي بمحافظة جنوب الباطنة](#)

2

[الاختبار النهائي الرسمي في محافظة جنوب الداخلية](#)

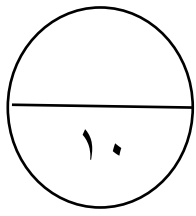
3

[الاختبار النهائي الرسمي في محافظة الشرقية](#)

4


[الاختبار النهائي الرسمي في محافظة شمال الباطنة](#)

5

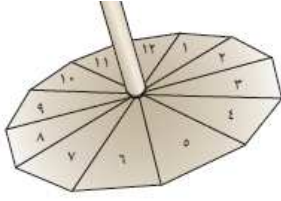


الاختبار القصير (١) للصف السابع ف ٢
مادة الرياضيات

اسم الطالبة المثابرة: الصف : ٧ /

الدرجة	الاسئلة	رقم السؤال
١	<p>- حوطي على السؤال الذي يعتبر <u>غير مناسب</u> إدراجه في استبيان ما:</p> <p>ما اسمك؟</p> <p>النوع: <input type="checkbox"/> ذكر <input type="checkbox"/> أنثى</p> <p>كم عمرك؟</p> <p><input type="checkbox"/> دون ٢٠ سنة <input type="checkbox"/> ٢١-٤٠ سنة</p> <p><input type="checkbox"/> ٤١-٦٠ سنة <input type="checkbox"/> فوق ٦٠ سنة</p> <p>هل توجد مكتبة في منزلك؟</p> <p><input type="checkbox"/> نعم <input type="checkbox"/> لا</p>	١
١	<p>- اكتب العدد المفقود فيما يلي:</p> $\frac{\square}{8} = \frac{3}{8} - \frac{1}{2}$	٢
١	<p>- حوطي على الإجابة الصحيحة:</p> <p>كتلة حقيبة هيثم $2\frac{1}{4}$ كغم، وكتلة حقيبة ناصر $1\frac{1}{2}$ كغم .. ما مجموع كتل الحقيبتين؟</p>  <p>$1\frac{1}{4}$ كغم $2\frac{3}{4}$ كغم $1\frac{1}{2}$ كغم $6\frac{3}{4}$ كغم</p>	٣
٢	<p>- توجد مريم نواتج ثلاث بطاقات مختلفة كما هو موضح في الشكل:</p> <p>(أ) $2 = 18 \times \frac{1}{9}$</p> <p>(ب) $؟ = \frac{1}{5} \times 25$</p> <p>(ج) $؟ = \frac{4}{3} \times \frac{3}{2}$</p> <p>أ- ساعدي مريم في إيجاد ناتج البطاقتين المتبقيتين:</p> <p>- ناتج البطاقة (ب) =</p> <p>- ناتج البطاقة (ج) =</p> <p>ب- ما رمز البطاقة التي تعطي ناتج مختلف عن البطاقتين الأخرين؟</p>	٤

٥ - لدى أميرة دوار يتكون من الأعداد ١ إلى ١٢، لفت أميرة الدوار ٢٤ مرة وسجلت النتائج كالاتي:



النقاط	٤-١	٨-٥	١٢-٩	الاجمالي
التكرار	٨	٨	٨	٢٤

- تقول أميرة أن هذا الدوار متكافئ الفرص.. اشرح اسبب.

.....

١

٦ - يجري أحمد دراسة استقصائية حول كيفية ذهاب طلاب صفه إلى المدرسة، ومن بين الأسئلة التي طرحها أحمد السؤال التالي:
" ما الوسيلة التي تستخدمها عادة للذهاب الى المدرسة؟"

- صممي قسمًا للإجابات المحتملة الخاصة بسؤال أحمد.

.....

١

٧ **يوضِّح جدول نو الفئات أعمار الموظفين في إحدى الشركات:**

العمر	٢٩ - ٢٥	٣٠ - ٣٤	٣٥ - ٣٩	٤٠ - ٤٤	٤٥ - ٤٩	٥٠ - ٥٤
التكرار	٤	٥	٧	٣	٤	٦

- كم عدد الموظفين التي أعمارهم أقل من ٣٥ سنة؟

١

٨ - فيما يلي جزء من الواجب المنزلي لمحمد:

السؤال: أوجد ناتج $\frac{3}{4} \div \frac{2}{5}$

الإجابة:

$$\frac{3}{4} \div \frac{2}{5}$$

$$2 \div \frac{6}{20} = \frac{3}{4} \times \frac{2}{5}$$

$$\frac{3}{10} =$$

أ- ما الخطأ الذي وقع فيه محمد؟

ب- أوجدني الناتج الصحيح لسؤال الواجب.

.....

٢