

شكراً لتحميلك هذا الملف من موقع المناهج العمانية



أسئلة اختبارات قصيرة ونهاية للوحدة الرابعة مع الإجابة

[موقع المناهج](#) ⇨ [المناهج العمانية](#) ⇨ [الصف السابع](#) ⇨ [اجتماعيات](#) ⇨ [الفصل الثاني](#) ⇨ [الملف](#)

تاريخ نشر الملف على موقع المناهج: 2023-04-23 09:46:14 | اسم المدرس: علي بن محمد الحسان

التواصل الاجتماعي بحسب الصف السابع



روابط مواد الصف السابع على تلغرام

[الرياضيات](#)

[اللغة الانجليزية](#)


[اللغة العربية](#)

[التربية الاسلامية](#)

المزيد من الملفات بحسب الصف السابع والمادة اجتماعيات في الفصل الثاني

الامتحان الرسمي النهائي بمحافظة الداخلية	1
الاختبار النهائي الرسمي في محافظة مسقط	2
نموذج إجابة الاختبار النهائي الرسمي في محافظة شمال الشرقية	3
الامتحان الرسمي النهائي لمحافظة الشرقية	4
الامتحان الرسمي النهائي لمحافظة الداخلية	5

الدراسات
الاجتماعية



الصف
السابع

سؤال
و
جواب

مذكرة اثرائية
٢٠٢٣/٢٠٢٢

الفصل الدراسي الثاني
الوحدة الرابعة

دروس الوحدة الرابعة

٣- التحضر ومشكلات المدن


٢- الريف ومشكلاته

١- الاستيطان الريفي والحضري

٤- الاحتياجات السكانية

علي بن محمد الحسان

99493923



الدراسات الاجتماعية

الصف السابع

٢٠٢٣ / ٢٠٢٢

أسئلة واجوبة

الفصل الدراسي الثاني

الوحدة الرابعة

درس : الاستيطان الريفي والحضري

علي بن محمد الحسان

99493923

{ درس : الاستيطان الريفي والحضري }

السؤال الأول : ضع علامة (√) أو (X) أمام العبارة المناسبة مع تصحيح ما تحته خط إذا كانت العبارة خطأ :

- ١- (√) عاش الإنسان مستهلكا لما تنتجه البيئة دون أن يبذل جهداً كبيراً .
 ٢- (√) أدت كثرة الحاصلات الزراعية إلى قيام التبادل التجاري بين البيئات المختلفة .
 ٣- (X) ينتشر في الحضر نمط الأسرة الكبيرة " الممتدة " . الريف
 ٤- (X) تمثل المناطق الريفية مراكز للتحويل الاجتماعي من نمط الحياة الريفية إلى أنماط الحياة الحضرية بصورة تدريجية. الحضرية

السؤال الثاني : اختر الكلمة المناسبة من بين القوسين وضعها في الفراغ المناسب لها في الجملة التالية :

(ينتمي - القرى - الاستقرار - التعاون - التجمعات - الآخرين - دور)

عندما بدأ الإنسان البدائي حياة الاستقرار قام بتنظيم علاقاته مع الآخرين من بني جنسه وتكون نظام حياة يعتمد على التعاون وتبادل المنافع وأصبح لكل فرد دور يقوم به ضمن الجماعة التي ينتمي إليها ولذلك ظهرت التجمعات البشرية التي تطورت مع تزايد السكان وأخذت شكل القرى الصغيرة .

السؤال الثالث : ظلل الإجابة الصحيحة من بين البدائل المعطاة :

- ١ - " صنع الانسان الأدوات البسيطة للصيد واستأنس الحيوانات " كان ذلك في مرحلة
 ● مرحلة الصيد والرعي ○ مرحلة الزراعة ○ مرحلة التجارة
- ٢- تم استخدام الإنسان للمحراث الخشبي في.....
 ○ مرحلة الصيد والرعي ● مرحلة الزراعة ○ مرحلة التجارة
- ٣- هجرة سكان القرى من المناطق الزراعية إلى المناطق الصناعية التي تركزت في المدن الكبرى كانت في مرحلة
 ○ مرحلة الزراعة ○ مرحلة التجارة ● مرحلة الصناعة

السؤال الرابع : علل ما يلي " أذكر السبب " :

- ١- " انتقال الإنسان البدائي من منطقة إلى أخرى " سعيًا وراء الماء والغذاء .
 ٢- " مرت المجتمعات البشرية بمراحل عدة " بحسب المنجزات التي حققها الإنسان .
 ٣- أراضي المركز الحضري أكثر قيمة من غيرها بسبب موقعها وطبيعة استخدام الأراضي والمباني في اعمال الإدارة والحكم والامن والاستخدام السكني .

السؤال الخامس : أكمل العبارات التالية بكلمات مناسبة من عندك :

- ١ - صاحب ظهور المدن التجارية تقدم بعض الصناعات المعتمدة على الحاصلات الزراعية .
- ٢- تقدمت الزراعة وأصبحت الوسيلة الأساسية للحصول على الغذاء وذلك بعد اختراع المحراث .

السؤال السادس : ضع بين القوسين المصطلح الدال على المفاهيم التالية :

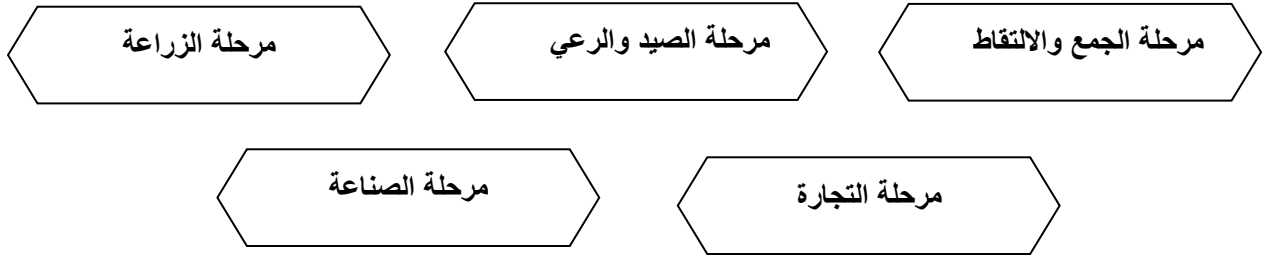
- ١- (الريف) يطلق على مناطق الاستقرار في القرى سواء أكانت قرى صغيرة أم كبيرة .
- ٢- (الحضر) يطلق على التجمع السكاني الذي تتوفر فيه خدمات البنى التحتية كالماء والكهرباء .

السؤال السابع : ماذا تمثل لك الصور التالية

بداية استخدام الانسان للمحراث



أدوات صيد قديمة

السؤال الثامن : " مرت المجتمعات البشرية بخمسة مراحل " اكتبها ؟

السؤال التاسع : أجب عن الأسئلة التالية :

س ١ : ماهي الأسباب التي أدت إلى ظهور التجمعات البشرية ؟

- ج ١ - تنظيم علاقاته مع الآخرين من بني جنسه .
 - تكوين نظام حياه يعتمد على التعاون وتبادل المنافع .
 - أصبح لكل فرد دور يقوم به ضمن الجماعة التي ينتمي إليها .

س ٢ : تحدث باختصار عن كل مرحلة من مراحل المجتمعات البشرية " ؟

- ١- مرحلة الجمع والالتقاط : يحصل على طعامه ويعيش على ما يحصل عليه من ثمار الأشجار دون أن يبذل جهداً كبيراً
 ٢- مرحلة الصيد والرعي : (أهم إنجازات هذه المرحلة)
 أ - صنع الأدوات البسيطة لاستخدامها في الدفاع عن النفس كما صنع بعض أدوات الصيد .
 ب - استأنس الحيوانات من خلال تربيتها .
 ج - كون تجمعات إنسانية غير مستقرة تنتقل من مكان لآخر نتيجة لظروف البيئة الطبيعية .

٣- مرحلة الزراعة : استغل الإنسان موارد الأرض المحيطة به فأخذ بزراعة الأرض فأصبحت الزراعة الغذاء الرئيسي لهم حيث تم اختراع المحراث الخشبي .

٤- مرحلة التجارة : أدت كثرة الحاصلات الزراعية إلى قيام التبادل التجاري بين البيئات المختلفة مما دفع الناس إلى الهجرة من القرى والتجمع في مراكز للاشتغال بالتجارة حيث نشأت المدن التجارية وظهر تقدم بعض الصناعات المعتمدة على الحاصلات الزراعية.

٥- مرحلة الصناعة : بعد استقرار الإنسان في المناطق الزراعية اتجه الإنسان لتصنيع كل ما يحتاج إليه من المواد الزراعية والحيوانية والمعدنية مما أدى إلى ظهور صناعات في مناطق معينة من نتيجته هجرة سكان القرى من مناطق الزراعة إلى المناطق الصناعية .

س ٣ : "يتميز الريف بعدة خصائص " أذكر ثلاث من هذه الخصائص ؟


- ج ٣ ١- توافر الإمكانيات الطبيعية للإنتاج الزراعي .
 ٢- توافر بعض الخامات الزراعية والحيوانية المستخدمة في الصناعة .
 ٣- انتشار نمط الأسرة الكبيرة (الممتدة)
 ٤- قوة العلاقات الأسرية بين أفراد المجتمع الريفي .

س ٤ : ماهي خصائص ومميزات الحضر ؟

- ج ٤ - التوسط والمركزية .
 - تصبح أراضي المركز الحضري أكثر قيمة .
 - وجود المقومات الأساسية (الأراضي - المباني - الحكم - الأمن - مؤسسات حكومية ...)

س ٥ : ماذا يقصد بالتوسط والمركزية؟

ج ٥ : يقصد به توسط الخدمات وتركزها في وسط المدينة (المركز)



الدراسات الاجتماعية

الصف السابع

٢٠٢٣ / ٢٠٢٢

أسئلة

الفصل الدراسي الثاني

الوحدة الرابعة

درس : الاستيطان الريفي والحضري

علي بن محمد الحسان

99493923

Ali 47536@moe.om

{ درس : الاستيطان الريفي والحضري }

السؤال الأول : ضع علامة (√) أو (X) أمام العبارة المناسبة مع تصحيح ما تخطه خط إذا كانت العبارة خطأ :

- ١- () عاش الإنسان مستهلكا لما تنتجه البيئة دون أن يبذل جهداً كبيراً .
 ٢- () أدت كثرة الحاصلات الزراعية إلى قيام التبادل التجاري بين البيئات المختلفة .
 ٣- () ينتشر في الحضر نمط الأسرة الكبيرة " الممتدة " .
 ٤- () تمثل المناطق الريفية مراكز للتحوّل الاجتماعي من نمط الحياة الريفية إلى أنماط الحياة الحضرية بصورة تدريجية.

السؤال الثاني : اختر الكلمة المناسبة من بين القوسين وضعها في الفراغ المناسب لها في الجملة التالية :

(ينتمي - القرى - الاستقرار - التعاون - التجمعات - الآخرين - دور)

عندما بدأ الإنسان البدائي حياة قام بتنظيم علاقاته مع من بني جنسه وتكون نظام حياة يعتمد على وتبادل المنافع وأصبح لكل فرد يقوم به ضمن الجماعة التي إليها ولذلك ظهرت البشرية التي تطورت مع تزايد السكان وأخذت شكل الصغيرة .

السؤال الثالث : ظلل الإجابة الصحيحة من بين البدائل المعطاة :

- ١ - " صنع الإنسان الأدوات البسيطة للصيد واستأنس الحيوانات " كان ذلك في مرحلة
 مرحلة الصيد والرعي مرحلة الزراعة مرحلة التجارة
- ٢- تم استخدام الإنسان للمحراث الخشبي في
 مرحلة الصيد والرعي مرحلة الزراعة مرحلة التجارة
- ٣- هجرة سكان القرى من المناطق الزراعية إلى المناطق الصناعية التي تركزت في المدن الكبرى كانت في مرحلة
 مرحلة الزراعة مرحلة التجارة مرحلة الصناعة

السؤال الرابع : علل ما يلي " أذكر السبب " :

١- " انتقال الإنسان البدائي من منطقة إلى أخرى "

٢- " مرت المجتمعات البشرية بمراحل عدة "

٣- أراضي المركز الحضري أكثر قيمة من غيرها

السؤال الخامس : أكمل العبارات التالية بكلمات مناسبة من عندك :

- ١ - صاحب ظهور المدن التجارية تقدم بعض الصناعات المعتمدة على الحاصلات
- ٢- تقدمت الزراعة وأصبحت الوسيلة الأساسية للحصول على الغذاء وذلك بعد اختراع

السؤال السادس : ضع بين القوسين المصطلح الدال على المفاهيم التالية :

- ١- () يطلق على مناطق الاستقرار في القرى سواء أكانت قرى صغيرة أم كبيرة .
- ٢- () يطلق على التجمع السكاني الذي تتوفر فيه خدمات البنى التحتية كالماء والكهرباء .

السؤال السابع : ماذا تمثل لك الصور التالية



السؤال الثامن : ” مرت المجتمعات البشرية بخمسة مراحل ” اكتبها ؟

لسؤال التاسع : أجب عن الأسئلة التالية :

س ١ : ماهي الأسباب التي أدت إلى ظهور التجمعات البشرية ؟

- ج ١ -
 -
 -

س ٢ : تحدث باختصار عن كل مرحلة من مراحل المجتمعات البشرية " ؟

- ١- مرحلة الجمع والالتقاط :
- ٢- مرحلة الصيد والرعي :
- ٣- مرحلة الزراعة :
- ٤- مرحلة التجارة :
- ٥- مرحلة الصناعة :

س ٣ : "يتميز الريف بعدة خصائص " أذكر ثلاث من هذه الخصائص ؟


- ج ٣ ١-
 ٢-
 ٣-

س ٤ : ماهي خصائص ومميزات الحضر ؟

- ج ٤ -
 -
 -

س ٥ : ماذا يقصد بالتوسط والمركزية؟

- ج ٥ :



الدراسات الاجتماعية

الصف السابع

٢٠٢٣ / ٢٠٢٢

أسئلة واجوبة

الفصل الدراسي الثاني

الوحدة الرابعة

درس : الريف ومشكلاته

علي بن محمد الحسان

99493923

{ درس : الريف ومشكلاته }

السؤال الأول : ضع علامة (√) أو (X) أمام العبارة المناسبة مع تصحيح ما تمته خط إذا كانت العبارة خطأ :

- ١- (√) البيت في الحياة الريفية محور الحياة الاجتماعية لاسيما في مواسم الحصاد .
- ٢- (√) من مشكلات الهجرة تغير نمط الاسرة من أسرة كبيرة إلى أسرة صغيرة .
- ٣- (X) من مشكلات الهجرة تفتت الملكية الزراعية حيث أصبحت الأراضي الزراعية ذات مساحات كبيرة . صغيرة
- ٤- (X) من المشكلات الاجتماعية تخلخل البناء الاجتماعي مما أدى إلى زيادة نسبة الذكور لسكان الريف . الإناث

السؤال الثاني : ظلل الإجابة الصحيحة من بين البدائل المعطاة :

- ١- يتصف الريف بأنه مجتمع.....
- زراعي ● تجاري ○ صناعي ○
- ٢- تتميز الحياة في الريف بالبساطة و.....
- التخلف ○ الهدوء ● الحروب ○
- ٣- تواجه الكثير من المجتمعات الريفية ظاهرة..... الناتجة عن الرعي الجائر .
- التملح ○ التصحر ● الجفاف ○

السؤال الثالث : أكمل العبارات التالية بكلمات مناسبة من عندك :

- ١- يرتبط قيام المجتمع الريفي بتوافر عنصرين أساسيين لقيام الحياة هما توافر المياه والتربة الخصبة للزراعة .
- ٢- يواجه المجتمع الريفي من مشكلة التملح والزحف الصحراوي في المناطق الجافة .

السؤال الرابع : علل ما يلي " أذكر السبب " :

- ١- يتصف الريف بأنه مجتمع زراعي بسبب توفر المياه وتوفر التربة الخصبة
- ٢- زيادة نسبة الإناث في التركيب النوعي لسكان الريف بسبب هجرة الذكور إلى المدن لتوفر فرص العمل .
- ٣- " ضعف الإنتاج الزراعي الريفي في الدول النامية " بسبب قلة الأمطار وهجرة السكان من مهنة الزراعة لمن أخرى .

السؤال الخامس : أكتب بين القوسين المصطلح الدال على العبارات التالية :

- ١ : (التنمية الريفية) الخطط التي يتم تصميمها بهدف تطوير الحياة الاقتصادية والاجتماعية لمجموعة معينة من الناس في المنطقة الريفية
- ٢ : (التصحر) مشكلة تظهر في المناطق الجافة بسبب التملح والزحف الصحراوي .

السؤال السادس : اكتب ثلاثة أسباب لظاهرة التصحر :

الرعي الجائر	تدهور المراعي بسبب الجفاف	تملح التربة أو انجرافها
--------------	---------------------------	-------------------------

السؤال السابع : " تواجه التنمية في المجتمع الريفي عدة مشكلات ومعوقات " اكتب اهم أربعة منها ؟

الهجرة	الزراعة	المشكلات الزراعية	المشكلات الاقتصادية
--------	---------	-------------------	---------------------

السؤال الثامن : أجب عن الأسئلة التالية :

س ١ : ماهي الأسباب الرئيسية لحركة الهجرة من الريف إلى المدن ؟

- ج ١ - تركز الخدمات والصناعات في المدن .
- توفر فرص العمل في المدن .
- ارتفاع دخل الفرد .

س ٢ : ماهي النتائج والمشكلات المترتبة على الهجرة من الريف إلى المدن ؟ أذكر ثلاث منها .

- ج ٢ : ١ - عرقلة تنمية القطاع الزراعي " حيث يفقد الريف كثيراً من القوى العاملة " وبالتالي " يقل الإنتاج الزراعي ويقل دخل الفرد
٢- انتقال أكثر الأشخاص المتميزين والطموحين من الريف إلى المدن .
٣- تغير نمط الأسرة من الأسرة الكبيرة إلى الأسرة الصغيرة .
٤- التحول من العمل الزراعي إلى أعمال مهنية أخرى .
٥- الضغط على الخدمات العامة في المدن .

س ٣ : " تواجه الزراعة في الوقت الحاضر عدة مشكلات " أذكر ثلاث منها ؟

- ١- تغير النظرة إلى العمل الزراعي وإلى الأرض الزراعية .
٢- تعرض الزراعة إلى الزحف الحضري .
٣- تفتت الملكية الزراعية حيث أصبحت مساحات الأراضي الزراعية صغيرة .
٤- بروز مشكلة التملح والزحف الصحراوي في المناطق الجافة وبالفيضانات المدمرة في مناطق الأمطار الغزيرة
" ظاهرة التصحر"
٥- تناقص موارد المياه بسبب الظروف المناخية .

س ٤ : " يواجه الريف مشكلات اجتماعية عدة ناتجة عن هجرة السكان من الريف إلى المدينة " أذكر مشكلتين منها ؟


- ج ٤ : ١- ضعف الروابط الاجتماعية نتيجة خروج الأبناء من نطاق رب الأسرة وتكوينهم لأسر جديدة منفصلة .
٢- ضعف التقيد بالعادات والتقاليد والقيم الاجتماعية .
٣- تخلخل البناء الاجتماعي والاقتصادي .

س ٥ : " يواجه الريف في الدول النامية بعض المشكلات الاقتصادية " اذكر أهمها ؟

- ج ٥ ١- ضعف الإنتاج الزراعي " بسبب قلة الأمطار وبسبب هجرة السكان من مهنة الزراعة لمن أخرى "
- ٢- ظهور ظاهرة التصحر .

س ٦ : للحكومة الرشيدة دور كبير في على دعم القطاع الزراعي ؟ اذكر عمليين لهذا الدعم .

- ج ٦ : ١- توفير أجهزة الري الحديثة للمزارعين .
- ٢- تقديم البذور والشتلات للمزارعين .
- ٣- تقديم الارشاد الزراعي المناسب للمزارعين .



الدراسات الاجتماعية

الصف السابع

٢٠٢٣ / ٢٠٢٢

أسئلة

الفصل الدراسي الثاني

الوحدة الرابعة

درس : الريف ومشكلاته

علي بن محمد الحسان

99493923

{ درس : الريف ومشكلاته }

السؤال الأول : ضع علامة (√) أو (X) أمام العبارة المناسبة مع تصحيح ما تمته خط إذا كانت العبارة خطأ :

- ١- () البيت في الحياة الريفية محور الحياة الاجتماعية لاسيما في مواسم الحصاد .
- ٢- () من مشكلات الهجرة تغير نمط الاسرة من أسرة كبيرة إلى أسرة صغيرة .
- ٣- () من مشكلات الهجرة تفتت الملكية الزراعية حيث أصبحت الأراضي الزراعية ذات مساحات كبيرة .
- ٤- () من المشكلات الاجتماعية تخلخل البناء الاجتماعي مما أدى إلى زيادة نسبة الذكور لسكان الريف .

السؤال الثاني : ظلل الإجابة الصحيحة من بين البدائل المعطاة :

- ١- يتصف الريف بأنه مجتمع
 زراعي تجاري صناعي
- ٢- تتميز الحياة في الريف بالبساطة و
 التخلف الهدوء الحروب
- ٣- تواجه الكثير من المجتمعات الريفية ظاهرة الناتجة عن الرعي الجائر .
 التملح التصحر الجفاف

السؤال الثالث : أكمل العبارات التالية بكلمات مناسبة من عندك :

- ١- يرتبط قيام المجتمع الريفي بتوافر عنصرين أساسيين لقيام الحياة هما و
- ٢- يواجه المجتمع الريفي من مشكلة التملح و..... في المناطق الجافة .

السؤال الرابع : علل ما يلي " أذكر السبب " :

- ١ - يتصف الريف بأنه مجتمع زراعي

- ٢- زيادة نسبة الإناث في التركيب النوعي لسكان الريف

- ٣- " ضعف الإنتاج الزراعي الريفي في الدول النامية "

السؤال الخامس : أكتب بين القوسين المصطلح الدال على العبارات التالية :

- ١ : () الخطط التي يتم تصميمها بهدف تطوير الحياة الاقتصادية والاجتماعية لمجموعة معينة من الناس في المنطقة الريفية
- ٢ : () مشكلة تظهر في المناطق الجافة بسبب التملح والزحف الصحراوي .

السؤال السادس : اكتب ثلاثة أسباب لظاهرة التصحر :

--	--	--

السؤال السابع : " تواجه التنمية في المجتمع الريفي عدة مشكلات ومعوقات " اكتب اهم أربعة منها ؟

--	--	--	--

السؤال الثامن : أجب عن الأسئلة التالية :

س ١ : ماهي الأسباب الرئيسية لحركة الهجرة من الريف إلى المدن ؟

- ج ١ - ١
 -
 -

س ٢ : ماهي النتائج والمشكلات المترتبة على الهجرة من الريف إلى المدن ؟ أذكر ثلاث منها .

- ج ٢ : ١ -
 - ٢
 - ٣

س ٣ : " تواجه الزراعة في الوقت الحاضر عدة مشكلات " أذكر ثلاث منها ؟

- ١
 - ٢
 - ٣

س ٤ : " يواجه الريف مشكلات اجتماعية عدة ناتجة عن هجرة السكان من الريف إلى المدينة " أذكر مشكلتين منها ؟


- ج ٤ : ١ -
 - ٢

س ٥ : " يواجه الريف في الدول النامية بعض المشكلات الاقتصادية " اذكر أهمها ؟

- ج ٥ : ١-
- ٢-

س ٦ : للحكومة الرشيدة دور كبير في على دعم القطاع الزراعي ؟ اذكر عمليين لهذا الدعم .

- ج ٦ : ١-
- ٢-



الدراسات الاجتماعية

الصف السابع

٢٠٢٣ / ٢٠٢٢

أسئلة واجوبة

الفصل الدراسي الثاني

الوحدة الرابعة

درس : التحضر ومشكلات المدن

علي بن محمد الحسان

99493923

{ درس : التحضر ومشكلات المدن }

السؤال الأول : ضع علامة (✓) أو (X) أمام العبارة المناسبة مع تصحيح ما تمته خط إذا كانت العبارة خطأ :

- ١- (✓) يحدث الجزء الأكبر من النمو السكاني العالمي في المدن وبخاصة في الدول النامية .
- ٢- (X) في الوقت الحاضر بدأت ظاهرة الهجرة إلى المدن بالتزايد في الدول المتقدمة . بالتراجع
- ٣- (✓) أدى التسارع في النمو الحضري في السنوات الثلاثين الأخيرة إلى تزايد اعداد المدن المليونية .
- ٤- (✓) تقع معظم الدول المليونية في الدول النامية .
- ٥- (X) يقصد بالمدن المليونية الضخمة التي يزيد عدد سكانها عن (١٤) مليون نسمة. ١٢ مليون

السؤال الثاني : ظلل الإجابة الصحيحة من بين البدائل المعطاة :

١- يطلق على عملية تزايد نسبة سكان المدن إلى المجموع الكلي للسكان في بلد ما اسم ...

- الهجرة ○ التحضر ● المواليد ○

٢- أسهمت الثورة في الدول المتقدمة في زيادة نمو المدن وتضخمها ...

- الزراعية ○ التجارية ○ الصناعية ●

٣- ان ما نسبته من سكان المدن في العالم الآن هم من سكان مدن الدول النامية .

- ٤٠% ○ ٥٠% ● ٦٠% ○

٤- وصل عدد المدن المليونية مع بداية هذا القرن حوالي مدينه .

- ١٠٠ ○ ٢٠٠ ○ ٣٠٠ ●

السؤال الثالث : أكمل الجمل التالية بكلمات مناسبة من عندك :

- ١- نتيجة لاضطرار المهاجر لبناء مساكن متواضعة وبمواد غير ثابتة أدى ذلك إلى ظهور مدن الأكواخ .
- ٢- من الأمراض التي تظهر نتيجة في المدن الكبيرة نتيجة لتلوث الهواء والماء الكوليرا والتيفونيد والدوسنتاريا

السؤال الرابع : علل ما يلي " اذكر السبب " :

س ١ : " يحدث الجزء الأكبر من النمو في مدن الدول النامية "

ج ١ : بسبب الهجرة من الريف إلى المدن .

س ٢ : أسهمت الثورة الصناعية في الدول المتقدمة في زيادة نمو المدن وتضخمها


ج ٢ : نتيجة التطور الذي طرأ على الآلة الزراعية وهو ما قلل من عدد الأيدي العاملة في الزراعية .

السؤال الخامس : ماذا تمثل لك الصور التالية :

الاختناقات المرورية في المدن



التلوث في مدن الدول النامية



حي اكواخ في احدى المدن الكبيرة

السؤال السادس : أكمل الشكل بكتابة أربعة من المدن التي يزيد عدد سكانها عن ١٢ مليون نسمة

شنجهاي	نيويورك	طوكيو	مكسيكو سيتي
	ساوباولو	كاليكوتا	

السؤال السابع : " يترتب على ازدحام الطرق بالسيارات والمركبات إلى مشكلات اقتصادية " اكتب أهم مشكنتين ؟

تأخر نقل البضائع	ضياع ساعات العمل
------------------	------------------

السؤال الثامن : " يؤدي ازدحام الطرق بالسيارات والمركبات إلى مشكلات اجتماعية " أذكر أهم مشكنتين ؟

وجود إصابات كثيرة	وفاة كثير السكان
-------------------	------------------

السؤال التاسع : أجب عن الأسئلة التالية :

س ١ : ما المقصود بالتراجع الحضري ؟

ج ١ : هي ان ظاهرة الهجرة إلى المدن بدأت بالتراجع في الدول المتقدمة وأصبحت نسبة المدن إلى المجموع الكلي للسكان إما ثابتة أو أخذت بالتناقص ببطء وأصبحت هناك هجرة عكسية من المدينة إلى الريف .

س ٢ : ماهي المدينة الأسرع نمواً في العالم ؟ والمدينة الأكبر سكاناً ؟

ج ٢ : المدينة الأكثر نمواً هي " ساوباولو " والمدينة الأكثر سكاناً " مكسيكو سيتي "

س ٣ : " أدى النمو السريع للمدن في الدول النامية إلى ظهور مشكلات خطيرة " أذكر ثلاث من هذه المشكلات ؟

ج ٣ : ١- مشكلة الإسكان .

٢ - ضعف مستوى الخدمات الأساسية " الكهرباء ، الماء

٣- التلوث والصحة .

٤- الازدحام والاختناقات المرورية .

س ٤ : " يواجه المهاجر في المدن الضخمة ثلاثة خيارات " ماهي ؟

ج ٤ : ١ - استئجار غرفة واحدة إذا كان لديه المال اللازم .

٢- بناء مسكن على قطعة أرض لا يمتلكها وبمواد غير ثابتة .

٣- العيش والنوم على أرصفة الشوارع والأماكن والمساحات العامة إذا كان ليس لديه المال اللازم .

س ٥ : أذكر ثلاثة مما تتميز به مدن الأكواخ ؟

ج ٥ ١- بناء المنزل من بقايا الخشب أو الصفيح الذي يتم الحصول عليه من بقايا البناء .

٢- تفتقر المنازل إلى التخطيط وتنمو بسرعة كبيرة نظراً لازدحامها بالسكان .

٣- تنقصها الخدمات الأساسية كالمياه والصرف الصحي والكهرباء والشوارع .

س ٦ : " يواجه السكان في المدن الكبيرة في الدول النامية عدة مشاكل من حيث الخدمات " أذكر أربعة منها ؟

ج ٦ تتمثل هذه المشكلات في :

١- صعوبة الحصول على المياه الصالحة للشرب نظراً لضعف شبكات المياه .


٢- ضعف خدمات الصرف الصحي .

٥- نقص في المستشفيات .

٣- نقص في الكهرباء .

٦- ضعف الأمن

٤- نقص في المدارس



الدراسات الاجتماعية

الصف السابع

٢٠٢٣ / ٢٠٢٢

أسئلة

الفصل الدراسي الثاني

الوحدة الرابعة

درس : التحضر ومشكلات المدن

علي بن محمد الحسان

99493923

{ درس : التحضر ومشكلات المدن }

السؤال الأول : ضع علامة (✓) أو (X) أمام العبارة المناسبة مع تصحيح ما تحته خط إذا كانت العبارة خطأ :

- ١- () يحدث الجزء الأكبر من النمو السكاني العالمي في المدن وبخاصة في الدول النامية .
- ٢- () في الوقت الحاضر بدأت ظاهرة الهجرة إلى المدن بالتزايد في الدول المتقدمة .
- ٣- () أدى التسارع في النمو الحضري في السنوات الثلاثين الأخيرة إلى تزايد اعداد المدن المليونية .
- ٤- () تقع معظم الدول المليونية في الدول النامية .
- ٥- () يقصد بالمدن المليونية الضخمة التي يزيد عدد سكانها عن (١٤) مليون نسمة.

السؤال الثاني : ظلل الإجابة الصحيحة من بين البدائل المعطاة :

١- يطلق على عملية تزايد نسبة سكان المدن إلى المجموع الكلي للسكان في بلد ما اسم ...

- الهجرة التحضر المواليد

٢- أسهمت الثورة في الدول المتقدمة في زيادة نمو المدن وتضخمها ...

- الزراعية التجارية الصناعية

٣- ان ما نسبته من سكان المدن في العالم الآن هم من سكان مدن الدول النامية .

- ٤٠% ٥٠% ٦٠%

٤- وصل عدد المدن المليونية مع بداية هذا القرن حوالى مدينه .

- ١٠٠ ٢٠٠ ٣٠٠

السؤال الثالث : أكمل الجمل التالية بكلمات مناسبة من عندك :

١- نتيجة لاضطرار المهاجر لبناء مساكن متواضعة وبمواد غير ثابتة أدى ذلك إلى ظهور مدن

٢- من الأمراض التي تظهر نتيجة في المدن الكبيرة نتيجة لتلوث الهواء والماء الكوليرا و..... و.....


السؤال الرابع : علل ما يلي " اذكر السبب " :

س ١ : " يحدث الجزء الأكبر من النمو في مدن الدول النامية "


ج ١ :

س ٢ : أسهمت الثورة الصناعية في الدول المتقدمة في زيادة نمو المدن وتضخمها

ج ٢ :

السؤال الخامس : ماذا تمثل لك الصور التالية :





السؤال السادس : أكمل الشكل بكتابة أربعة من المدن التي يزيد عدد سكانها عن ١٢ مليون نسمة

السؤال السابع : " يترتب على ازدحام الطرق بالسيارات والمركبات إلى مشكلات اقتصادية " اكتب أهم مشكنتين ؟

السؤال الثامن : " يؤدي ازدحام الطرق بالسيارات والمركبات إلى مشكلات اجتماعية " أذكر أهم مشكنتين ؟

السؤال التاسع : أجب عن الأسئلة التالية :

س ١ : ما المقصود بالتراجع الحضري ؟

ج ١ :

س ٢ : ماهي المدينة الأسرع نموا في العالم ؟ والمدينة الأكبر سكانا ؟

ج ٢ :

س ٣ : " أدى النمو السريع للمدن في الدول النامية إلى ظهور مشكلات خطيرة " أذكر ثلاث من هذه المشكلات ؟

ج ٣ : ١ -

٢ -

٣ -

س ٤ : " يواجه المهاجر في المدن الضخمة ثلاثة خيارات " ماهي ؟

ج ٤ : ١ -

٢ -

٣ -

س ٥ : أذكر ثلاثة مما تتميز به مدن الأكواخ ؟

ج ٥ : ١ -

٢ -

٣ -

س ٦ : " يواجه السكان في المدن الكبيرة في الدول النامية عدة مشاكل من حيث الخدمات " أذكر أربعة منها ؟


ج ٦ : تتمثل هذه المشكلات في :

١ -

٢ -

٣ -

.....



الدراسات الاجتماعية

الصف السابع

٢٠٢٣ / ٢٠٢٢

أسئلة واجوبة

الفصل الدراسي الثاني

الوحدة الرابعة

درس : الاحتياجات السكانية

علي بن محمد الحسان

99493923

{ درس : الاحتياجات السكنية }

السؤال الأول : ضع علامة (√) أو (X) أمام العبارة المناسبة مع تصحيح ما تحته خط إذا كانت العبارة خطأ :

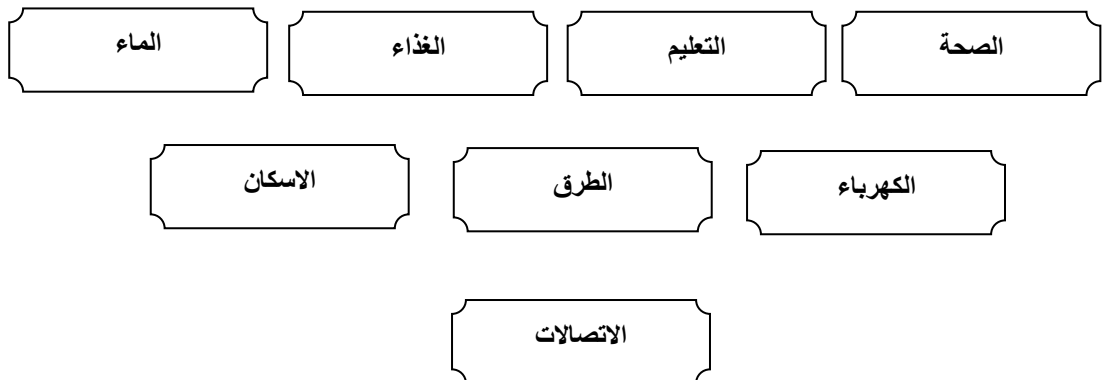
- ١- (√) تضع الحكومة الرشيدة المخططات السكنية وتوزع الأراضي السكنية على المواطنين يرسوم ميسرة .
- ٢- (√) برنامج المساعدات السكنية وضع لمساعدة الأسر ذات الدخل المحدود وتصرف كهبة من الدولة للمواطنين .
- ٣- (X) بنت الحكومة الرشيدة المدارس ووفرت التعليم لجميع المواطنين مقابل مبلغ مالي سنوي عن كل فرد . بالمجان

السؤال الثاني : أكمل الجمل التالية بكلمات مناسبة من عندك :

- ١- يتم توفير المواد الغذائية الأساسية للمواطنين بطريقتين الأولى الإنتاج المحلي والثانية الاستيراد من الخارج .
- ٢- يخدم برنامج القروض السكنية المواطنين ذوي الدخل المحدود ويسدد المواطن القرض بأقساط شهرية في مدة معينة
- ٣- تنوعت وسائل الاتصال لتشمل الهاتف الأرضي و الهاتف المتنقل وصولاً إلى الإنترنت .

السؤال الثالث: علل ما يلي " اذكر السبب " :

- س١ : تشجيع الحكومة الرشيدة للقطاع الخاص على إنشاء المحلات والمجمعات التجارية .
- ج١ : لإتاحة الفرصة للمواطنين للتسوق والحصول على احتياجاتهم المختلفة بأسهل الطرق .
- س٢ : تعانى السلطنة من شح المياه وجفاف بعض الأفلاج .
- ج٢ : بسبب قلة سقوط الأمطار .
- س٣ : تهتم السلطنة بتوفير الكهرباء لجميع القطاعات الاقتصادية والصناعية والتجارية والزراعية .
- ج٣ : بهدف التنمية وتشجيع الاستثمار .

السؤال الرابع : اكمل الشكل التالي بكتابة خمسة من الاحتياجات الضرورية للإنسان وترعاها الدولة

السؤال الخامس : اكمل الجدول التالي بدور الحكومة الرشيدة في المجالات التالية :

الكهرباء	الصحة	التعليم
تم توصيل الكهرباء للتجمعات السكانية في السلطنة ووفرتها لجميع القطاعات الخدمية المختلفة " اقتصاد - زراعة - صناعة "	وفرت الدولة المستشفيات والمراكز الصحية بمختلف ولايات ومناطق السلطنة وزودتها بالكوادر الطبية وبالأجهزة الطبية المختلفة .	بنت المدارس في جميع ربوع عمانا الحبيبة وزودتها بالكوادر الإدارية والتدريسية والاثاث وكل الوسائل التعليمية حيث استفاد منها كل مواطن أينما كان وبالمجان .

السؤال السادس : أكتب تحت الصورة الخدمة التي تمثلها الصور التالية :

الكهرباء



التعليم



الصحة



الطرق




الغذاء



المياه



الاتصالات



الأسكان

السؤال السابع : أجب عن الأسئلة التالية :

س ١ : ماهي الطرق التي سعت اليها الحكومة الرشيدة لتوفير المواد الغذائية للمواطنين ؟

- ج ١ - أقامه الأسواق التجارية في مختلف محافظات السلطنة وتطوير القائم منها .
- شجعت القطاع الخاص على إنشاء المحلات والمجمعات التجارية

س ٢ : " حرصت الحكومة الرشيدة على توفير السكن الملائم للمواطنين " كيف يتم ذلك ؟

- ج ٢ أ - مجال التخطيط والمساحة " توزيع الأراضي السكنية على المواطنين "
ب - مجال الإسكان الاجتماعي حيث تعمل على إيجاد برامج إسكان اجتماعي تناسب مختلف فئات السكان .

س ٣ : " مجال الإسكان الاجتماعي في السلطنة له برنامجان " ما هما ؟


- ج ٣ : ١- برنامج المساعدات السكنية : وهي تخدم ذوي الدخل المتوسط وأسر الضمان الاجتماعي وتصرف كهبة من الدولة للمواطنين.
٢- برنامج القروض السكنية : ويخدم ذوي الدخل المتوسط ويسدد المواطن القرض بأقساط شهرية في مدة معينة حسب حجم القرض .

س ٤ : ما هو دور المواطن في الحفاظ على توفير المياه الصالحة وعدم استنزافها ؟

- ج ٤ : ١- عدم الإسراف في استخدام المياه .
٢- التعاون مع الجهود المبذولة من الحكومة في ترشيد المياه .

س ٥ : " تعد الطرق من الوسائل الضرورية للإنسان والدولة " اذكر ثلاث فوائد للطرق ؟ .

- ج ٥ : ١- تربط بين التجمعات السكانية بالمدن .
٢- تربط مواقع الإنتاج بأسواق الاستهلاك والتصدير
٣- تعد مؤشراً على التحضر في الدولة .
٤- ربط الدولة بالدول المجاورة .



الدراسات الاجتماعية

الصف السابع

٢٠٢٣ / ٢٠٢٢

أسئلة

الفصل الدراسي الثاني

الوحدة الرابعة

درس : الاحتياجات السكانية

علي بن محمد الحسان

99493923

{ درس : الاحتياجات السكنية }

السؤال الأول : ضع علامة (√) أو (X) أمام العبارة المناسبة مع تصحيح ما تحته خط إذا كانت العبارة خطأ :

- ١- () تضع الحكومة الرشيدة المخططات السكنية وتوزع الأراضي السكنية على المواطنين برسوم ميسرة .
- ٢- () برنامج المساعدات السكنية وضع لمساعدة الأسر ذات الدخل المحدود وتصرف كهيئة من الدولة للمواطنين .
- ٣- () بنت الحكومة الرشيدة المدارس ووفرت التعليم لجميع المواطنين مقابل مبلغ مالي سنوي عن كل فرد .

السؤال الثاني : أكمل الجمل التالية بكلمات مناسبة من عندك :

- ١- يتم توفير المواد الغذائية الأساسية للمواطنين بطريقتين الأولى الإنتاج المحلي والثانية
- ٢- يخدم برنامج القروض السكنية المواطنين ذوي الدخل المحدود ويسدد المواطن القرض بأقساط في مدة معينة
- ٣- تنوعت وسائل الاتصال لتشمل الهاتف الأرضي و الهاتف وصولاً إلى

السؤال الثالث: علل ما يلي " اذكر السبب " :

س١ : تشجيع الحكومة الرشيدة للقطاع الخاص على إنشاء المحلات والمجمعات التجارية .

ج١ :

س٢ : تعاني السلطنة من شح المياه وجفاف بعض الأفلاج.

ج٢ :

س٣ : تهتم السلطنة بتوفير الكهرباء لجميع القطاعات الاقتصادية والصناعية والتجارية والزراعية .

ج٣ :

السؤال الرابع : اكمل الشكل التالي بكتابة خمسة من الاحتياجات الضرورية للإنسان وترعاها الدولة

السؤال الخامس : اكمل الجدول التالي بدور الحكومة الرشيدة في المجالات التالية :

الكهرباء	الصحة	التعليم

السؤال السادس : أكتب تحت الصورة الخدمة التي تمثلها الصور التالية :















السؤال السابع : أجب عن الأسئلة التالية :

س ١ : ماهى الطرق التى سعت اليها الحكومة الرشيدة لتوفير المواد الغذائية للمواطنين ؟

ج ١ -
-

س ٢ : " حرصت الحكومة الرشيدة على توفير السكن الملائم للمواطنين " كيف يتم ذلك ؟

ج ٢ أ -
ب -

س ٣ : " مجال الإسكان الاجتماعى فى السلطنة له برنامجان " ما هما ؟

ج ٣ : ١ -
٢ -

س ٤ : ما هو دور المواطن فى الحفاظ على توفير المياه الصالحة وعدم استنزافها ؟

ج ٤ : ١ -
٢ -

س ٥ : " تعد الطرق من الوسائل الضرورية للإنسان والدولة " اذكر ثلاث فوائد للطرق ؟ .

ج ٥ : ١ -
٢ -
٣ -