

شكراً لتحميلك هذا الملف من موقع المناهج العمانية



تجميع أسئلة اختبارات زاويتي في الوحدة الثانية

موقع المناهج ← المناهج العمانية ← الصف الثامن ← اجتماعيات ← الفصل الأول ← الملف

التواصل الاجتماعي بحسب الصف الثامن



روابط مواد الصف الثامن على تلغرام

[الرياضيات](#)

[اللغة الانجليزية](#)

[اللغة العربية](#)

[التربية الاسلامية](#)

المزيد من الملفات بحسب الصف الثامن والمادة اجتماعيات في الفصل الأول

[نموذج أسئلة الاختبار الرسمي لمحافظة \(ظفار\)](#)

1

[نموذج أسئلة الاختبار الرسمي \(جنوب الباطنة\)](#)

2

[نموذج إجابة الاختبار الرسمي \(جنوب الباطنة\)](#)

3

[نموذج أسئلة الاختبار الرسمي \(جنوب الباطنة\)](#)

4

[أسئلة الاختبار الرسمي شمال الشرقية](#)

5



تجميع أسئلة اختبارات زاويتي (أسئلة الخرائط) الوحدة
الثانية للصف الثامن

تنسيق الأستاذة :- خيرية المطاعي

اللهم أجعل النية من هذا العمل صدقة لأخي (رحمه الله)

أدرس الخريطة التي أمامك جيدا ثم اجبني عن الأسئلة التي تليها:

الدولة التي استتجد أهلها بالسيد سلطان بن احمد
والمشار إليها بالرقم.....(1) ص 58
ب- الميناء الذي استأجرته حكومة السيد سعيد بن
سلطان
والمشار إليه بالرقم (3).....

تم ص 71 موقع المناهج العمانية
هذا الملف من

ب- انظر إلى الخريطة التي أمامك ثم اجب عن الأسئلة التي تليها:

1- ضع دائر حول الدولة التي حررها السيد سالم بن سلطان من الفرس.

2- وقع على الخريطة خط سير الأسطول العماني الذي أرسله الإمام احمد بن سعيد لنجدة أهل البصرة. ص 56

3- ظلل على الخريطة امتداد الإمبراطورية العمانية في قارة آسيا في عهد السيد سعيد بن سلطان.

**الامتداد - اللون
الوردي ص 61**

٨ (يتضح من خلال الخريطة التي امامك ان المدينة التي تمكن الاسطول العماني من تحريرها من يد الفرس هي :

(أ) البصرة (ب) بوشهر (ج) بغداد (د) الرستاق

ص 56



تم تحميل هذا الملف من
موقع المناهج العمانية



ص 58

ص 56

الكوس ص 34

٣) ادرس الخريطة جيدا ثم اجب على الأسئلة التي تليها

(أ) تشير الخريطة التي امامك لأحد أهم الأعمال الخارجية

للإمام سلطان بن أحمد . ماهو؟ **النجدة العمانية لاهل
البحرين وتحريرهم من
الفرس**

(ب) "سأهم الإمام أحمد بن سعيد في أخراج الفرس من عمان

والخليج العربي والمحيط الهندي" في ضوء ذلك أرسم على

الخريطة خط سير الأسطول العماني لنجدة البصرة

بأستخدام السهم ← **الخط باللون البرتقالي**

(ج) ما اسم الرياح المحلية التي تهب على عمان والمشار إليها

بالرمز (أ)؟ **الكوس**



٨- الرقم (١) بالشكل يشير إلى ميناء الذي استأجرته حكومة السيد سعيد بن سلطان من بلاد فارس :

أ- البصرة ب- سيراف ج- بندر عباس د- لنجا

ص 71

(٨ درجات)



السؤال الثالث: أجب عن الأسئلة التالية:

أولاً: ادرس الخريطة التي أمامك ثم أجب عن الأسئلة الآتية

١. سمّ المسطح المائي المشار إليه بالرقم (١).

٢. ضع دائرة حول عاصمة عمان في عهد الإمام أحمد بن سعيد.

ص 59 التحديد باللون البنفسجي

٣. ارسم على الخريطة خط سير الأسطول العماني لنجدة

البصرة في عهد الإمام أحمد بن سعيد.

الخط باللون الوردي

ص 56

المحيط الهندي

٣) أمامك خريطة صماء ادرسها جيدا ثم اجب الأسئلة التالية :

أ) الرقم الذي يشير إلى عاصمة عمان زمن الإمام

أحمد بن سعيد . (رقم 2)

ب) ارسم على الخريطة خط سير الأسطول العماني

لنجد أهل البصرة زمن السيد أحمد بن سعيد .

ج) اسم البحر المشار إليه بالرقم (٣) .

بحر عمان.....



تم تحميل هذا الملف من
موقع المناهج العمانية

alManahi.com/om

٢- من خلال خريطة شبه الجزيرة العربية التي أمامك أجب عن الأسئلة التي تليها.



أ- وقع على الخريطة خط سير الأسطول الذي أرسله السيد سلطان بن أحمد لنجدة أهل البحرين بقيادة أبه سالم.

ب- ضع دائرة حول المدينة التي أتخذها الإمام أحمد بن سعيد عاصمة له.

ج- أكتب على الخريطة:

- مدينة البصرة.

- الخليج العربي.

ص 58-59

ص 55-56

1- انظر إلى الخريطة التي أمامك ، ثم أجب عن الأسئلة التي تليها :



الخط باللون البنفسجي

ص 56

(أ) ارسم على الخريطة خط سير الأسطول العماني لنجدة أهل البصرة زمن السيد أحمد بن سعيد .

(ب) وقع على الخريطة موقع بحر العرب . ص 56

موقع المناهج العُمانية

5 - الحملة العسكريه التي انطلقت من مسقط لنجدة سكان المنطقة الواضحة في الخريطة من سيطرة



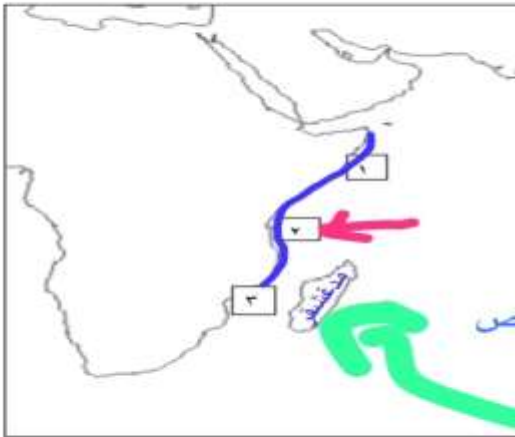
الفرس .. كانت في عهد السلطان :

(أ) أحمد بن سعيد (ب) حمد بن سعيد

(ج) سلطان بن أحمد (د) سعيد بن سلطان

ص 58

2- ادرس الخريطة التي أمامك ، ثم أجب عن الأسئلة التي تليها:



(أ) ظلل امتداد الامبراطورية العمانية زمن

السيد سعيد بن سلطان في قارة أفريقيا .

الخط باللون البنفسجي ص 75

(ب) ما الرقم الذي يشير إلى العاصمة الثانية

للسيد سعيد بن سلطان ؟

رقم (2) زنجبار 75-74 ص

(ج) وقع على الخريطة جزيرة مدغشقر .

ص 75

٤ - الحملة العسكرية التي انطلقت من مسقط لنجدة سكان المنطقة الواضحة في الخريطة من سيطرة



الفرس .. كانت بقيادة :

- (أ) تركي بن سلطان
(ب) هلال بن أحمد
(ج) سالم بن سلطان ✓
(د) سعيد بن سلطان

ص 58



٦. الرقم الذي يشير لمدينة مقديشو:

ص 60

ب / ٢

د / ٤

أ / ١

ج / ٣

alManahj.com/om

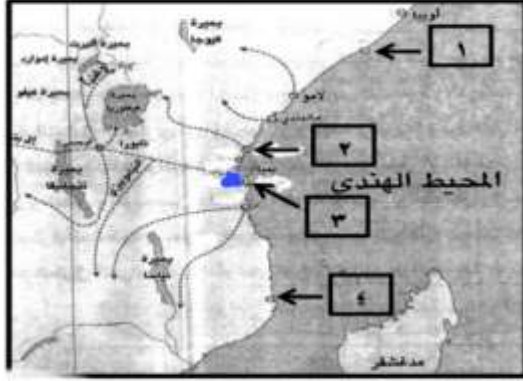
١٤ (ادرس الخريطة التي أمامك، ثم اجب عن الأسئلة الآتية:



(أ) ما الرقم الذي يشير إلى المدينة التي أصبحت عاصمة للسلطان حمد بن سعيد؟ رقم 1 ص 57
(ب) علل: استجد أهل المنطقة المشار إليها بالرقم (٣) بالسيد سلطان بن أحمد.

لنجدتهم من الغزو الفارسي ص 58

٨) الرقم الذي يشير إلى المدينة التي اتخذها السيد سعيد بن سلطان عاصمة ثانية لدولته، وفقاً للخريطة التي



أمامك:

١ (أ)

٢ (ب)

٣ (ج)

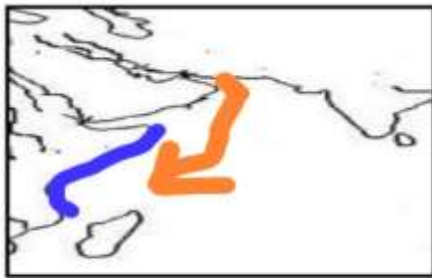
٤ (د)

ص 66-74

ثانياً : أدرس خريطة العالم التي أمامك ثم أكتب أمام المفردات التالية الرقم الدال على الإجابة الصحيحة :



الرقم	المعطيات
3	١- أحد الموانئ على الساحل الغربي للهند . ص 72
6	٢- المنطقة التي كان للعمانيين الفضل في إدخال صناعة الصابون إليها لأول مرة ص 64
4	٣- موقع المحيط الهندي ص 72



ص 61

ب . أمامك خريطة المحيط الهندي ادرسها جيداً ثم أجب

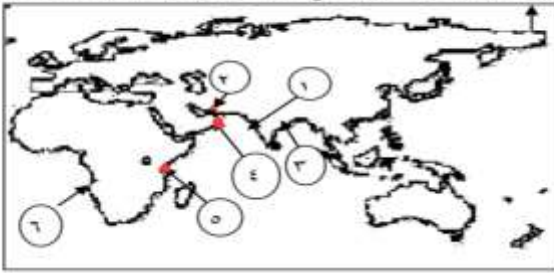
اجابه السؤال الاول

(بنفسج)

عما يلي :

- ١ . ظل امتداد الامبراطورية العمانية في شرق افريقيا في عهد السيد سعيد بن سلطان في الخريطة .
- ٢ . ارسم سهماً يوضح حركة السفن العمانية باتجاه شرق افريقيا . حركة الرياح (برتقالي)

٤ - الأرقام التي تشير إلى السواحل التي امتدت إليها الإمبراطورية العمانية في عهد السيد سعيد بن سلطان في الخريطة المقابلة :



- أ. (٣، ٢، ١) ✓
 ب. (٥، ٤، ٢)
 ج. (٦، ٥، ٤)
 د. (٥، ٤، ٣)

ص 61

تم تحميل هذا الملف من

السؤال الرابع:

أ) أمامك خريطة توضح مسار حملة النجدة العمانية لأهل البحرين، ادرسها وأجب عن الأسئلة المقابلة:



استنتج من الخريطة ما يلي:

- ١ - المدينة التي خرجت منها الحملة.
مسقط
 ٢ - الجهة التي تقع فيها بلاد فارس بالنسبة لعمان.
الشمال
 ٣ - المسطحات المائية التي مرت بها الحملة.
بحر عمان - مضيق هرمز - الخليج العربي

ص 59

٧ - قائد الحملة العسكرية التي انطلقت من مسقط لنجدة سكان المنطقة الواضحة في الخريطة من سيطرة الفرس:



- أ - سالم بن سلطان. ✓
 ب - سعيد بن سلطان.
 ج - سلطان بن أحمد.
 د - هلال بن أحمد.

ص 58

أ- انظر إلى الخريطة التي أمامك، ثم أجب عن الأسئلة الآتية



تم تحميل هذا الملف من

- ١- ما الرقم الذي يشير إلى الدولة التي بعث السيد سعيد بن سلطان سفينته (سلطانه) لتعزيز العلاقات السياسية والتجارية معها؟ رقم 2 ص 76 (درجة)
- ٢- اذكر مثال واحد على سلعة تجارية تستوردها عمان في عهد دولة البوسعيد من الدولة المشار إليها برقم (٤).
..... القطن - الصوف - الصنيدل - المسك ص 72 (درجة)

تابع- السؤال الأول:

٦ اقصى بحيرة يصل إليها الطريق الجنوبي للقوافل التجارية العمانية في شرقي افريقيا حسب الخريطة المقابلة:



- (أ) تنجانيقا.
(ب) فيكتوريا.
(ج) نياسا.
(د) كيوجا.

ص 66

السؤال الثالث: اجب عن الأسئلة الآتية:

أولاً: ادرس الخريطة التي أمامك ، ثم أجب عن الأسئلة الآتية:

- ١- ارسم على الخريطة خط سير الأسطول العماني لجددة البصرة زمن الإمام أحمد بن سعيد. ص 53
٢- البحر الذي يحد عمان من جهة الجنوب (أكمل). ص 53
٣- في أي جهة تقع البصرة بالنسبة للعراق؟ الجنوب
٤- أكتب على الخريطة بلاد (فارس) في مكانها الصحيح. ص 59



ص 59

مركز

السؤال الرابع : (٨ درجات)

(١) امامك خريطة صماء للمحيط الهندي ادرسها جيدا ثم اجب عما ا

(أ) ارسم خط سير الطريق التجاري من مسقط

الى خليج البنغال .

(ب) اذكر اثنين من البضائع التي كانت تستوردها

السفن العمانية من المنطقة المشار اليها برمز (أ) .



الارز-القطن -
الصوف -
الصنديل -
المسك - الكافور

١ ٢

موقع المناهج العمانية

(ب) انظر إلى الخريطة التي امامك ثم اجب عن الأسئلة التي تليها:

١- ارسم على الخريطة خط سير

سفينة الرحماني لنجدة البصرة.

٢- تقع فارس بالنسبة لعمان في جهة

الشمال - أكمل

٣- استخرج من الخريطة أحد الموائ

التي اخضعها العمانيون في عهد السيد

سلطان بن أحمد - هرمون - جواسر - قشم

٤- أكتب على الخريطة - بندر عباس

(المحيط الهندي) في مكانه الصحيح .

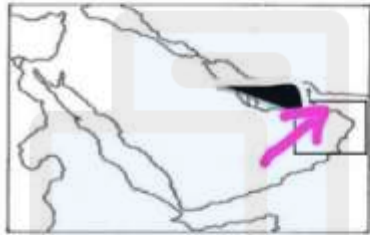


يتبع/٥

السؤال الرابع (٨ درجات)



(١)



(٢)

أولاً: أمامك خريطتان توضحان دور الاسطول العماني في منطقه

الخليج العربي اجب عن الأسئلة التالية:

١- الخريطه (١) توضح نجده اهل عمان لمدينه حدد اسم المدينه على الخريطه؟

٢- الخريطه (٢) توضح نجده اهل عمان لأهل البحرين اكتب العاصمة العمانيه

خلال تلك الفترة؟

موقع: www.almanahj.com/om

ص 56

ص 59

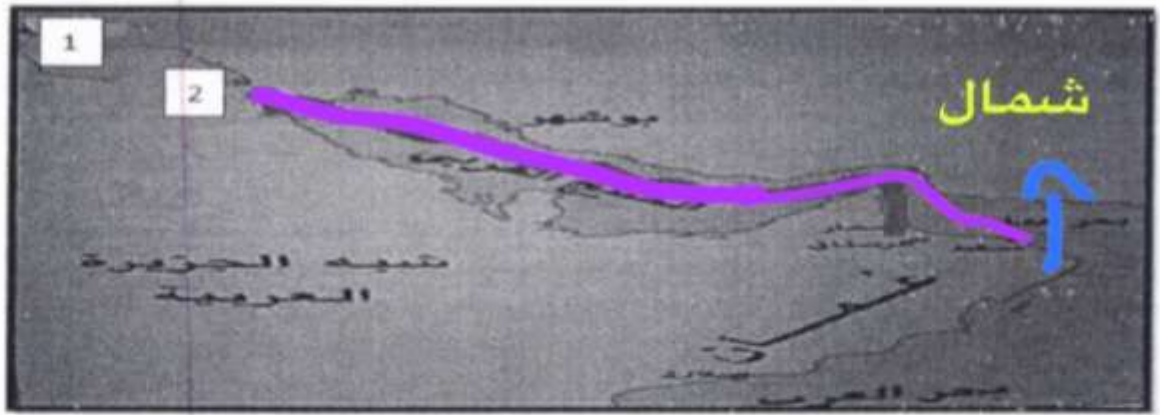
تابع السؤال الأول:

٦- الدولة التي يشير إليها السهم في الخريطة
أمامك:

أ) قطر ص 59 ب) البحرين

ج) الكويت د) السعودية





أ) ارسم خط سير حملة الأسطول العماني لتجدة أهل البصرة.
 ب) ما الاتجاه الذي سلكته الحملة قبل دخولها الخليج العربي؟

موقع المشايخ العُمالي

ج) ما الرقم الذي يشير إلى موقع مدينة البصرة؟

رقم (2)

alManahj.com/om

ص 56

٥ (قائد الحملة العسكرية للمنطقة المشار إليها بالرمز أ) لتخليصها من سيطرة الفرس عام ١٧٧٥م :



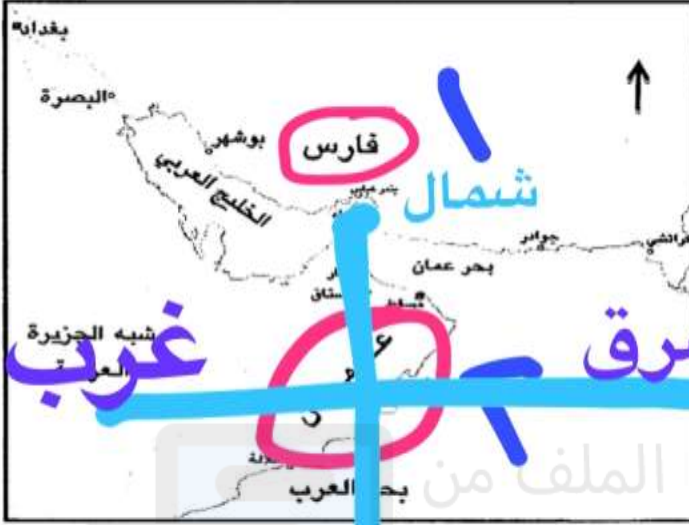
أ (سلطان بن احمد

ب (احمد بن سعيد

ج (هلال بن احمد

د (سالم بن سلطان

ب) انظر إلى الخريطة التي أمامك ثم أجب عن الأسئلة التي تليها:



- 1- ارسم على الخريطة خط سير سفينة الرحماني لنجدة البصرة.
- 2- تقع فارس بالنسبة لعمان في جهة **شمال** أكمل
- 3- استخرج من الخريطة أحد الموانئ التي اخضعها العمانيون في عهد السيد سلطان بن أحمد
- 4- أكتب على الخريطة (المحيط الهندي) في مكانه الصحيح.

يتبع/٥

موقع المناهج العمانية
alManahj.com/om

ب) انظر إلى الخريطة التي أمامك ثم أجب عن الأسئلة التي تليها:



- 1- ارسم على الخريطة خط سير سفينة الرحماني لنجدة البصرة.
- 2- تقع فارس بالنسبة لعمان في جهة **الشمال** أكمل
- 3- استخرج من الخريطة أحد الموانئ التي اخضعها العمانيون في عهد السيد سلطان بن أحمد
- 4- أكتب على الخريطة (المحيط الهندي) في مكانه الصحيح.

يتبع/٥

٨- يشير الرقم (٢) في الخريطة إلى أحد طرق القوافل البرية العمانية في شرقي أفريقيا :



- أ- الشمالي
- ب- الأوسط
- ج- الجنوبي ✓
- د- الغربي

ص ٦٥-٦٦

alManahj.com/om

٨- الرقم (١) بالشكل يشير إلى ميناء الذي استأجرته حكومة السيد سعيد بن سلطان من بلاد فارس :



- أ- البصرة
- ب- سيراف
- ج- بندر عباس
- د- لنجا

ص 71