

شكراً لتحميلك هذا الملف من موقع المناهج العمانية



أسئلة الاختبار الرسمي شمال الشرقية

[موقع المناهج](#) ← [المناهج العمانية](#) ← [الصف الثامن](#) ← [اجتماعيات](#) ← [الفصل الأول](#) ← [الملف](#)

التواصل الاجتماعي بحسب الصف الثامن



روابط مواد الصف الثامن على تلغرام

[الرياضيات](#)

[اللغة الانجليزية](#)

[اللغة العربية](#)

[التربية الاسلامية](#)

المزيد من الملفات بحسب الصف الثامن والمادة اجتماعيات في الفصل الأول

نموذج أسئلة الاختبار الرسمي لمحافظة (ظفار)	1
نموذج أسئلة الاختبار الرسمي (جنوب الباطنة)	2
نموذج إحابة الاختبار الرسمي (جنوب الباطنة)	3
نموذج أسئلة الاختبار الرسمي (جنوب الباطنة)	4
أسئلة الاختبار الرسمي شمال الشرقية	5

١٢ درجة

أجب عن جميع الأسئلة الآتية

السؤال الأول: ضع دائرة حول رمز الإجابة الصحيحة لكل مفردة من المفردات الآتية:

١- التيار البحري البارد المسبب لقلّة الأمطار في جنوب غربي أفريقيا:

أ. الكناري ب. القطبي الجنوبي ج. بيرو د. بنجويلا

٢- الجدول الصحيح الذي يوضح العلاقة بين الضغط الجوي والتضاريس:

ب.

التضاريس	الضغط الجوي
سطح البحر	متوسط
هضبة	مرتفع
جبل	منخفض

أ.

التضاريس	الضغط الجوي
سطح البحر	مرتفع
هضبة	متوسط
جبل	منخفض

د.

التضاريس	الضغط الجوي
سطح البحر	مرتفع
هضبة	منخفض
جبل	متوسط

ج.

التضاريس	الضغط الجوي
سطح البحر	منخفض
هضبة	متوسط
جبل	مرتفع

٣- يطلق على شكل التكاثف الواضح في الصورة المقابلة:

ب. الندى

أ. الضباب

د. السحب

ج. التساقط



السؤال الخامس: أجب عن الأسئلة الآتية:

أ- أكمل البطاقة التعريفية الآتية:

٦ درجات

اسم الإقليم
الامتداد	بين درجتي عرض ٦٦° - ٩٩° جنوب وشمال دائرة الاستواء
مناطق ضمن الإقليم	جزيرة جرينلاند وأيسلندا
الخصائص المناخية	١- ٢-
الحالة الاستثنائية للمناطق الشمالية (١٩ مارس - ٢٣ سبتمبر)

ب- اكتب بين القوسين رقم الترتيب الصحيح من (١-٦) لمكونات جهاز التنظيم الإداري لسلطنة عمان:

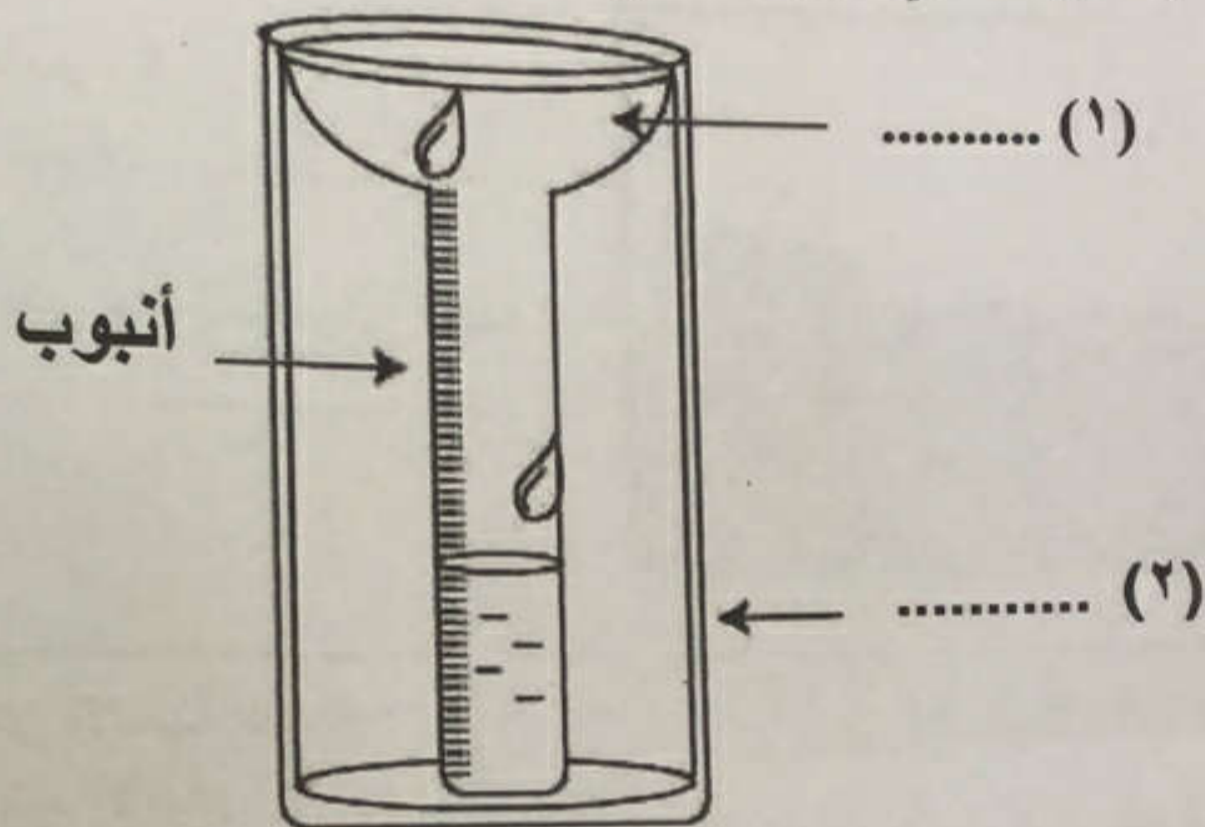
- () - مجلس عمان
- () - الشؤون المالية
- () - السلطان (رئيس الدولة)
- () - السلطة القضائية
- () - المجالس المتخصصة
- () - مجلس الوزراء

النجاح والتوفيق للجميع

تابع/ السؤال الرابع

ب - أجب عن السؤال الآتي:

١- استكمل كتابة البيانات في الجهاز التالي.



٢- ما فائدة الأنبوب المستخدم في هذا الجهاز؟

ج - اذكر تفسيرا واحدا لكل مما يأتي:


١- انخفاض درجة الحرارة شتاءً واعتدالها صيفاً في ولاية الجبل الأخضر.

٢- زيادة سرعة الرياح وانخفاضها من مكان لآخر على سطح الأرض.

المادة: الدراسات الاجتماعية (٧)
 الصف: الثامن
 العام الدراسي ٢٠٢٢/٢٠٢٣ م
 الدور الأول - الفصل الدراسي الأول

تابع/ السؤال الثالث:

ج. من خلال دراسة المعلم الحضاري الواضح في الصورة أمامك، أجب عن الأسئلة التالية:



١- ما اسم المعلم الحضاري؟

.....

٢- سمي الإمام الذي بُني هذا المعلم في عهده؟

.....

السؤال الرابع: أجب عن الأسئلة التالية:
 أ- أكمل خريطة المفاهيم الآتية:

٦ درجات

طرق القوافل التجارية البرية العمانية في شرق أفريقيا

الطريق

الطريق الجنوبي

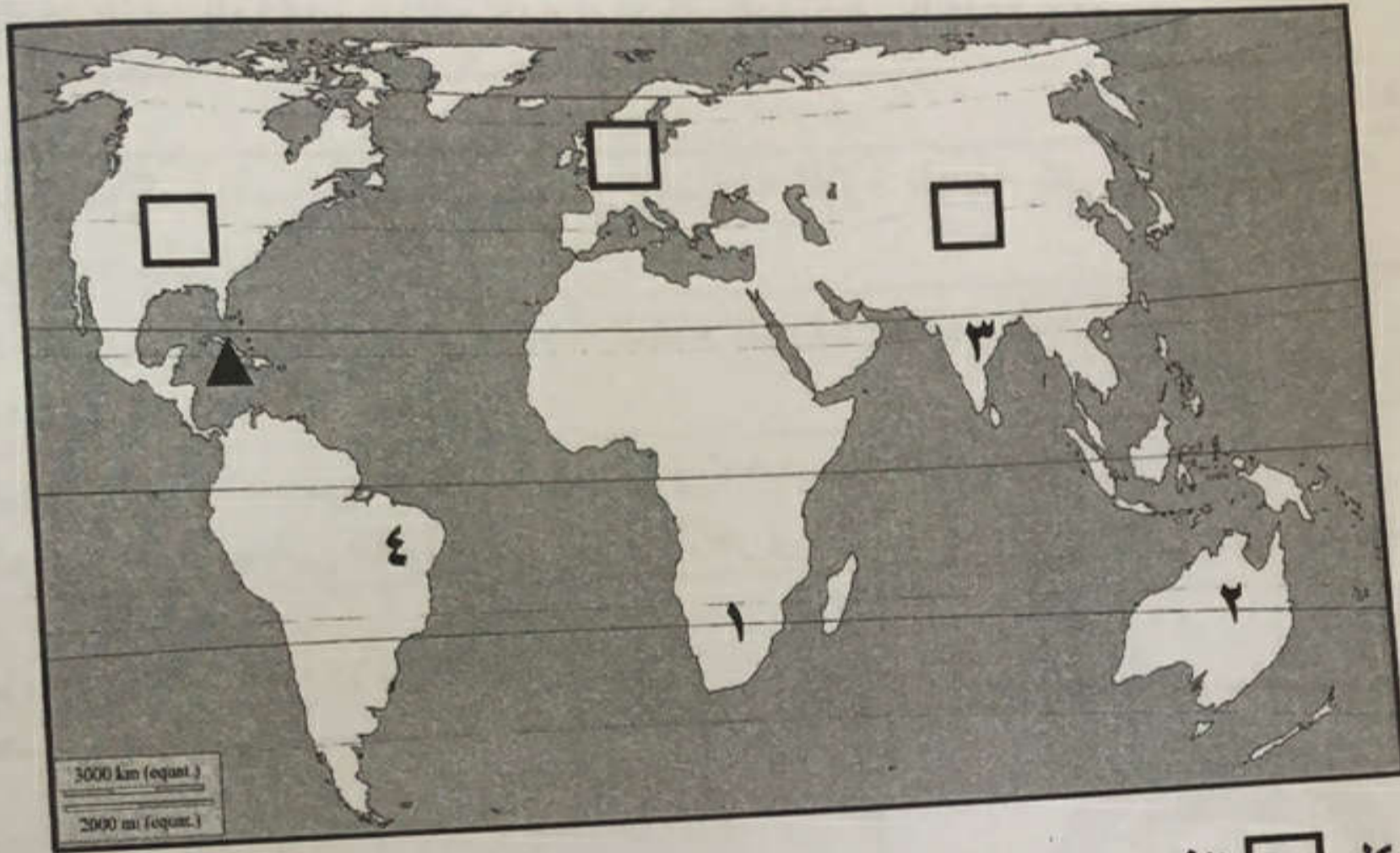
الطريق

يمتد من كلوه
 وينتهي في

يبدأ من ممباسا
 و.....
 وينتهي في
 البحيرات
 الاستوائية

يبدأ من الموانئ
 المواجهة
 تانغة وبنغاني
 وبغمايو)
 وينتهي إلى
 البحيرات ونهر
 الكونغو

السؤال الثالث: أجب عن الأسئلة الآتية
 أ- أمامك خريطة العالم، ادرسها جيدا ثم أجب عن الأسئلة التالية:



- ١- ظلل الشكل □ الذي يشير إلى الدولة التي وصلتها السفينة سلطنة عام ١٨٤٠ م.
 - ٢- يطلق على الأعاصير التي تتعرض لها المنطقة المشار إليها بالرمز (▲)
 - ٣- الرقم الذي يشير إلى الدولة التي:
 (أ) أمن الإمام أحمد بن سعيد طريقها التجاري البحري ضد القراصنة
 (ب) تقع بها الصحراء الرملية العظمى
- ب- بالاستعانة بالجدول الآتي، أجب عن السؤال التالي:

الفرق بين قراءتي الترمومترين الجاف والمبلل															قراءة الترمومتر
															حرارة الجاف
١٥	١٤	١٣	١٢	١١	١٠	٩	٨	٧	٦	٥	٤	٣	٢	١	٩٤
٣٤	٣٧	٤٠	٤٤	٤٨	٥٢	٥٦	٦٠	٦٤	٦٩	٧٣	٧٨	٨٣	٨٩	٩٤	٤٧
٣٣	٣٦	٤٠	٤٣	٤٧	٥١	٥٥	٥٩	٦٤	٦٨	٧٣	٧٨	٨٣	٨٩	٩٤	٤٦
٣٢	٣٥	٣٩	٤٢	٤٦	٥٠	٥٤	٥٩	٦٣	٦٨	٧٣	٧٨	٨٣	٨٨	٩٤	٤٥

- ١- إذا كانت قراءة الترمومتر الجاف (٤٥°س)، وكان المبلل (٣٠°س)، احسب نسبة الرطوبة في الهواء؟



السؤال الثاني: أجب عن الأسئلة الآتية:

٨ درجات

أ - اكتب المصطلح/ المفهوم الدال عليه أمام كل عبارة في الجدول الآتي:

م	العبارة	المصطلح/المفهوم
١	جهاز مركب يقيس الضغط الجوي ويسجله لفترة طويلة على شريط أسطواني.	
٢	اضطراب مؤقت في الجو نتيجة التقاء الهواء القطبي البارد مع الهواء المداري الدافئ.	
٣	جهاز إداري يتولى فرض الرسوم وتحصيلها على البضائع الواردة إلى موانئ الدولة من الدول الأخرى.	

ب - أكمل جدول المقارنة الآتي:

م	وجه المقارنة	
١	سنة التأسيس	
٢	طريقة التعيين	

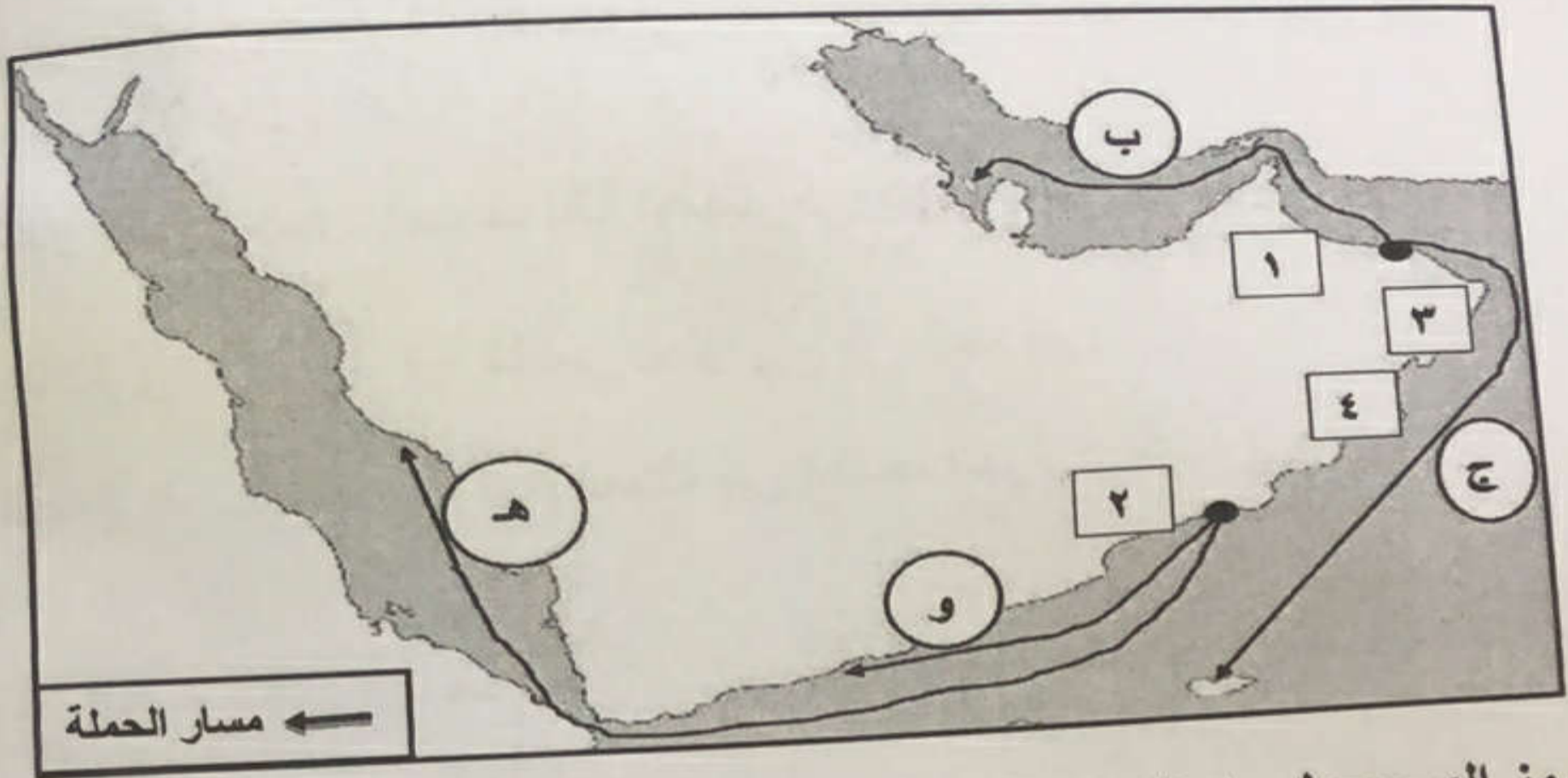
ج - اذكر نتيجة واحدة ترتبت على الآتي:

١ - تأسيس المطبعة السلطانية في عهد السلطان برغش بن سعيد.

٢ - مرور مدار السرطان على محافظة مسقط شتاءً.

تابع السؤال الأول:

بالاستعانة بخريطة شبه الجزيرة العربية اجب عن المفردتين (٤-٥)



٤- الرمز الصحيح لمسار النجدة العمانية عام ١٧٨٣م:

- أ. (هـ) ب. (و) ج. (ب) د. (ج)

٥- الرقم الذي يشير الى المدينة العمانية التي بدأ بها الرصد الجوي المنتظم عام ١٩٤٢م:

- أ. (١) ب. (٢) ج. (٣) د. (٤)

٦- الصورة التي تدل على المصدر الرئيسي للحرارة على سطح الأرض:

