

تم تحميل هذا الملف من موقع المناهج العُمانية



* للحصول على أوراق عمل لجميع الصفوف وجميع المواد اضغط هنا

<https://almanahj.com/om>

* للحصول على أوراق عمل لجميع مواد الصف الثامن اضغط هنا

<https://almanahj.com/om/8>

* للحصول على جميع أوراق الصف الثامن في مادة اجتماعيات ولجميع الفصول, اضغط هنا

<https://almanahj.com/om/8social>

* للحصول على أوراق عمل لجميع مواد الصف الثامن في مادة اجتماعيات الخاصة بـ الفصل الثاني اضغط هنا

<https://almanahj.com/om./8social2>

* لتحميل كتب جميع المواد في جميع الفصول للـ الصف الثامن اضغط هنا

<https://almanahj.com/om./grade8>

للتحدث إلى بوت المناهج العمانية على تلغرام: اضغط هنا

https://t.me/omcourse_bot



امتحان الصف الثامن الأساسي
للعام الدراسي ١٤٣٧/١٤٣٨ هـ - ٢٠١٦/٢٠١٧ م
الدور الأول - الفصل الدراسي الثاني

- المادة: الدراسات الاجتماعية.
- زمن الإجابة : ساعة ونصف .
- عدد صفحات أسئلة الامتحان: (٥) صفحات.
- الإجابة في الورقة نفسها.

			اسم الطالب
	الصف		المدرسة

التوقيع بالاسم		الدرجة		السؤال
المصحح الثاني	المصحح الأول	بالحروف	بالأرقام	
				١
				٢
				٣
				٤
مراجعة الجمع	جمعه			المجموع
				المجموع الكلي

أجب عن جميع الأسئلة الآتية

السؤال الأول: ضع دائرة حول رمز الإجابة الصحيحة لكل مفردة من المفردات الآتية:-

١. الشكل الصحيح الذي يُمثل النسبة المئوية للمياه من إجمالي مساحة سطح الأرض:



(ب)



(أ)



(د)



(ج)

٢. أكبر محيطات العام من حيث المساحة:

أ- الهندي ب- الأطلسي ج- الهادي د- المتجمد الشمالي

٣. المدينة العمانية التي اشتهرت قديماً بإنتاج وتصدير اللبان:

أ- صور ب- صلالة ج- صحار د- قلحاه

٤. الصورة التي أمامك توضح أحد الآثار المكتشفة عام ٢٠٠٣ م في ولاية:



أ- مسقط

ب- العامرات

ج- بوشر

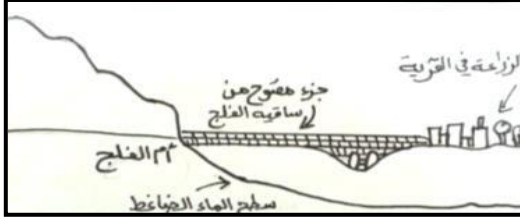
د - قريات

٥. السد الذي أنشئ بهدف حماية المناطق المجاورة من أخطار فيضانات الأودية:

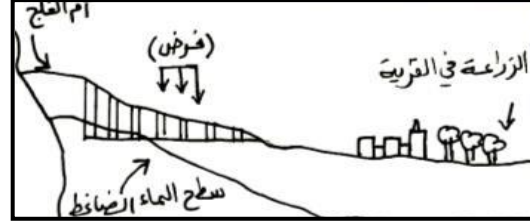
أ- وادي الأنصب ب- الجبل الأخضر ج- وادي غول د- وادي الحواسنة

تابع: السؤال الأول:


٦. الشكل الصحيح الذي يمثل الفلج الغيلي:



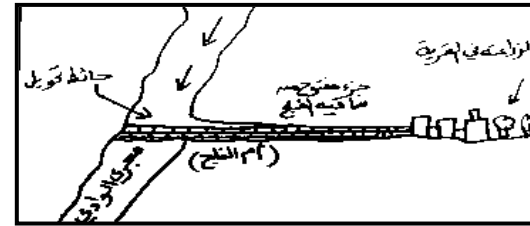
ب



أ



د



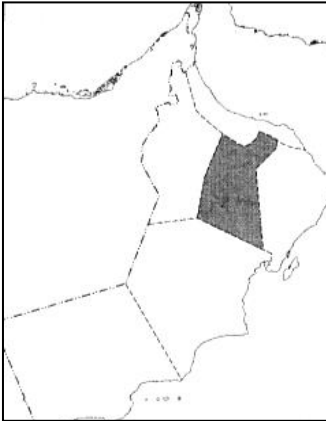
ج

٧. مؤلف كتاب (الأمير) الذي ضمنه كل أفكاره عن أصول الحكم وفن السياسة:

- أ- دانتي ب- مايكل انجلو ج- كوبرنيكس د- ميكافيلي

٨. المحافظة المظللة في الخريطة التي أمامك:

- أ- الشرقية ب- الباطنة
ج- الداخلية د- الظاهرة



السؤال الثاني : أجب عن الأسئلة الآتية :

أولاً: اكتب بين القوسين المصطلح أو المفهوم الصحيح لكل عبارة مما يأتي:


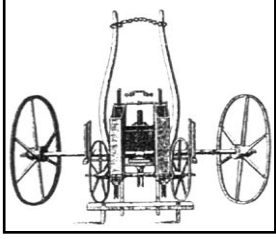
- ١- أحواض مائية داخلية محددة المساحة محاطة باليابسة من جميع الجهات (.....)
٢- اسم فارسي معرب ، ويعني المنطقة القوية والمحصنة (.....).

تابع: السؤال الثاني:

ثانياً: أجب عن الأسئلة الآتية:

١- علل عدم سماح حكومة السلطنة بحفر الآبار عشوائياً.

٢- قارن بين الآلتين اللتين يوضحهما الجدول الآتي :

		الشكل وجهه المقارنة
.....	اسم الآلة
.....	نتيجة واحدة ترتبت على اختراعها

ثالثاً:

١- انسب المعالم السياحية الآتية إلى المدينة التي توجد بها:
(حديقة اليوبيل الفضي - فلج دارس - عين كسفة - آثار البليد)

المدينة	صلالة	صحار	الرستاق	نزوى
المعلم السياحي

امتحان الصف الثامن الأساسي

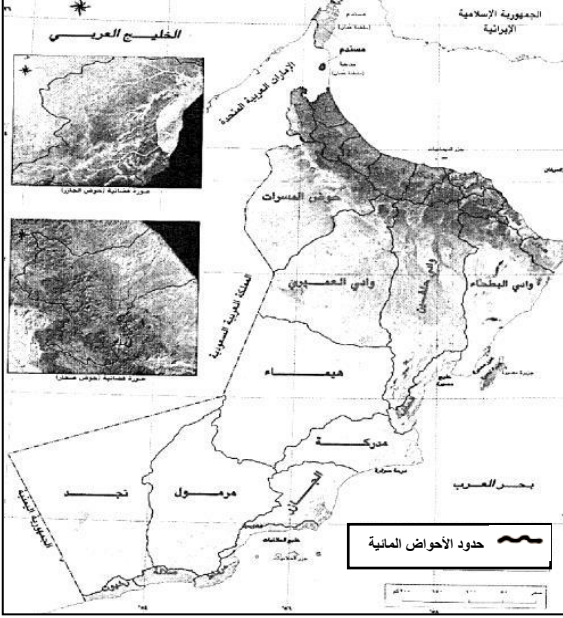
الدور الأول - الفصل الدراسي الثاني

المادة: الدراسات الاجتماعية.

العام الدراسي ١٤٣٧/١٤٣٨ هـ - ٢٠١٦/٢٠١٧ م

السؤال الثالث :

أولاً: أمامك خريطة للأحواض المائية في سلطنة عمان ، أدرسها ، ثم أجب عن الأسئلة الآتية:

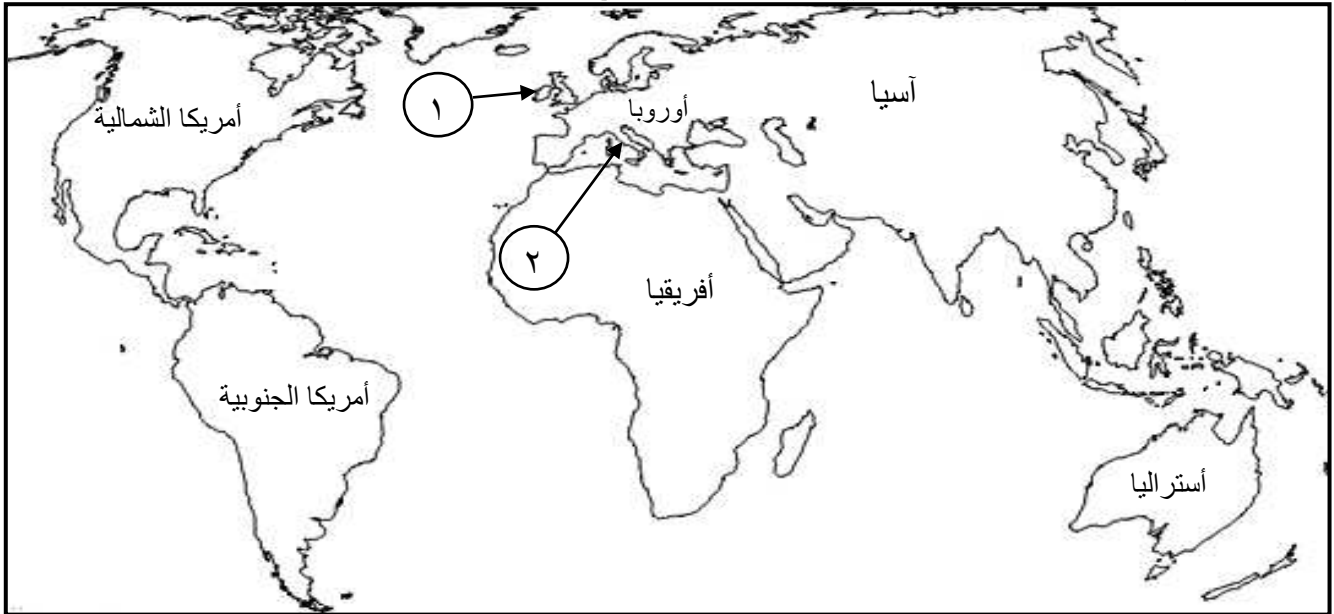


- ١- ضع دائرة في الخريطة حول اسم الحوض المائي الذي يوجد في محافظة الظاهرة.
- ٢- ما الوسيلة التكنولوجية الحديثة المستخدمة لاكتشاف الأحواض المائية في السلطنة؟
- ٣- يدل الرمز (~) في الخريطة على (أكمل)
- ٤- برهن على دور الحكومة في الحفاظ على الأحواض المائية.

.....

ثانياً: انظر إلى الخريطة ثم أجب عن الأسئلة الآتية:

- ١- اكتب (مضيق ماجلان) في مكانه الصحيح على الخريطة.



٢- استخراج من الخريطة ما يلي :

- رقم الدولة التي بدأت فيها النهضة الأوروبية قبل غيرها () .
- رقم الدولة التي ينتمي إليها البحار (جون كابوت) () .
- ٣- ارسم على الخريطة خط سير رحلة (كريستوفر كولومبوس) لاكتشاف العالم الجديد.


يتبع/٥

امتحان الصف الثامن الأساسي

المادة: الدراسات الاجتماعية. الدور الأول - الفصل الدراسي الثاني
العام الدراسي ١٤٣٧/١٤٣٨ هـ - ٢٠١٦/٢٠١٧ م

السؤال الرابع: أجب عن الأسئلة الآتية:

أولاً: أمامك صورة لإحدى السفن الشراعية العمانية، أنظر إليها ثم أجب عن الأسئلة الآتية:



١- ما اسم السفينة التي توضحها الصورة؟

.....

٢- بين الغرض من بناء هذه السفينة.

.....

٣- استغرقت رحلة هذه السفينة إلى الصين

□ عام □ عامين (اختر الصواب)

ثانياً: أدرس الجدول الذي يبين عدد السكان في محافظة مسقط عام ٢٠١٠م، ثم أجب عن الأسئلة الآتية:

الولاية	عدد السكان
مطرح	١٥٠١٢٤
بوشر	١٩٢٢٣٥
السيب	٣٠٢٩٩٢
العامرات	٥٨٤٠٠
مسقط	٢٧٢١٦
قريات	٤٤٩١١
المجموع	٧٧٥٨٧٨

١- ما الولاية التي تحتل المرتبة الأولى من حيث عدد

السكان؟

٢- أذكر الولايات التي يقل عدد سكانها عن (٥٠٠٠٠) نسمة؟

.....

ثالثاً: أمامك شكلاً يوضح إحدى مشكلات الموارد المائية في السلطنة، ادرسه جيداً ثم أجب عن الأسئلة الآتية:

١- المشكلة المائية التي يوضحها الشكل؟

٢- بين أسباب هذه المشكلة.


.....

.....

٣- استخلص نتيجة واحدة مترتبة على هذه

المشكلة.

.....



انتهت الأسئلة مع الدعاء للجميع بالتوفيق والنجاح.



نموذج إجابة امتحان الصف الثامن الأساسي
للعام الدراسي ١٤٣٧ / ١٤٣٨ هـ – ٢٠١٦ / ٢٠١٧ م
الفصل الدراسي الثاني – الدور الأول

المادة: الدراسات الاجتماعية
الدرجة الكلية: (٤٠) درجة
تنبيه: نموذج الإجابة في (٤) صفحات

أولاً: إجابة السؤال الموضوعي:-

الدرجة الكلية: (١٦) درجة				إجابة السؤال الأول	
ملاحظات	الصفحة	الدرجة	الإجابة	البديل الصحيح	المفردة
	١٠	٢		أ	١
	١٧	٢	الهادي	ج	٢
	١٠٩	٢	صلاة	ب	٣
	٧٢	٢	بوشر	ج	٤
	٣٠	٢	وادي الأنصب	أ	٥
	٣٢	٢		ج	٦
	٤٧	٢	ميكافيلي	د	٧
	٨٤	٢	الداخلية	ج	٨
					٩
١٦ درجة			المجموع		

(٢)

تابع نموذج إجابة امتحان الصف الثامن
للعام الدراسي ١٤٣٧ / ١٤٣٨ هـ - ٢٠١٦ / ٢٠١٧ م
الفصل الدراسي الثاني - الدور الأول
المادة : الدراسات الاجتماعية




ثانياً : إجابة الأسئلة المقالية :-

إجابة السؤال الثاني		الدرجة الكلية : (٨) درجة												
الجزئية	المفردة	الإجابة الصحيحة	الدرجة	الصفحة										
أولاً	١	البحيرات	١	١٥										
	٢	الرستاق	١	٩٧										
ثانياً	١	ترشيد استهلاك المياه الجوفية (أو ما يدل على ذلك)	١	٤٢										
	٢			<p>الشكل وجهه المقارنة</p>										
		<p>اسم الآلة</p>	<p>آلة بذر الحبوب</p>	<p>المحرك البخاري</p>										
٢	<p>نتيجة واحدة ترتبت على اختراعها</p>	<p>قاد هذا الاختراع الى اختراعات أخرى لتحسين أساليب الحصاد واستخدام الأسمدة ومقاومة الآفات الزراعية.</p>	<p>تم استخدامه لإدارة الآلات في المصانع ،فتطورت بذلك عملية الإنتاج وأصبح العمل أسرع وأكثر إنتاجاً وتم الاستغناء تدريجياً عن الآلات التي تدار بواسطة المساقط المائية.</p>	٦٣ ٦٥										
<p><u>لكل اسم آلة نصف درجة</u> <u>لكل نتيجة درجة واحدة (المجموع ٣ درجات)</u></p>														
ثالثاً	١١٠ ١٠٥ ٩٨ ٨٨	درجتان لكل جزئية نصف درجة	<table border="1"> <thead> <tr> <th>المدينة</th> <th>صلاة</th> <th>صحار</th> <th>الرستاق</th> <th>نزوى</th> </tr> </thead> <tbody> <tr> <td>المعلم السياحي</td> <td>آثار البليد</td> <td>حديقة اليوبيل الفضي</td> <td>عين كسفة</td> <td>فلج دارس</td> </tr> </tbody> </table>	المدينة	صلاة	صحار	الرستاق	نزوى	المعلم السياحي	آثار البليد	حديقة اليوبيل الفضي	عين كسفة	فلج دارس	
			المدينة	صلاة	صحار	الرستاق	نزوى							
المعلم السياحي	آثار البليد	حديقة اليوبيل الفضي	عين كسفة	فلج دارس										

(٣)

تابع نموذج إجابة امتحان الصف الثامن
للعام الدراسي ١٤٣٧ / ١٤٣٨ هـ - ٢٠١٦ / ٢٠١٧ م
الفصل الدراسي الثاني - الدور الأول
المادة : الدراسات الاجتماعية

ثانياً: إجابة الأسئلة المقالية:-

الدرجة الكلية : (٨) درجة			إجابة السؤال الثالث		
ملاحظات	الصفحة	الدرجة	الإجابة الصحيحة	المفردة	الجزئية
	٣٥	١		١	أولاً
	٣٥	١	الأقمار الصناعية أو الصور الفضائية	٢	
	٣٥	١	حدود الأحواض المائية	٣	
	٣٥	١	تحويل مناطق الأحواض إلى مناطق محمية بحكم القانون	٤	
	٥٣	١		١	ثانياً
	٥٣	درجتان لكل جزئية درجة واحدة	<p>- رقم الدولة التي بدأت فيها النهضة الأوربية قبل غيرها (٢).</p> <p>- رقم الدولة التي ينتمي إليها البحار (جون كابوت) (١).</p>	٢	
	٥٣	١		٣	

(٤)

تابع نموذج إجابة امتحان الصف الثامن
للعام الدراسي ١٤٣٧ / ١٤٣٨ هـ - ٢٠١٦ / ٢٠١٧ م
الفصل الدراسي الثاني - الدور الأول
المادة : الدراسات الاجتماعية

تابع ثانيًا: إجابة الأسئلة المقالية:-

إجابة السؤال الرابع		الدرجة الكلية: (٨) درجة			
الجزئية	المفردة	الإجابة الصحيحة	الدرجة	الصفحة	ملاحظات
أولاً	١	السفينة صحار	١	١٠٣	
	٢	تسيير رحلة مشابهة لرحلات العمانيين في القرون الماضية.	١	١٠٣	
	٣	استغرقت الرحلة عام	١	١٠٣	
ثانياً	١	السيب	١	٧٧	
	٢	مسقط قريات	درجة واحدة ولكل جزئية نصف درجة	٧٧	
ثالثاً	١	تسرب المياه المالحة إلى الآبار الساحلية	١	٤٠	
	٢	- استخدام المضخات الحديثة في سحب المياه الجوفية من الآبار وهو ما أدى الى زيادة السحب. - تزايد عدد السكان واحتياجاتهم المائية. - سوء استخدام المياه في الري. <u>يكتفى بسببين فقط</u>	درجة واحدة ولكل جزئية نصف درجة	٣٨	
	٣	- موت بعض الأشجار مثل النخيل وغيرها. - انخفاض إنتاجية المزروعات. - عدم صلاحية المياه لاستخدامات البشرية. <u>يكتفى بنتيجة واحدة فقط</u>	١	٣٩	

نهاية نموذج الإجابة