

تم تحميل هذا الملف من موقع المناهج العمانية



الامتحان النهائي الرسمي الدور الأول الفترة الصباحية في المحافظات
مسقط والداخليه والشرقيه والوسطى ومسندم

[موقع المناهج](#) ← [المناهج العمانية](#) ← [الصف الثامن](#) ← [اجتماعيات](#) ← [الفصل الثاني](#) ← [الملف](#)

تاريخ إضافة الملف على موقع المناهج: 2024-06-05 06:34:32

التواصل الاجتماعي بحسب الصف الثامن



[اضغط هنا للحصول على جميع روابط "الصف الثامن"](#)

روابط مواد الصف الثامن على تلغرام

[الرياضيات](#)

[اللغة الانجليزية](#)

[اللغة العربية](#)

[التربية الاسلامية](#)

المزيد من الملفات بحسب الصف الثامن والمادة اجتماعيات في الفصل الثاني

[مواصفات الورقة الامتحانية](#)

1

[نماذج من أسئلة الامتحانات النهائية في الوحدة الخامسة جوانب
من تاريخ أوروبا](#)

2

[ملخص شامل للوحدة الأولى مصادر المياه](#)

3

[يوربوينت ملخص شرح درس قيام النهضة الأوربية](#)

4

المزيد من الملفات بحسب الصف الثامن والمادة اجتماعيات في الفصل الثاني

[يوربوينت ملخص شرح درس الاكتشافات الجغرافية](#)

5

أجب عن جميع الأسئلة الآتية

السؤال الأول: ضع دائر حول رمز الإجابة الصحيحة لكل مفردة من المفردات:

12

1- الشكل الصحيح الذي يمثل نسبة المياه العذبة إلى المياه المالحة في العالم :



د-



ج-



ب-



أ-

2- جميع ما يلي من مميزات النقل البحري، ما عدا:

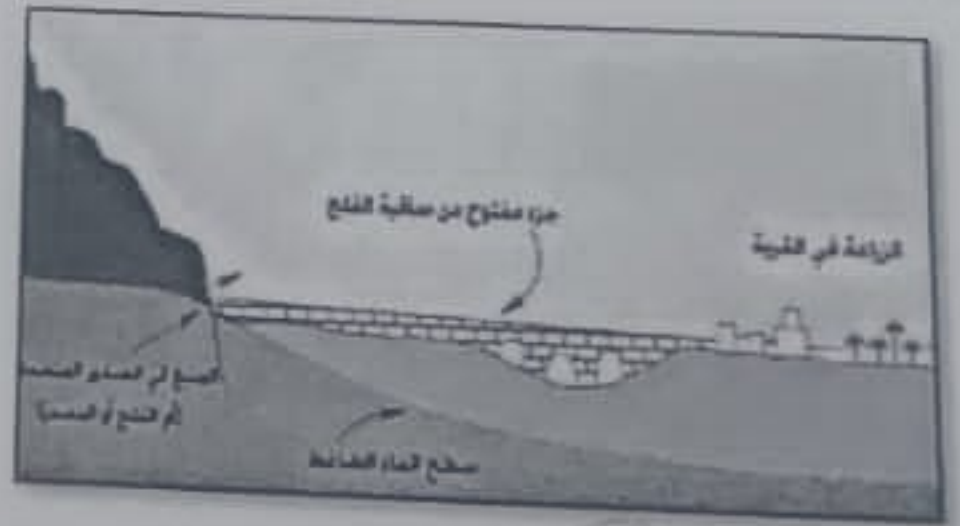
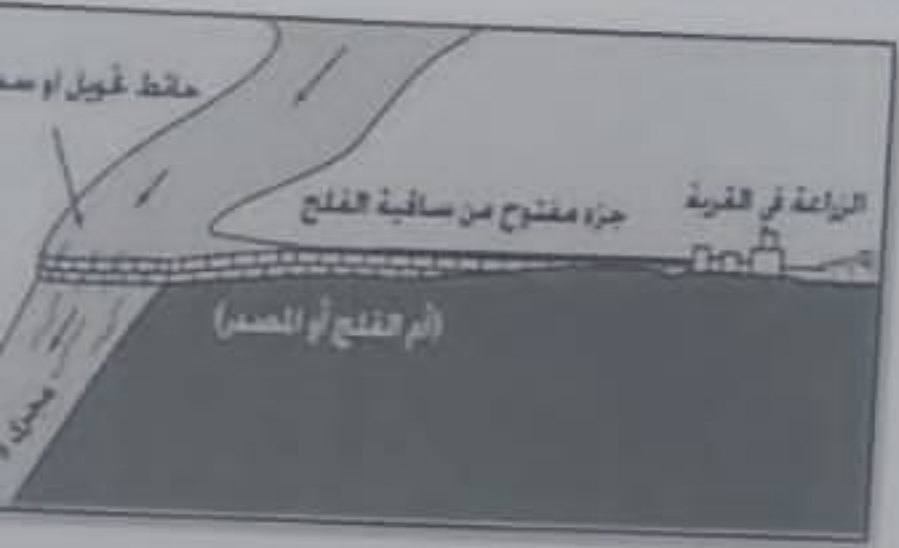
ب- أقل خطورة

أ- أكثر اقتصادا

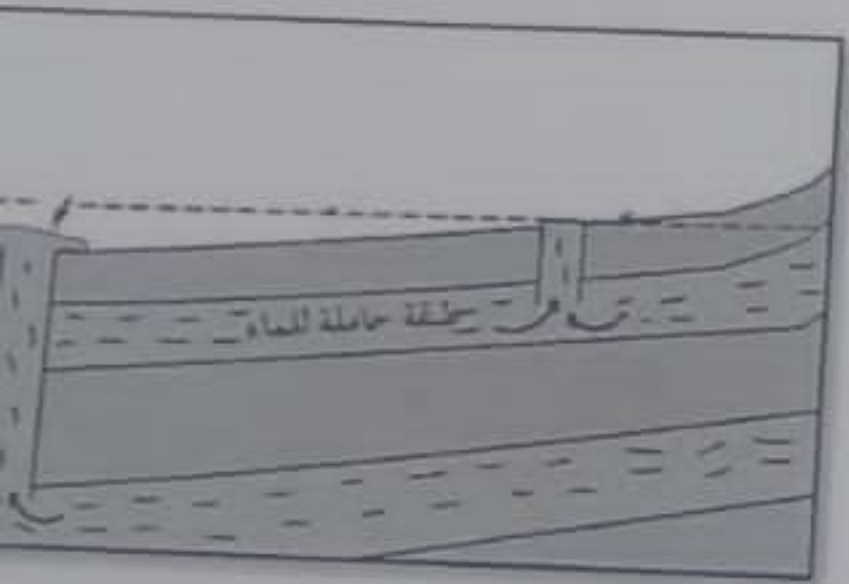
ج- يحتاج إلى صيانة

د- نقل كميات كبيرة من البضائع

3- الشكل الصحيح الذي يمثل الفلج الغيلي في سلطنة عمان :



أ



د



ج



4- الرقم الصحيح الذي يشير للمحافظة التي يوجد فيها مشروع حوض رمال الشرقية:

- أ- (1) ب- (2) ج- (3) د- (4)

5- الخريطة التي تمثل الدولة التي بدأت فيها النهضة الأوروبية قبل غيرها:



د



ج



ب



أ

6- الرحالة الذي استطاع إثبات كروية الأرض بعد ثلاث سنوات من الإبحار:

- أ- ماجلان ب- جون كابوت ج- كولمبوس د- جاك كارتيه



7- مخترع الآلة الواضحة في الصورة:

- أ- كوبرنكس ب- جيمس واط

- ج- بوخنا جوتن برغ د- دانتي

8- يوجد المعلم العمراني الموضح في الصورة المقابلة في محافظة:



- أ- مسقط ب- الباطنة شمال

- ج- الشرقية جنوب د- الداخلية

9- الولاية التي يوجد فيها فلج دارس:

- أ- أزكي ب- سمائل ج- بهلا د- نزوى

10- تعد من أشهر المناطق الأثرية في مدينة صلالة:

- أ- بات ب- البليد ج- رأس الحمراء د- حي الوطية

11- أهم سلعة كانت مدينة صحار تقوم بتصديرها قبل 4 آلاف سنة:

- أ- النحاس ب- الفضة ج- الذهب د- الحديد

12- من العيون المانية الموجودة في ولاية الرستاق:

- أ- حمران ب- جرزيز ج- الكسفة د- صحنوت

سؤال الثاني: أجب عن الأسئلة التالية:

8

ولا/ اكتب بين القوسين المصطلح أو المفهوم الصحيح لكل عبارة مما يأتي:

المصطلح	العبارة
	مسطحات مانية ضحلة تظهر بصورة دائمة أو مؤقتة مؤقتة فيها النباتات المانية المتنوعة
	فئة من الباحثين الغربيين، تخصصوا في دراسة التراث عربي، لغة وتاريخا وواقعا.
	حياكة الخيوط وتحويلها إلى قماش

(4)

المادة: الدراسات الاجتماعية الصف الثامن - الدور الأول - الفصل الدراسي الثاني العام الدراسي 2023/2024م

ثانياً/ أكتب في الجدول أدناه المعالم التالية حسب المدينة التي توجد فيها:
(وادي تنوف/ سهل أتين / حصن الحزم / حديقة القرم)

المدينة	صلالة	نزوى	مسقط	الرسنق
المعلم السياحي

ثالثاً: فسر العبارات التالية :

أ - ثبات مستوى المياه في البحار والمحيطات.

.....

ب - تناقص المياه الجوفية العذبة.

.....

ج - بدء الثورة الصناعية في بريطانيا قبل غيرها من الدول الأوروبية.

.....

سؤال الثالث:

ولا: أكتب أسفل كل صورة استخدامات المياه المناسبة:

8



ج-.....

ب-.....

أ-.....

أ: بالاستعانة بخريطة العالم الصماء أجب عن الأسئلة الآتية:



رقم الذي يشير للمحيط الذي عبرته معظم الرحلات الجغرافية الأوروبية

.....
تدّد على الخريطة موقع مضيق ماجلان بوضع دائرة في المكان الصحيح.
اسم مسار رحلة فاسكو دي غاما.

ذكر نتيجة واحدة لكل من :
ث المياه في بعض دول العالم.

تراع الأوروبيين للطباعة.

6

السؤال الرابع :
أولاً: صنف الصور التالية لمعالم (أثرية / طبيعية / خدمات سياحية)



أ-

ب-

ج-

ثانياً: انظر إلى الصورة المقابلة، ثم أجب عن الأسئلة الآتية:
أ - ما اسم السفينة الظاهرة في الصورة؟



ب - المكان الذي اتجهت إليه السفينة في رحلتها

ج - ما القيمة الحضارية للرحلة البحرية التي قامت بها السفينة؟

(7)

المادة: الدراسات الاجتماعية الصف الثامن الدور الأول - الفصل الدراسي الثاني العام الدراسي 2023/2024 م

السؤال الخامس:

أولاً: "تظهر مشكلة تملح المياه في سلطنة عمان وبعض قرى ولاية جعلان في جنوب الشرقية، ويؤدي تلمح المياه الجوفية إلى عدم صلاحيتها للاستهلاك البشري وللكتير من المحاصيل الزراعية" في ضوء العبارة أجب عن الأسئلة التالية:

6

أ - أعط سبب واحد لتلمح المياه في سلطنة عمان.

ب - ما النتائج المترتبة على مشكلة التلمح في سلطنة عمان.

ثانياً: بالاستعانة بالجدول المقابل أجب عن الأسئلة التالية:

أ - ما أكبر ولاية في محافظة مسقط من حيث عدد السكان؟

ب - رتب الولايات تصاعدياً من حيث عدد السكان

الولاية	عدد السكان
مطرح	150124
بوشر	192235
السيب	302992
العامرات	58400
مسقط	27216
قريات	44911

ثالثاً: تزخر سلطنة عمان بالعديد من المعالم الحضارية والثقافية والطبيعية والسياحية والترفيهية، ما واجبك تجاه هذه المعالم.

انتهت الأسئلة مع تمنياتنا بالتوفيق للجميع