

تم تحميل هذا الملف من موقع المناهج العُمانية



* للحصول على أوراق عمل لجميع الصفوف وجميع المواد اضغط هنا

<https://almanahj.com/om>

* للحصول على أوراق عمل لجميع مواد الصف الثامن اضغط هنا

<https://almanahj.com/om/8>

* للحصول على جميع أوراق الصف الثامن في مادة اجتماعيات ولجميع الفصول, اضغط هنا

<https://almanahj.com/om/8social>

* للحصول على أوراق عمل لجميع مواد الصف الثامن في مادة اجتماعيات الخاصة بـ الفصل الأول اضغط هنا

<https://almanahj.com/om/8social1>

* لتحميل كتب جميع المواد في جميع الفصول للـ الصف الثامن اضغط هنا

<https://almanahj.com/om/grade8>

* لتحميل جميع ملفات المدرس عمر العزري اضغط هنا

للتحدث إلى بوت على تلغرام: اضغط هنا

https://t.me/omcourse_bot



امتحان مادة : الدراسات الاجتماعية

للفصف : الثامن

للعام الدراسي ١٤٣٨/١٤٣٩ هـ - ٢٠١٧/٢٠١٨ م

الدور الثاني - الفصل الدراسي الأول

- زمن الامتحان : (ساعة ونصف) عدد صفحات أسئلة الامتحان (٦) صفحات.
- الإجابة في الورقة نفسها.

		اسم الطالب
الصف		المدرسة

التوقيع بالاسم		الدرجة		السؤال
المصحح الثاني	المصحح الأول	بالحروف	بالأرقام	
				١
				٢
				٣
				٤
مراجعة الجمع	جمعه			المجموع
				المجموع الكلي

(١)

المادة : الدراسات الاجتماعية - الصف الثامن - الدور الثاني- الفصل الدراسي الأول
العام الدراسي ٢٠١٧/٢٠١٨ م

أجب عن جميع الأسئلة الآتية

السؤال الأول: ضع دائرة حول رمز الإجابة الصحيحة لكل مفردة من المفردات الآتية:

(١) العام الميلادي الذي بدأ فيه تاريخ الرصد الجوي المنتظم في سلطنة عمان:
أ- ١٩٤٢ ب- ١٩٤٣ ج- ١٩٤٤ د- ١٩٤٥

(٢) الجدول الذي يمثل الأرقام التي تشير إلى مناطق النفوذ العماني في منطقة الخليج العربي في عهد السيد سلطان بن أحمد :



٤
٣
٢

ب-

٥
٣
٤

أ-

٢
٤
١

د-

١
٥
٣

ج-

(٣) القائد العماني الذي نجح في إخراج الفرس من صحار:

أ- سلطان بن مرشد ب- أحمد بن سعيد ج- سلطان بن أحمد د- سعيد بن سلطان

(٤) المبدأ الأساسي الذي تمثله الصورة المقابلة وفق النظام الأساسي لسلطنة عمان:



ب- السياسي

أ- الاجتماعي

د- الأمني

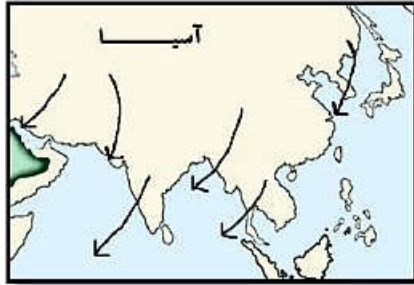
ج- الاقتصادي

(٢)

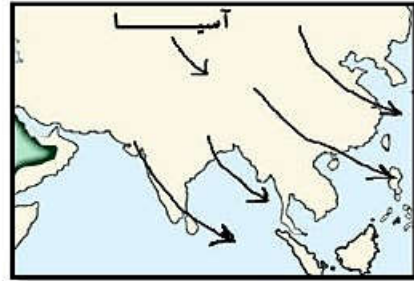
المادة : الدراسات الاجتماعية - الصف : الثامن - الدور الثاني - الفصل الدراسي الأول
العام الدراسي ٢٠١٧/٢٠١٨ م

تابع السؤال الأول:

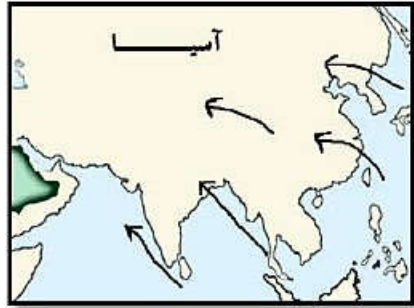
٥) الخريطة التي توضح اتجاه الرياح الموسمية التي تتأثر بها قارة آسيا في فصل الصيف:



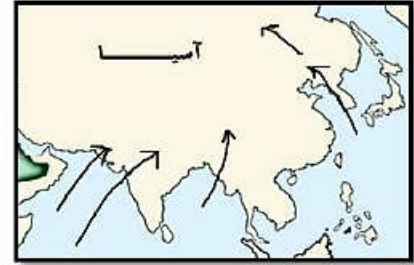
ب-



أ-



د-



ج-

٦) المدى الحراري السنوي حسب الجدول الآتي:

الأشهر	يناير	فبراير	مارس	إبريل	مايو	يونيو	يوليو	أغسطس	سبتمبر
الحرارة	١٢	١٤	١٦	١٩	٢٣	٢٦	٢٨	٢٩	٢٧
التساقط	٢١٣	١٦١	١٢٥	٤١	٢٥	١	صفر	صفر	٦

د- ٤١

ج- ٢٩

ب- ١٧

أ- ١٢

٧) المحاصيل الزراعية التي أدخلها السيد سعيد بن سلطان إلى زنجبار:

المانجو
الأرز
الفول

د-

الشعير
قصب السكر
السمسم

ج-

القرنفل
جوز الهند
الأرز

ب-

القرنفل
البن
السمسم

أ-

٨) السلطة العليا في التنظيم الإداري للمدرسة:

أ- الإخصائي الاجتماعي ب- مدير المدرسة ج- الإخصائي النفسي د- مساعد مدير

(٣)

المادة: الدراسات الاجتماعية - الصف الثامن- الدور الثاني - الفصل الدراسي الأول
العام الدراسي ٢٠١٧/٢٠١٨ م

السؤال الثاني: أجب عن الأسئلة التالية:

(١) اكتب اسم المصطلح الصحيح أمام كل عبارة من العبارات في الجدول الآتي:

.....	أ- ظاهرة مناخية تحدث نتيجة انخفاض الضغط الجوي بشدة، وتنشأ فوق المحيطات المدارية الدافئة.
.....	ب- وحدة مكانية لها خصائص مشتركة تميزها عن غيرها من الأقاليم الأخرى.

(٢) صنف الصور الآتية إلى (ممتلكات عامة وممتلكات خاصة).



أ..... ب..... ج..... د.....

(٣) تخيل أنك خرجت في رحلة بحرية تجارية من مسقط إلى شرقي أفريقيا في عهد السيد سعيد بن سلطان) •

أ- سمّ مسطحين مائيين ستمر بهما خلال رحلتك

..... و.....

ب- ما الاتجاه العام الذي ستسلكه السفينة أثناء الرحلة.....

ج- حدد على الخريطة بالرمز ○

المستودع الرئيسي الذي ستتوقف عنده السفينة لتفريغ البضائع.



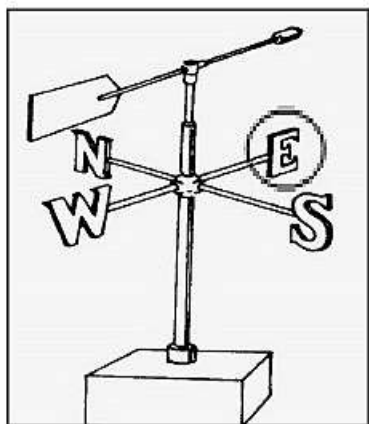
يتبع

(٤)

المادة: الدراسات الاجتماعية - الصف الثامن - الدور الثاني - الفصل الدراسي الأول
- العام الدراسي ٢٠١٧/٢٠١٨ م

السؤال الثالث:

(١) ددل: (اهتمام دولة البوسعيد ببناء القصور في زنجبار). (يكتفى بذكر اثنين)



(٢) ادرس الشكل المقابل، ثم أجب عن الأسئلة الآتية:
أ- اذكر استخدام واحد للجهاز

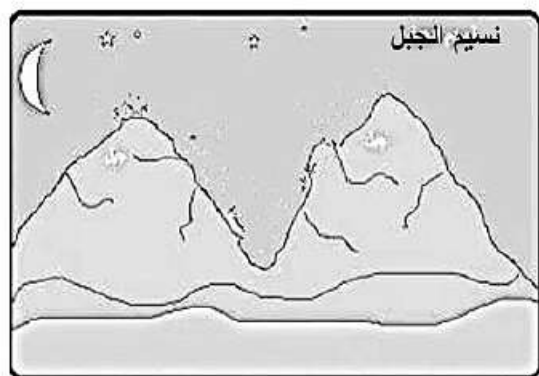
ب- ما الجهة القادمة منها الرياح حسب ما يوضحه الشكل

(٣) بالرجوع إلى البيانات في الجدول:

الفرق بين قرائتي الترمومترين الجاف والمبلل													قراءة الترمومتر
١٣	١٢	١١	١٠	٩	٨	٧	٦	٥	٤	٣	٢	١	مرارة الجاف
٤٠	٤٤	٤٨	٥٢	٥٦	٦٠	٦٤	٦٩	٧٣	٧٨	٨٣	٨٩	٩٤	٤٧
٤٠	٤٣	٤٧	٥١	٥٥	٥٩	٦٤	٦٨	٧٣	٧٨	٨٣	٨٩	٩٤	٤٦
٣٩	٤٢	٤٦	٥٠	٥٤	٥٩	٦٣	٦٨	٧٣	٧٨	٨٣	٨٨	٩٤	٤٥
٣٨	٤٢	٤٦	٥٠	٥٤	٥٨	٦٣	٦٨	٧٣	٧٨	٨٣	٨٨	٩٤	٤٤
٣٧	٤١	٤٥	٤٩	٥٣	٥٨	٦٢	٦٧	٧٢	٧٧	٨٣	٨٨	٩٤	٤٣
٣٦	٤٠	٤٤	٤٨	٥٣	٥٧	٦٢	٦٧	٧٢	٧٧	٨٣	٨٨	٩٤	٤٢
٣٥	٣٩	٤٣	٤٧	٥٢	٥٦	٦١	٦٦	٧١	٧٧	٨٣	٨٨	٩٤	٤١
٣٤	٣٨	٤٢	٤٧	٥١	٥٦	٦١	٦٦	٧١	٧٦	٨٢	٨٨	٩٤	٤٠

كم تبلغ النسبة المئوية لرتوية الهواء إذا كانت قراءة الترمومتر الجاف (٤٣) س، وكانت قراءة الترمومتر المبلل (٣٥) س.
موضحاً بالخطوات.

(٤) ادرس الصورة التي أمامك، ثم أجب عن الأسئلة الآتية:



أ- نوع الرياح التي ستهب على المنطقة:
 يومية موسمية (اختر)

ب - فسر إجابتك

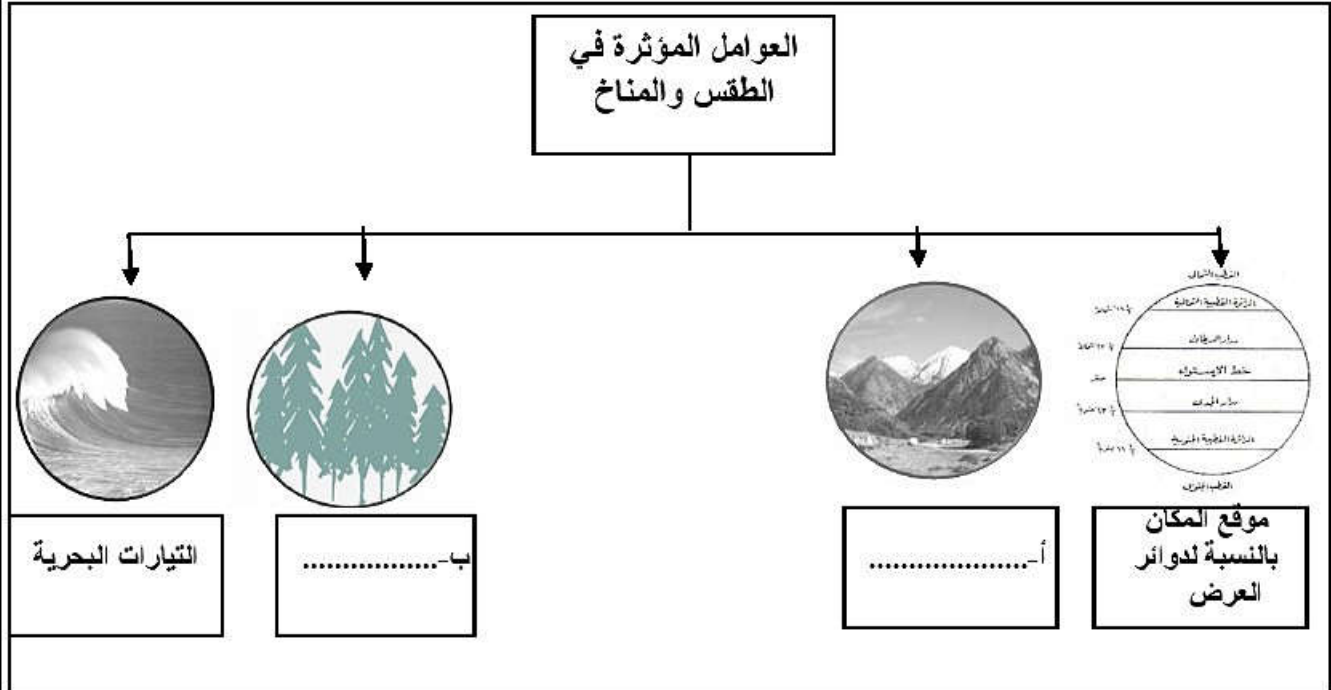
يتبع/٥

(٥)

المادة: الدراسات الاجتماعية - الصف الثامن - الدور الثاني - الفصل الدراسي الأول
العام الدراسي ٢٠١٧/٢٠١٨ م

السؤال الرابع:

١) أكمل بيانات المخطط الذي يمثل العوامل المؤثرة في الطقس والمناخ:



٢) ادرس الخريطة أمامك، ثم أجب عن الأسئلة الآتية:

أ- ما الرقم الدال على الصحاري في الجدول:

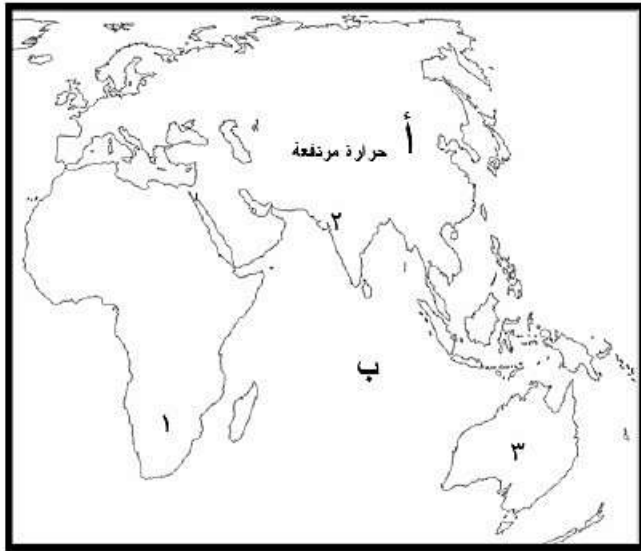
الصحراء	الرقم
صحراء ثار
صحراء استراليا

ب- اكتب على الخريطة الصحاري الآتية في موقعها الصحيح:

١- الصحراء الكبرى.

٢- صحراء شبة الجزيرة العربية.

ج- نوع الضغط الجوي في المنطقة **ب** صيفًا.....



(٦)

المادة: الدراسات الاجتماعية - الصف الثامن - الدور الثاني - الفصل الدراسي الأول
العام الدراسي ٢٠١٧/٢٠١٨ م

تابع/ السؤال الرابع

٣) اقرأ النص، ثم أجب عن الأسئلة التي تليه.

تمثل الجولات السلطانية السامية لقاءات متجددة بين القيادة والمواطن، حيث يلتقي فيها جلالة مباشرة مع المواطنين لتعبر عن عمق الاهتمام من جانب جلالة بالمواطن العماني وبالاستماع إليه بشكل مباشر، ثم ينطلق الحوار المتبادل بتلقائية وعفوية يتلمس من خلاله جلالة القائد المعظم نبض واهتمامات المواطنين.

١- استخراج من النص مبدأ إسلامي انتهجه جلالة السلطان قابوس في سياسته مع شعبه.

.....

٢- اذكر القيم التي حققتها الجولات السلطانية. (يكتفى بإثنتين)

أ-.....

ب-.....

انتهت الأسئلة مع الدعاء للجميع بالتوفيق والنجاح.



نموذج إجابة امتحان الصف الثامن
للعام الدراسي ١٤٣٨/١٤٣٩ هـ - ٢٠١٧/٢٠١٨ م
الدور الثاني. - الفصل الدراسي الأول.

المادة: الدراسات الاجتماعية
الدرجة الكلية: (٤٠) درجة.
تنبيه: نموذج الإجابة في (٤) صفحات.

أولاً: إجابة السؤال الموضوعي:

إجابة السؤال الأول

المستوى المعرفي	المخرج التعليمي	الصفحة	الدرجة	الإجابة	البديل الصحيح	المفردة			
معرفة		١٨	٢	١٩٤٢	أ	١			
قدرات عليا		٥٩-٥٨	٢	<table border="1"> <tr><td>٤</td></tr> <tr><td>٣</td></tr> <tr><td>٢</td></tr> </table>	٤	٣	٢	ب	٢
٤									
٣									
٢									
معرفة		٥٥	٢	أحمد بن سعيد	ب	٣			
فهم وتطبيق		٨٨-٨٧	٢	الاجتماعي	أ	٤			
قدرات عليا		٣٣	٢		ج	٥			
فهم وتطبيق		٤٩/٢٦	٢	١٧	ب	٦			
معرفة		٦٤	٢	<table border="1"> <tr><td>القرنفل</td></tr> <tr><td>البن</td></tr> <tr><td>السمسم</td></tr> </table>	القرنفل	البن	السمسم	أ	٧
القرنفل									
البن									
السمسم									
معرفة		٨٠	٢	مدير المدرسة	ب	٨			
			١٦	المجموع					

(٢)

تابع نموذج إجابة امتحان الصف الثامن
للعام الدراسي ١٤٣٨/١٤٣٩ هـ - ٢٠١٧/٢٠١٨ م
الدور الثاني- الفصل الدراسي الأول
المادة : الدراسات الاجتماعية

ثانيا: إجابة الأسئلة المقالية:

إجابة السؤال الثاني						
الدرجة الكلية: (٨) درجة						
المستوى المعرفي	المخرج التعليمي	الصفحة	الدرجة	الإجابة الصحيحة	المفردة	الجزئية
معرفة		٣٦ ٤٢	١ ١	الأعاصير الإقليم	أ- ب-	١
فهم وتطبيق		٩٠+٨٩	درجتان لكل مفردة نص درجة	أ- ممتلكات خاصة ب- ممتلكات عامة ج- ممتلكات خاصة د- ممتلكات خاصة		٢
قدرات عليا		٦٥/٦١	٢ ١ ١	بحر العرب، المحيط الهندي، بحر عمان الجنوب الغربي/ أو الجنوب (يكتفى بأحدهما) 	أ ب ج	٣

(٣)

تابع نموذج إجابة امتحان الصف الثامن
للعام الدراسي ١٤٣٨/١٤٣٩ هـ - ٢٠١٧/٢٠١٨ م
الدور الثاني - الفصل الدراسي الأول
المادة : الدراسات الاجتماعية

تابع: إجابة الأسئلة المقالية:

الدرجة الكلية: (٨) درجة				إجابة السؤال الثالث		
المستوى المعرفي	المخرج التعليمي	الصفحة	الدرجة	الإجابة الصحيحة	المفردة	الجزئية
فهم وتطبيق		٦٠ ٦٩	٢	بناء القصور مثل قصر المتوني /بيت الساحل/ قصر العجائب (يكتفى باثنين)		١
فهم وتطبيق		٣١	١ ١	- يستخدم في معرفة اتجاه الرياح - اتجاه الغرب (W)	أ- ب-	٢
قدرات عليا		٣٧	١ ١	قراءة الترمومتر الجاف- قراءة الترمومتر المبلل ٣-٤=٣٥ (القانون نصف درجه والنتيجه نصف درجه) بالرجوع للجدول الرطوبة النسبية تساوي ٥٨% في حاله كتابه الطالب الشرح التالي: للحصول على الرطوبة تتم قراءه الترمومتريين ، ثم يستخدم جدول خاص لتحويل الفرق بين القراءتين الي نسبة مئوية هي ذاتها الرطوبة النسبيه المطلوبه)		٣
قدرات عليا		٣٤	١ ١	يومية لانها تنشأ نتيجة اختلاف الضغط الجوي ليلاً ونهاراً بين الجبل والوادي .	أ ب	٤

(٤)

تابع نموذج إجابة امتحان الصف الثامن
للعام الدراسي ١٤٣٨/١٤٣٩ هـ - ٢٠١٧/٢٠١٨ م
الدور الثاني- الفصل الدراسي الأول
المادة: الدراسات الاجتماعية

تابع: إجابة الأسئلة المقالية:

الدرجة الكلية: (٨) درجة				إجابة السؤال الرابع								
المستوى المعرفي	المخرج التعليمي	الصفحة	الدرجة	الإجابة الصحيحة	المفردة	الجزئية						
فهم وتطبيق		١٣	١ ١	التضاريس الغطاء النباتي	أ- ب-	١						
قدرات عليا		٤٥	١	<table border="1"> <tr> <td>الرقم</td> <td>الصحراء</td> </tr> <tr> <td>٢</td> <td>صحراء ثار</td> </tr> <tr> <td>٣</td> <td>صحراء استراليا</td> </tr> </table>	الرقم	الصحراء	٢	صحراء ثار	٣	صحراء استراليا	أ ب ج	٢
			الرقم	الصحراء								
			٢	صحراء ثار								
٣	صحراء استراليا											
١												
١	ملاحظة /الكتابه في موقعها الصحيح ضغط مرتفع											
فهم وتطبيق		٩٤	١ ١	مبدأ الشورى التواصل أو الاتصال المباشر- الحوار الهادف- التواضع- ابدأ الرأي- العفوية - التلقائية. اي اجابة صحيحة من وجهة نظر الطالب (يكتفى باثنين)	أ ب-	٣						

نهاية نموذج الإجابة



امتحان مادة : الدراسات الاجتماعية
للفصف : الثامن

للعام الدراسي ١٤٣٨/١٤٣٩ هـ - ٢٠١٧/٢٠١٨ م
الدور الأول - الفصل الدراسي الأول

• زمن الامتحان: (ساعة ونصف) • عدد صفحات أسئلة الامتحان: (٦ صفحات).
• الإجابة في الدفتر نفسه .

		اسم الطالب
الصف		المدرسة

التوقيع بالاسم		الدرجة		السؤال
المصحح الثاني	المصحح الأول	بالحروف	بالأرقام	
				١
				٢
				٣
				٤
مراجعة الجمع	جمعه			المجموع
				المجموع الكلي

(١)

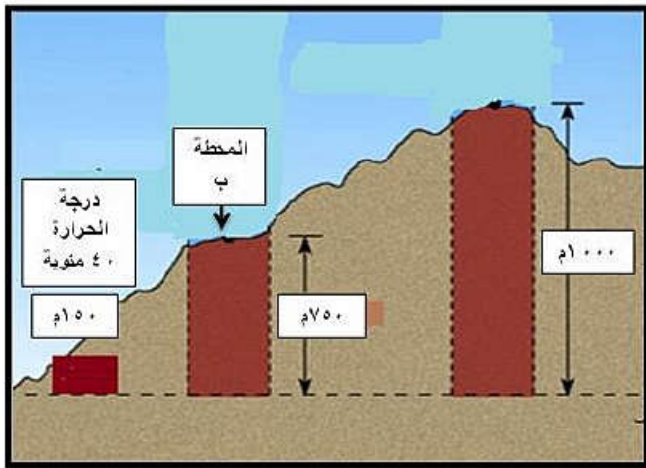
المادة : الدراسات الاجتماعية الصف : الثامن - الدور الأول - الفصل الدراسي الأول
العام الدراسي ٢٠١٧/٢٠١٨ م

أجب عن جميع الأسئلة الآتية

السؤال الأول: ضع دائرة حول رمز الإجابة الصحيحة لكل مفردة من المفردات الآتية:

(١) الصناعة التي أدخلها العمانيون لأول مرة في الكونغو :
أ- الحبال ب- الصابون ج- الفخار د- النسيج

(٢) درجة الحرارة المنوية في المحطة (ب) في الشكل المقابل تبلغ :



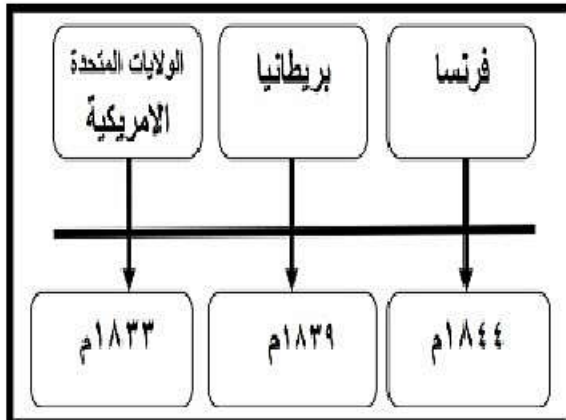
أ- ٣٤ ب- ٣٦

ج- ٤٢ د- ٤٤

(٣) الولاية العمانية التي توجد بها محطة رصد طبقات الجو العليا:

أ- صلالة ب- دباء ج- صور د- مطرح

(٤) القرن الميلادي الذي وقعت فيه عُمان الاتفاقيات مع الدول الموضحة بالمسطرة الزمنية المقابلة:



أ- السادس عشر ب- السابع عشر

ب) الثامن عشر ج- التاسع عشر

(٢)

المادة : الدراسات الاجتماعية الصف : الثامن - الدور الأول - الفصل الدراسي الأول
العام الدراسي ٢٠١٧/٢٠١٨ م

تابع السؤال الأول:

٥) الإمام الذي قاد مقاومة العمانيين ضد الفرس في صحار:

أ- سلطان بن سيف الثاني

ب- سلطان بن مرشد

ج- سيف بن سلطان الثاني

د- مهنا بن سلطان

٦) جميع ما يأتي يشترط لعضوية مجلس الشورى عدا:

أ- عماني الجنسية بصفة أصلية

ب- ذو مكانه وسمعه حسنة

ج- ذو خبرة عملية مناسبة

د- لا يقل عمره عن ٤٠ سنة

٧) الباب الذي تندرج فيه مادة (السلطان ذاته مصونة واحترامة واجب) في النظام الأساسي للدولة :

أ- الدولة ونظام الحكم

ب- الأحكام العامة

ج- المبادي الموجهة للسياسة

د- رئيس الدولة

٨) الاقليم المناخي الذي تمثله بيانات الجدول الاتي :

الشهر	يناير	فبراير	مارس	أبريل	مايو	يونيو	يوليو	أغسطس	سبتمبر	أكتوبر	نوفمبر	ديسمبر
الحرارة	27	27	28	28	27	27	27	27	27	29	27	27
الأمطار ملم	554	519	557	620	655	655	572	574	561	563	563	512

أ- الاستوائي

ب- الصحراوي

ج- القطبي

د- الموسمي

(٣)

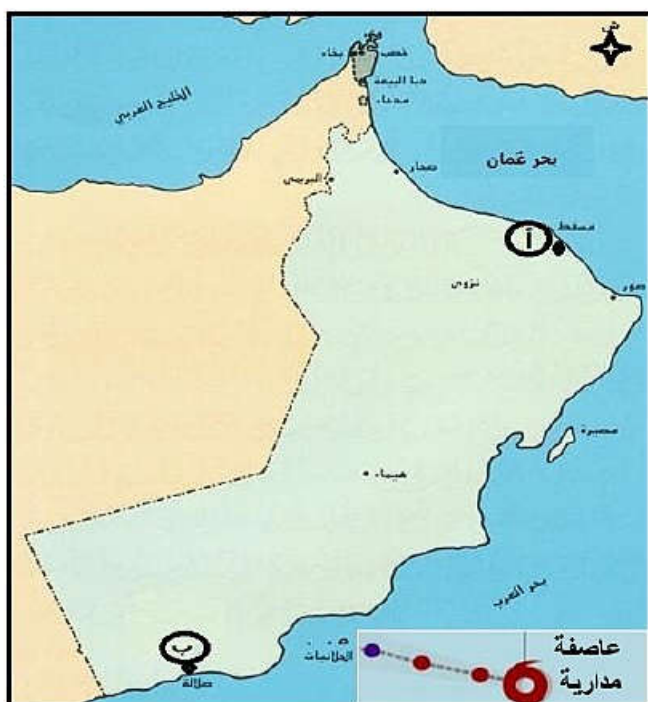
المادة : الدراسات الاجتماعية الصف : الثامن - الدور الأول - الفصل الدراسي الأول
العام الدراسي ٢٠١٧/٢٠١٨ م

السؤال الثاني :- أجب عن الاسئلة الآتية :-

(أ) أكتب المصطلح او المفهوم أمام كل عبارة في الجدول الآتي :

المفهوم او المصطلح	العبارات
.....	١ الحركة الأفقية للهواء من مكان الى آخر على سطح الارض وتنشأ نتيجة اختلاف الضغط الجوي بين منطقة وأخرى.
.....	٢ التطور الذي شهدته سلطنة عُمان في جميع المجالات بعد تولي صاحب الجلالة السلطان قابوس مقاليد الحكم في البلاد عام ١٩٧٠ م

(ب) ادرس خريطة سلطنة عُمان التي أمامك ثم أجب عن الأسئلة الآتية :



١- قارن بين الموقعين (أ) و (ب) على الخريطة من حيث درجة الحرارة واتجاه الرياح في فصل الصيف في الجدول الآتي :

المقارنة	(أ)	(ب)
درجة الحرارة
اتجاه الرياح

٢- ما النتيجة المترتبة على تعرض محافظة ظفار للظاهرة المناخية الموضحة في الخريطة ؟
.....
.....

(٤)

المادة : الدراسات الاجتماعية الصف : الثامن - الدور الأول - الفصل الدراسي الأول
العام الدراسي ٢٠١٧/٢٠١٨ م

تابع السؤال الثاني:-

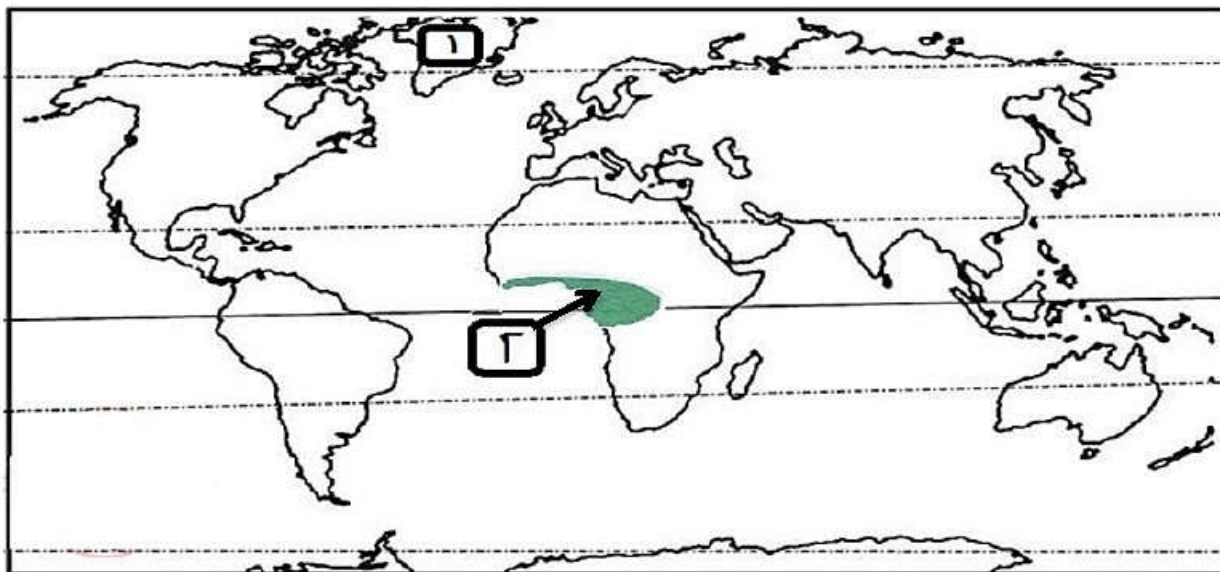
(ج) دلل بذكر مثال واحد لكل مما يأتي :


1- دور الإمام أحمد بن سعيد في تنشيط العلاقات التجارية مع الهند.

٢- مظاهر اهتمام دولة البوسعيد بالمجال الثقافي في شرقي أفريقيا.

السؤال الثالث:- أجب عن الاسئلة الآتية :-

(أ) أمامك خريطة العالم أدرسها جيداً ، ثم أجب عن الاسئلة التالية :-



١- ظلل على الخريطة بالرمز  الجهة التي يتمثل فيها الإقليم الجاف في قارة أمريكا الجنوبية.

٢- علل كثافة الغطاء النباتي في المنطقة المشار إليها بالرقم (٢)

٣- اذكر اثنتين من خصائص الإقليم المناخي المشار إليه بالرقم (١) .

(٥)

المادة : الدراسات الاجتماعية الصف : الثامن - الدور الأول - الفصل الدراسي الأول
العام الدراسي ٢٠١٧/٢٠١٨ م

تابع السؤال الثالث:-

ب) بين أهمية التنظيم الإداري في البيئة المدرسية .

.....
.....



ج) أستنتج من الصورة المقابلة ما يأتي :
١- إحدى تطبيقات الشورى في المجتمع العماني .

.....
٢- اثنين من القيم التي تعبر عنها الصورة.

السؤال الرابع :- أجب عن الأسئلة الآتية :-

أ) ادرس الشكل المقابل ثم أجب عما يأتي :

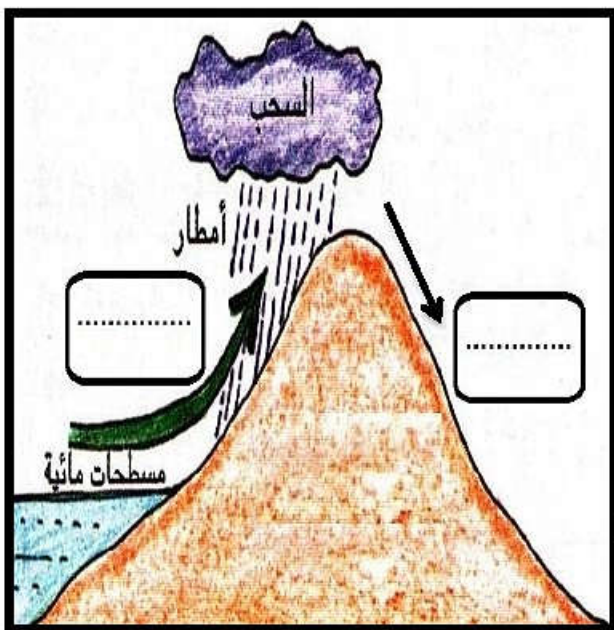
١- اكتب البيانات الآتية :

(الهواء الجاف - الهواء الرطب)

في موقعهما الصحيح في الشكل .

٢- استنتج نوع الامطار الموضحة بالشكل.

(.....)



(٦)

المادة : الدراسات الاجتماعية الصف : الثامن - الدور الأول - الفصل الدراسي الأول
العام الدراسي ٢٠١٧/٢٠١٨ م

تابع السؤال الرابع:-

ب) اذكر اثنين من واجباتك اتجاه الممتلكات العامة
الواضحة في الصورة المقابلة.



.....
.....
.....
.....
.....
.....

ج) اكمل بيانات مخطط الإنجازات العمرانية في عهد دولة البوسعيد
الآتي:



انتهت الأسئلة مع الدعاء للجميع بالتوفيق والنجاح.



نموذج إجابة امتحان الصف الثامن

للعام الدراسي ١٤٣٨/١٤٣٩ هـ - ٢٠١٧/٢٠١٨ م
الدور الاول - الفصل الدراسي الاول

المادة: الدراسات الاجتماعية الدرجة الكلية: (٤٠) درجة.

تتبيه: نموذج الإجابة في (٤) صفحات.

أولاً: إجابة السؤال الموضوعي:

إجابة السؤال الأول

المفردة	البديل الصحيح	الإجابة	الدرجة	الصفحة	المخرج التعليمي
١	ب	الصابون	٢	٦٤	معرفة
٢	ب	٣٦	٢	١٥	فهم وتطبيق
٣	أ	صلالة	٢	١٨	معرفة
٤	ج	التاسع عشر	٢	٧٣- ٧٦	قدرات عليا
٥	ب	سلطان بن مرشد	٢	٥٤	معرفة
٦	د	لا يقل عمره عن ٤٠ سنة	٢	٩٦	فهم وتطبيق
٧	د	رئيس الدولة	٢	٩٢	معرفة
٨	أ	الاستوائي	٢	٤٣	معرفة
المجموع			١٦ درجة		

(٢)

تابع نموذج إجابة امتحان الصف الثامن
للعام الدراسي ١٤٣٨/١٤٣٩ هـ - ٢٠١٧/٢٠١٨ م
الدور الأول الفصل الدراسي الأول
المادة : الدراسات الاجتماعية

ثانيا: إجابة الأسئلة المقالية:

الدرجة الكلية: (٨) درجات

إجابة السؤال الثاني

المخرج التعليمي	الصفحة	الدرجة	الإجابة الصحيحة	المفردة	الجزئية									
معرفة	٣١	١	الرياح	١	أ									
معرفة	٨١	١	النهضة المباركة	٢										
فهم وتطبيق	٤١	٣ درجة لدرجة الحرارة درجتان لاتجاه الرياح	<table border="1"> <thead> <tr> <th>الموقع (ب)</th> <th>الموقع (أ)</th> <th>المقارنة</th> </tr> </thead> <tbody> <tr> <td>منخفضة/ معتدلة</td> <td>مرتفعة</td> <td>درجة الحرارة</td> </tr> <tr> <td>الجنوبية الغربية / الجنوبية</td> <td>غربية / شمالية غربية / شمالية شرقية (يكتفى واحدة فقط)</td> <td>اتجاه الرياح</td> </tr> </tbody> </table>	الموقع (ب)	الموقع (أ)	المقارنة	منخفضة/ معتدلة	مرتفعة	درجة الحرارة	الجنوبية الغربية / الجنوبية	غربية / شمالية غربية / شمالية شرقية (يكتفى واحدة فقط)	اتجاه الرياح	١	ب
الموقع (ب)	الموقع (أ)	المقارنة												
منخفضة/ معتدلة	مرتفعة	درجة الحرارة												
الجنوبية الغربية / الجنوبية	غربية / شمالية غربية / شمالية شرقية (يكتفى واحدة فقط)	اتجاه الرياح												
فهم وتطبيق	٣٦	١	سقوط امطار غزيرة / مصحوبة برياح عاتية / وحدثت فيضانات / خسائر مادية / خسائر بشرية / اقتلاع الأشجار يكتفى بذكر واحد	٢										
فهم وتطبيق	٧٢	١	تأمين منطقة المحيط الهندي / القضاء على القرصنة / تأمين الطرق البحرية	١										
فهم وتطبيق	٦٧	١	- تأسيس المطبعة السلطانية في عهد السلطان برغش بن سعيد / انتشار الكتب - ظهور الصحافة لأول مرة في تاريخ شرقي أفريقيا / الفلق / الاصلاح / النهضة / الاهتمام بالعلماء والشعراء / والادباء / القضاء	٢	ج									

(٣)

تابع نموذج إجابة امتحان الصف الثامن
للعام الدراسي ١٤٣٨/١٤٣٩ هـ - ٢٠١٧/٢٠١٨ م
الدور الاول - الفصل الدراسي الاول
المادة : الدراسات الاجتماعية

السؤال الثالث : إجابة الأسئلة المقالية:

إجابة السؤال الثالث

المستوى المعرفي	المخرج التعليمي	الدرجة	الدرجة	الإجابة الصحيحة	المفردة	الجزئية
	فهم وتطبيق	٤٥	١		١	أ
	قدرات عليا	٤٢ - ٤٣	١	بسبب وقوعها بالقرب من دائرة الاستواء التي تتميز بغزارة الأمطار بها	٢	
	معرفة	٥٠	١	- اختلاف طول الليل والنهار بين الصيف والشتاء - وصول اشعة الشمس مائلة	٣	
	قدرات عليا	٩٦	٢	يساعد على استغلال الوقت في البيئة المدرسية تنظيم اليوم الدراسي يسهل ممارسة الانشطة والقائمين عليها (تقدر اجابة الطالب بما يفيد المعنى)		ب
	معرفة	٩٥	١	الجولات السلطانية	١	
	قدرات عليا	٩٤	٢ لكل درجة	الفهم المشترك - التعاون - المساواة - الحوار - التفاهم - المشاركة - التشاور او ما يفيد المعنى (يكتفى بذكر اثنين)	٢	ج

(٤)

تابع نموذج إجابة امتحان الصف الثامن
للعام الدراسي ١٤٣٨/١٤٣٩ هـ - ٢٠١٧/٢٠١٨ م
الدور الاول - الفصل الدراسي الاول
المادة : الدراسات الاجتماعية

تابع إجابة الأسئلة المقالية:

الدرجة الكلية: (٨) درجة				إجابة السؤال الرابع	
المخرج التعليمي	الصفحة	الدرجة	الإجابة الصحيحة	المفردة	الجزئية
فهم وتطبيق	٣٩	٢ درجة لكل مفردة	 <p>السحب أمطار الهواء الرطب الهواء الجاف مسطحات مائية</p>	١	أ
فهم وتطبيق	٣٩	١	الامطار التضاريسية	٢	
فهم وتطبيق	٩١	٢ لكل مفردة درجة	<p>المحافظة على مقتنياتها / المحافظة على الممتلكات / عدم قطع الاشجار والزهور الموجودة بها / المساعدة في نظافتها / المحافظة على الالعب (يكتفى بذكر اثنين) (ما يفيد المعنى المطلوب)</p>		ب
معرفة	٦٨ ٦٩	٣ لكل مفردة درجة	<p>١- برغش بن سعيد ٢- سلطان بن احمد ٣- (حصن البريمي - قصر المتوني - بيت الساحل) <u>يكتفى بذكر واحد</u></p>		ج

انتهى نموذج الاجابة

