

تم تحميل هذا الملف من موقع المناهج العُمانية



*للحصول على أوراق عمل لجميع الصفوف وجميع المواد اضغط هنا

<https://almanahj.com/om>

* للحصول على أوراق عمل لجميع مواد الصف الثامن اضغط هنا

<https://almanahj.com/om/8>

* للحصول على جميع أوراق الصف الثامن في مادة علوم ولجميع الفصول, اضغط هنا

<https://almanahj.com/om/8science>

* للحصول على أوراق عمل لجميع مواد الصف الثامن في مادة علوم الخاصة بـ الفصل الأول اضغط هنا

<https://almanahj.com/om/8science1>

* لتحميل كتب جميع المواد في جميع الفصول للـ الصف الثامن اضغط هنا

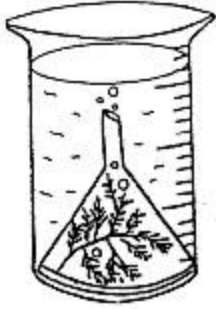
<https://almanahj.com/om/grade8>

* لتحميل جميع ملفات المدرس إيمان البكاري اضغط هنا

للتحدث إلى بوت المناهج العُمانية على تلغرام: اضغط هنا

https://t.me/omcourse_bot

اسم المتميزة: الصف: ٨/.....



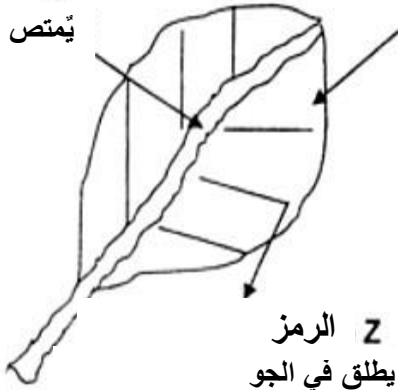
(١) الشكل المقابل يوضح تجربة، عندما وضعت في مكان مشمس ظهرت فقاعات.

أ- لماذا ظهرت الفقاعات؟ (١)

ب- ما الذي يؤثر على عدد الفقاعات المنتجة؟ (١)

(٢) الشكل المقابل يوضح بعض المراحل في عملية التمثيل الضوئي:

X الرمز
يتمص من الجو



Y الرمز
يصنع في الورقة

Z الرمز
يطلق في الجو

أ- إلى ماذا تشير الرموز التالية: (٢)

.....:X

.....:Y

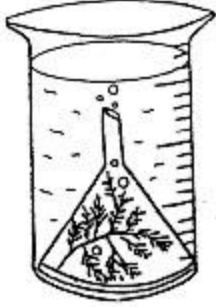
.....:Z

ت- تغلبت النباتات على مشكلة قابلية
الذويان للجلوكوز بتحويله إلى: (١)

○ كحول ○ يود

○ كلوروفيل ○ نشا

اسم المتميزة: الصف: ٨/.....



(١) الشكل المقابل يوضح تجربة، عندما وضعت في مكان مشمس ظهرت فقاعات.

أ. لماذا ظهرت الفقاعات؟ (١)

.....

ب- ما الذي يؤثر على عدد الفقاعات المنتجة؟ (١)

.....

(٢) الشكل المقابل يوضح بعض المراحل في عملية التمثيل الضوئي:

الرمز X
يُمتص من الجو



الرمز Y
يصنع في الورقة

الرمز Z
يطلق في الجو

أ- إلى ماذا تشير الرموز التالية: (٢)

.....:X

.....:Y

.....:Z

ث- تغلبت النباتات على مشكلة قابلية
الذويان للجلوكوز بتحويله إلى: (١)

○ كحول ○ يود

○ كلوروفيل ○ نشا