

تم تحميل هذا الملف من موقع المناهج العُمانية



* للحصول على أوراق عمل لجميع الصفوف وجميع المواد اضغط هنا

<https://almanahj.com/om>

* للحصول على أوراق عمل لجميع مواد الصف الثامن اضغط هنا

<https://almanahj.com/om/8>

* للحصول على جميع أوراق الصف الثامن في مادة اجتماعيات ولجميع الفصول, اضغط هنا

<https://almanahj.com/om/8social>

* للحصول على أوراق عمل لجميع مواد الصف الثامن في مادة اجتماعيات الخاصة بـ الفصل الأول اضغط هنا

<https://almanahj.com/om/8social1>

* لتحميل كتب جميع المواد في جميع الفصول للـ الصف الثامن اضغط هنا

<https://almanahj.com/om/grade8>

للتحدث إلى بوت على تلغرام: اضغط هنا

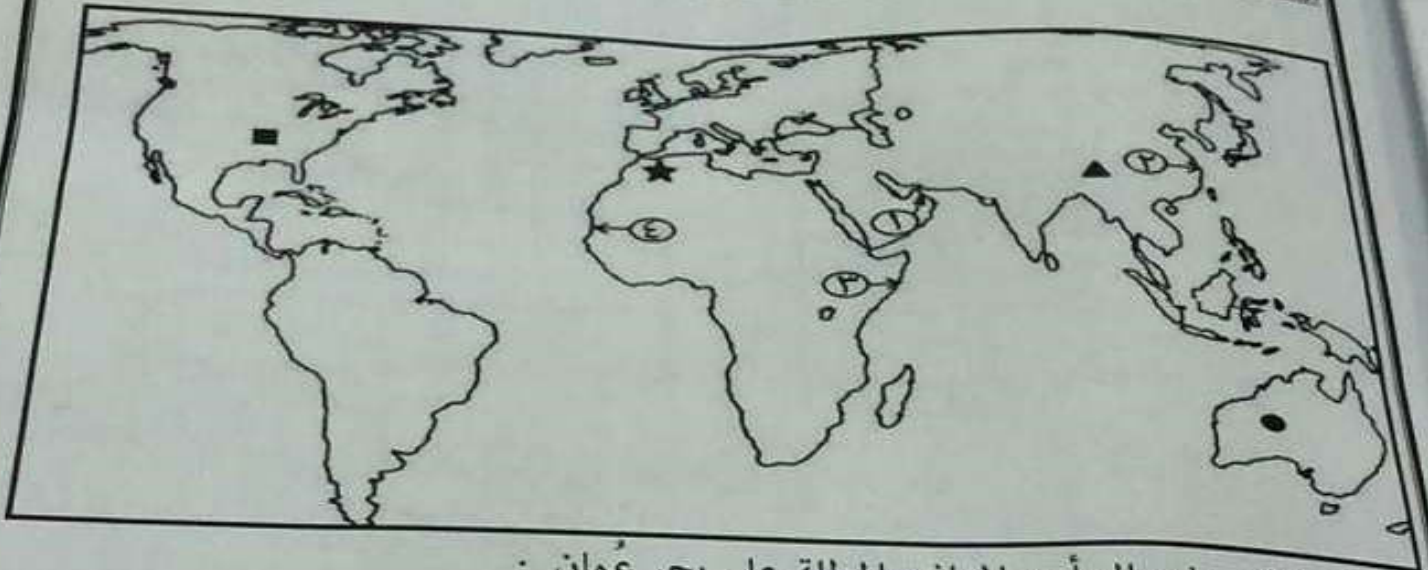
https://t.me/omcourse_bot

أجب عن جميع الأسئلة الآتية

المسألة الأولى: ضع دائرة حول رمز الإجابة الصحيحة لكل مفردة من المفردات الآتية:

- ١- الباب السادس في النظام الأساسي للدولة هو :
(أ) المبادئ الموجهة (ب) الحقوق والواجبات (ج) مجلس عُمان (د) القضاء
- ٢- الرياح التي تهب خلال أحد فصول السنة على مناطق محددة من العالم تعرف بالرياح :
(أ) الدائمة (ب) الموسمية (ج) المحلية (د) اليومية

استعن بخريطة العالم للإجابة على المفردات (٣ ، ٤) :

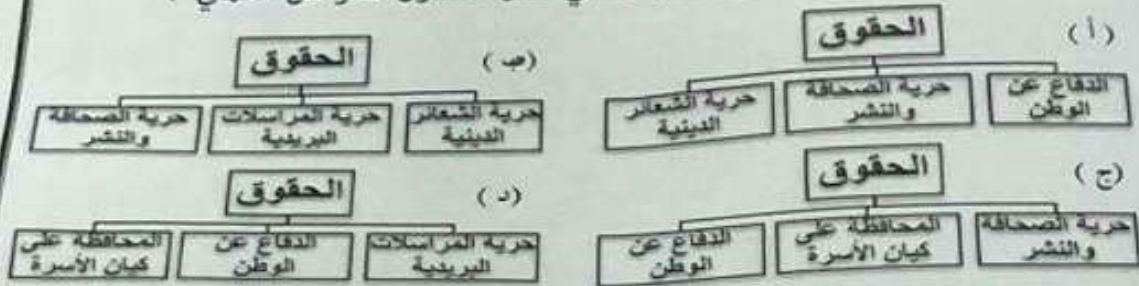


- ٣- الرقم الذي يشير إلى أحد الموانئ المطلّة على بحر عُمان :
(أ) ١ (ب) ٢ (ج) ٣ (د) ٤

- ٤- الرمز الذي يشير إلى الدولة التي عقدت اتفاقية في عهد السيد سعيد بن سلطان عام ١٨٣٣م :
(أ) ▲ (ب) ● (ج) ■ (د) ★

تابع السؤال الأول:

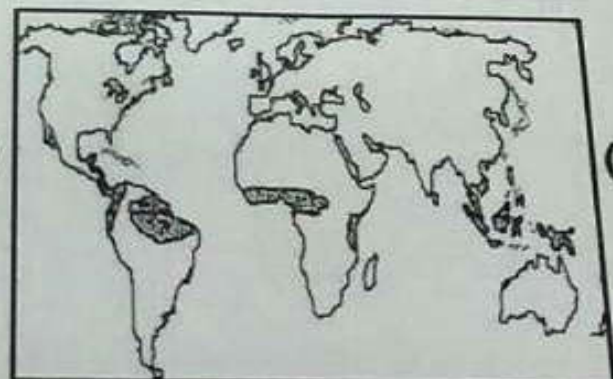
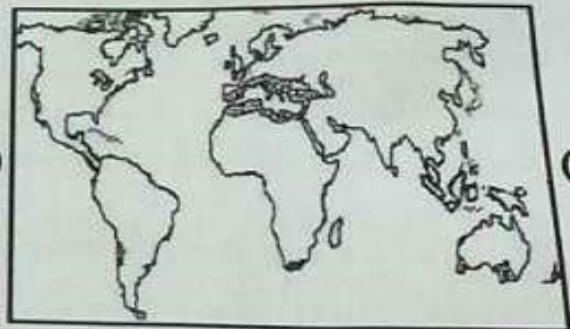
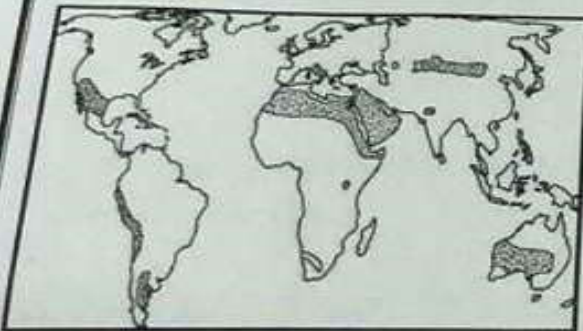
١٠- المخطط الصحيح الذي يوضح الحقوق التي كفلها القانون للمواطن العماني :



١١- مؤسس دولة البوسعيد عام ١٧٤٤ م :

- أ) سيف بن سلطان ب) سلطان بن مرشد ج) أحمد بن سعيد د) سلطان بن أحمد

١٢- الخريطة التي توضح البيئة التي تعيش فيها الحيوانات الظاهرة في الصورة أمامك :



السؤال الثاني: أجب عن الأسئلة الآتية:

المفهوم/المصطلح	العبارة
.....	٣ أكتب المصطلح / المفهوم الدال عليه أمام كل عبارة في الجدول الآتي:
.....	١ تغطي الثلوج قمم الجبال المرتفعة طوال العام.
.....	٢ حالة اضطراب مؤقت في الجو في مناطق جاذبة للرياح.
.....	٣ تجمعات من بخار الماء المتكاثف في طبقات الجو العليا.

ب) ادرس الخريطة التي أمامك ثم أجب عن الأسئلة التي تليها:



أكتب أسماء المواقع التالية في مكانها الصحيح على الخريطة:

١ - المحيط الهندي.

٢ - بلاد فارس.


٣ - الدولة التي حرر الإمام أحمد بن سعيد ساحلها من القراصنة مشار إليها بالرقم () .

ج) انظر الصورة أمامك التي توضح أحد الممارسات السلوكية اتجاه الممتلكات العامة، ثم أجب عما يليه:



أؤيد () ضع علامة (√)

لا أؤيد ()
علل إجابتك .



تابع السؤال الأول:

٥- المنطقة ذات الضغط الجوي الأقل

مشار إليها بالرقم :

١(أ) ٢(ب)

٣(ج) ٤(د)

٦- الجدول الصحيح الذي يمثل الأقاليم المناخية والدول التي تمثلها :

ايسلندا	الاقليم الاستوائي
البرازيل	الاقليم البحر المتوسط
سلطنة عمان	الاقليم القطبي

(ب)

البرازيل	الاقليم الاستوائي
ايسلندا	الاقليم البحر المتوسط
سلطنة عمان	الاقليم القطبي

(أ)

البرازيل	الاقليم الاستوائي
سلطنة عمان	الاقليم البحر المتوسط
ايسلندا	الاقليم القطبي

(د)

ايسلندا	الاقليم الاستوائي
سلطنة عمان	الاقليم البحر المتوسط
البرازيل	الاقليم القطبي

(ج)

(د) سلطنة

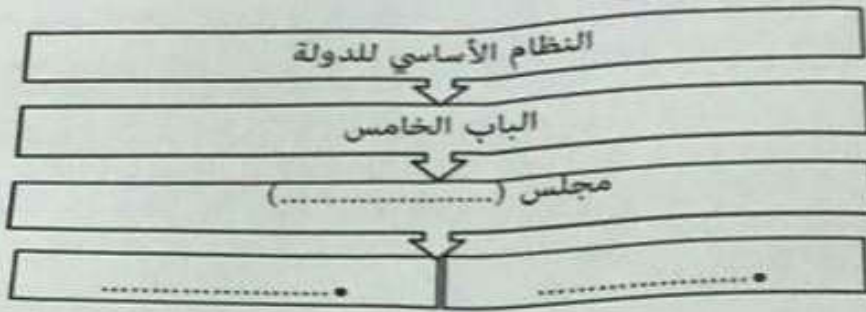
٧- السفينة التي كان لها دور في تحرير مدينة البصرة :
(أ) شاه علم (ب) الرحماني (ج) الفلك (د) سلطنة

(د) استراليا

(ج) أفريقيا

٨- تقع صحراء جوبي في قارة :
(أ) آسيا (ب) أوروبا (ج) أفريقيا (د) استراليا٩- المعيار الأمثل لاختيار المرشحين لعضوية مجلس الشورى :
(أ) المنفعة الشخصية (ب) الصلة والقربة (ج) الكفاءة والخبرة (د) الجنسية

(أ) أكمل المخطط المعرفي التالي:



(ب) من خلال دراستك للإقليم الموسمي، أجب عما يلي:

١ - حدّد على الخريطة أمامك المحافظة التي يسود فيها الإقليم الموسمي باستخدام الرمز (/).

٢- يتوافد السياح لزيارة هذه المحافظة في فصل: (.....)

علل ذلك.



(ج) أنسب الشخصيات التالية إلى الإنجازات التي حققتها:

(قابوس بن سعيد، سلطان بن أحمد، أحمد بن سعيد، سعيد بن سلطان)

تعزيز النفوذ العماني في منطقة الخليج العربي.
أخذ من زنجبار عاصمة ثانية للإمبراطورية العمانية.
إعادة بناء قصر العلم.
بنى قلعة بيت الفلج وقلعة بركاء.

السؤال الرابع:

١) أجب عن الأسئلة التالية :
١- أسهم التنظيم الإداري للسلطنة في إيجاد جو من التعاون بين أفراد المجتمع " وضح ذلك

٢- أبرمت عدة دول أوروبية إتفاقيات مع عُمان في عهد السيد سعيد بن سلطان
سم إحدى هذه الدول. (.....)



٣- ظلل الشكل البياني بما يتناسب مع العبارة التالية :
(تمثل الصحاري الحارة حوالي ثلث مساحة اليابسة).


ب) قارن بين التيارات البحرية الباردة والدافئة :

وجه المقارنة	التيارات الدافئة	التيارات الباردة
الأمطار

ج) اكتب اسم الجهاز أسفل كل صورة :



٢-



١-