

شكراً لتحميلك هذا الملف من موقع المناهج العمانية



اختبار قصير أول

[موقع المناهج](#) ← [المناهج العمانية](#) ← [الصف الثامن](#) ← [اجتماعيات](#) ← [الفصل الثاني](#) ← [الملف](#)

التواصل الاجتماعي بحسب الصف الثامن



روابط مواد الصف الثامن على تلغرام

[الرياضيات](#)

[اللغة الانجليزية](#)

[اللغة العربية](#)

[التربية الاسلامية](#)

المزيد من الملفات بحسب الصف الثامن والمادة اجتماعيات في الفصل الثاني

نموذج إجابة الاختبار النهائي الرسمي في محافظة مسقط	1
الاختبار النهائي الرسمي في محافظة مسقط	2
الامتحان الرسمي النهائي لمحافظة الداخلية	3
الاختبار النهائي الرسمي في محافظة الظاهرة	4
الامتحان النهائي الرسمي الفترة الصباحية بمحافظة جنوب الباطنة	5



المديرية العامة للتربية والتعليم لمحافظة جنوب الشرقية
اختبار قصير (1) للفصل الدراسي الثاني في مادة الدراسات الاجتماعية للصف الثامن

مدرسة / العينه للتعليم الأساسي (٦-١٢)

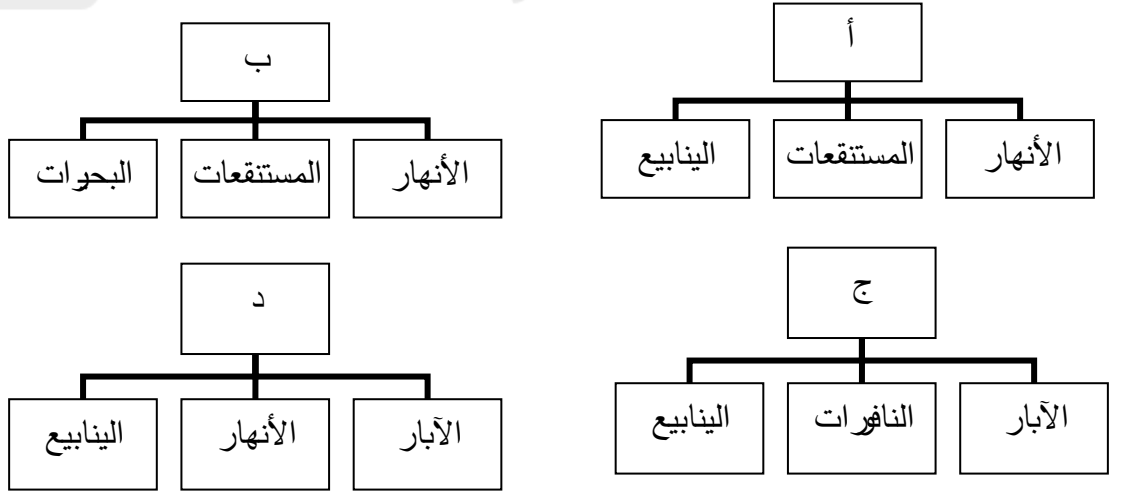
اسم الطالبة الرائعة/

السؤال الأول: اختار الإجابة الصحيحة من بين البدائل المعطاة: -

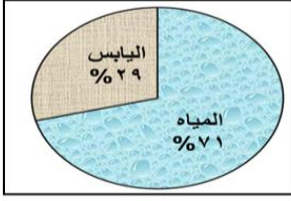
1. أكبر محيطات العالم من حيث المساحة هو المحيط:

أ. الهندي ب. الأطلسي ج. الهادي د. المتجمد الشمالي

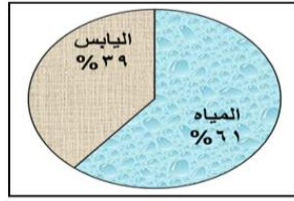
2. المخطط الصحيح الذي يشير إلى أشكال المياه الجوفية:



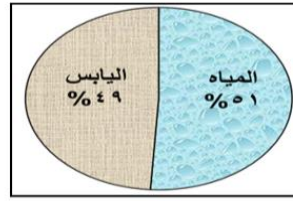
3. الشكل الذي يمثل النسبة المئوية للمياه من إجمالي مساحة سطح الأرض:



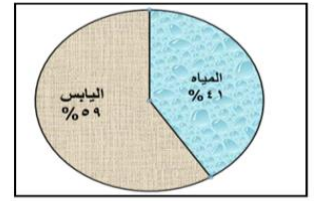
د.



ج.



ب.



أ.

4. تسكن أمل بالقرب من مسطح مائي محدود المساحة، ومحاط باليابس من جميع الاتجاهات

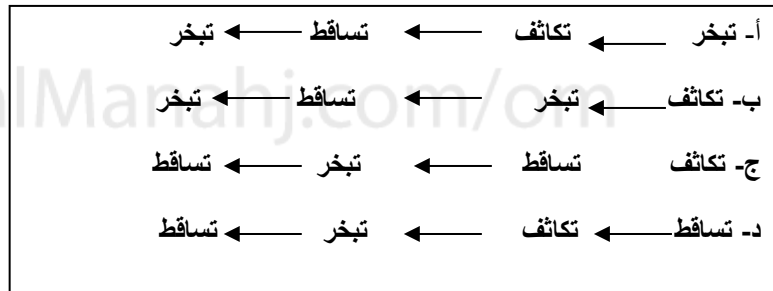
يسمى:



د. الشلال

أ. المستنقع ب. البحيرة ج. النهر

5. المخطط الذي يوضح الدورة المائية في الطبيعة:



السؤال الثاني: (6 درجات)

أولاً:

1- اذكر اثنين من اشكال خروج المياه الجوفية الى سطح الأرض.

أ-

ب-

2. فسر ما يلي:

أ. " خروج المياه بشكل تلقائي من الآبار الارتوازية"

.....
ب. ثبات مستويات المياه والمحيطات رغم أن الانهار تصب فيها باستمرار.
.....



تم تحميل هذا الملف من
موقع المناهج العُمانية

alManahj.com/om

ثانياً:

تعد مشكلة تملح المياه من المشكلات الشائعة في العالم. في ضوء هذه العبارة اجيبي عن الآتي:

1. اذكرين اثنتين من اسباب المشكلة؟

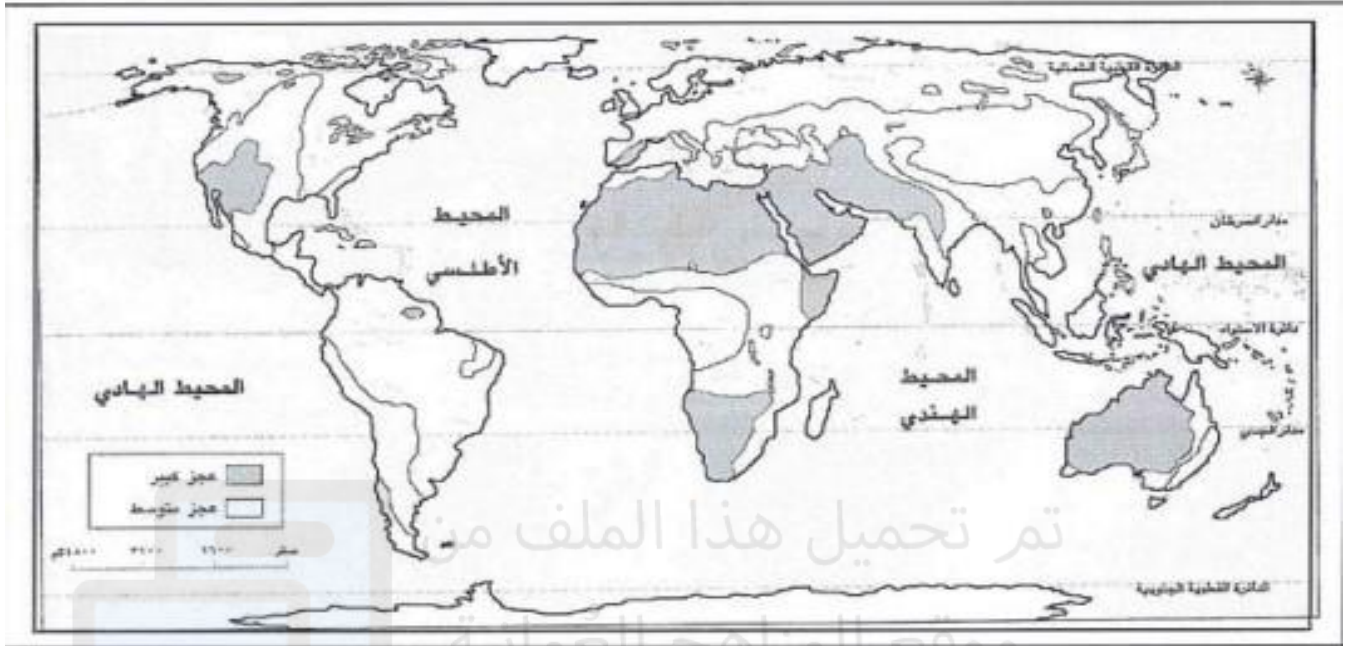
.....*

.....*

2. أقترحي حلاً لمواجهة المشكلة

السؤال الثالث (4 درجات)

ادرس خريطة العجز المائي في العالم التي أمامك ثم أجب عن الأسئلة التي تليها :



١ - ما نوع العجز المائي الذي تعاني منه سلطنة عُمان ؟

٢ - أذكر قارة يتركز فيها العجز المائي بشكل كبير ؟

٣ - سمى دولة عربية تواجه عجز مائي متوسط ؟

٤ - أذكر قارة يقل فيهما العجز المائي ؟



تم تحميل هذا الملف من
موقع المناهج العُمانية

alManahj.com/om