

## شكراً لتحميلك هذا الملف من موقع المناهج العمانية



## أوراق عمل درس قيام دولة البوسعيد

[موقع المناهج](#) ← [المناهج العمانية](#) ← [الصف الثامن](#) ← [اجتماعيات](#) ← [الفصل الأول](#) ← [الملف](#)

## التواصل الاجتماعي بحسب الصف الثامن



## روابط مواد الصف الثامن على تلغرام

[الرياضيات](#)

[اللغة الانجليزية](#)

[اللغة العربية](#)

[التربية الاسلامية](#)

## المزيد من الملفات بحسب الصف الثامن والمادة اجتماعيات في الفصل الأول

<a href="#">نموذج أسئلة الاختبار الرسمي لمحافظة (ظفار)</a>	1
<a href="#">نموذج أسئلة الاختبار الرسمي (جنوب الباطنة)</a>	2
<a href="#">نموذج إحابة الاختبار الرسمي (جنوب الباطنة)</a>	3
<a href="#">نموذج أسئلة الاختبار الرسمي (جنوب الباطنة)</a>	4
<a href="#">أسئلة الاختبار الرسمي شمال الشرقية</a>	5

التاريخ : / /

عنوان الدرس : قيام دولة البوسعيد ( 1744م )

المفاهيم :

- أهل الحل والعقد
- بلاد الفرس
- شاه

عناصر الدرس :

✓ أحوال عمان قبيل قيام دولة البوسعيد

✓ العامل الذي سهل على الفرس السيطرة على عمان

✓ خطورة التنافس الداخلي على أمن الدولة واستقرارها

أهم الشخصيات في درس اليوم :

✓ سلطان بن سيف الثاني

✓ سيف بن سلطان الثاني

✓ سلطان بن مرشد

✓ نادر شاه

✓ أحمد بن سعيد

أبرز التواريخ في درس اليوم :

■ 1744م

■ 1718م

■ 1742م

الأسئلة الموضوعية (الاختبار المتعدد) :

ضعي دائرة حول الإجابة الصحيحة من بين البدائل المعطاة :

1. الإمام الذي قاد مقاومة العمانيين ضد الفرس في صحار :

(أ) سلطان بن سيف الثاني (ب) سلطان بن مرشد (ج) سيف بن سلطان الثاني (د) مهنا بن سلطان

2. قامت دولة البوسعيد في العام الميلادي :

(أ) 1744 (ب) 1745 (ج) 1746 (د) 1747

3. توفي الإمام سلطان بن سيف الثاني في العام الميلادي :

(أ) 1718 (ب) 1722 (ج) 1733 (د) 1744

4. عقدت له الإمامة بجامع نخل عام 1742 م :

(أ) مهنا بن سلطان (ب) سلطان بن مرشد (ج) سيف بن سلطان الثاني (د) سلطان بن سيف الثاني

5. القائد العماني الذي نجح في إخراج الفرس من صحار :

(أ) سلطان بن مرشد (ب) أحمد بن سعيد (ج) سلطان بن أحمد (د) سعيد بن سلطان

الأسئلة المقالية ( أجبي عن الأسئلة الآتية ):

1. شهدت عمان في نهاية دولة اليعاربة وضعاً سياسياً مضطرباً " فسري ذلك .

.....  
.....  
.....

2. "مرت عمان بظروف سياسية صعبة قبيل ظهور دولة البوسعيد " . في ضوء هذه العبارة اجبي على السؤال الآتي:

أ) اذكرين اثنين من مظاهر الضعف السياسي في تلك الفترة .

.....(1)  
.....(2)

3. ادرسي خريطة سلطنة عمان ثم أجبي عن الأسئلة الآتية :

أ) ضعي دائرة على كل من : صحار / نخل

ب) إلى أي محافظة من محافظات السلطنة تتبع كل من:

صحار : .....

نخل : .....

ج) استخرجي من الخريطة الدولة الحالية التي كانت لها

اطماع في عمان .

.....

د) في الخريطة خطاً لمسطح مائي استخرجيه ثم صحهه .

هـ) عددي المسطحات المائية التي تطل عليها عُمان .

.....  
.....



التاريخ : / /

عنوان الدرس : تابع / قيام دولة البوسعيد (1744م)

المفاهيم :

- الوحدة الوطنية
- شط العرب
- السفينة الرحماني

أهم الشخصيات في درس اليوم :

- ✓ أحمد بن سعيد
- ✓ هلال بن احمد بن سعيد

أبرز التواريخ في درس اليوم :

- 1744م
- 1783م
- 1775م

عناصر الدرس :

- ✓ قيام دولة البوسعيد 1744م
- ✓ جهود الإمام أحمد بن سعيد في تثبيت أركان الدولة
- ✓ دور الإمام أحمد بن سعيد لتوطيد الاستقرار داخل وخارج حدود الدولة

الأسئلة الموضوعية (الاختبار المتعدد) :

ضعي دائرة حول افجابة الصحيحة من بين البدائل المعطاة :

1. توفي الإمام أحمد بن سعيد في مدينة :

- (أ) صحار (ب) آدم (ج) نزوى (د) الرستاق

2. الأمام الذي بويع بالإمامة عام 1744 م وتوفي في الرستاق عام 1783م:

- (أ) احمد بن سعيد (ب) ناصر بن مرشد (ج) سيف بن سلطان (د) سلطان بن مرشد

3. سفينة عمانية تمكنت من تحرير مدينة البصرة من الفرس عام 1775 م :

- (أ) سلطنة (ب) فكتوريا (ج) الرحماني (د) كارولين

4. قائد الحملة العسكرية للمنطقة المشار اليها بالرمز (أ) لتخليصها من سيطرة الفرس عام 1775 م:



(أ) سلطان بن احمد

(ب) احمد بن سعيد

(ج) هلال بن احمد

(د) سالم بن سلطان

5. عاصمة عمان في عهد الإمام أحمد بن سعيد:

أ) الرستاق      ب) مسقط      ج) صحار      د) نزوى

6. نتيجة لسيطرة الفرس على مرفأ مسقط فقد حول الإمام أحمد بن سعيد الخطوط البحرية إلى ميناء:

أ) مطرح      ب) صور      ج) بركاء      د) صحار

الأسئلة المقالية (أجيب عن الأسئلة الآتية):

1. اذكرى واحدا فقط من أعمال السيد أحمد بن سعيد.

2. اذكرى اثنين من الاجراءات التي اتخذها الامام احمد بن سعيد لجعل منطقة الخليج العربي والساحل العماني منطقة تجارية حرة؟

3. علي : قيام الإمام احمد بن سعيد بتحويل طرق التجارة البحرية من مسقط إلى بركاء

4. فسري : مبايعة الإمام احمد بن سعيد إماما على عمان عام 1744م

5. اقرئي النص التالي ثم اجيب عن الأسئلة التي تليه :

((وصل الإمام ، أحمد الى بركاء كمحرر وعين فيها خلفان بن مُجَّد البوسعيدي واليا وسعى إلى خنق حيوية الفرس بحرمان مسقط من دورها الاقتصادي ، فقد توصل إلى تحويل كل الخطوط البحرية والتجارية نحو ميناء بركاء ، ناقلا بذلك الغنى إلى المرفأ المحرر ، ومهمشا مرفأ مسقط الذي يحتله الفرس))

أ) استنتجي مظهرا من مظاهر التنظيم الاداري للدولة في عهد الامام احمد بن سعيد.

ب) دللي على الحنكة الاقتصادية لدى الامام أحمد في حربه مع الفرس وتحرير مسقط .

6. ادرسي الخريطة التي أمامك ، ثم أجبني عن الأسئلة الآتية :



أ) ارسمي على الخريطة خط سير الأسطول العماني لنجدة البصرة زمن الإمام أحمد بن سعيد.

ب) البحر الذي يحد عمان من جهة الجنوب .....(أكملي)

ج) في أي جهة تقع البصرة بالنسبة للعراق؟ .....

د) أكتبي على الخريطة بلاد (فارس) في مكانها الصحيح

هـ) وقعي على الخريطة ولايتي بركاء وأدم .

التاريخ : / /

عنوان الدرس : تابع / قيام دولة البوسعيد (1744م)

أهم الشخصيات في درس اليوم :

- ✓ الإمام سعيد بن أحمد
- ✓ الإمام حمد بن سعيد
- ✓ السيد سلطان بن احمد

المفاهيم :

- قشم وهرمز وبندر عباس وجواد وشهباز
- قبيلة العتوب

عناصر الدرس :

- ✓ أعمال السيد سلطان بن أحمد الداخلية والخارجية
- ✓ أبرز الأحداث في عهد السيد سلطان بن أحمد

أبرز التواريخ في درس اليوم :

- 1792م
- 1804م
- 1798
- 1800
- 1783م

الأسئلة الموضوعية (الاختبار المتعدد) :

ضعي دائرة حول الإجابة الصحيحة من بين البدائل المعطاة :

1. الحملة العسكرية التي انطلقت من مسقط لنجدة سكان المنطقة الواضحة في الخريطة من سيطرة الفرس .. كانت بقيادة :



أ) تركي بن سلطان

ب) هلال بن أحمد

ج) سالم بن سلطان

د) سعيد بن سلطان

2. القبيلة التي تمكنت من طرد الفرس من البحرين عام 1783 م :

أ) القواسم      ب) العتوب      ج) بنو تميم      د) النزاريون

3. أحد سادة عمان استطاع أن يسيطر على منطقة الخليج العربي عام 1798 م :

أ) سلطان بن أحمد      ب) سعيد بن سلطان      ج) سعيد بن أحمد      د) أحمد بن سعيد

4. الدولة التي يشير إليها السهم في الخريطة أمامك :

أ) قطر      ب) البحرين

ج) الكويت      د) السعودية



5. الإمام الذي نقل العاصمة إلى مسقط لتكون مقر حكمه:

(أ) أحمد بن سعيد (ب) حمد بن سعيد بن أحمد (ج) سلطان بن أحمد بن سعيد (د) هلال بن أحمد

6. الجدول الذي يمثل الأرقام التي تشير إلى مناطق النفوذ العماني في منطقة الخليج العربي في عهد السيد سلطان

بن أحمد :



٤	٥
٣	٣
٢	٤

ب-

٢	١
٤	٥
١	٣

د- ج-

الأسئلة المقابلة (أجيب عن الأسئلة الآتية):

1. أمامك خريطة توضح مسار حملة النجدة العمانية لأهل البحرين ، ادرسيها وأجيب عن الأسئلة المقابلة :



استنتجي من الخريطة ما يلي :

(أ) المدينة التي خرجت منها الحملة.

.....

(ب) الجهة التي تقع فيها بلاد فارس بالنسبة لعمان

.....

(ج) المسطحات المائية التي مرت بها الحملة

.....

.....

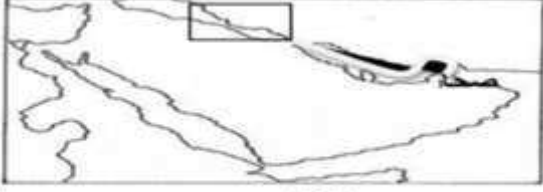
2. أذكرني اثنين من أبرز الأحداث التي حدثت في عهد السيد سلطان بن أحمد في منطقة الخليج العربي.

(أ) .....

(ب) .....



3. أمامك خريطة توضح دور الاسطول العماني في منطقه الخليج العربي ادرسهما جيدا ثم الخليج العربي اجيبي عن الأسئلة التالية:



(١)

أ) الخريطة (1) توضح نجده اهل عمان لمدينه حدد اسم المدينة على الخريطة؟ .....



(٢)

ب) الخريطة (2) توضح نجده اهل عمان لأهل البحرين اكتب العاصمة العمانية خلال تلك الفترة؟ .....

4. اعيدي ترتيب الاحداث التاريخية التالية من الأقدم إلى الأحدث بوضع رقم يمين كل عبارة:

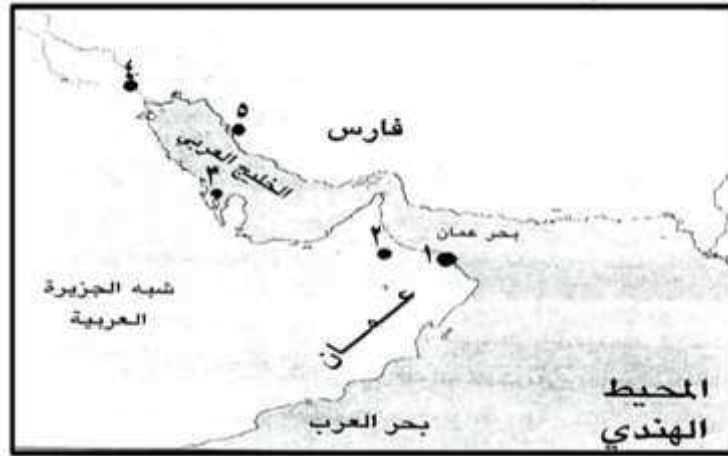
( ) نقل العاصمة إلى مسقط

( ) مقاومة الإمام سلطان بن مرشد للفرس في صحار

( ) إعادة الوحدة الوطنية إلى البلاد

( ) مقاومة الإمام احمد بن سعيد للفرس في صحار

5. ادرسي الخريطة التي أمامك ، ثم أجبي عن الأسئلة الآتية :



أ) ما الرقم الذي يشير إلى المدينة التي أصبحت عاصمةً للسلطان حمد بن سعيد؟ .....

ب) عللي: استنجد أهل المنطقة المشار إليها بالرقم (3) بالسيد سلطان بن أحمد .

.....  
.....

6.رتبي الأحداث التالية من الأقدم إلى الأحدث بكتابة الأرقام من (1-4) بين القوسين:

( ) نقل العاصمة إلى مسقط

( ) اخراج الفرس من صحار

( ) الغزو الفارسي على البحرين

( ) مبايعة أحمد بن سعيد إماماً على عمان

7.أنظري إلى الخريطة التي أمامك ثم أجبي عن الأسئلة التي تليها:



أ) ارسمي على الخريطة خط سير سفينة الرحماني

لنجدة البصرة.

ب) تقع فارس بالنسبة لعمان في الجهة.....

ج) استخرجي من الخريطة احد الموانئ التي أخضعها

العمانيون في عهد السيد سلطان بن أحمد

د) اكتب على الخريطة ( المحيط الهندي ) في مكانه

الصحيح.

8.دلي : تعزيز النفوذ العماني في منطقة الخليج العربي في عهد السيد سلطان بن أحمد.

.....  
.....

9.صنفي الأعمال حسب الشخصيات الواردة في الجدول:

( بوبع بالإمامة عام 1744م – شجع التجارة مع الهند وشرقي أفريقيا – أرسل حملة بحرية لنجدة أهل البحرين – أخضع جزيرتي قشم وهرمز )

السيد أحمد بن سعيد	السيد سلطان بن أحمد

10. اكتب الأعمال الداخلية التي قام بها السيد سلطان بن أحمد.

.....

.....

11. من خلال خريطة شبه الجزيرة العربية التي امامك أجيب عن الأسئلة التي تليها :



(أ) وقي على الخريطة خط سير الأسطول الذي أرسله السيد سلطان بن أحمد لنجدة أهل البحرين

(ب) ضعي دائرة حول المدينة التي أخذها الإمام احمد بن سعيد عاصمة له.

(ج) اكتب على الخريطة :

- مدينة البصرة

- الخليج العربي

التاريخ : / /

عنوان الدرس : تابع / قيام دولة البوسعيد (1744م)

المفاهيم :

- سلطنة
- قصر المتوني

أهم الشخصيات في درس اليوم :

✓ السيد سعيد بن سلطان

أبرز التواريخ في درس اليوم :

- 1806م
- 1856م

عناصر الدرس :

- ✓ امتداد الإمبراطورية العمانية في عهد السيد سعيد بن سلطان
- ✓ منجزات السيد سعيد بن سلطان

تم تحميل هذا الملف من  
موقع المناهج العمانية  
الأسئلة الموضوعية (الاختبار المتعدد):

ضعي دائرة حول الإجابة الصحيحة من بين البدائل المعطاة :

1. تولى السيد سعيد بن سلطان الحكم في عمان عام:

- (أ) 1804 م      (ب) 1805 م      (ج) 1806 م      (د) 1807 م

2. عاصمة عمان في الجزء الأفريقي من الإمبراطورية العمانية :

- (أ) زنجبار      (ب) مقديشو      (ج) كلوة      (د) بمبا

3. الصورة الواضحة امامك تمثل شخصية بارزة في التاريخ العماني السيد:



(أ) أحمد بن سعيد      (ب) سعيد بن سلطان

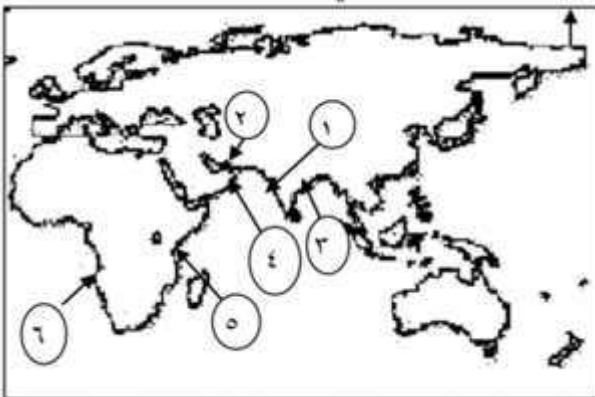
(ج) سلطان بن أحمد      (د) سلطان بن مرشد

4. تولى حكم دولة البوسعيد بعد وفاة والده عام 1806 م :

(أ) سعيد بن سلطان      (ب) سلطان بن أحمد      (ج) أحمد بن سعيد      (د) سلطان بن مرشد

5. الأرقام التي تشير إلى السواحل التي امتدت إليها الإمبراطورية العمانية في عهد السيد سعيد بن سلطان في

الخريطة المقابلة:



(أ) (3، 2، 1)      (ب) (5، 4، 2)

(ج) (6، 5، 4)      (د) (5، 4، 3)

6. السلطان الذي أمر ببناء السفينة ليفربول:

- (أ) أحمد بن سعيد (ب) سلطان بن سعيد (ج) سعيد بن سلطان (د) سيف بن سلطان



7. الرقم الذي يشير إلى مدينة مقديشو:

- (أ) 1 (ب) 2 (ج) 3 (د) 4

الأسئلة المقالية (أجبي عن الأسئلة الآتية):

1. "يعد المؤرخون عهد السيد سعيد بن سلطان الفترة الذهبية في التاريخ العماني الحديث" دلي على ذلك .

.....

.....

.....

.....

.....

2. دلي على تمكن السيد سعيد بن سلطان من تكوين إمبراطورية في آسيا وأفريقيا.

.....

.....

.....

.....

3. انظري إلى الخريطة التي أمامك ثم اجيبي عن الأسئلة التي تليها:

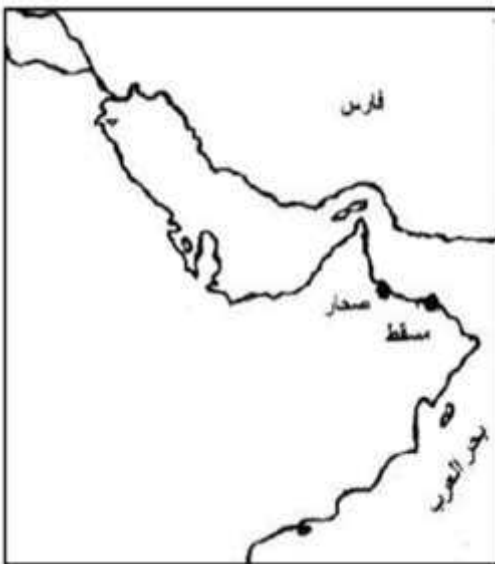
(أ) ضعي دائرة حول الدولة التي حررها السيد سالم بن سلطان من الفرس.

(ب) وقي على الخريطة خط سير الأسطول العماني الذي أرسله الإمام

احمد بن سعيد لنجدة أهل البصرة

(ج) ظللي على الخريطة امتداد الإمبراطورية العمانية في قارة آسيا في

عهد السيد سعيد بن سلطان



4. رتبي الأحداث التالية من الأقدم إلى الأحدث بوضع الرقم الدال على الحدث :

1. تولى السيد سلطان بن أحمد السلطة في مسقط	2. وفاة السيد حمد بن سعيد	3. مبايعة أحمد بن سعيد إماماً على عمان	4. مبايعة السيد سعيد بن سلطان إماماً

5. اذكرني اثنين من السفن العمانية عهد السيد سعيد بن سلطان

(أ) ..... (ب) .....

6. من خلال دارستك لشخصية السيد سعيد بن سلطان

ما أبرز صفاته الشخصية التي يمكن أن تقتدي بها ؟

.....  
.....  
.....  
.....

7. انظري إلى خريطة افريقيا ادرسيها جيداً ثم أجبي عما يليها من أسئلة :



(أ) اكتبني الخريطة عاصمة

الصومال .

(ب) وقعي على الخريطة كل من :

- موزمبيق

- الكونغو الديمقراطية

(ج) ظللي على الخريطة امتداد

الإمبراطورية العمانية في قارة افريقيا

في عهد السيد سعيد بن سلطان