

تم تحميل هذا الملف من موقع المناهج العُمانية



* للحصول على أوراق عمل لجميع الصفوف وجميع المواد اضغط هنا

<https://almanahj.com/om>

* للحصول على أوراق عمل لجميع مواد الصف الثامن اضغط هنا

<https://almanahj.com/om/8>

* للحصول على جميع أوراق الصف الثامن في مادة اجتماعيات ولجميع الفصول, اضغط هنا

<https://almanahj.com/om/8social>

* للحصول على أوراق عمل لجميع مواد الصف الثامن في مادة اجتماعيات الخاصة بـ الفصل الأول اضغط هنا


<https://almanahj.com/om./8social1>

* لتحميل كتب جميع المواد في جميع الفصول للـ الصف الثامن اضغط هنا

<https://almanahj.com/om./grade8>

للتحدث إلى بوت المناهج العمانية على تلغرام: اضغط هنا

https://t.me/omcourse_bot



امتحان الصف الثامن الأساسي
للعام الدراسي ١٤٣٧/١٤٣٨ هـ - ٢٠١٦/٢٠١٧ م
الدور الأول - الفصل الدراسي الأول

- المادة: الدراسات الاجتماعية.
- عدد صفحات أسئلة الامتحان: (٧) صفحات.
- زمن الإجابة : ساعة ونصف
- الإجابة في الورقة نفسها.

		اسم الطالب
الصف		المدرسة

التوقيع بالاسم		الدرجة		السؤال
المصحح الثاني	المصحح الأول	بالحروف	بالأرقام	
				١
				٢
				٣
				٤
مراجعة الجمع	جمعه			المجموع
				المجموع الكلي

أجب عن جميع الأسئلة الآتية

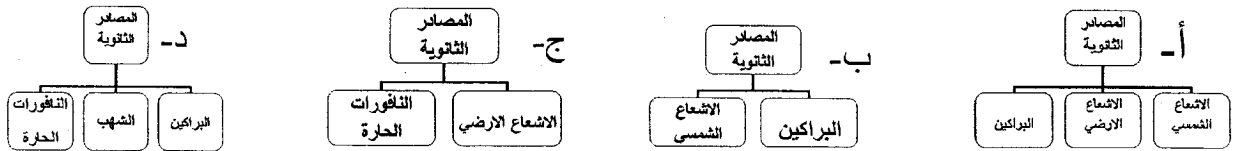
السؤال الأول: ضع دائرة حول رمز الإجابة الصحيحة لكل مفردة من المفردات الآتية:-

١- صدر المرسوم السلطاني الخاص بالنظام الأساسي للدولة في العام الميلادي :-
أ- ١٩٩٣ ب- ١٩٩٤ ج- ١٩٩٥ د- ١٩٩٦

٢- شُيّد حصن البريمي في عهد :-

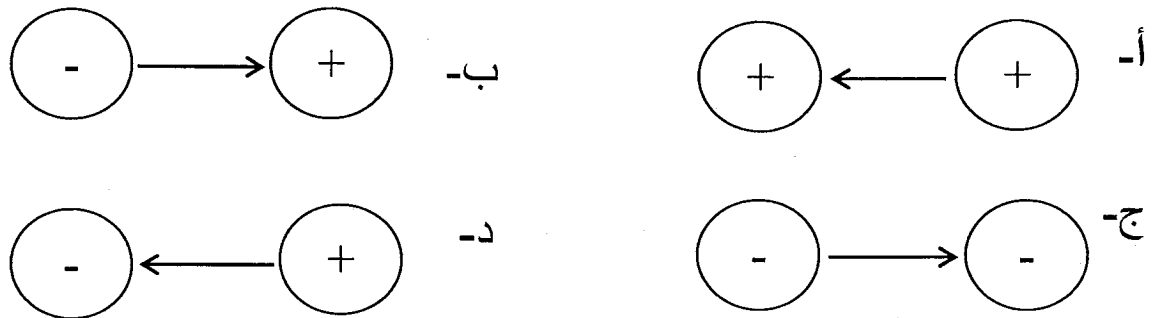
أ- حمد بن سعيد
ب- سعيد بن سلطان
ج- سلطان بن أحمد
د- برغش بن سعيد

٣- خريطة المفاهيم التي تبين المصادر الثانوية للحرارة على سطح الأرض :



٤- قامت العلاقات بين عمان والولايات المتحدة الأمريكية في القرن الميلادي:
أ- السابع عشر ب- الثامن عشر ج- التاسع عشر د- العشرين

٥- الشكل الصحيح لحركة الرياح بين مناطق الضغط الجوي :-

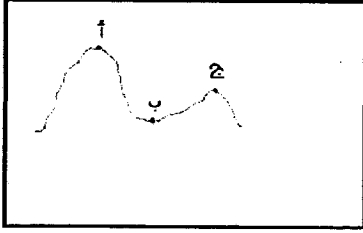


تابع: السؤال الأول:

٦- عاصمة عمان في عهد الإمام أحمد بن سعيد:

- أ- الرستاق ب- مسقط ج- صحار د- نزوى

٧- يقف أحمد في النقطة (أ) على ارتفاع ٢٠٠ متر، وانتقل من (أ) إلى (ب) فوجد درجة الحرارة (٢٥°) س، كم ستبلغ درجة الحرارة في (ج) إذا علمت أنها على ارتفاع ٦٠٠ متر عن (ب) :-



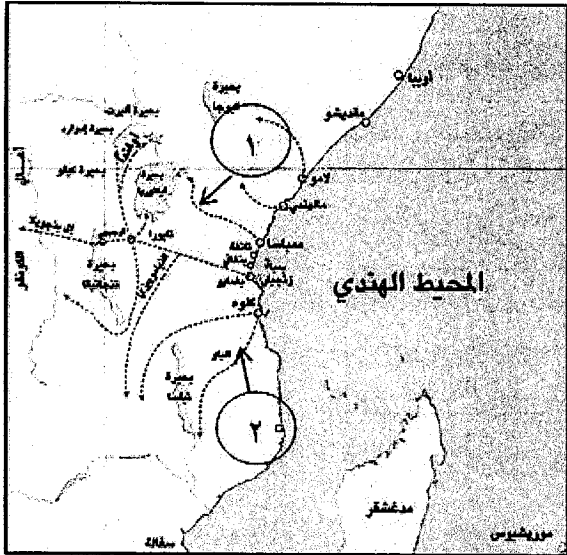
ب- ٢٥ س

أ- ٢٩ س

د- ١٧ س

ج- ٢١ س

٨- يشير الرقم (٢) في الخريطة إلى أحد طرق القوافل البرية العمانية في شرقي



أفريقيا :

- أ- الشمالي
ب- الأوسط
ج- الجنوبي
د- الغربي

السؤال الثاني : أجب عن الأسئلة الآتية :

أ- عرف ما يلي :

١- المدى الحراري.

٢- التنظيم الإداري.

تابع: السؤال الثاني:

ب - رتب الأحداث التاريخية الآتية من الأقدم إلى الأحدث بكتابة الرقم بين الأقواس:

- () زيارة السفينة العمانية كارولين ميناء مرسيليا الفرنسي .
() تولي السيد سعيد بن سلطان الحكم .
() اتخاذ زنجبار عاصمة ثانية للإمبراطورية العمانية .
() توقيع شركة الهند الشرقية الإنجليزية معاهدة تجارية مع السيد سلطان بن أحمد .

ج-أجب عن الأسئلة الآتية :

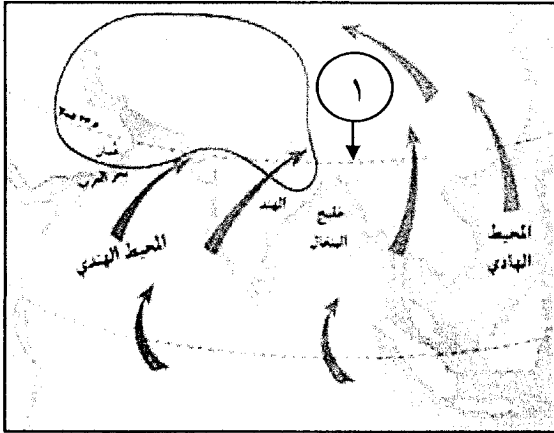
- ١- صنف ما يلي إلى حقوق و واجبات في الجدول أدناه:
(الدفاع عن الوطن - الجنسية - المحافظة على الأموال العامة - المساواة)

<u>الواجبات</u>	<u>الحقوق</u>

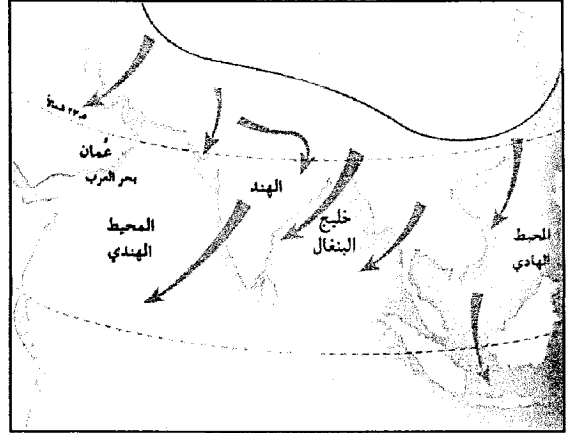
- ٢- بالرجوع إلى جدول الرطوبة الجوية المرفق في نهاية الاختبار، احسب النسبة المئوية لرطوبة الهواء في منطقة ما إذا كانت قراءة الترمومتر الجاف ٣٠°س وقراءة الترمومتر المبلل ٢٠°س .

السؤال الثالث :

أ) أنظر إلى الخريطتين الآتيتين ثم أجب عن الأسئلة التي تليهما:



الرياح الموسمية الصيفية في قارة آسيا



الرياح الموسمية الشتوية في قارة آسيا

١- يشير الرقم (١) في خريطة الرياح الموسمية الصيفية في قارة آسيا إلى مدار ----- (أكمل).

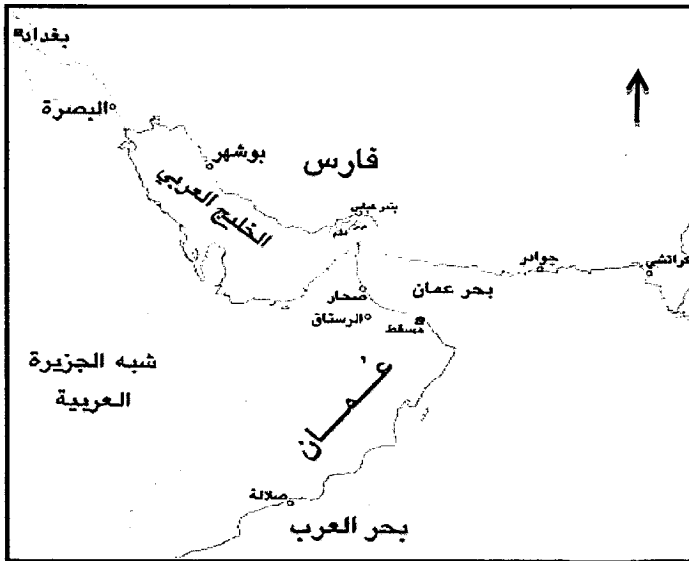
٢- نوع الرياح في خريطة الرياح الموسمية الشتوية :

□ رطبة □ جافة اختر الإجابة الصحيحة

٣- ما اتجاه الرياح الموسمية الصيفية التي تهب على محافظة ظفار؟ -----

٤- اكتب على خريطة الرياح الموسمية الشتوية نوع الضغط الجوي على اليابسة.

ب) انظر إلى الخريطة التي أمامك ثم أجب عن الأسئلة التي تليها:



١- ارسم على الخريطة خط سير

سفينة الرحماني لنجدة البصرة.

٢- تقع فارس بالنسبة لعمان في جهة -----

أكمل

٣- استخرج من الخريطة أحد الموانئ

التي اخضعها العمانيون في عهد السيد

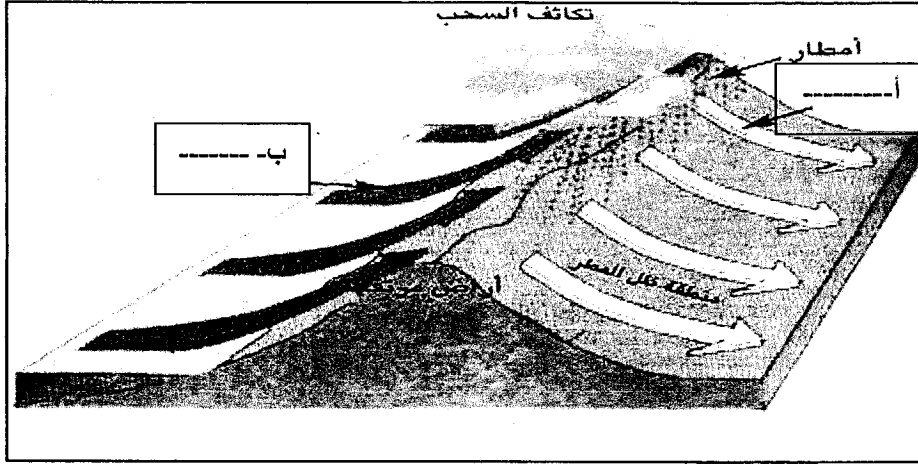
سلطان بن أحمد -----

٤- أكتب على الخريطة


(المحيط الهندي) في مكانه الصحيح.

السؤال الرابع:

أ) انظر إلى الشكل الذي أمامك ثم أجب عن الأسئلة التي تليه :-



- ١- ما نوع الأمطار التي يوضحها الشكل؟
 - ٢- أكتب نوع الهواء في المربع المناسب داخل الشكل (هواء دافئ رطب/هواء جاف)
- ب) ادرس الشكل الآتي ثم أكمل الجدول أدناه :



النظام وجه المقارنة	أ	ب
اسم النظام المستخدم في قياس درجة الحرارة	-----	-----
درجة التجمد	صفر	-----
درجة الغليان	-----	٢١٢°

يتبع / ٦

تابع: السؤال الرابع:

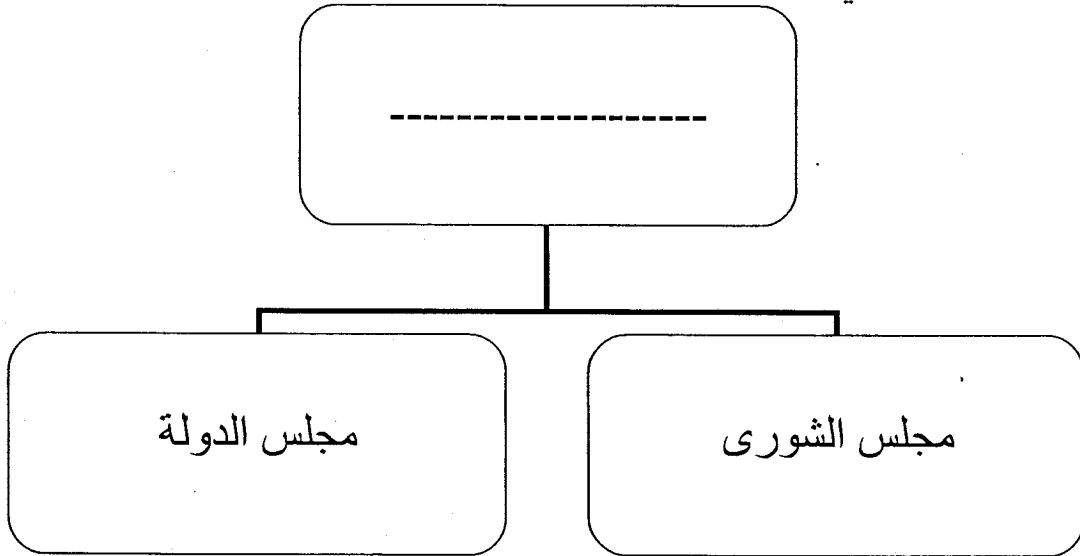
ج) اقرأ النص الآتي ، ثم أجب عن الأسئلة التي تليه :
" محمد مواطن عماني الجنسية بصفة أصلية وفقاً للقانون ، ويبلغ سنه ٣٥ سنة وهو من ذوي المكانة والسمعة الحسنة، ولديه خبرة عملية مناسبة ، ولم يُحَكم عليه بعقوبة جنائية أو جريمة مخلة بالشرف أو الأمانة "

١- يحق لمحمد الترشح في عضوية :

□ مجلس الشورى □ مجلس الدولة (اختر الإجابة الصحيحة)

٢- ما الطريقة التي يتم بها اختيار محمد لعضوية هذا المجلس ؟

٣- أكمل المخطط الآتي :



المادة: الدراسات الاجتماعية. الدور الأول - الفصل الدراسي الأول
العام الدراسي ٢٠١٦/٢٠١٧م

الفرق بين قرائتي التيرمومتريين الجاف والمبلل															قراءة التيرمومتر
١٥	١٤	١٣	١٢	١١	١٠	٩	٨	٧	٦	٥	٤	٣	٢	١	مؤارة الجبل
٣٤	٣٧	٤٠	٤٤	٤٨	٥٢	٥٦	٦٠	٦٤	٦٩	٧٣	٧٨	٨٣	٨٩	٩٤	٤٧
٣٣	٣٦	٤٠	٤٣	٤٧	٥١	٥٥	٥٩	٦٤	٦٨	٧٣	٧٨	٨٣	٨٩	٩٤	٤٦
٣٢	٣٥	٣٩	٤٢	٤٦	٥٠	٥٤	٥٩	٦٣	٦٨	٧٣	٧٨	٨٣	٨٨	٩٤	٤٥
٣١	٣٤	٣٨	٤٢	٤٦	٥٠	٥٤	٥٨	٦٣	٦٨	٧٣	٧٨	٨٣	٨٨	٩٤	٤٤
٣٠	٣٣	٣٧	٤١	٤٥	٤٩	٥٣	٥٨	٦٢	٦٧	٧٢	٧٧	٨٣	٨٨	٩٤	٤٣
٢٩	٣٢	٣٦	٤٠	٤٤	٤٨	٥٣	٥٧	٦٢	٦٧	٧٢	٧٧	٨٢	٨٨	٩٤	٤٢
٢٨	٣١	٣٥	٣٩	٤٣	٤٧	٥٢	٥٦	٦١	٦٦	٧١	٧٧	٨٢	٨٨	٩٤	٤١
٢٧	٣٠	٣٤	٣٨	٤٢	٤٧	٥١	٥٦	٦١	٦٦	٧١	٧٦	٨٢	٨٨	٩٤	٤٠
٢٦	٢٩	٣٣	٣٧	٤١	٤٦	٥٠	٥٥	٦٠	٦٥	٧٠	٧٦	٨٢	٨٧	٩٤	٣٩
٢٤	٢٨	٣٢	٣٦	٤١	٤٥	٥٠	٥٤	٥٩	٦٥	٧٠	٧٥	٨١	٨٧	٩٤	٣٨
٢٣	٢٧	٣١	٣٥	٤٠	٤٤	٤٩	٥٤	٥٩	٦٤	٦٩	٧٥	٨١	٨٧	٩٣	٣٧
٢٢	٢٦	٣٠	٣٤	٣٩	٤٣	٤٨	٥٣	٥٨	٦٣	٦٩	٧٥	٨١	٨٧	٩٣	٣٦
٢٠	٢٤	٢٩	٣٣	٣٧	٤٢	٤٧	٥٢	٥٧	٦٣	٦٨	٧٤	٨٠	٨٧	٩٣	٣٥
١٩	٢٣	٢٧	٣٢	٣٦	٤١	٤٦	٥١	٥٦	٦٢	٦٨	٧٤	٨٠	٨٦	٩٣	٣٤
١٧	٢١	٢٦	٣٠	٣٥	٤٠	٤٥	٥٠	٥٦	٦١	٦٧	٧٣	٨٠	٨٦	٩٣	٣٣
١٦	٢٠	٢٤	٢٩	٣٤	٣٩	٤٤	٤٩	٥٥	٦١	٦٧	٧٣	٧٩	٨٦	٩٣	٣٢
١٤	١٨	٢٣	٢٨	٣٢	٣٨	٤٣	٤٨	٥٤	٦٠	٦٦	٧٢	٧٩	٨٦	٩٣	٣١
١٢	١٦	٢١	٢٦	٣١	٣٦	٤٢	٤٧	٥٣	٥٩	٦٥	٧٢	٧٨	٨٥	٩٣	٣٠
١٠	١٥	١٩	٢٤	٣٠	٣٥	٤٠	٤٦	٥٢	٥٨	٦٥	٧١	٧٨	٨٥	٩٢	٢٩
٨	١٣	١٨	٢٣	٢٨	٣٣	٣٩	٤٥	٥١	٥٧	٦٤	٧٠	٧٧	٨٥	٩٢	٢٨
٦	١١	١٦	٢١	٢٦	٣٢	٣٨	٤٤	٥٠	٥٦	٦٣	٧٠	٧٧	٨٤	٩٢	٢٧
٣	٨	١٤	١٩	٢٥	٣٠	٣٦	٤٢	٤٩	٥٥	٦٢	٦٩	٧٦	٨٤	٩٢	٢٦
١	٦	١١	١٧	٢٣	٢٩	٣٥	٤١	٤٧	٥٤	٦١	٦٨	٧٦	٨٤	٩٢	٢٥
	٤	٩	١٥	٢١	٢٧	٣٣	٣٩	٤٦	٥٣	٦٠	٦٨	٧٥	٨٣	٩١	٢٤
	١	٧	١٣	١٩	٢٥	٣١	٣٨	٤٥	٥٢	٥٩	٦٧	٧٥	٨٣	٩١	٢٣
		٤	١٠	١٦	٢٣	٢٩	٣٦	٤٣	٥١	٥٨	٦٦	٧٤	٨٣	٩١	٢٢
			٥	١١	١٨	٢٥	٣٣	٤٠	٤٨	٥٦	٦٤	٧٣	٨١	٩١	٢٠
			٢	٩	١٦	٢٣	٣١	٣٨	٤٦	٥٥	٦٣	٧٢	٨١	٩٠	١٩
				٦	١٣	٢١	٢٨	٣٦	٤٥	٥٣	٦٢	٧١	٨٠	٩٠	١٨

انتهت الأسئلة مع الدعاء للجميع بالتوفيق والنجاح.



نموذج إجابة امتحان الصف الثامن

للعام الدراسي ١٤٣٧ / ١٤٣٨ هـ - ٢٠١٦ / ٢٠١٧ م



الفصل الدراسي الأول - الدور الأول

الدرجة الكلية : (٤٠) درجة

المادة : الدراسات الاجتماعية

تنبيه : نموذج الإجابة في (٤) صفحات

أولاً : إجابة السؤال الموضوعي :

الدرجة الكلية : (١٦) درجة		إجابة السؤال الأول			
الملاحظات	الصفحة	الدرجة	الإجابة	البديل الصحيح	المفردة
	٨٥	٢	١٩٩٦	د	١
	٦٨	٢	سعيد بن سلطان	ب	٢
	٢١	٢		د	٣
	٧٦	٢	التاسع عشر	ج	٤
	٣١	٢		د	٥
	٥٥	٢	الرسنق	أ	٦
	١٥	٢	٢١ س	ج	٧
	٦٦-٦٥	٢	الجنوبي	ج	٨
الدرجة الكلية (١٦)		المجموع			

(٢)

تابع نموذج إجابة امتحان الصف الثامن

للعام الدراسي ١٤٣٧ / ١٤٣٨ هـ - ٢٠١٦ / ٢٠١٧ م

الفصل الدراسي الأول - الدور الأول

المادة : الدراسات الاجتماعية

ثانياً : إجابة الأسئلة المقالية :-

إجابة السؤال الثاني		الدرجة الكلية : (٨) درجة			
الجزئية	المفردة	الإجابة الصحيحة	الدرجة	الصفحة	الملاحظات
أ	١	المدى الحراري : الفرق بين أعلى درجة حرارة وأدنى درجة حرارة تسجلان خلال فترة زمنية (في اليوم أو الشهر أو السنة).	١	١٦	
	٢	التنظيم الإداري : القواعد والأسس الموضوعية لتنظيم الأعمال والعلاقات وتحديد الحقوق والواجبات في مختلف مجالات حياة الإنسان .	١	٨١	
ب	-	(٤) زيارة السفينة العمانية كارولين ميناء مرسيليا الفرنسي . (٢) تولي السيد سعيد بن سلطان الحكم . (٣) اتخاذ زنجبار عاصمة ثانية للإمبراطورية العمانية . (١) توقيع شركة الهند الشرقية الإنجليزية معاهدة تجارية مع السيد سلطان بن أحمد .	درجتان ولكل مفردة نصف درجة	٧٣ ٦٠ ٧٤ ٧٣	
	١	الحقوق	درجتان ولكل مفردة نصف درجة	٩١	جدول الرطوبة الجوية مرفق في نهاية الاختبار
		الواجبات			
		الجنسية			
ج	١	المساواة	درجتان ولكل مفردة نصف درجة	٩١	جدول الرطوبة الجوية مرفق في نهاية الاختبار
	٢	٣٠-٢٠ = ١٠ درجة سيليزية من خلال جدول الرطوبة الجوية نسبة الرطوبة ٣٦%			

(٣)

تابع نموذج إجابة امتحان الصف الثامن
للعام الدراسي ١٤٣٧ / ١٤٣٨ هـ - ٢٠١٦ / ٢٠١٧ م
الفصل الدراسي الأول - الدور الأول
المادة : الدراسات الاجتماعية

تابع ثانياً : إجابة الأسئلة المقالية :-

إجابة السؤال الثالث		الدرجة الكلية : (٨) درجة		
الجزئية	المفردة	الإجابة الصحيحة	الدرجة	الصفحة
أ	١	مدار السرطان	١	٣٣
	٢	جافة	١	٣٣
	٣	الجنوبية الغربية	١	٣٣
	٤		١	٣٣
ب	١	يرسم الطالب على الخريطة خط سير سفينة الرحماني من صحار إلى البصرة	١	٥٦
	٢	الشمال	١	٥٩
	٣	قشم ، هرمز ، بندر عباس ، جوادر	١	٥٨
	٤	يكتب الطالب اسم المحيط الهندي على الخريطة في مكانه الصحيح	١	٥٩

(٤)

تابع نموذج إجابة امتحان الصف الثامن
للعام الدراسي ١٤٣٧ / ١٤٣٨ هـ - ٢٠١٦ / ٢٠١٧ م
الفصل الدراسي الأول - الدور الأول
المادة : الدراسات الاجتماعية

تابع ثانياً : إجابة الأسئلة المقالية :-

إجابة السؤال الرابع		الدرجة الكلية : (٨) درجة																		
الجزئية	المفردة	الإجابة الصحيحة	الدرجة	الصفحة																
أ	١	الأمطار التضاريسية	١	٣٩																
	٢	أ- هواء جاف ب- هواء دافئ رطب	درجتان لكل جزئية درجة واحدة	٣٩																
ب	-	<table border="1"><thead><tr><th>النظام</th><th>وجه المقارنة</th><th>ب</th><th>أ</th></tr></thead><tbody><tr><td>اسم النظام المستخدم في قياس درجة الحرارة</td><td>النظام السيليزي</td><td>النظام الفهرنهايتي</td><td></td></tr><tr><td>درجة التجمد</td><td>صفر</td><td>٣٢</td><td></td></tr><tr><td>درجة الغليان</td><td>١٠٠</td><td>٢١٢</td><td></td></tr></tbody></table>	النظام	وجه المقارنة	ب	أ	اسم النظام المستخدم في قياس درجة الحرارة	النظام السيليزي	النظام الفهرنهايتي		درجة التجمد	صفر	٣٢		درجة الغليان	١٠٠	٢١٢		درجتان ولكل مفردة نصف درجة	٢٥
النظام	وجه المقارنة	ب	أ																	
اسم النظام المستخدم في قياس درجة الحرارة	النظام السيليزي	النظام الفهرنهايتي																		
درجة التجمد	صفر	٣٢																		
درجة الغليان	١٠٠	٢١٢																		
ج	١	مجلس الشورى	١	٩٦																
	٢	عن طريق الانتخابات وترشيح المواطنين	١	٩٦																
	٣	<pre>graph TD; A[مجلس عمان] --> B[مجلس الدولة]; A --> C[مجلس الشورى];</pre>	١	٩٥																

((نهاية نموذج الإجابة))