

تم تحميل هذا الملف من موقع المناهج العمانية



الامتحان النهائي الرسمي الدور الأول الفترة الصباحية

موقع فايلاتي ← المناهج العمانية ← الصف الثامن ← اجتماعيات ← الفصل الأول ← الامتحان النهائي ← الملف

تاريخ إضافة الملف على موقع المناهج: 09:20:47 2025-01-20

ملفات اكتب للمعلم اكتب للطالب | اختبارات الكترونية | اختبارات | حلول | عروض بوربوينت | أوراق عمل
منهج انجليزي | ملخصات وتقارير | مذكرات وبنوك | الامتحان النهائي للمدرس

المزيد من مادة
اجتماعيات:

التواصل الاجتماعي بحسب الصف الثامن



صفحة المناهج
العمانية على
فيسبوك

الرياضيات

اللغة الانجليزية

اللغة العربية

التربية الاسلامية

المواد على تلغرام

المزيد من الملفات بحسب الصف الثامن والمادة اجتماعيات في الفصل الأول

امتحان تجريبي مع نموذج الإجابة في محافظة ظفار

1

اختبار قصير ثاني بمحافظة الداخلية

2

اختبار قصير ثاني محلول

3

اختبار قصير ثاني حول دولة البوسعيد

4

مذكرة إثرائية سؤال وجواب في الوحدة الثانية (دولة البوسعيد)

5

تابع ثانيًا: الأسئلة المقالية:

- ١٦) ١- رتب الأحداث التالية من الأقدم إلى الأحدث:
- أ- () توقيع شركة الهند الشرقية الإنجليزية معاهدة مع السيد سعيد بن سلطان.
- ب- () إنشاء مجلس استشاري في سلطنة عُمان.
- ج- () زيارة السفينة العمانية كارولين ميناء مرسيليا الفرنسي.
- ٢- امامك خريطة توضح إقليمًا مناخيًا ، ادرسها جيدا، ثم اجب عن الأسئلة التي تليها:




- أ- وقع على الخريطة كلا مما يأتي:
- المحيط الأطلسي
- صحراء ثار
- ب- الجهة التي تقع فيها صحراء أتكاما بالنسبة لقارة أمريكا الجنوبية.
- ج- النسبة التي تغطيها الصحاري الحارة من مساحة اليابسة

انتهت الأسئلة مع الدعاء للجميع بالتوفيق والنجاح

ثانياً: الأسئلة المقالية:

١٣-١- ادرس الصور التي توضح العمارة العمانية في عصر دولة البوسعيد، ثم اجب عن الأسئلة التي تليها:

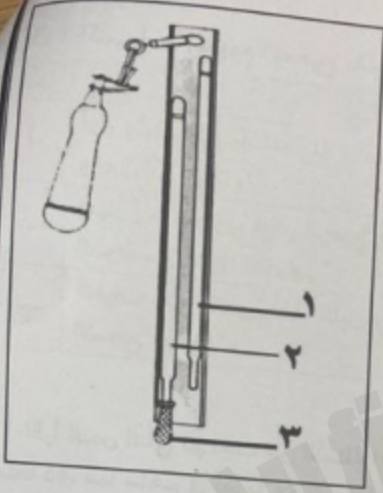


- أ- سم المعلم الحضاري المشار إليه بالرقم (١)
- ب- العام الميلادي الذي تم فيه تشييد المعلم المشار إليه بالرقم (٣)
- ج- المعلم الحضاري المشار إليه بالرقم (٢) بناه الامام العماني

٢- (في الآونة الأخيرة، تعرضت سلطنة عمان لعدة منخفضات جوية وأعاصير، مما أثر بشكل كبير على المناخ والبيئة في البلاد، وتقع سلطنة عمان في منطقة تتعرض لتغيرات مناخية متكررة حيث تتأثر بالرياح الموسمية والعواصف المدارية)، في ضوء هذه العبارة قارن في الجدول أدناه بين المنخفضات الجوية والأعاصير من حيث التعريف ومكان النشأة:

وجه المقارنة	المنخفضات الجوية	الأعاصير
التعريف	أ-	ب-
مكان النشأة	ج-	د-

يتبع/٤



تابع ثانياً: الأسئلة المقالية:

١٥-١- ادرس الشكل المقابل الذي يوضح أحد الأجهزة المستخدمة للتعرف على الأحوال المناخية ثم أجب عن الأسئلة الآتية:

أ- الغرض من استخدام الجهاز

ب- سم الجزء المشار إليه بالرقم (١)

ج- وضع دور الجزء المشار إليه بالرقم (٣) .
.....

٢- قرأ أحمد المادة (٤١) من النظام الأساسي للدولة النص الآتي:

(السلطان رئيس الدولة والقائد الأعلى للقوات المسلحة، ذاته مصونة لا تمس، واحترامه واجب، وأمره مطاع. وهو رمز الوحدة الوطنية والساھر على رعايتها وحمايتها). في ضوء هذا النص أجب عن الآتي:

أ- من خلال المادة (٤١) ما تعريفك لمفهوم السلطان ؟
.....

ب- سم الباب الرابع الذي قرأ منه أحمد نص المادة.
.....

ج- علل / السلطان ذاته مصونة لا تمس واحترامه واجب وأمره مطاع.
.....

٣- دلل على العلاقات الحسنة التي ربطت عمان مع الدولة العثمانية.
.....

تابع أولاً: الأسئلة الموضوعية:

- ٦- طلب معلم الدراسات الاجتماعية من طلبة الصف الثامن جمع معلومات عن خصائص الإقليم الاستوائي، فكتب أحد الطلبة بطاقة تعريفية عن خصائصه، الأرقام الدالة على الخصائص الصحيحة للإقليم في البطاقة المقابلة:
- (٢٠١) (٣٠١)
- (٤٠٢) (٣٠٢)

بطاقة تعريفية عن خصائص الإقليم الاستوائي:
١- اختلاف طول الليل والنهار بين الصيف والشتاء.
٢- تسود الإقليم الأمطار التصاعدية
٣- ارتفاع معدلات التبخر
٤- الطقس لا يتبدل من فصل إلى آخر

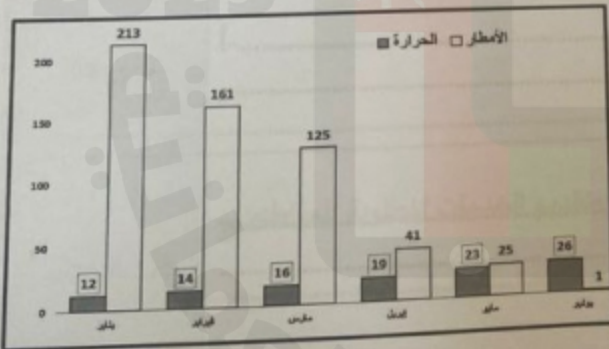
- ٧- عدد محطات الرصد الجوي الآلية الأتوماتيكية التي تضمها شبكة مراقبة الطقس في سلطنة عمان:
- ١ ٢ ٣ ٤

- ٨- الجهة التي تهب منها الرياح الموسمية القادمة من قارة آسيا في فصل الشتاء:
- جنوبية غربية جنوبية شرقية شمالية غربية شمالية شرقية

- ٩- واجبات المواطن العماني التي نص عليها النظام الأساسي في الباب الثالث:
- الحرية الشخصية المساواة الحفاظ على الوحدة الوطنية الجنسية

- ١٠- العام الميلادي للنهضة المباركة التي شهدتها سلطنة عمان في المجالات الاجتماعية والاقتصادية والثقافية والسياسية:
- ١٩٧٠ ١٩٧١ ١٩٧٢ ١٩٧٣

- ١١- المدى الحراري السنوي في الشكل البياني المقابل:



- ١١ ١٤
- ٩ ١٨

- ١٢- السفينة العمانية التي تمكن بها العمانيون من تحرير مدينة البصرة:

- سلطنة فكتوريا الفلك الرحماني

تابع ثانيًا: الأسئلة المقالية:

١٤-١ اكتب اسم المفهوم الصحيح مقابل كل عبارة في الجدول التالي:

المفهوم	العبارة	م
.....	أول وثيقة قانونية متكاملة في التاريخ العماني تنظم كافة جوانب العمل والعلاقات في الدولة.	أ-
.....	جهاز إداري يتولى فرض الرسوم وتحصيلها على البضائع الواردة الى موانئ الدولة من الدول الأخرى.	ب-
.....	قطرات مائية تتكون أثناء الليل وبخاصة في ساعات الصباح الباكر على الأسطح الباردة.	ج-

٢- أقرأ النص التالي ثم اجب عن الأسئلة (حققت دولة البوسعيد ، العديد من المنجزات الحضارية في مجالات متعددة، مما ساهم في تعزيز مكانة سلطنة عمان الإقليمية والدولية). في ضوء هذه العبارة صنف المنجزات الحضارية لدولة البوسعيد حسب المجال الذي تحققت فيه:

المجال	المنجز الحضاري
أ-.....	بناء إمبراطورية عمانية شملت مناطق عدة في شرقي افريقيا
ب-.....	إدخال زراعة القرنفل والبُن والسهم إلى زنجبار

٣- علل لما يأتي:

أ- سقوط الأمطار على شمال سلطنة عمان في فصل الشتاء.

ب- للتنظيم الإداري أهمية كبيرة في تسهيل الأمور الحياتية وتقديم الخدمات المطلوبة للمواطنين.

أولاً: الأسئلة الموضوعية:
ظلل الشكل () المقترن بالإجابة الصحيحة لكل مفردة من المفردات الآتية:



١- الرقم الدال على المدينة العمانية التي كان أحمد بن سعيد والياً عليها أثناء الهجوم الفارسي على عمان:
١ ٢ ٣ ٤

٢- المصدر الأساسي للحرارة على سطح الأرض:
البراكين الإشعاع الأرضي الشهب النافورات الحارة

٣- الجدول الصحيح للشروط الواجب توافرها لعضوية مجلس الدولة:

لا يقل عمره عن ٤٠ سنة	<input type="checkbox"/>
عماني الجنسية	<input type="checkbox"/>
ذو مكانة وسمعة حسنة	<input type="checkbox"/>

عماني الجنسية	<input type="checkbox"/>
لا يقل عمره عن ٣٠ سنة	<input type="checkbox"/>
ذو مكانة وسمعة حسنة	<input type="checkbox"/>

لا يقل عمره عن ٣٠ سنة	<input type="checkbox"/>
لديه خبرة علمية	<input type="checkbox"/>
ذو مكانة وسمعة حسنة	<input type="checkbox"/>

لديه خبرة علمية	<input type="checkbox"/>
لا يقل عمره عن ٢٥ سنة	<input type="checkbox"/>
ذو مكانة وسمعة حسنة	<input type="checkbox"/>

٤- الامتداد الفلكي لإقليم البحر المتوسط بالنسبة لشمال وجنوب دائرة الاستواء:

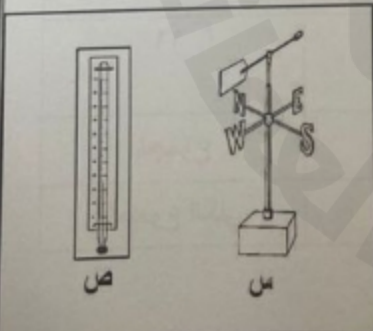
(٥٣٠ - ٥٦٠)

(٥٣٠ - ٥٤٠)

(٥٢٠ - ٥٣٠)

(٥٤٠ - ٥٦٠)

٥- الجدول الذي يوضح الفرق بين استخدام الجهازين المشار إليهما بالرمزين (س، ص) في الشكل المقابل:



الرمز	الاستخدام	<input type="checkbox"/>
س	سرعة الرياح	<input type="checkbox"/>
ص	تسجيل درجة الحرارة	<input type="checkbox"/>

الرمز	الاستخدام	<input type="checkbox"/>
س	اتجاه الرياح	<input type="checkbox"/>
ص	سرعة الرياح	<input type="checkbox"/>

الرمز	الاستخدام	<input type="checkbox"/>
س	اتجاه الرياح	<input type="checkbox"/>
ص	تسجيل درجة الحرارة	<input type="checkbox"/>

الرمز	الاستخدام	<input type="checkbox"/>
س	قياس الرطوبة	<input type="checkbox"/>
ص	سرعة الرياح	<input type="checkbox"/>