

تم تحميل هذا الملف من موقع المناهج العُمانية



* للحصول على أوراق عمل لجميع الصفوف وجميع المواد اضغط هنا

<https://almanahj.com/om>

* للحصول على أوراق عمل لجميع مواد الصف الثامن اضغط هنا

<https://almanahj.com/om/8>

* للحصول على جميع أوراق الصف الثامن في مادة اجتماعيات ولجميع الفصول, اضغط هنا

<https://almanahj.com/om/8social>

* للحصول على أوراق عمل لجميع مواد الصف الثامن في مادة اجتماعيات الخاصة بـ الفصل الأول اضغط هنا

<https://almanahj.com/om/8social1>

* لتحميل كتب جميع المواد في جميع الفصول للـ الصف الثامن اضغط هنا

<https://almanahj.com/om/grade8>

* لتحميل جميع ملفات المدرس صالحة الغنبوصي اضغط هنا

للتحدث إلى بوت على تلغرام: اضغط هنا

https://t.me/omcourse_bot

سلطنة عمان

وزارة التربية والتعليم

المديرية العامة للتربية والتعليم بالشرقية جنوب

مدرسة السويح للتعليم الاساسي (١-٩)

كتاب أنشطة مقترح لمادة،،،،،

الدراسات الاجتماعية

للفص الثامن

(الفصل الدراسي الاول)

اعداد الأستاذة : صالحه بنت علي الغنبوصي

مقدمه

بسم الله الرحمن الرحيم والصلاة والسلام على اشرف الانبياء
والمرسلين سيدنا محمد وعلى آله وصحبه اجمعين
الحمد لله الذي هدانا لهذا وما كنا لنهتدي لولا ان هدانا الله رب
العالمين.

لقد سعت من خلال هذا الجهد المتواضع الى كتابة أنشطة مختلفة
لمنهج الصف الثامن وحاولت اعطاء صورة واضحة عن كل
نشاط وكيفية الاجابة عليه وهناك مثال على كل نشاط .

وقد حاولت قدر الامكان التنويع في الانشطة لإثارة دافعية
الطالبات للتعليم وحب المادة راجيه الله العلي القدير ان يلاقي
الترحيب ويكون اضافة جديدة لكل من يطلع عليه ، والله من وراء
القصد .



مربع الحروف

هذا النشاط عبارة أسئلة تكتب اجاباتها في مربعات عمودية
وأفقية على ان تتبع الطالبة رقم السؤال واتجاه السهم ولا
يكتب في كل مربع اكثر من حرف .

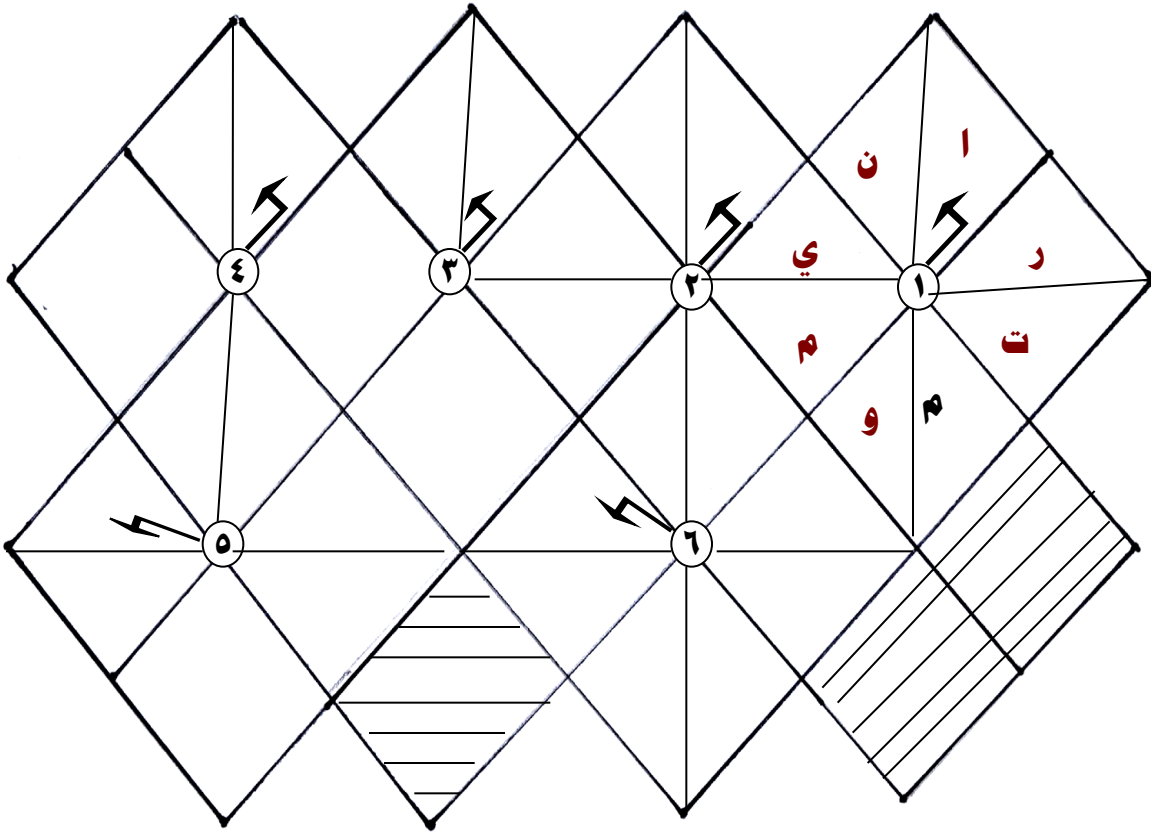


الالمامسة

شكل الالمامسة عبارة عن مجموعة من الخانات على الطالبة ان تملأ الخانات بعد حل الاسئلة على ان يكون في كل خانه حرف واحد متبعه في ذلك الاسهم المرقمة وكل سهم يحمل رقم السؤال واتجاهه .



الامثاله

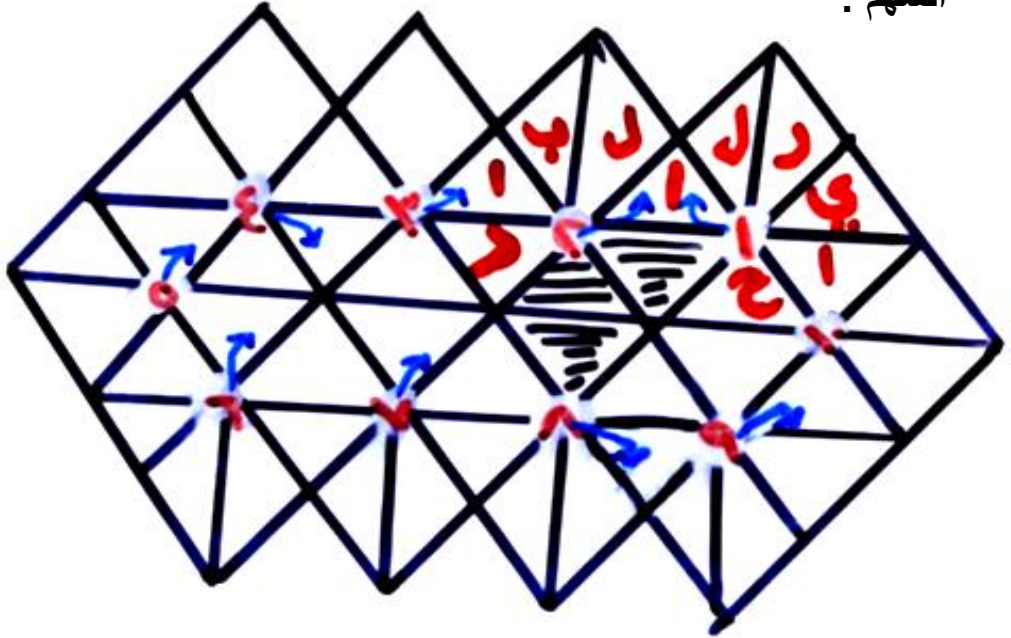


- ١- جهاز قياس سرعة الرياح ال **انيمومتر**
- ٢- رياح محلية حارة تهب على مصر رياح ال
- ٣- رياح محلية تهب على عمان من جهة البحر تعمل على تلطيف الجو رياح
- ٤- تجمعات من بخار الماء المتكاثف في طبقات الجو العليا
- ٥- تجمع كبير من قطيرات الماء المتطايرة في الجو بقرب سطح الارض
- ٦- تسمى الاعاصير في اليابان باسم



الاماسه

عزيزتي الطالبة امامك شكل الاماسه اجيبي على الاسئلة التالية ثم
اكتبي حروف الاجابة في الشكل امامك متتبعه رقم السؤال واتجاه
السهم :



١. حركة الهواء الافقية من مكان لآخر على سطح الارض.....**الرياح**.....
٢. وحدة قياس الضغط الجوي ...**البار**.....
٣. ظاهرة مناخية تحدث بسبب انخفاض شديد في الضغط الجوي (ال.....)
٤. مدينه عمانية تتعرض للرياح الموسمية الصيفية.....
٥. جهاز يقيس درجة الحرارة بطريقة آلية.....جراف.....
٦. جهاز يقيس درجة الحرارة بطريقة يدوية.....
٧. اذا وصف الضغط الجوي بإشارة (-) فانه.....
٨. حالة الجو خلال فترة زمنية طويلة ال.....
٩. جهاز قياس الضغط الجوي لفترة قصيرة.....
١٠. من اشكال الرياح اليومية تحدث في الليل يطلق عليها نسيم.....



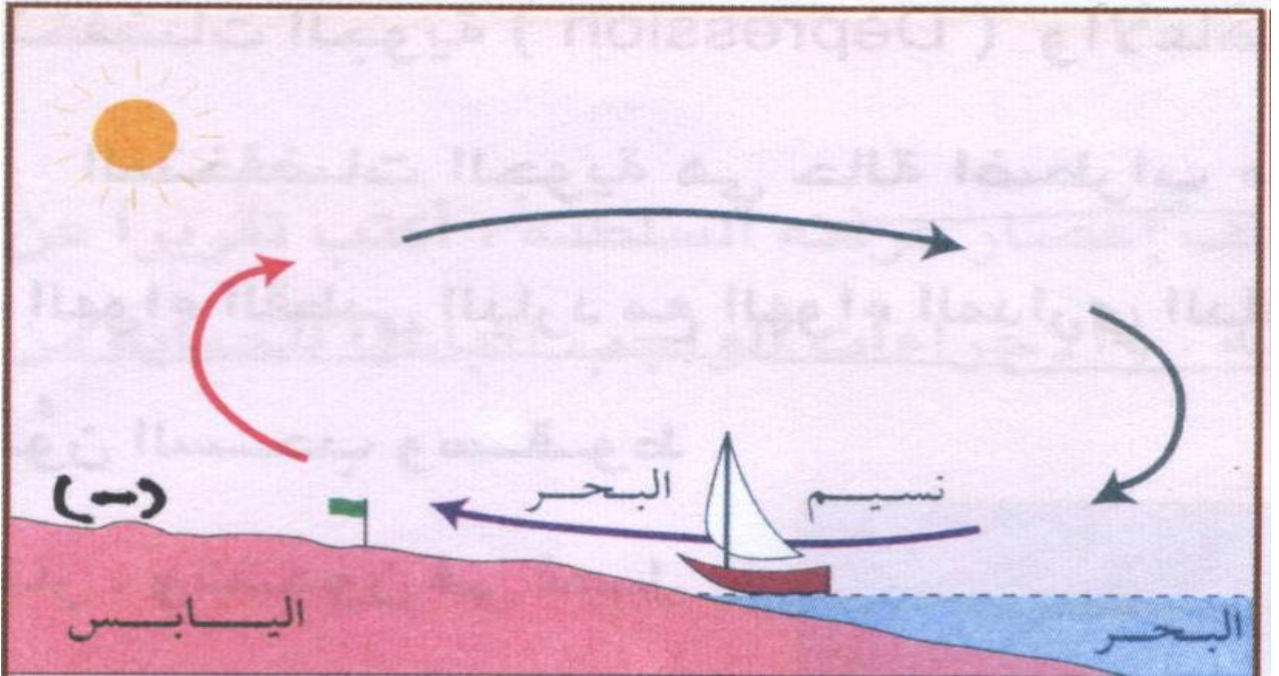
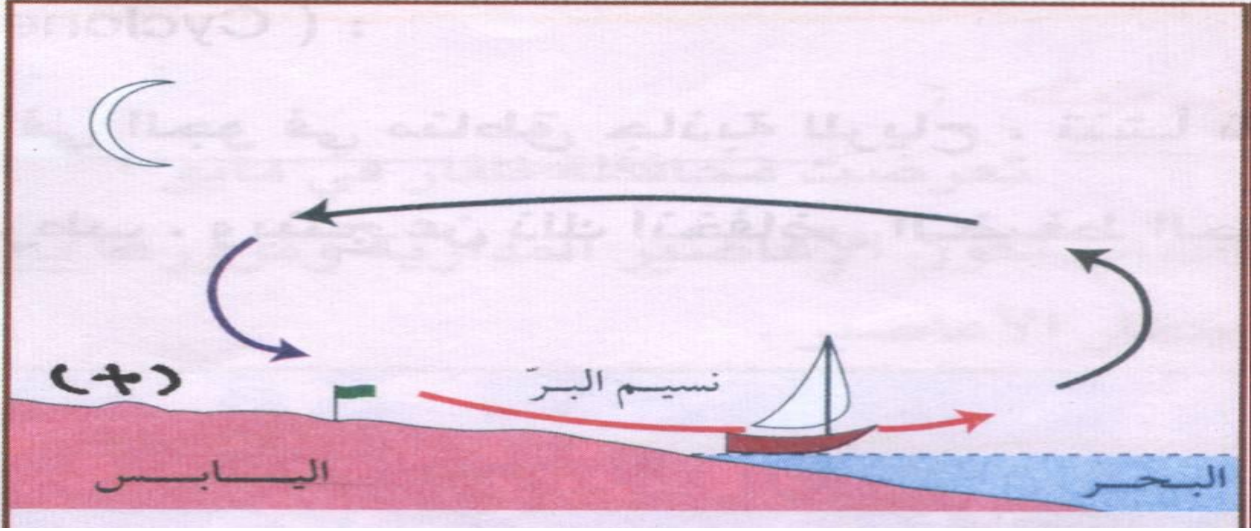
اكتشفي الفرق

- هذا النشاط عبارة عن شكلين أو خريطين متشابهتان لكن بينهما بعض الاختلافات تظهر بعد التركيز بعد التركيز على الشكلين جيدا . وتكون فترة النشاط بسيطة لا تتعدى الدقيقة وتتعود الطالبة من خلال هذا النشاط على التركيز وقوة الملاحظة .



اكتشفي الفرق

امامك شكلين يوضحان نسيم البر ونسيم البحر انظري جيدا للشكلين واكتشفي الفرق الخمسة بينهما.



اكتشفي الخطأ

من الانشطة التي تحتاج الى فترة بسيطة لانجازها حيث تقوم المعلمة بتغيير بعض المواقع والحدود ثم تقوم الطالبة باكتشاف هذا التغيير ويشجع هذا النوع من الانشطة على زيادة تركيز الطالبات على الخرائط و المواقع الجغرافية.



اكتشفي الخطأ

امامك خريطة توضح النجدة العمانية لأهل البحرين انظري اليها جيدا واكتشفي
الاطفاء



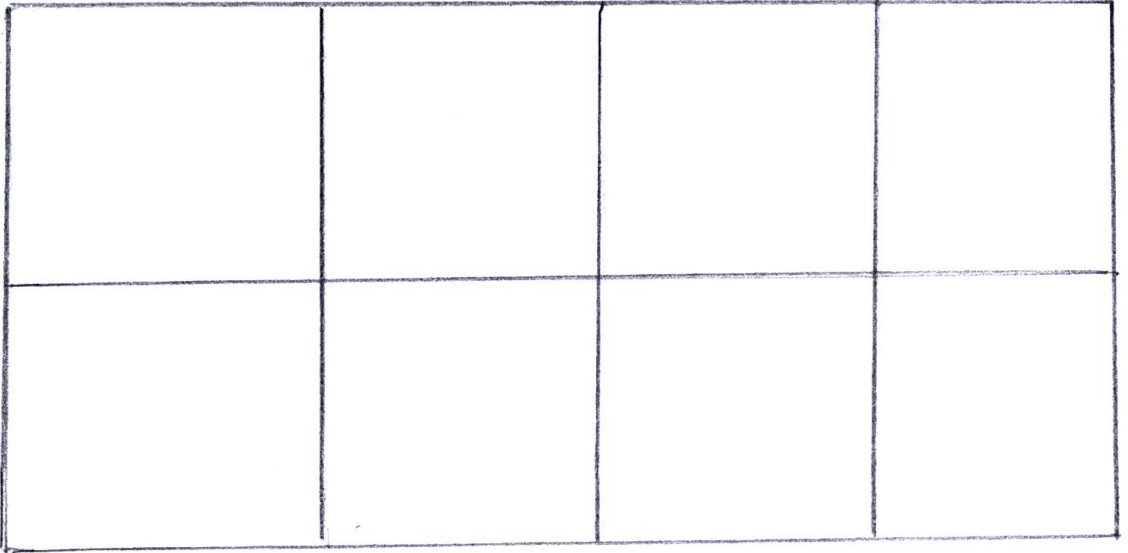
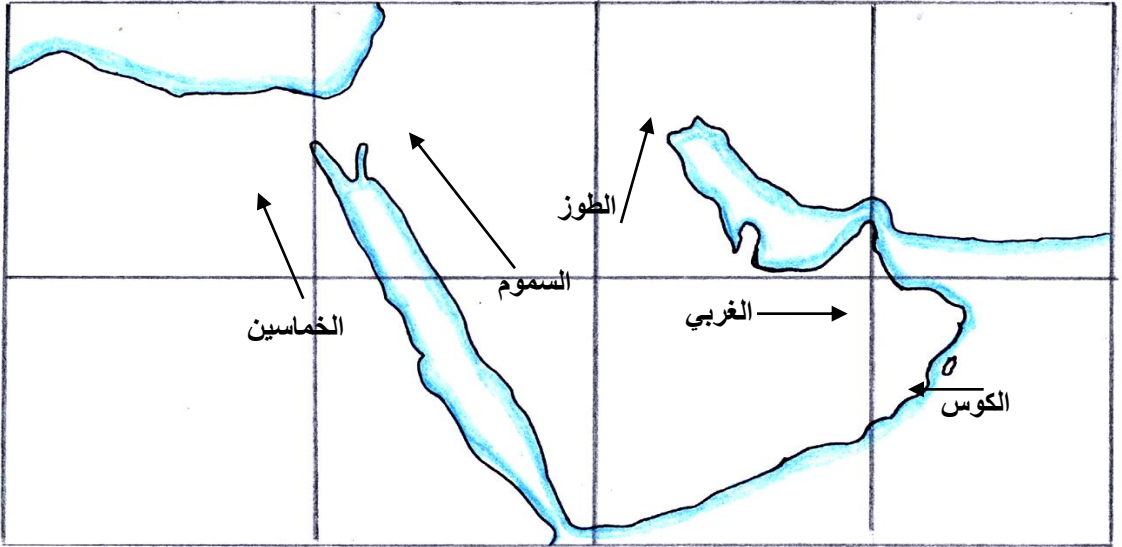
الرسم بالمربعات

- هذا النشاط من الأنشطة المهارية التي تعود الطالبة على كيفية رسم الخرائط والأشكال بدقة . وهو عبارة عن مربع به خريطة مقسمة الى عدة اقسام مربعه ومربع اخر مقسم بنفس مساحة المربع الاول وعلى الطالبة ان ترسم كل جزء من الخريطة في القسم الخاص به في المربع الثاني .



الرسم بالمربعات

امامك خريطة توضح الرياح المحلية في الوطن العربي ارسمي الخريطة
بطريقة المربعات .



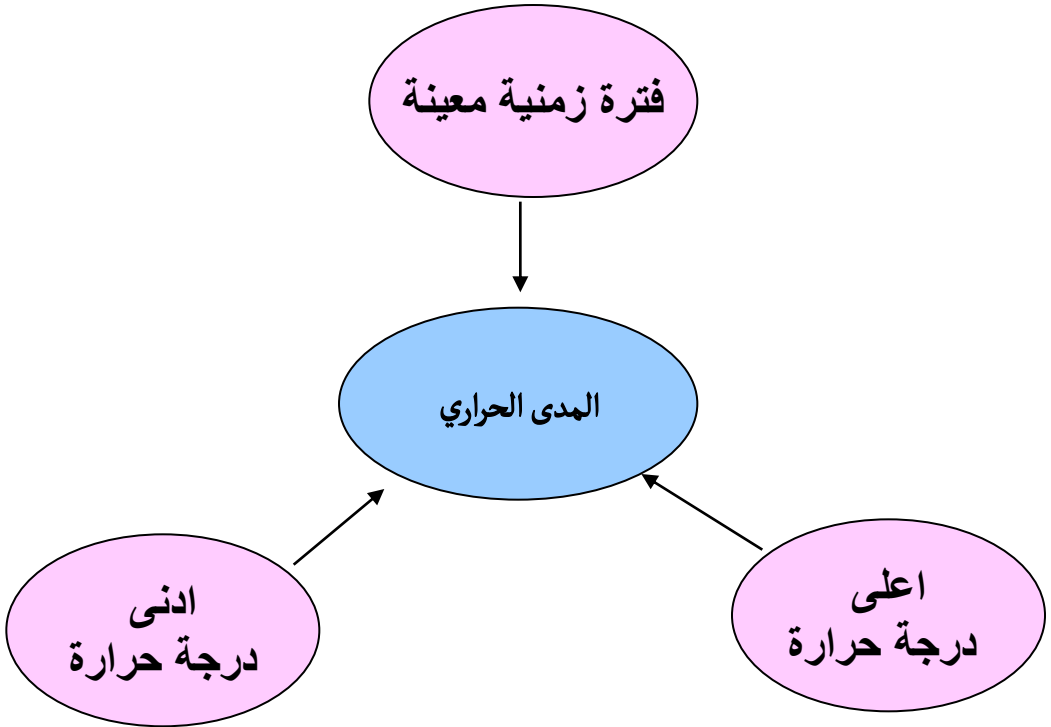
الكلمة الضائعة

الكلمة الضائعة عبارة عن مجموعة معطيات داخل دوائر تساعد على ايجاد الكلمة الضائعة التي توضع في الدائرة التي في الوسط وهي عبارة عن مصطلح معانيه في الدوائر في الدوائر المجاورة .



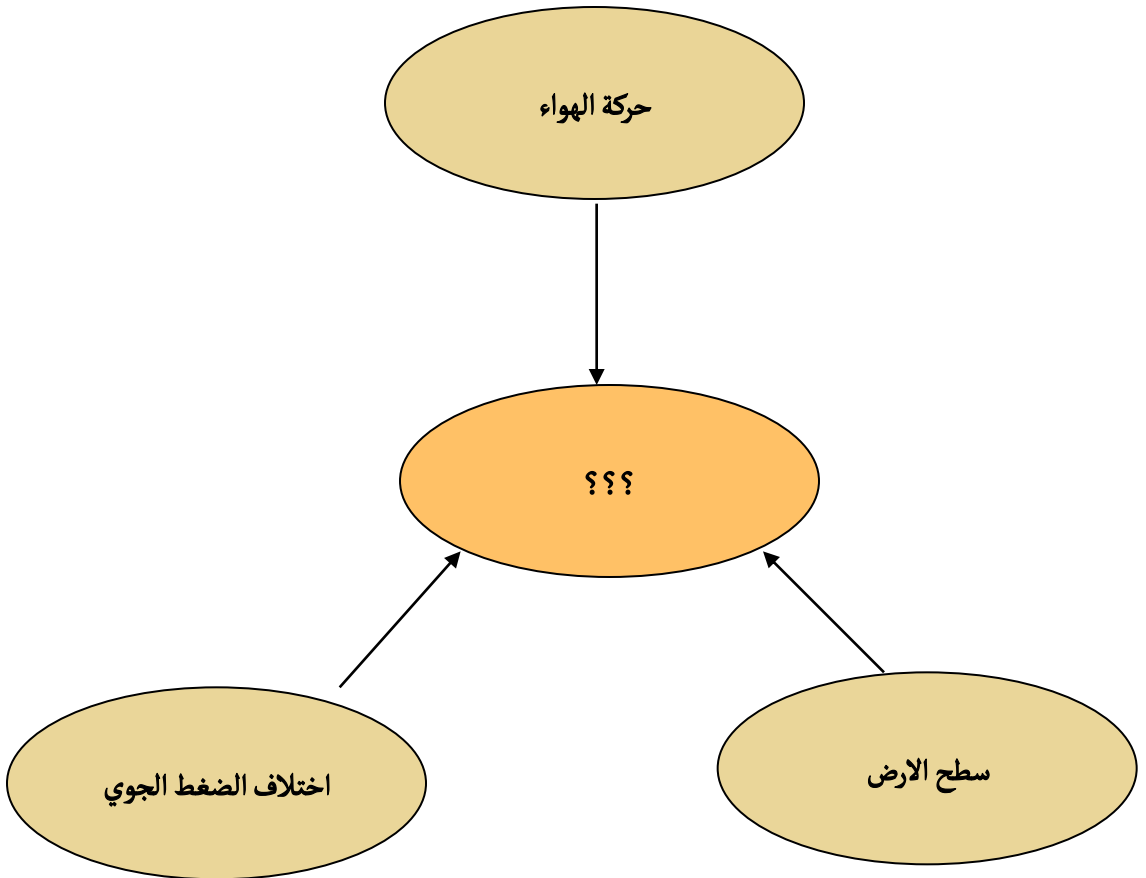
الكلمة الضائعة

امامك مجموعة من المعطيات الخاصة بمصطلح معين اقرني
المعطيات جيدا ثم تعرفني على المصطلح واكتبه في الدائرة
الوسطى:



الكلمة الضائعة

امامك مجموعة من المعطيات الخاصة بمصطلح معين اقرئي المعطيات جيدا ثم تعرفي على المصطلح واكتبيه في الدائرة الوسطى:



مشكلة وحل

هذا النشاط عبارة عن مشكلة تقوم المعلمة بطرحها للطالبات ويدخل في ذلك مفاهيم الجغرافيا البيئية وعلى الطالبات التعرف على اسبابها واقتراح بعض الحلول لها ومناقشة هذه الحلول داخل غرفة الصف . ويفضل ان يكون هذا النشاط جماعي وتكون المشكلة من واقع بيئة الطالبة .



مشكلة وحل

المشكلة : المستنقعات

مفهومها : هي مسطحات مائية ضحلة بصورة دائمة او مؤقتة تنمو فيها النباتات المائية المتنوعة.

اسبابها : فيضان الانهار او سقوط الامطار والسيول.

نتائجها : ١- تنمو فيها الطحالب التي تستهلك كميات من الاكسجين وبالتالي يقل الاكسجين في مياه المستنقع مما يؤدي الى موت الكائنات الحية فيها .

٢- تكون مصدر للروائح الكريهة .

٣- تتكاثر فيها الديدان والضفادع والبعوض والذباب .

٤- تساعد على انتشار الامراض.

حلونها

١-

٢-

٣-



الكلمات المتقاطعة

- الكلمات المتقاطعة من الأنشطة التي تستمتع بها كثير من الطالبات وتعمل على جذب انتباههن بشكل كبير . وأهم ما يميز هذا النشاط أن أسئلته لا تقتصر على مادة علمية واحدة وإنما يشمل معلومات ثقافية من مختلف المواد .
 - وهو عبارة عن مربع مقسم الى مجموعة من المربعات الأفقية والعمودية وتكون اعداد المربعات المقسمة حسب الفئة العمرية فمثلا لا تتعدى ٥ أو ٦ مربعات افقيه ومثلها عمودية للفئات العمرية الدنيا ويزيد عدد المربعات كلما زادت المرحلة التعليمية . وهو عبارة عن اسئلة او معلومات تكون الاجابة عليها بكلمة واحدة وترتب حروفها في المربعات أفقيا او رأسيا . وقد يكون في كل عمود او صف اجابة سؤال او اكثر .
 - **ملحوظة ،،،** * (م) تعني الاجابة معكوسة أي تكتب من اليسار الى اليمين و من الاسفل الى الاعلى .
- * عكس يعني مضاد الكلمة
- * المربعات الملونة لا تكتب فيها الاجابة



الكلمات المتقاطعة

الكلمات
العمودية

- ١- حالة الجو خلال فترة زمنية قصيرة (ال....)(٣-١) - تعمل على امتصاص الحرارة في الجو وتعكسها الى الفضاء الخارجي (ال.....)(٧-٤).
- ٢- جواب (٢-١) - الحركة الافقية للهواء (ال.....)(٧-٣) .
- ٣- كمية بخار الماء العالق في الهواء (.....)(٧-٢).
- ٤- يوم الناس في المسجد (٦-٣).
- ٥- سائل للشرب (٣-١) - خصم (م)(٤-٣).
- ٦- حاجز مائي (٢-١) - ظاهرة مناخية تحدث عند انخفاض الضغط الجوي بشدة (٧-٣).
- ٧- جهاز قياس الحرارة (٧-١).

الكلمات
الافقية

- ١- عاصمة ليبيا (٦-١).
- ٢- من أركان الايمان (٣-١) - من أشكال القمر (٧-٥).
- ٣- مدار يمر على مسقط (ال....)(٥-١) - والدة (٧-٦).
- ٤- سحب (٤-١) - عهد (م)(٧-٥).
- ٥- دولة اسيوية (٥-١) - الامر من كلمة صيام (٧-٦).
- ٦- حومة مبعثرة (٤-١) - قادم (٧-٦) .
- ٧- وحدة مكانية لها خصائص مشتركة تميزها عن غيرها من الاقاليم (م)(٥-١) - حرفان متشابهان (٧-٦) .

٧	٦	٥	٤	٣	٢	١	
							١ ط
							٢ ق
							٣ س
							٤
							٥
							٦
							٧



الكلمة المفقودة

الكلمة المفقودة عبارة عن مربع مقسم الى عدة مربعات صغيرة متساوية ويحتوي كل مربع على حرف . وعلى الطالبة ان تجيب على الاسئلة بكلمة واحدة وتشطب حروف الكلمة من مربع الحروف . يمكن شطب الحروف في أي اتجاه عمودي او افقي او مائل على ان تكون الكلمة المحذوفة في خط مستقيم . ثم تجمع الحروف الغير مشطوبة وتكون منها كلمة وتقوم بتعريف هذه الكلمة .



الكلمة المفقودة

اكتب امام العبارات التالية الكلمة الدالة عليها ثم اشطبي الاجابة من مربع الحروف كما في المثال. واجمع الحروف المتبقية لتستنتج الكلمة الضائعة (ماذا تعرفي عن هذه الكلمة)

- ١- حالة الجو خلال فترة زمنية طويلة (ال **مناخ**.....)
- ٢- تيار دافئ يساعد على جعل موانئ النرويج صالحة للملاحة .
- ٣- تعمل على امتصاص الحرارة في الجو وعكسها في الفضاء الخارجي .
- ٤- نوع من الرياح تعمل على سقوط الامطار في ظفار(ال.....)
- ٥- وحدة قياس الضغط.
- ٦- رياح محلية تخرج من شبه الجزيرة العربية الى بلاد الشام.(ال.....)
- ٧- تجمع قطيرات مائية صغيرة قرب سطح الارض.(ال.....)
- ٨- قطرات مائية تتكون اثناء الليل وعلى الاسطح الباردة.(ال.....)
- ٩- حركة الهواء الافقية على سطح الارض.(ال.....)
- ١٠- مدار يوجد جنوب دائرة الاستواء.(ال.....)

هـ	ت	ي	ف	ر	ج
ن	ر	ن	د	ي	د
ب	ح	س	ل	ا	ي
ل	ا	خ	ا	ح	س
ا	ل	ب	ا	ر	م
ا	ي	هـ	ض	ن	و
هـ	ي	م	س	و	م

الكلمة المفقودة هي :-



السلسلة

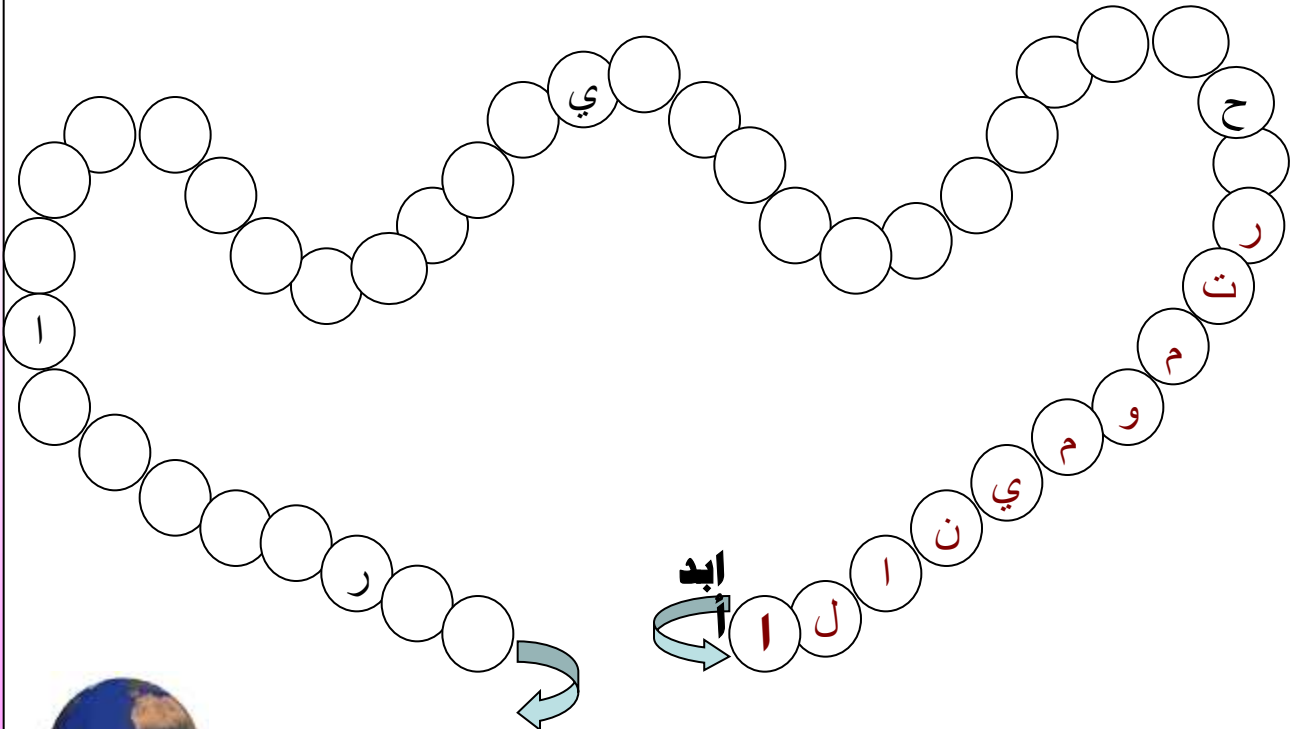
عبارة عن مجموعة اسئلة او عبارات تقوم الطالبة
بكتابة مصطلحاتها في مجموعة دوائر تأخذ شكل
السلسلة ولا يكتب اكثر من حرف في كل دائرة .
ويفضل ان تكتب بعض الحروف المساعدة في بعض
الدوائر .



السلسلة

• اكتب امام العبارات التالية المصطلح الدال عليها ثم انقلي حروف الاجابة في الشكل:

- ١- جهاز قياس سرعة الرياح (.....**الانيمومتر**.....)
- ٢- رياح تهب على فترات متفرقة ولمدة قصيرة لا تتعدى اسبوع (.....)
- ٣- رياح محلية تهب على سلطنة عمان من جهة البحر (.....)
- ٤- الاسم الذي يطلق على الاعاصير في اليابان. (.....)
- ٥- الاعصار التي تعرضت له السلطنة في العام ٢٠٠٧م. (.....)
- ٦- تحول بخار الماء الموجود في الهواء من الحالة الغازية الى الحالة السائلة. (.....)
- ٧- رياح محلية جافة تهب على السلطنة في فصلي الصيف والشتاء من شبه الجزيرة العربية. (.....)



بطاقة تعريف

هذا النشاط عبارة عن بطاقة تعريف لإقليم او دولة او مدينة او شخصية وهو عبارة عن مربع تقوم المعلمة بكتابة العناصر التي تريد من الطالبة تعبئتها في البطاقة ويفضل ان تزود البطاقة بصورة عن موضوع البطاقة فمثلا تزود بصورة شخصية ان كانت بطاقة شخصية او صورة علم ان كانت بطاقة تعريف لدولة..... الخ



بطاقة تعريف بمدينة



اسم المدينة: **صلالة** الدولة:

نوع المناخ: خصائصه:

اهم محاصيلها: أهم حيواناتها:

بطاقة تعريف بدولة




اسم الدولة: **تشيلي** القارة:

العاصمة: نوع المناخ:

خصائصه:





بطاقة شخصية

الاسم : الجنسية :

الديانة : الهواية : ركوب البحر والتجارة

المهنة : حاكم الامبراطورية العمانية سنة الحكم :

المناطق الواقعه تحت سيطرته :



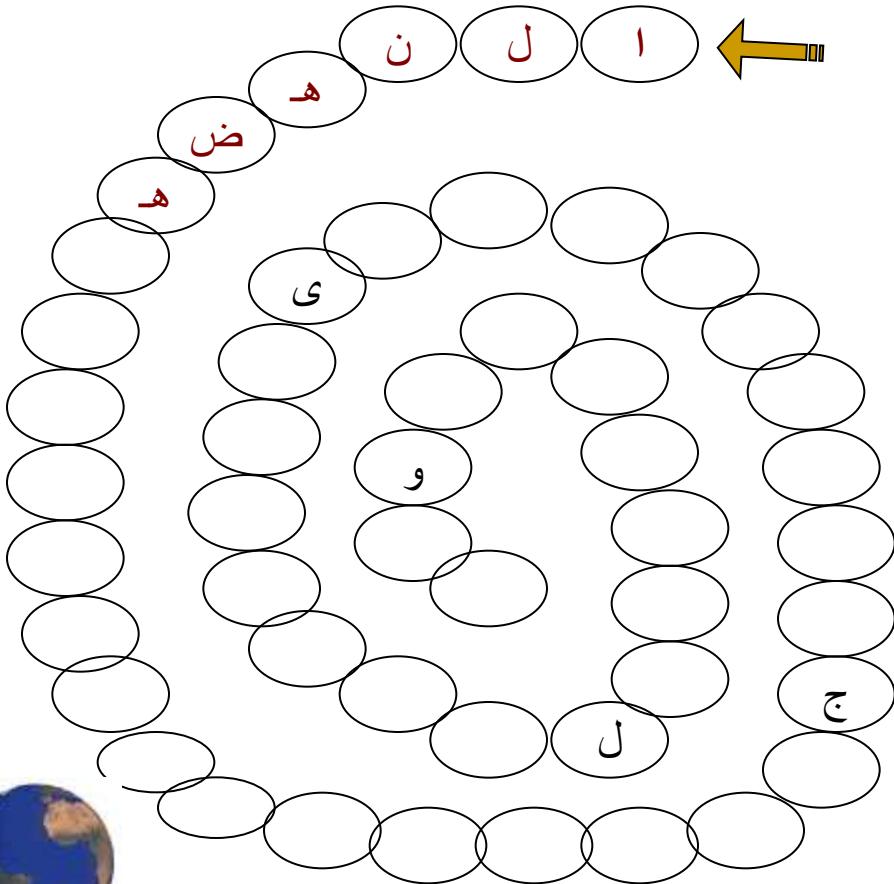
الـحـلـزـون

عبارة عن مجموعة دوائر تنتظم على شكل حلزون ويكتب في كل دائرة حرف من حروف الاجابة ولا بد ان تكتب الاجابة داخل الحلزون حسب ترتيب الاسئلة .



الطـزون

- ١- يطلق على التطور الذي شهدته السلطنة في كل المجالات والذي بدأ عام ١٩٧٠م اسم **النهضة**
- ٢ - التنظيم الذي ينظم الاعمال والعلاقات ويحدد الحقوق والواجبات في مختلف مجالات حياة الانسان هو التنظيم
- ٣- يكون على رأس التنظيم الاداري ويعتبر رمز الوحدة الوطنية هو
- ٤- من أهم الحقوق التي يكفلها القانون للمواطن هو حق
- ٥- أخذ رأي الاخرين في أمور تخص الدولة والمجتمع يقصد به
- ٦- احد المجالس تشكل عام ١٩٩٧م ويتم تعيين اعضاءه بمرسوم سلطاني هو مجلس
- ٧- من أهم واجبات المواطن على دولتهعن الوطن.
- ٨- المجلس الذي تشكل عام ١٩٩١م ويتم اختيار اعضاءه عن طريق الانتخابات هو مجلس



سين جيم

- هي عبارة عن بطاقات صغيرة مكتوب عليها اسئلة من المنهج المدرسي ويمكن ان يتخللها بعض اسئلة الثقافة العامة لتشجيع الطالبات على اكتساب المعلومة من مصادر مختلفة . وهي من الانشطة التي تثير جو التنافس داخل غرفة الصف حيث يمكن ان تكون الاسئلة بين طالبتين او مجموعتين او صفين وتقوم احدى الطالبات بدور الحكم لتحسب الوقت والنقاط . ويفضل ان تشارك الطالبة بهذا النوع من الاسئلة في الاداعة المدرسية

* ملحوظة ،،،، يفضل ان تكون البطاقات بأشكال وألوان مختلفة .



سين جسيم

سني جسيم
للسين جسيم

- 1- متى تشكل مجلس الشوري؟
- 2- متى تشكل مجلس الدولة؟
- 3- كيف يتم تعيين اعضاء مجلس الدولة؟
- 4- ما هي عاصمة الارجننتين؟

- 1- في نوفمبر عام ١٩٩١م .
- 2- في ديسمبر عام ١٩٩٧م .
- 3- يتم تعيينهم بمرسوم سلطاني .
- 4- بيونس ايريس .

سني جسيم
للسين جسيم

- 1- ما المجلس التي يتكون منها مجلس عمان؟
- 2- متى تم اصدار النظام الاساسي للسلطنة؟
- 3- ما هو المجلس الذي يتم اختيار اعضاءه عن طريق الانتخابات؟
- 4- ما هو المعلو الطبيعي الذي يسمى سقفة العالم؟

- 1- مجلس الدولة ومجلس الشوري .
- 2- ١٩٩٦م .
- 3- مجلس الشوري .
- 4- مضبة التبت .

سني جسيم
للسين جسيم

- 1- ما هو امتداد الامبراطورية العمانية في عهد السيد سعيد بن سلطان؟
- 2- ما المدينة التي اتخذت عاصمة ثانية لعمان؟
- 3- من هو القائد الذي فتح مصر؟
- 4- ما هي احدى قمة جبل في سلطنة عمان؟

- 1- من رأس محمدالي موزنيق ثم الى اواسط قارة افريقيا .
- 2- زنجبار .
- 3- عمرو بن العاص .
- 4- قمة جبل شمس .



سني جسيم
للسين جسيم

- 1- ما هي صادرات عمان الى الهند؟
- 2- ما هي واردات عمان من الهند؟
- 3- من هو الحاكم العماني الذي ارسل حملة تأديبية الى القراصنة؟ وأين تم ذلك؟
- 4- ما هي السفينة العمانية التي زارته ميناء مرسيليا الفرنسي؟

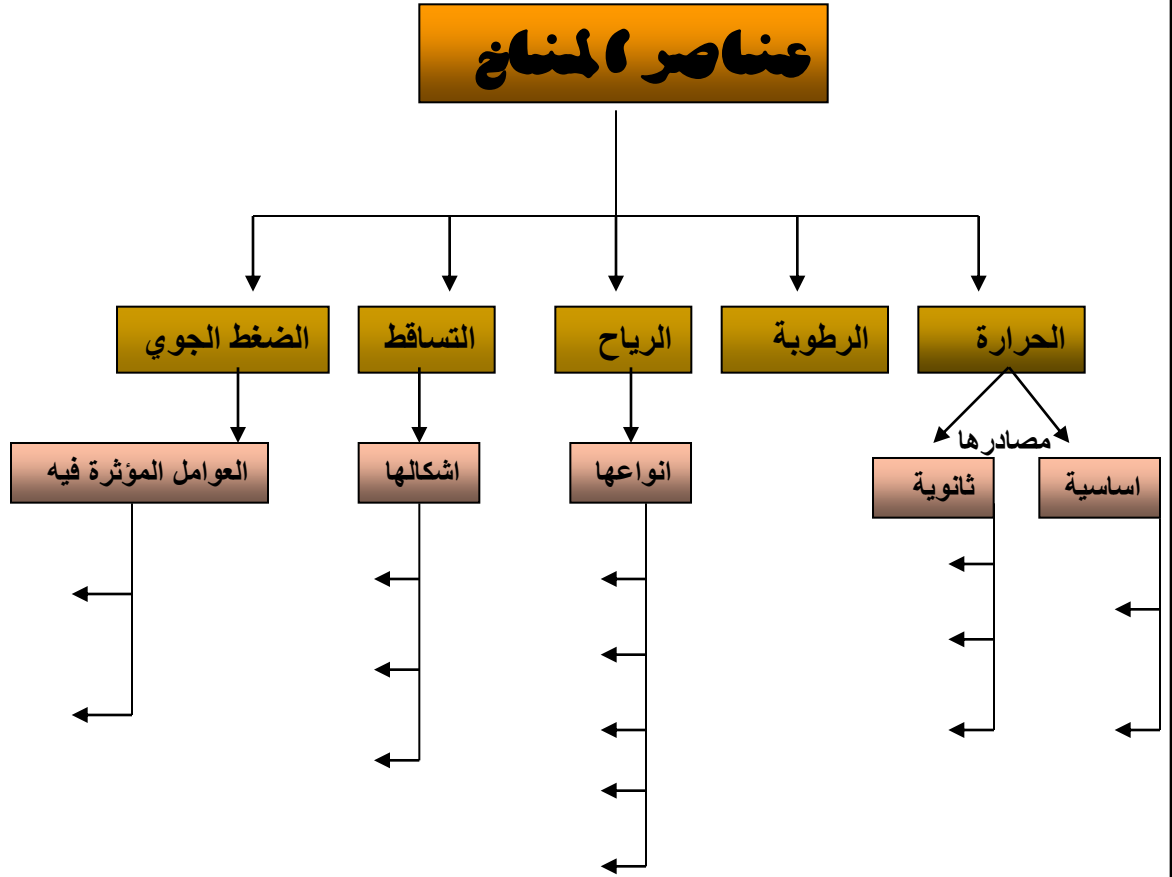
- 1- التلؤ - البخور - اللبان - الفواحه المجففة
- 2- الارز - القطن - الصوف - المسك - الكافور
- 3- الامام احمد بن سعيد - ساحل غرب الهند
- 4- السفينة كارولين

خريطة المفاهيم

خرائط المفاهيم عبارة عن رسوم تخطيطية ثنائية البعد تترتب فيها مفاهيم المادة الدراسية في صورة هرمية بحيث تتدرج من المفاهيم الأكثر شمولية في قمة الهرم الى المفاهيم الاقل شمولية والأكثر خصوصية في قاعدة الهرم وتحاط بأطر ترتبط ببعضها بأسهم مكتوب عليها نوع العلاقة .



خريطة مفاهيم

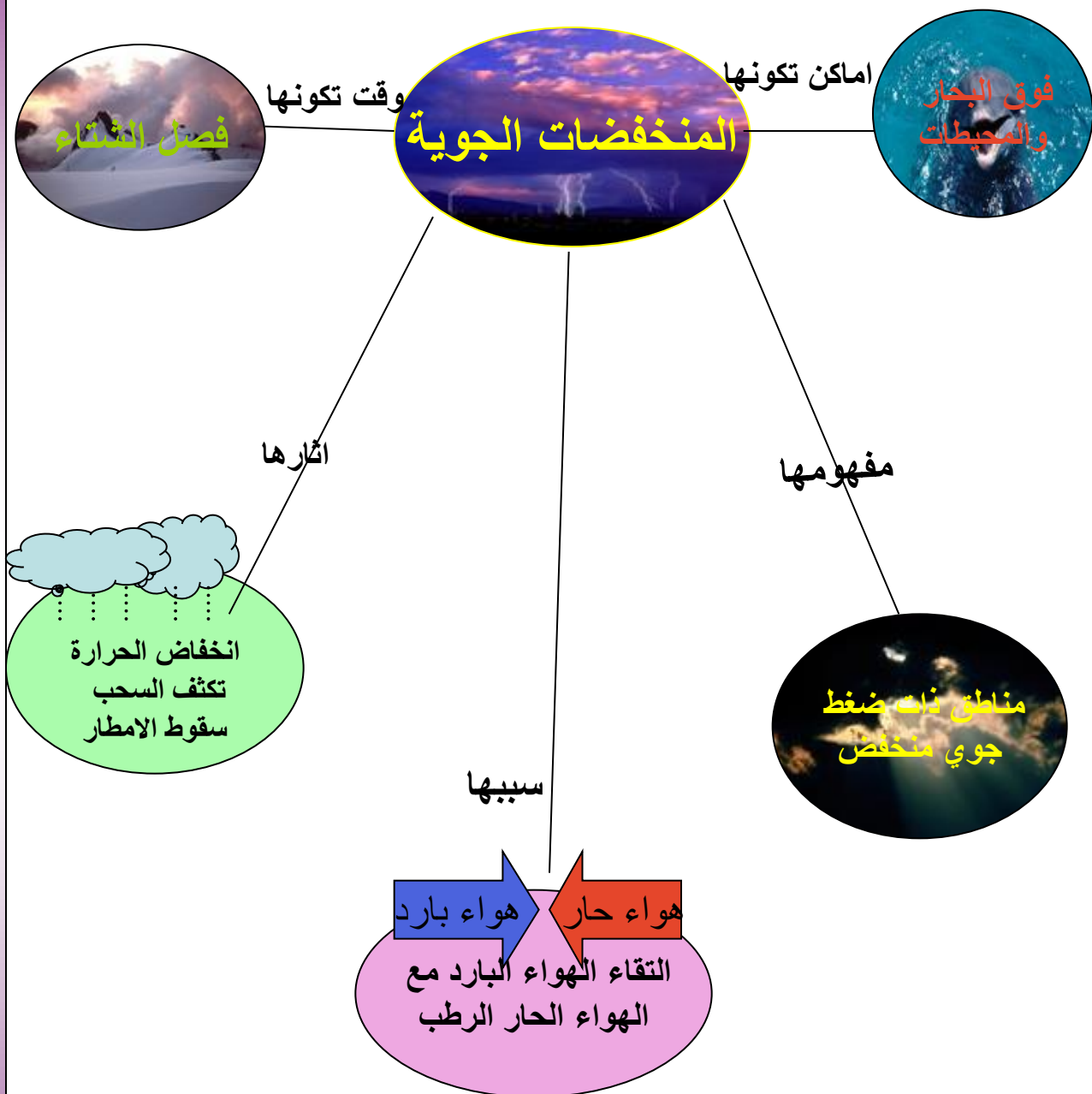


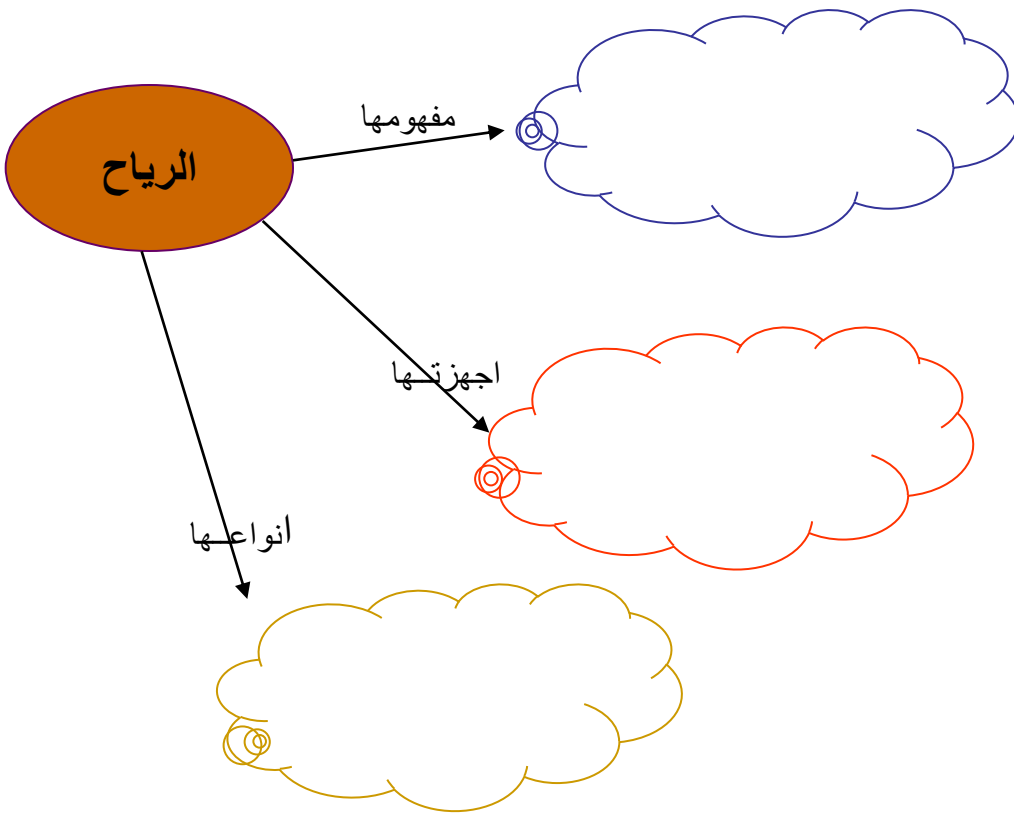
الخريطة المعرفية

يهتم هذا النشاط بدراسة موضوع معين واهم العناصر المرتبطة به عن طريق وضع الموضوع الرئيسي في دائرة او أي شكل اخر وربطها بأسهم بحيث يتخذ الشكل العام شكلا منظما ويساعد المعلمة في تلخيص المادة العلمية التي ترغب في توصيلها للطالبة وتعينها على سرعه توصيل المعلومة .
ويفضل حل هذا النوع من الاسئلة جماعيا على السبورة لتشجع الطالبات على العمل التعاوني وتستعين الطالبة بصورة او رسمه معينة مرتبطة بالموضوع .




خريطة معرفية





اماكن تكونها

.....



وقت تكونها

.....

اثارها

.....

.....

.....

سببها


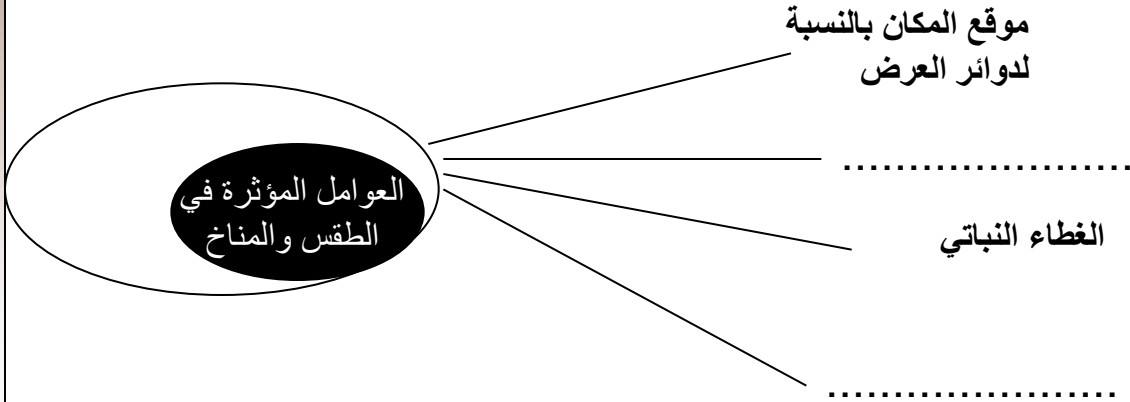
.....

مفهومها

.....

.....





الخريطة الذهنية

من أهم الأنشطة للطالبة لان لها دور قوي في سرعة فهم المعلومة وسرعة استرجاعها.

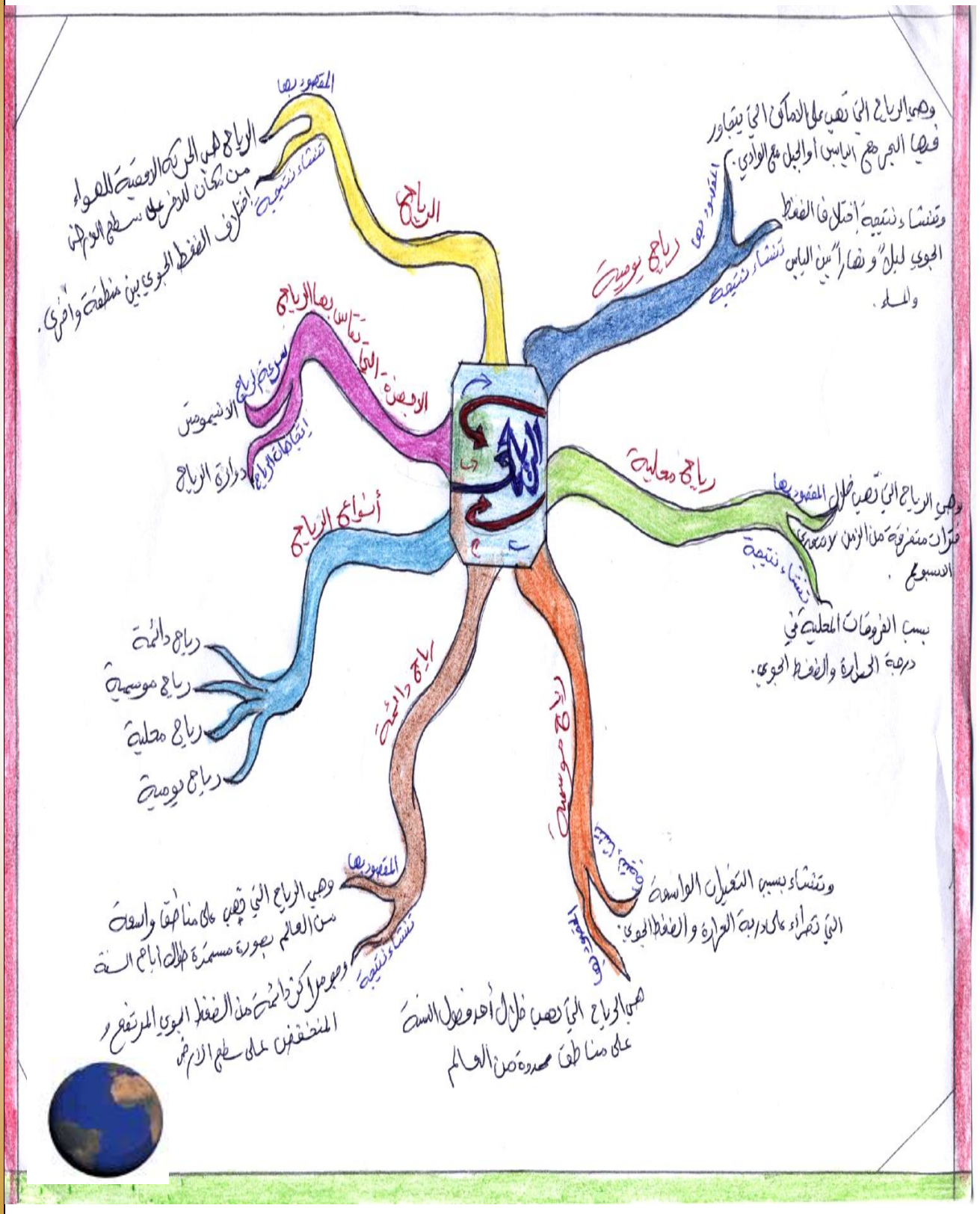
ويتم وضعها عن طريق كتابة العنوان الرئيسي في شكل دائري او مربع او اي شكل ويفضل ان يرسم له رسمة تناسبه ويتم كتابة العنوان بحروف اكبر من حروف العناوين الفرعية ويفضل رسم صورة لكل العناوين الفرعية لتحفيز المخ على تذكر المعلومة ويتم الربط بين العنوان الرئيسي والعناوين الفرعية بخطوط ملتوية مختلفة الالوان.



الخريطة الذهنية



الخريطة الذهنية

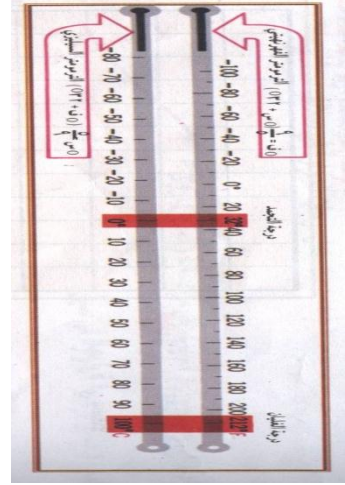


انشطة متنوعة

امامك مجموعه من الأجهزة التي تستخدم لقياس عناصر المناخ اكتبى امام كل جهاز اسمة واستخدامه :-

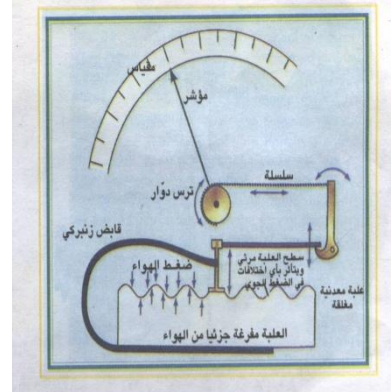
اسم الجهاز

استخدامه




اسم الجهاز

استخدامه



اسم الجهاز

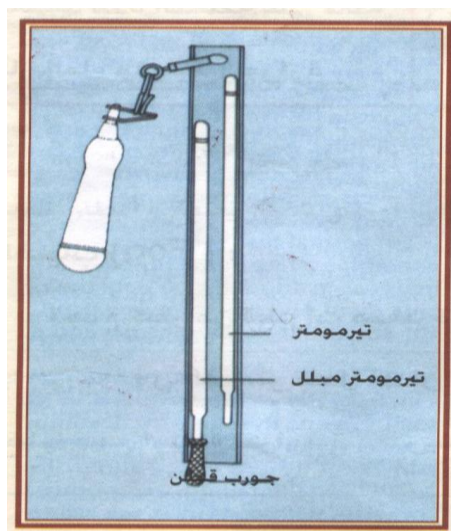
استخدامه



اكتبى امام كل جهاز اسمه واستخدامه:-

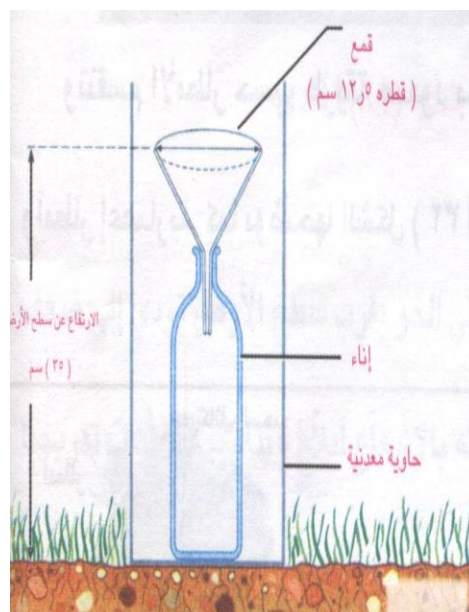
اسم الجهاز

استخدامه

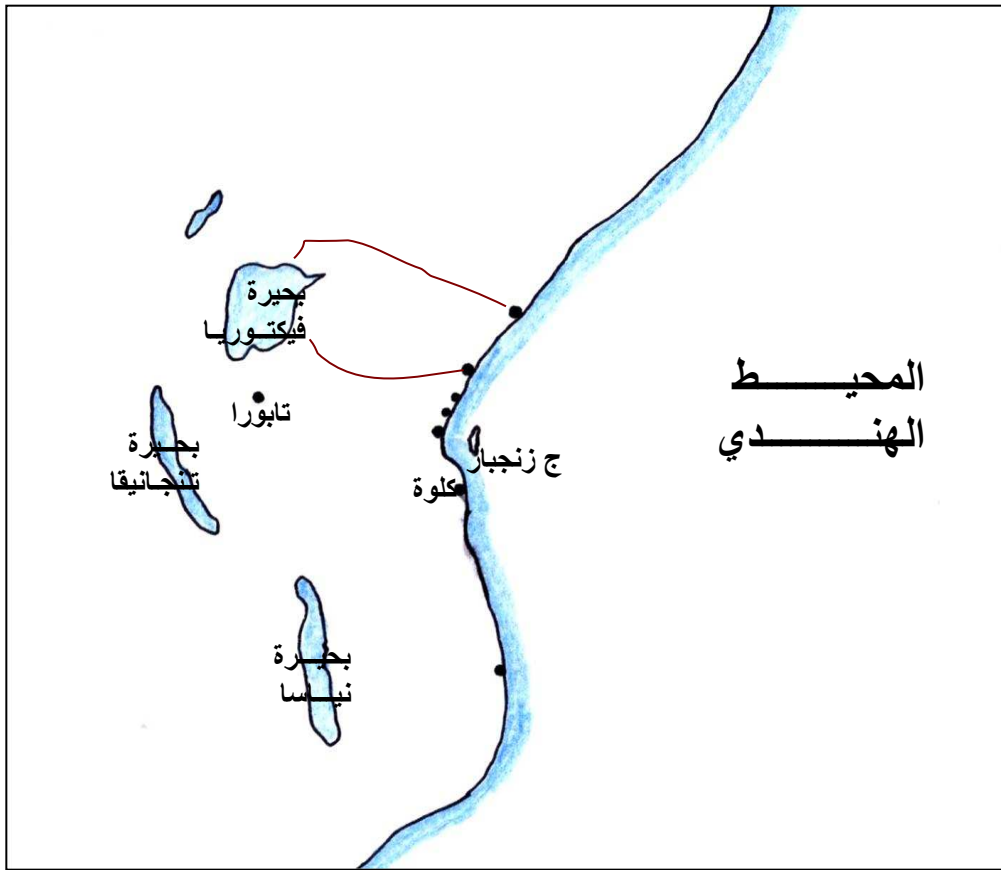


اسم الجهاز

استخدامه



- امامك خريطة توضح طرق التجارة البرية في شرقي افريقيا عيني عليها الاتي :-
- ١- الموانئ التي يخرج منها الطريق الاوسط من طرق التجارة البرية الافريقية .
 - ٢- ميناء ممباسا وما ليندي .
 - ٣- ارسمي خط سير الطريق الجنوبي .



امامك خريطة توضح امتداد الاقليم الصحراوي انظري للخريطة ثم اجيبي على الاسئلة التي تليها :-



- ١- ما هي القارة الوحيدة التي لاتوجد بها صحاري؟
- ٢- ما هي الصحاري التي تغطي دول الوطن العربي؟
- ٣- اين توجد الصحاري التالية :- صحراء تار - صحراء كاهاري - صحراء اتكاما.
- ٤- اين يعيش السكان في المناطق الصحراوية؟ ولماذا؟
- ٥- ما هي الصحاري التي توجد في سلطنة عمان ؟



يوضح الجدول امامك مقارنة بين الاقليم الاستوائي والاقليم الموسمي اكمل الجدول

الاقليم الموسمي	الاقليم الاستوائي	الاقليم وجه المقارنة
	شمال وجنوب دائرة الاستواء	الامتداد
		المميزات
سلطنة عمان - اليمن - الهند		امثلة على الدول التي توجد به



انشطة اثر ائية

هذه الانشطة عبارة عن خرائط ومواقع درستها الطالبة في سنوات دراستها وهي استرجاع لمعلومات سابقة ويفضل تذكير الطالبة بها بين الفترة والأخرى لتوسيع مداركها ولأهميتها في جميع المراحل التعليمية وكنوع من الثقافة العامة ولتشجيع الطالبة على البحث والتعرف على المعالم الطبيعية في دول العالم . ويفضل ان تنجز الطالبة هذه الانشطة مع مجموعتها لتشجيعها على التعاون والبحث عن المعلومة وإذكاء روح التنافس بين المجموعات.

نشاط جماعي

امامك خارطة صماء لأوروبا بالاستعانة بالأطلس المدرسي حدي عليها الاتي :

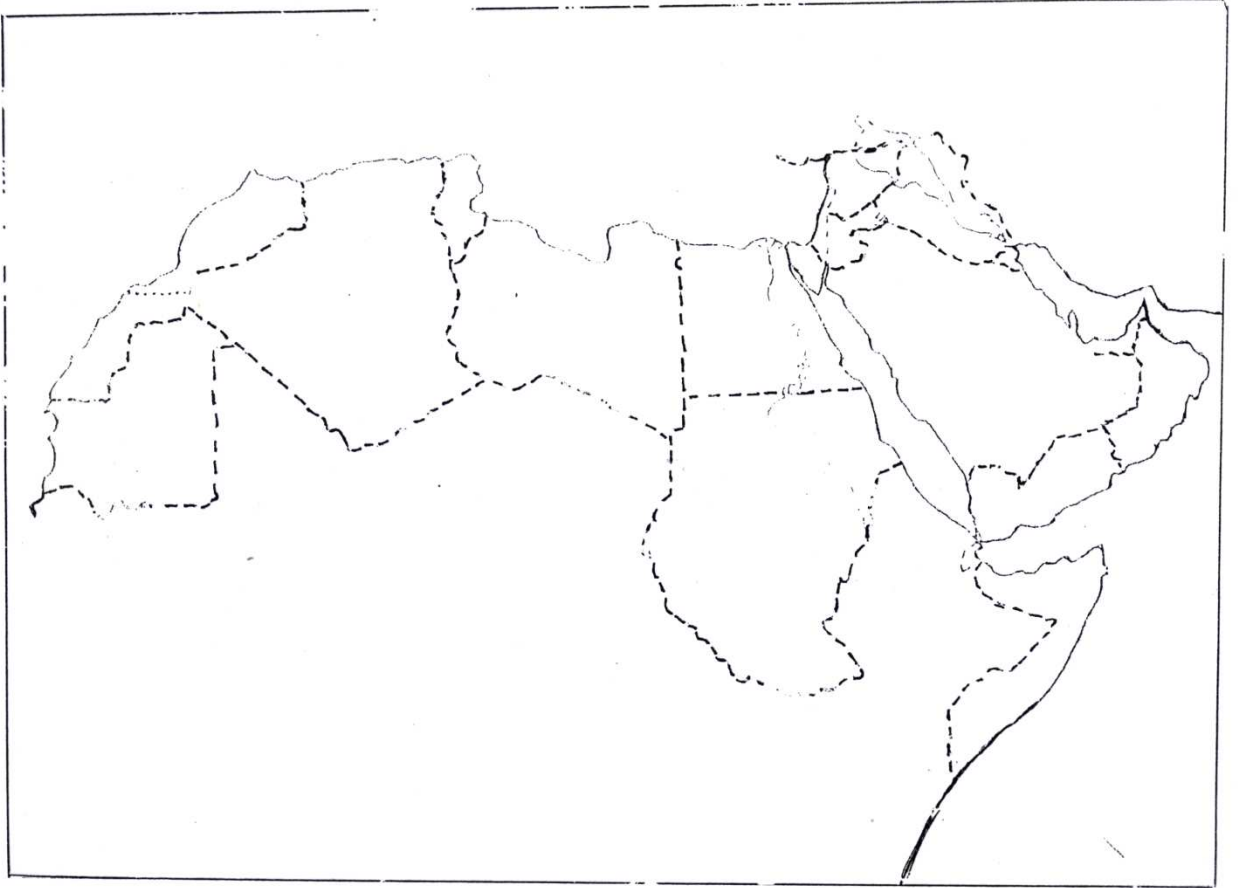
- ١- ايطاليا - اسبانيا - البرتغال - صقلية - انجلترا
- ٢- المحيط الاطلسي - البحر المتوسط - البحر الاسود
- ٢- ما الذي يحد اوروبا من جهة الشمال والشرق ؟
- ٤- ما هو الحد الفاصل بين قارة اوروبا و اسيا؟
- ٥- ما هي الدولة الاوربية التي خارطتها تشبه الحذاء؟
- ٦- ما عواصم الدول التالية: فرنسا - بريطانيا - النمسا - النرويج



نشاط جماعي

اسم المجموعة _____

- امامك خارطة الوطن العربي صماء انظري للخارطة وعيني عليها الاتي :-
- ١- دول الوطن العربي ٢- المسطحات المائية التي تطل عليه ٣- نهر النيل ودجلة والفرات
 - ٤- ارسمي الانهار التالية على الخارطة نهر جوبا وشبيلي نهر ام الربيع نهر العاصي
 - ٥- مضيق هرمز - مضيق جبل طارق- مضيق باب المندب - قناة السويس.
 - ٦- استخراجي من الاطلس اهم الجبال والصحاري في الوطن العربي وارسميها على الخارطة الصماء.

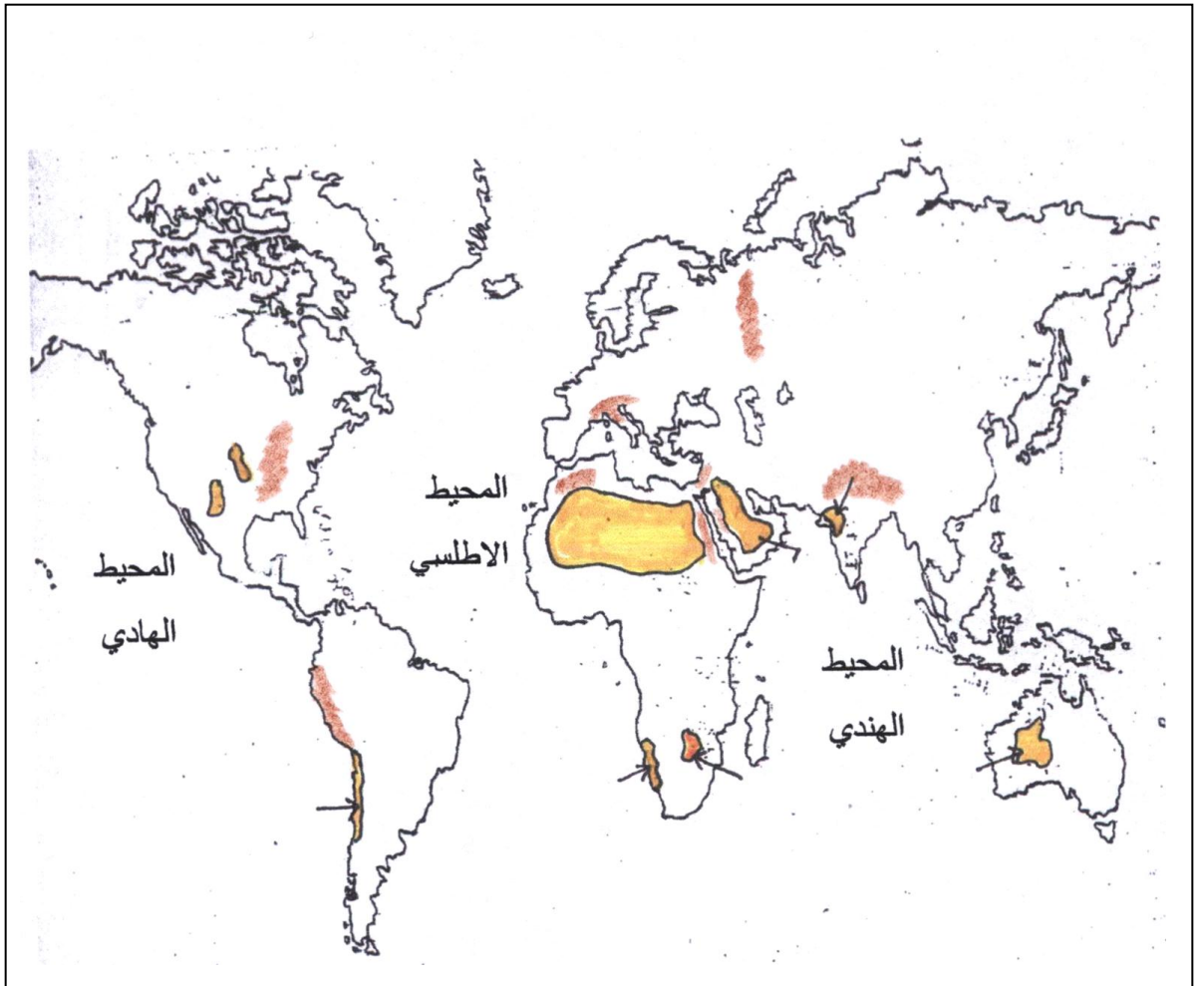


نشاط جماعي

امامك خريطة توضح توزيع الصحاري الحارة والسلاسل الجبلية في العالم بالاستعانة بالأطلس وبالتعاون مع مجموعتك عيني عليها الاتي :

١- الصحراء الكبرى - صحراء شبه الجزيرة العربية - صحراء ثار - صحراء موجاف - صحراء كلهاري.

٢- سلسلة جبال الاطلس - جبال الالب - جبال الابلاش - جبال الهملايا - جبال الانديز - جبال الاورال.



نشاط جغرافي

امامك خارطة العالم صماء بالتعاون مع مجموعتك عيني عليها المواقع التالية :

١- القارات - ٢- المحيطات ٣- شبه الجزيرة العربية
٤- بلاد فارس ٥- الاندلس ٦- قناة بنما والسويس ٧- مضيق جبل طارق

