

شكراً لتحميلك هذا الملف من موقع المناهج العمانية



اختبار قصير أول نموذج ثالث

[موقع المناهج](#) ⇨ [المناهج العمانية](#) ⇨ [الصف الثامن](#) ⇨ [اجتماعيات](#) ⇨ [الفصل الأول](#) ⇨ [الملف](#)

تاريخ نشر الملف على موقع المناهج: 06:41:21 2023-11-09

التواصل الاجتماعي بحسب الصف الثامن



روابط مواد الصف الثامن على تلغرام

[الرياضيات](#)

[اللغة الانجليزية](#)

[اللغة العربية](#)

[التربية الاسلامية](#)

المزيد من الملفات بحسب الصف الثامن والمادة اجتماعيات في الفصل الأول

اختبار قصير أول نموذج ثاني	1
اختبار قصير أول	2
ملخص شرح الرطوبة والتكاثف من درس عناصر المناخ	3
ملخص شرح الرياح من درس عناصر المناخ	4
ملخص شرح درس عناصر المناخ	5

اختبار قصير رقم (1) لمادة الدراسات الاجتماعية للصف الثامن للفصل الدراسي الأول

اسم الطالب / الصف / التاريخ /
السؤال الأول : ضع دائرة حول الرمز الدال على الإجابة الصحيحة من بين البدائل المعطاة :-

1- وحدة قياس الضغط الجوي تعرف ب :
أ - المليمتر . ب- البار . ج - السننيمتر . د - الأمبير .

2- المادة التي تستخدم في الترمومتر وتتأثر بدرجة الحرارة :
أ- الرصاص . ب- الزئبق . ج- القصدير . د- الزنك .

3 - تقل درجة الحرارة 91 س اذا ارتفعنا عن مستوى سطح البحر بمقدار :-

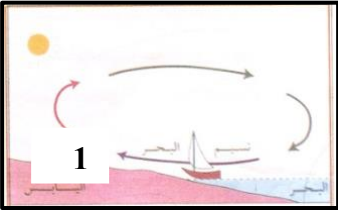
أ - 50 م ب- 100 م ج - 150 م د - 200 م .

4 - الرياح التي تهب على الأماكن التي يتجاور فيها البحر مع اليابس أو الجبل مع الوادي :-

أ - الدائمة ب- الموسمية ج - المحلية د - اليومية .

5- نوع الضغط السائد في المنطقة المشار إليها برقم (1):

أ - مرتفع ب - منخفض ج- متساوي د- معدوم

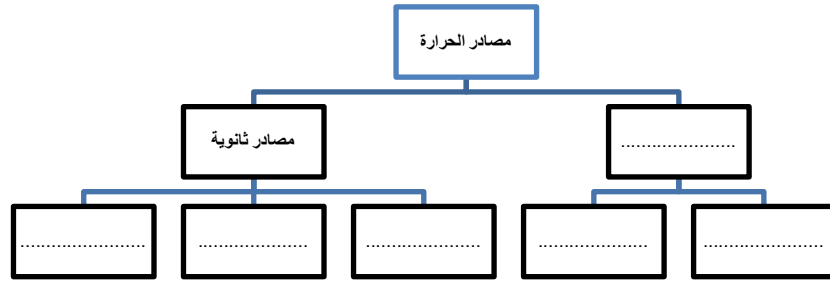


السؤال الثاني :- أجب عن الأسئلة الآتية :-

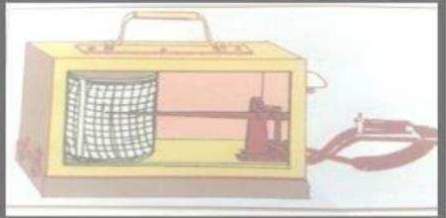

1 - فسر مايلي : أ) يفضل السكان في المناطق الحارة الاستجمام في المناطق المرتفعة صيفا .

ب) بحرص الناس على سماع النشرة الجوية ؟

أكمل
المخطط
التالي :

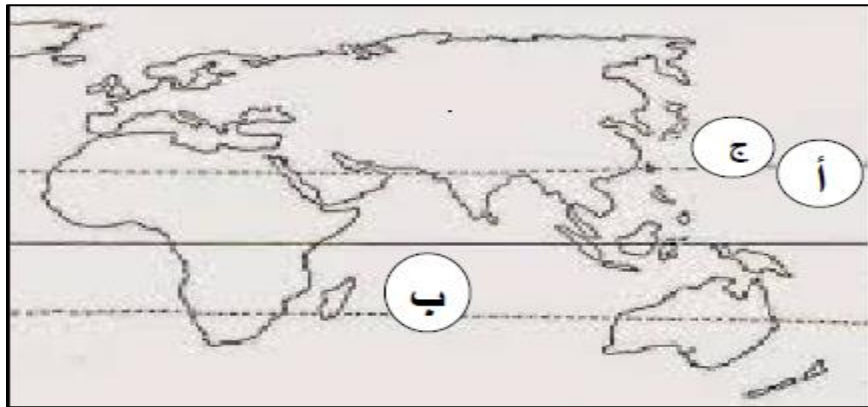


3- قارن في الجدول بين الآتي :

وجه المقارنة	1-	3-
اسم الجهاز		
فيم يستخدم	2-	4-

السؤال الثالث : أمامك خريطة النصف الشرقي من الكرة الأرضية. ادرسها ثم أجب على ما يأتي

4



1- ارسم حركة الرياح الموسمية الصيفية والشتوية في قارة آسيا مراعيًا اتجاهاتها على الخريطة أمامك مستخدماً الرمز الآتيين :

الرياح الموسمية الصيفية. ←
الرياح الموسمية الشتوية. ←---

2- علل: نشأة الأعاصير المدارية في المنطقة المشار إليها بالرمز ج ؟

.....
..... (أ) (ب)

3- فرق بين المناخ الجزري والمناخ القري في الجدول التالي :

المناخ الجزري	المناخ القاري

انتهت الأسئلة