

تم تحميل هذا الملف من موقع المناهج العمانية



نماذج من أسئلة الامتحانات النهائية في الوحدة الخامسة جوانب من تاريخ أوروبا

[موقع المناهج](#) ← [المناهج العمانية](#) ← [الصف الثامن](#) ← [اجتماعيات](#) ← [الفصل الثاني](#) ← [الملف](#)

تاريخ إضافة الملف على موقع المناهج: 2024-05-22 21:41:20

التواصل الاجتماعي بحسب الصف الثامن



اضغط هنا للحصول على جميع روابط "الصف الثامن"

روابط مواد الصف الثامن على تلغرام

[الرياضيات](#)

[اللغة الانجليزية](#)

[اللغة العربية](#)

[التربية الاسلامية](#)

المزيد من الملفات بحسب الصف الثامن والمادة اجتماعيات في الفصل الثاني

[مواصفات الورقة الامتحانية](#)

1

[نماذج من أسئلة الامتحانات النهائية في الوحدة الخامسة جوانب من تاريخ أوروبا](#)

2

[ملخص شامل للوحدة الأولى مصادر المياه](#)

3

[يوربوينت ملخص شرح درس قيام النهضة الأوربية](#)

4

المزيد من الملفات بحسب الصف الثامن والمادة اجتماعيات في الفصل الثاني

[يوربوننت ملخص شرح درس الاكتشافات الجغرافية](#)

5

نماذج من أسئلة الامتحانات النهائية لمادة الدراسات الاجتماعية للصف الثامن (الوحدة الخامسة : جوانب من تاريخ أوروبا)

ثانياً: ادرس الخريطة التي أمامك ثم اجب عن الأسئلة الآتية :



١. أكتب أسماء الدول الآتية في موقعها الصحيح على الخريطة:

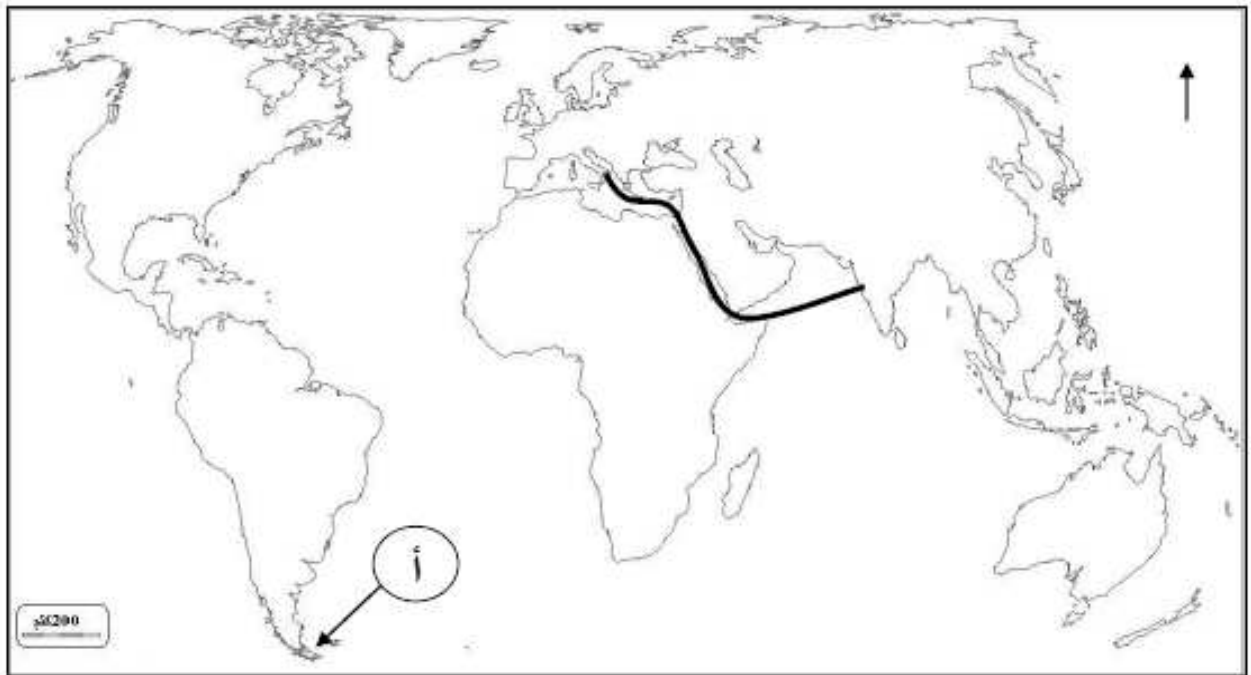
(فرنسا، البرتغال)

٢. في أي جهة من قارة أوروبا تقع إيطاليا؟

٣. أكتب ما تشير إليه الأرقام الآتية:

١- بحر
٢- المحيط

ثالثاً: أمامك خريطة العالم صماء، ادرسها ثم اجب عن الأسئلة التالية:

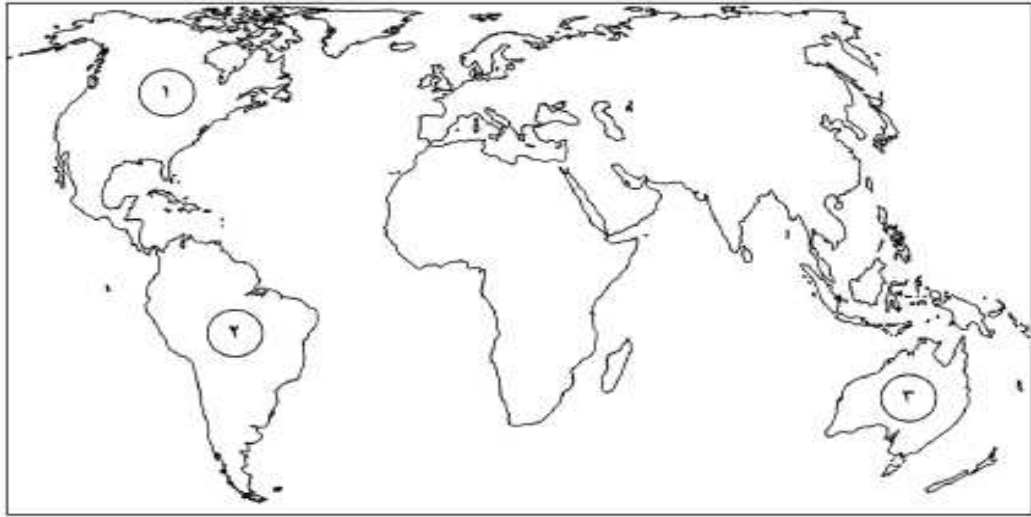


١- ارسم خط سير فاسكودي جاما إلى الهند في الخريطة أعلاه.

٢- سم المضييق المشار إليه بالرمز (أ) . (.....)

٣- وضح جهود جلالة السلطان قابوس المعظم في دراسة طريق الحرير الموضح في الخريطة.

ولا: مستعينًا بخريطة العالم التي امامك اجب عن الاسئلة التالية:



١- حدد على الخريطة الدولتين اللتين انطلق منهما الاكتشافات الجغرافية باستخدام الرمز (●)

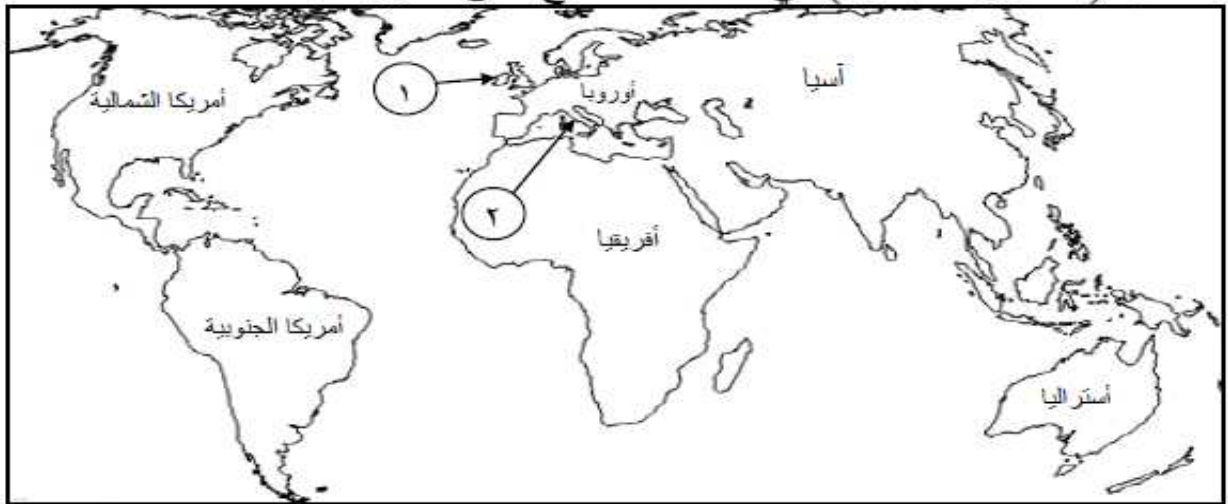
٢- ما الرقم الذي يشير في الخريطة إلى القارة التي اكتشفها كولومبس وأطلق عليها اسم "العالم الجديد" ؟

٣- ارسم على الخريطة طريق الحرير البري الممتد من شمال غرب الصين الى سواحل البحر المتوسط باستخدام الرمز (—)

٤ - ظلل المنطقة التي وصل اليها (فاسكودي جاما) تم عا د منها إلى البرتغال بالتوابل والبهارات باستخدام الرمز (■)

ثانياً: انظر إلى الخريطة ثم أجب عن الأسئلة الآتية:

١- اكتب (مضيق ماجلان) في مكانه الصحيح على الخريطة.



٢- استخرج من الخريطة ما يلي :

- رقم الدولة التي بدأت فيها النهضة الأوروبية قبل غيرها () .

- رقم الدولة التي ينتمي إليها البحار (جون كابوت) () .

٣- ارسم على الخريطة خط سير رحلة (كريستوفر كولومبوس) لاكتشاف العالم الجديد.

١٠ عدد اثنين من:

أ) عوامل قيام النهضة الأوروبية.

ب- اجب عما ياتي من الاسئلة :-

1- اختراع آلة الطباعة بالمانيا عام 1445م على يد يوحنا جوتنبرج اهمية عظيمة:-

ب- لا أوافق

أ- اوافق

السبب:-

ب) صنف العوامل الآتية إلى عوامل قيام الاكتشافات الجغرافية وعوامل قيام النهضة الأوروبية.
(ظهور مجتمعات جديدة ومتطورة / اختراع آلة طباعة / البحث عن طرق تجارية جديدة /
نشر الديانة المسيحية / تطور حركة التجارة والصناعة / التنافس بين الدول لزيادة الأراضي)

عوامل قيام النهضة الأوروبية	عوامل قيام الاكتشافات الجغرافية

ج) صنف أسباب قيام الاكتشافات الجغرافية التالية إلى المجال الذي تنتمي إليه (اقتصادي / سياسي / ديني)

المجال	الأسباب
	التنافس بين الدول الأوروبية على امتلاك الأراضي
	البحث عن طرق تجارية جديدة
	الرغبة في الإثراء السريع
	نشر الديانة المسيحية

ج) - قارن بين الكنسية الكاثوليكية في أوربا قبل النهضة وبعدها ؟ (يكتفى بذكر اثنين)

٢- اربط الاكتشافات الآتية إلى المكتشفين الاوروبيين التالية أسماتهم (فيردناند ماجلان - كريستوفر كولمبوس - جون كابوت - فاسكو دي جاما)

المكتشف	الاكتشافات
	الدوران حول أفريقيا والوصول الى الهند
	النزول على ساحل أمريكا الجنوبية
	الدوران حول الأرض وإثبات كرويتها
	التعرف على أجزاء من أمريكا الشمالية

٢) فسر: ظهور طبقة من الأغنياء في إيطاليا كان سببا من أسباب انطلاق النهضة الأوروبية منها .

تابع : السؤال الثالث :

٣) صنف العبارات التالية إلى أسباب و نتائج للاكتشافات الجغرافية .
(البحث عن طرق تجارية جديدة - إثبات كروية الارض - التنافس لزيادة الأراضي المملوكة .
الاطلاع على ثقافات حضارات أخرى)

الأسباب	النتائج
.....
.....
.....

1- (من أسباب قيام الاكتشافات الجغرافية : البحث عن طرق تجارية جديدة تعطي الأوروبيين حرية التجارة وتوفر لهم السلع التي يحتاجونها دون وسيط تجاري ..) .

أ - ما أهم سلع الهند التي كان الأوروبيون بأمس الحاجة إليها ؟

ب- باعتقادك / هل نجح الأوروبيون في التخلص من احتكار الوسطاء التجاريين لمنتجات آسيا ؟ دعم إجابتك .

١. العنصر الذي وجه حياة الأوروبيين في عصر ما قبل النهضة :

أ. الدين. ب. السياسة. ج. الاقتصاد. د. الفن.

٢. الجدول الذي يوضح صفات المولدين:

أ. ب. ج. د.

أمهاتهم غير عربيات
اعتنقوا الإسلام
تعلموا العربية

أمهاتهم عربيات
لم يعتنقوا الإسلام
لم يتعلموا العربية

أمهاتهم غير عربيات
لم يعتنقوا الإسلام
تعلموا العربية

أمهاتهم عربيات
اعتنقوا الإسلام
تعلموا العربية