

شكراً لتحميلك هذا الملف من موقع المناهج العمانية



الامتحان النهائي الرسمي الفترة الصباحية بمحافظة جنوب الباطنة

[موقع المناهج](#) ⇨ [المناهج العمانية](#) ⇨ [الصف الثامن](#) ⇨ [اجتماعيات](#) ⇨ [الفصل الثاني](#) ⇨ [الملف](#)

تاريخ نشر الملف على موقع المناهج: 2023-05-15 06:34:45

التواصل الاجتماعي بحسب الصف الثامن



روابط مواد الصف الثامن على تلغرام

[الرياضيات](#)

[اللغة الانجليزية](#)

[اللغة العربية](#)

[التربية الاسلامية](#)

المزيد من الملفات بحسب الصف الثامن والمادة اجتماعيات في الفصل الثاني

نموذج إجابة الاختبار النهائي الرسمي في محافظة مسقط	1
الاختبار النهائي الرسمي في محافظة مسقط	2
الامتحان الرسمي النهائي لمحافظة الداخلية	3
الاختبار النهائي الرسمي في محافظة الظاهرة	4
الامتحان النهائي الرسمي الفترة الصباحية بمحافظة جنوب الباطنة	5

(١)

تابع امتحان الصف الثامن - المادة: الدراسات الاجتماعية - الفصل الدراسي الثاني
الدور: الأول - للعام الدراسي ١٤٤٤ هـ - ٢٠٢٢ / ٢٠٢٣ م


أجب عن جميع الأسئلة الآتية



السؤال الأول: ضع دائرة حول رمز الإجابة الصحيحة لكل مفردة من المفردات الآتية:

١- أكثر أنواع الأفلاج انتشاراً في سلطنة عُمان:

- أ- العذية. ب- العينية. ج- الغيلية. د- الداودية.



٢- المصطلح العلمي الذي تعبر عنه الصورة المقابلة:

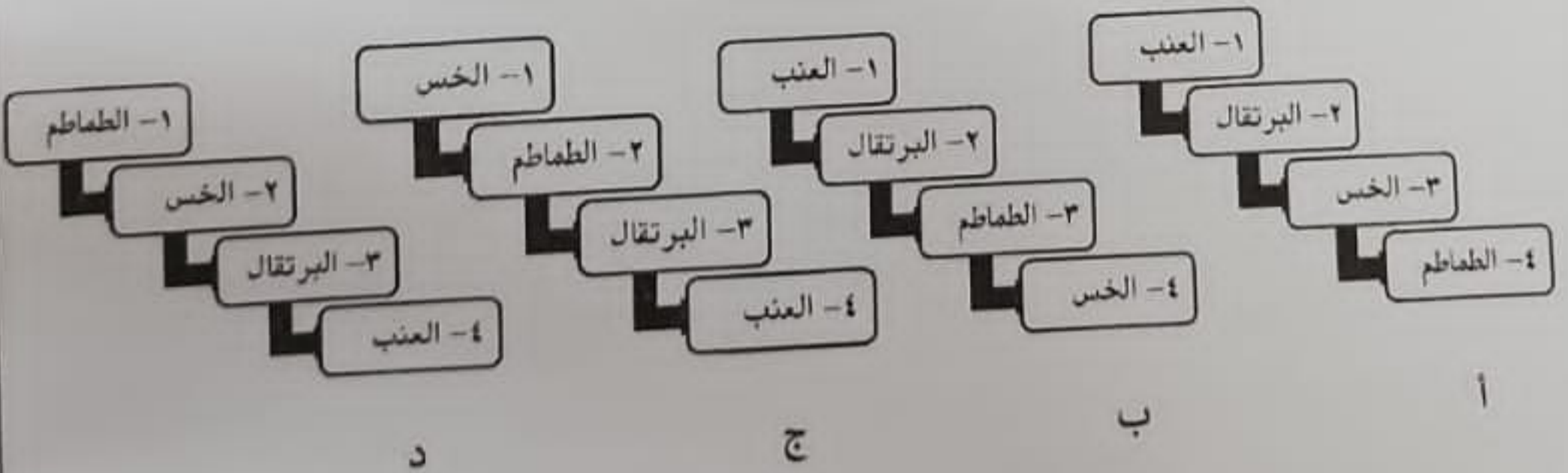
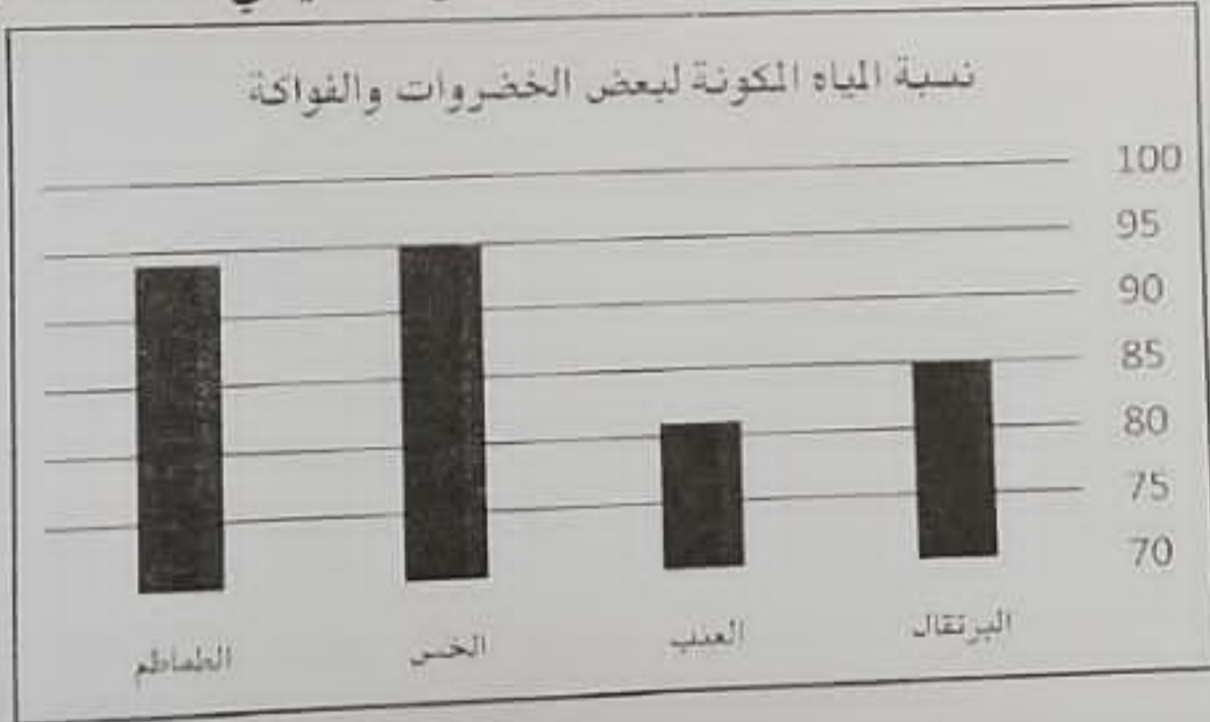
- أ- الأسمدة الكيماوية. ب- المبيدات الحشرية.

- ج- الأمطار الحمضية. د- المياه العادمة.

٣- النشاط البشري الأكثر استهلاكاً للمياه:

- أ- المنزلي. ب- الصناعي. ج- التجاري. د- الزراعي.

٤- الشكل الذي يمثل الترتيب الصحيح لنسبة المياه المكونة لبعض الأغذية في المخطط البياني أمامك:



يتبع/٢

(أ) أصبح الورْدُ ممتفِحًا.....

(ب) صار الماء ثلجًا.....

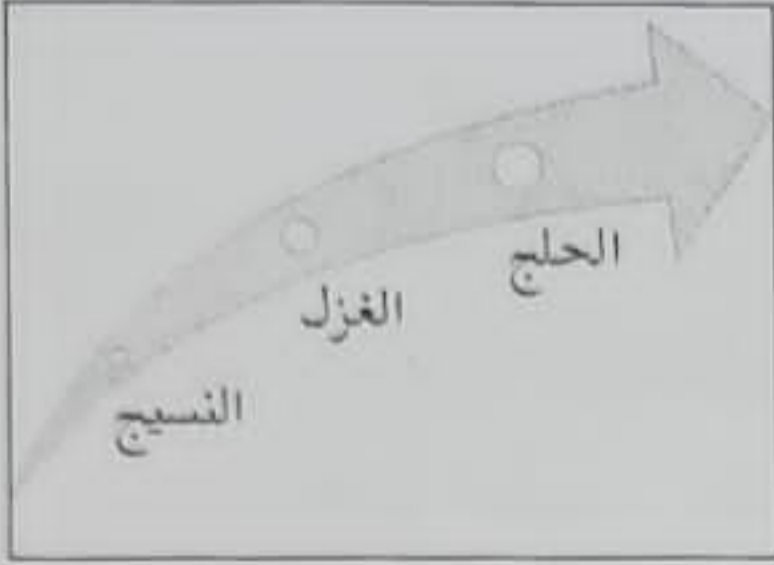
(ج) الماء:

(٢)

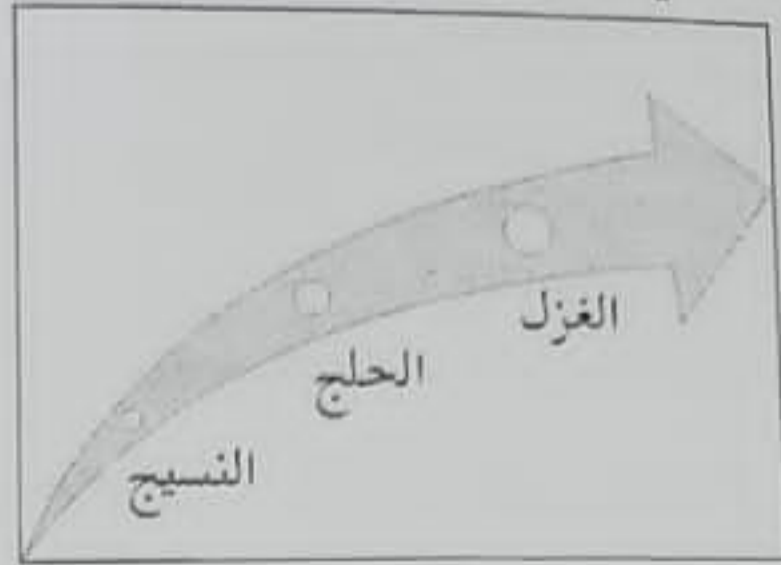
تابع امتحان الصف الثامن - المادة: الدراسات الاجتماعية - الفصل الدراسي الثاني
الدور: الأول - للعام الدراسي ١٤٤٤ هـ - ٢٠٢٢ / ٢٠٢٣ م

تابع السؤال الأول:

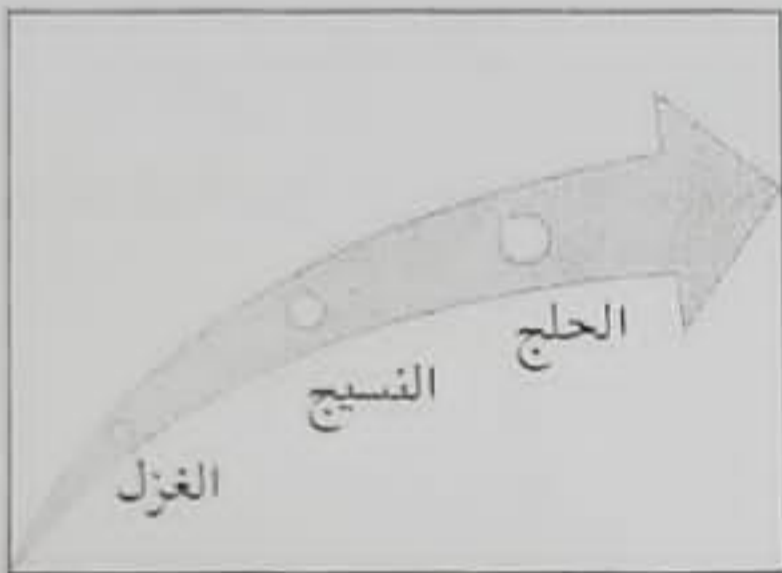
٥- المخطط الذي يمثل الترتيب الصحيح لمراحل صناعة المنسوجات القطنية:



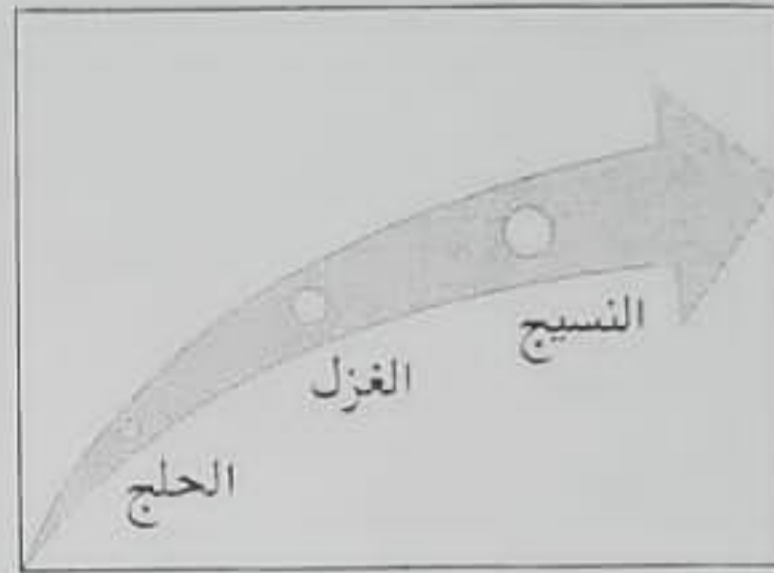
ب



أ

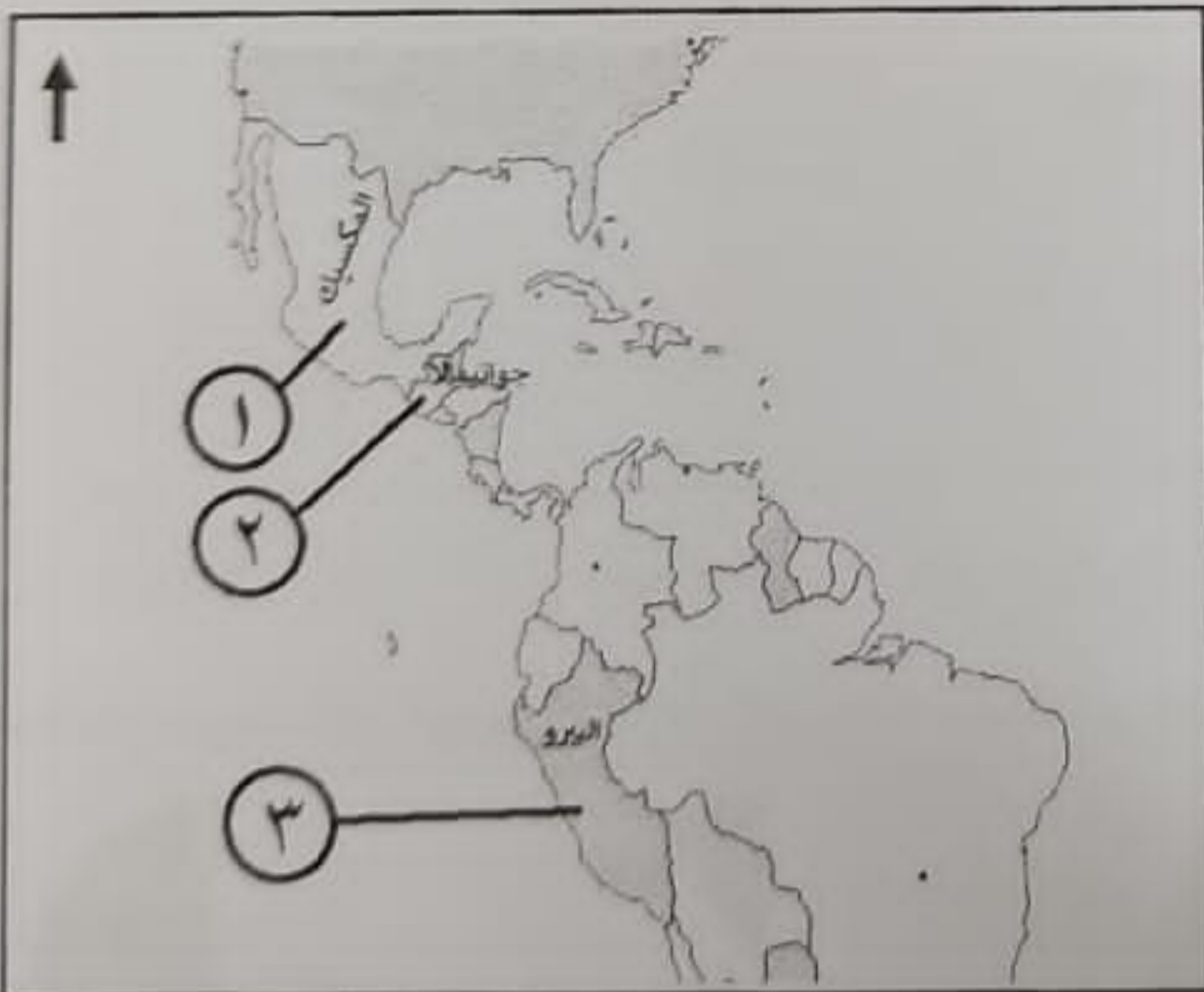


د



ج

٦- الجدول الذي يمثل التوزيع الجغرافي الصحيح لمواقع الحضارات القديمة في الخريطة أمامك:



اسم الحضارة	الأزتك	الإنكا	المايا
رقم الموقع على الخريطة	١	٢	٣

أ

اسم الحضارة	الأزتك	الإنكا	المايا
رقم الموقع على الخريطة	٢	٣	١

ب

اسم الحضارة	الأزتك	الإنكا	المايا
رقم الموقع على الخريطة	٣	١	٢

ج

اسم الحضارة	الأزتك	الإنكا	المايا
رقم الموقع على الخريطة	١	٣	٢

د

٧- العالم المسلم الذي ألف كتاب القانون في الطب:

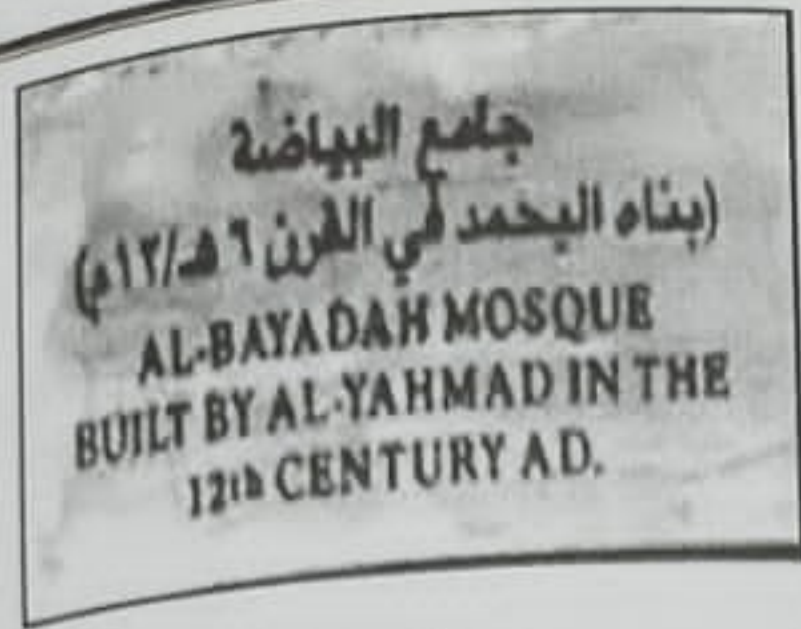
د- ابن سينا.

ج- الزهراوي.

ب- ابن رشد.

أ- الرازي.

(٣)
تابع امتحان الصف الثامن - المادة: الدراسات الاجتماعية - الفصل الدراسي الثاني
الدور: الأول - للعام الدراسي ١٤٤٤ هـ - ٢٠٢٢ / ٢٠٢٣ م



تابع السؤال الأول:

٨- المحافظة العُمانية التي يقع فيها الجامع المشار إليه في البطاقة التعريفية المقابلة:

أ- مسقط.
ب- ظفار.

ج- جنوب الباطنة.
د- شمال الباطنة.

٩- المسطح المائي الذي يطل عليه ميناء السلطان قابوس:

أ- بحر العرب.
ب- الخليج العربي.

ج- بحر عُمان.

د- البحر الأحمر.

١٠- القلعة العُمانية التي سميت بالشهباء:

أ- نزوى.
ب- الرستاق.

ج- مطرح.

د- صحار.

١١- الرقم الذي يشير الى الدولة التي كانت وجهة السفينة العُمانية "صحار" عام ١٩٨٠ م في الخريطة أمامك:




أ- (١)

ب- (٢)

ج- (٣)

د- (٤)

١٢- الشكل البياني الذي يعبر عن نسبة سكان ولاية صلالة من النسبة العامة لسكان محافظة ظفار عام ٢٠١٠ م:



يقبع / ٤

(٦)
تابع امتحان الصف الثامن - المادة: الدراسات الاجتماعية - الفصل الدراسي الثاني
الدور: الأول - للعام الدراسي ١٤٤٤ هـ - ٢٠٢٢ / ٢٠٢٣ م

تابع السؤال الثالث:
ثالثاً: كيف أسهمت الآلة في الشكل المقابل على ازدهار الملاحة البحرية أثناء الاكتشافات الجغرافية الأوروبية؟



.....
.....
.....

السؤال الرابع:



أولاً: "لقد هيا الموقع الجغرافي لمدينة مسقط عبر التاريخ تواملاً مع ثلاثة أقاليم مهمة، فتأثرت بالنشاط الحضاري الذي كان سائداً في تلك الأقاليم"، في ضوء العبارة اجب عن الأسئلة الآتية.

١- ما الجهة الجغرافية التي تقع فيها مدينة مسقط بالنسبة لبحر عُمان؟

.....

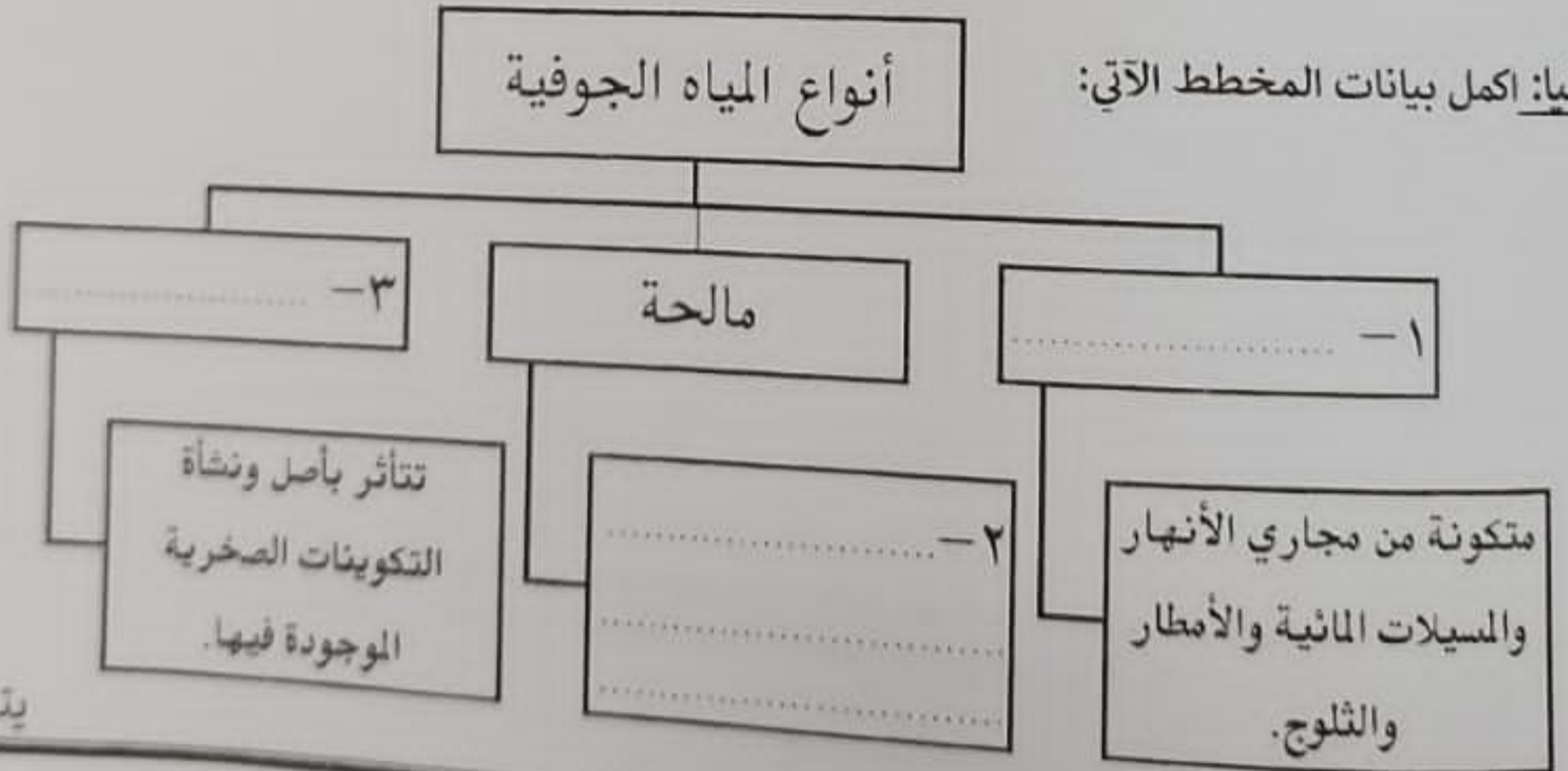
٢- اذكر اثنين من الأقاليم التي توصلت معها مدينة مسقط عبر تاريخها.

.....

٣- ما النتيجة المترتبة على مسقط من توصلها الحضاري مع الأقاليم الأخرى؟

.....

ثانياً: اكمل بيانات المخطط الآتي:



يتبع/٧

(٥)

تابع امتحان الصف الثامن - المادة: الدراسات الاجتماعية - الفصل الدراسي الثاني
الدور: الأول - للعام الدراسي ١٤٤٤ هـ - ٢٠٢٢ / ٢٠٢٣ م



السؤال الثالث:

أولاً: ادرس الصورة التي أمامك، ثم أجب عن الأسئلة الآتية:

١- سمِّ المَعْلَم التاريخي.



٢- ما اسم الإمام العُماني الذي بناه؟

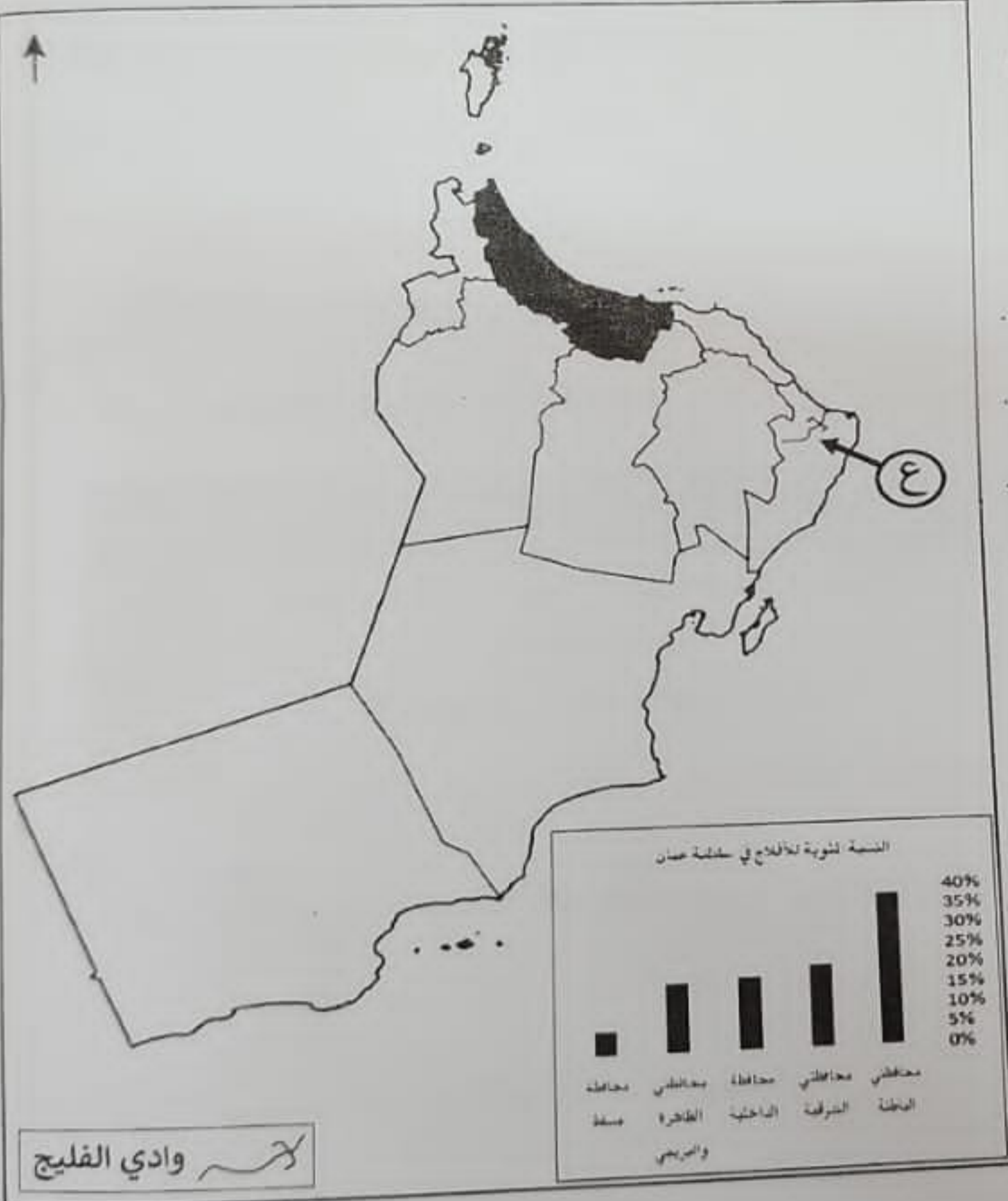
٣- ما الولاية العُمانية التي يقع فيها؟

ثانياً: ادرس خريطة سلطنة عُمان
إدارية ثم أجب عن الأسئلة الآتية:

١- استنتج الهدف من بناء السد
المائي المشار إليها بالرمز (ع).

٢- ما المشكلة البيئية الظاهرة في
ساحل المحافظتين المظلتين
بالخريطة؟

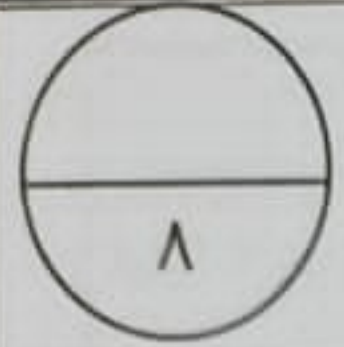
٣- ظلل المحافظة الأقل من حيث
نسبة الأفلاج وفق معطيات الرسم
البياني المرفق بالخريطة.



يتبع/٦

السؤال الثاني:

أولاً: ١- اكتب اسم المفهوم أو المصطلح المناسب امام العبارات الآتية:



م	العبرة	المفهوم أو المصطلح
أ	إنشاءات هندسية لتخزين المياه، تقام في مجاري الأودية والأنهار.	
ب	مساحات واسعة من الأرض يغطيها الجليد الصلب.	

٢- بم تعلق ثبات حجم المياه في الكرة الأرضية بكمية تقدر حوالي (٢٠٠٠) مليون كم^٣.

ثانياً: ١- (تعد بريطانيا من أوائل الدول الأوروبية التي نجحت في إحداث تقدم واسع بالمجال الزراعي في القرن الثامن عشر الميلادي)، برهن على صحة هذه العبارة.

٢- اكتب اسم الدولة الأوروبية مقابل كل منجز حضاري في الجدول الآتي:

م	المنجز الحضاري	الدولة
أ	"اثبتوا أن الأرض كروية الشكل بعد ثلاث سنوات من رحلتهم البحرية".	
ب	"اكتشفوا نهر "سانت لويس" في كندا".	

ثالثاً:

١- ما القرن الميلادي الذي بني فيه "المسجد الجامع" بولاية نزوى؟

٢- اذكر اسم بيت من البيوت الأثرية في مدينة مسقط.

(٧)
تابع امتحان الصف الثامن - المادة: الدراسات الاجتماعية - الفصل الدراسي الثاني
الدور: الأول - للعام الدراسي ١٤٤٤ هـ - ٢٠٢٢ / ٢٠٢٣ م

السؤال الخامس:

أولاً: اذكر سببا واحدا لكل من:

١- كثرة القلاع والحصون والأبراج في المدن العُمانية.

٢- فوز سوق نزوى المركزي بجائزة المدن العربية.

٣- انخفاض درجة الحرارة عن معدلها السنوي في مدينة صلالة صيفا.

ثانياً: رتب الأحداث التاريخية الآتية بكتابة الأرقام (١، ٢، ٣) حسب تسلسلها من الأقدم إلى الأحدث:

(.....) اختراع المحرك البخاري.

(.....) اختراع المغزل الآلي.

(.....) صنع أول آلة طباعة تعمل باليد.

انتهت الأسئلة مع الدعاء للجميع بالتوفيق والنجاح.