

تم تحميل هذا الملف من موقع المناهج العمانية



الملف ملخص الوحدة السادسة ولايات سلطنة عمان

[موقع المناهج](#) ← [المناهج العمانية](#) ← [الصف الثامن](#) ← [اجتماعيات](#) ← [الفصل الثاني](#)

روابط مواقع التواصل الاجتماعي بحسب الصف الثامن



روابط مواد الصف الثامن على تلغرام

[الرياضيات](#)

[اللغة الانجليزية](#)

[اللغة العربية](#)

[التربية الاسلامية](#)

المزيد من الملفات بحسب الصف الثامن والمادة اجتماعيات في الفصل الثاني

<a href="#">امتحان وإجابة الأسئلة الرسمية للفصل الدراسي الثاني الدور الأول 20162017</a>	1
<a href="#">امتحان وإجابة الأسئلة الرسمية للفصل الدراسي الثاني الدور الثاني 20162017</a>	2
<a href="#">نموذج اختبار قصير أول</a>	3
<a href="#">كراسة من أهلك طالبتي</a>	4
<a href="#">مذكرة أنشطة شاملة في وحدة جوانب من تاريخ أوروبا الحديث</a>	5



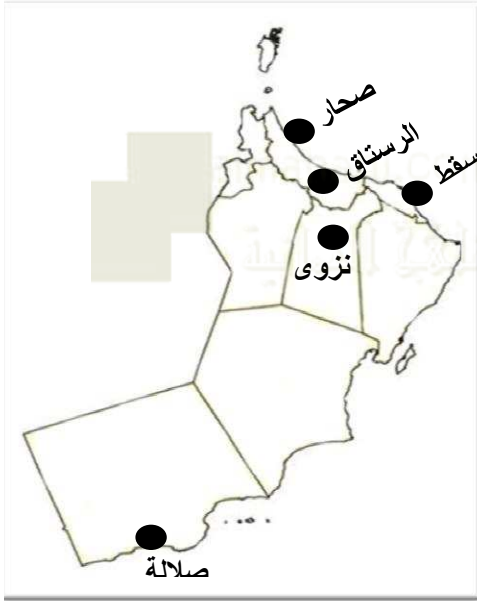
سلطنة عمان

وزارة التربية والتعليم

المديرية العامة للتربية والتعليم بمحافظة جنوب الباطنة

مدرسة نخل للتعليم الأساسي للصفوف (٥-١٢)

مادة الدراسات الاجتماعية



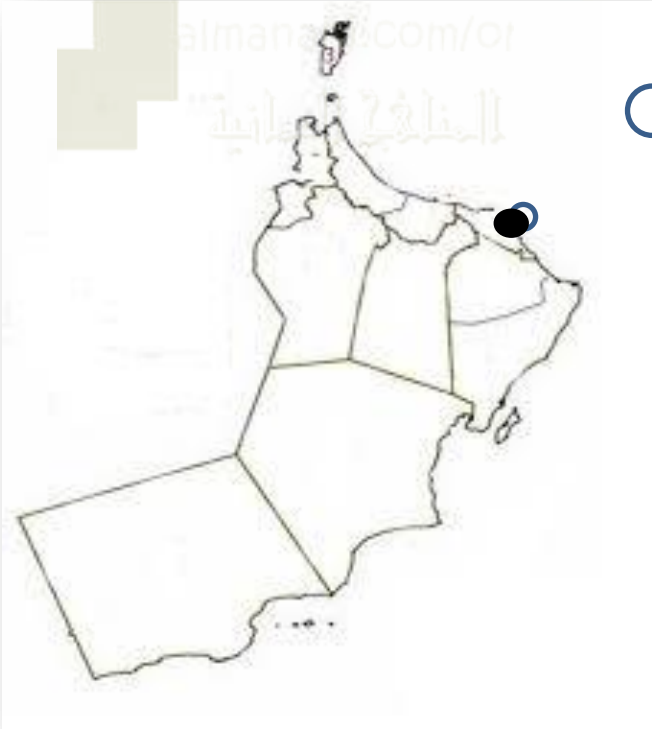
## ملخص الوحدة السادسة للصف الثامن

(مسقط ، نزوى ، الرستاق ، صحار ، صلالة)

إعداد وتنسيق :- أ. رياء بنت راشد الشكيلية

العام الدراسي ٢٠١٦م / ٢٠١٧م

# الدرس الأول :- ولاية مسقط



# ولاية مسقط

## ملاحم من تاريخ مسقط

١- دليل على أن الانسان سكن مسقط منذ فجر التاريخ؟

تاريخ الاكتشاف	الموقع	نوعية الآثار	الفترة الزمنية للآثار

٢- عدد الأنشطة الاقتصادية التي مارسها السكان في مسقط قديما؟

١- ..... ٢- ..... ٣- ..... ٤- .....

٣- سم أشهر الرحالة اللذين وصفوا مسقط؟

اسم الرحالة	الوصف	الملاحظات

٤- ما الاسم الذي أطلق على مسقط قديما؟

٥- متى أصبحت مسقط عاصمة لعمان؟

## تابع / الموقع

٦- عدد الأقاليم المتصلة معها؟

١- .....

٢- .....

٣- .....

٧- وضح أهمية موقعها؟

١- .....

٢- .....

٣- .....

## الموقع الفلكي

١- حدد خطوط الطول ودوائر

العرض للولاية؟

خطوط الطول: .....

دوائر العرض: .....

## الموقع الجغرافي

١- سم المحافظة التي تقع فيها الولاية؟

.....

٢- كم يبلغ عدد ولاياتها؟  
أذكرها؟

٣- سم البحر الذي تطل عليه؟

٤- من أي جهة يحدها هذا البحر؟

٤- كم يبلغ طول ساحلها؟

٥- سم الجبال الذي تحيط بها؟

## تابع / ولاية مسقط

### تابع / مسقط المعاصرة

- ١- أذكر أمثلة لأشهر المؤسسات الحضارية؟  
\* (المجال الديني)  
١- .....  
٢- .....  
\* (المجال التعليمي)  
١- .....  
\* (المجال الصحي)  
١- .....  
٢- .....  
٣- .....

### مسقط المعاصرة

- ٥- كم تبلغ نسبة سكان محافظة مسقط؟  
.....
- ٦- كم يبلغ عدد سكان مسقط؟  
.....
- ٧- سمي أكبر ولايات المحافظة سكانا؟  
.....
- ٨- سم اصغر ولايات المحافظة سكانا؟  
.....
- ٩- عدد أمثلة لأشهر الحدائق؟  
.....
- ١- .....  
٢- .....  
٣- .....
- ١٠- أذكر أمثلة لأشهر المناطق التي تتميز بالهندسة المعمارية الحديثة؟  
١- .....  
٢- .....  
٣- .....

### مسقط المعاصرة

- ١- أذكر أمثلة لأشهر الخدمات التي تتميز بها؟  
١- .....  
٢- .....  
٣- .....  
٤- .....  
٥- .....  
٦- .....
- ٢- فسر تشهد مسقط نموا سكانيا كبيرا في السنوات الأخيرة؟  
.....
- ٣- كم يبلغ عدد سكان محافظة مسقط؟  
.....
- ٤- كم تبلغ الكثافة السكانية في مسقط؟  
.....

### تابع / المعالم الحضارية

- ٣- (البيوت الأثرية)  
الأمثلة:- ١- .....  
٢- .....  
٣- .....  
٤- .....  
٥- .....  
٦- .....  
٤- (المعالم العمرانية الحديثة)  
الأمثلة:- ١- .....  
٢- .....  
٥- (الأسواق)  
\*مثال؟ .....  
\*أهم سلعه؟.....  
.....  
.....  
.....

### المعالم الحضارية

- ١- فسر كثرة بناء القلاع والحصون والأبراج في مسقط؟  
.....
- ٢- أذكر أمثلة على المعالم الحضارية فيها؟  
١- (الأسوار)  
\*متى بنيت؟.....  
\*مكوناتها: ١- .....  
٢- .....  
\* أمثلة على الأبواب؟  
١- .....  
٢- .....  
٣- .....  
٢- (القلاع)  
الأمثلة:- ١- .....  
٢- .....  
٣- .....

## تابع / ولاية مسقط

حدد على خريطة العالم كل من:-

- 1- الأقاليم الجغرافية التي كانت على تواصل حضاري مع مسقط.
- 2- المناطق التي هاجر منها السكان للاستقرار في مسقط.



### المعالم السياحية

1- أذكر أشهر المقومات السياحية في مسقط؟

.....-1

.....-2

.....-3

2- دلل على اهتمام السلطنة بتنشيط الحركة السياحية في مسقط.

.....-1

.....-2

.....-3

.....-4

### تابع / مسقط المعاصرة

تابع / المؤسسات الحضارية.

\* (المجال الاقتصادي)

.....-1

.....-2

.....-3

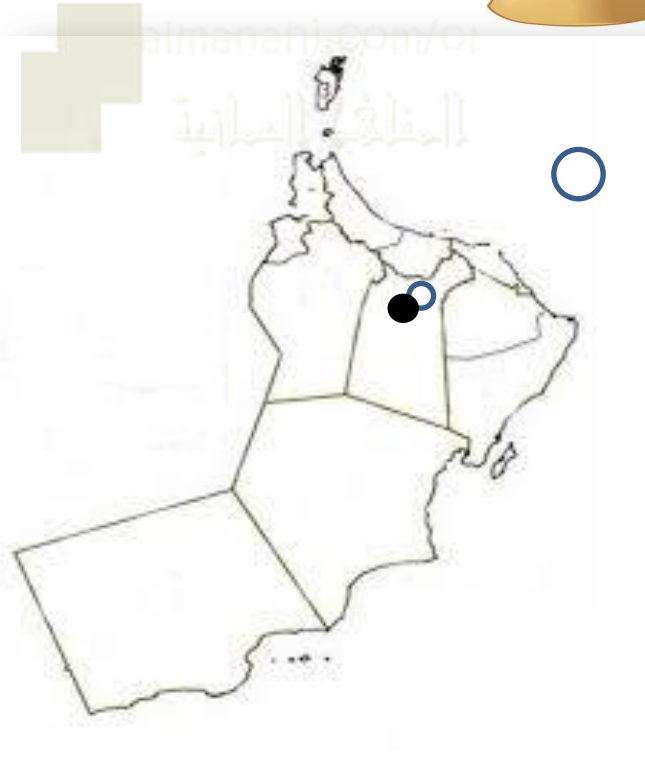
.....-5

.....-6

.....-7

# الدرس الثاني :- ولاية

## نزوى



# ولاية نزوي

## الموقع

- ١- سم المحافظة التي تقع فيها  
.....؟
- ٢- كم يبلغ عدد ولاياتها؟  
.....
- ٣- أذكرها؟  
.....
- ٤- كم يبلغ ارتفاع الموقع الذي  
تقع فيه؟  
.....
- ٥- وضح أهمية الموقع ؟  
.....  
.....  
.....
- ٦- صف مناخ نزوي؟  
.....  
.....
- ٧- ما النتيجة المترتبة على هذا  
المناخ؟  
.....
- ٨- كم يبلغ عدد سكانها؟  
.....
- ٩- كم تبلغ نسبتهم؟  
.....

## تابع / الموقع

- ١١- أذكر أشهر نواباتها؟  
.....  
.....
- ١٢- اذكر أشهر قراها؟  
.....  
.....
- ١٣- سم الجغرافي الذي  
وصف نزوي؟  
.....
- ١٤- ما اسم كتابه؟  
.....
- ١٥- بما وصف نزوي؟  
.....  
.....

## تاريخ نزوي

- ١- دلل على أهمية نزوي  
التاريخية كما ذكرها جلالة  
السلطان ؟  
.....  
.....  
.....  
.....
- ٢- أذكر مسميات نزوي؟  
.....  
.....
- ٣- علل تسمية نزوي بهذا  
الاسم؟  
.....  
.....
- ٤- علل تسمية نزوي ببيضة  
الاسلام؟ ومتى؟  
.....  
.....

## تاريخ نزوي

- ٥- من أنشأ نزوي؟ ومتى؟  
.....  
.....
- ٦- متى أصبحت نزوي  
عاصمة لعمان؟  
.....

## المعالم الحضارية

- ١- أذكر أمثلة لأشهر المعالم  
الحضارية فيها؟  
.....  
.....
- ١- (.....)  
.....  
.....  
.....
- متى بناها؟  
.....
- متى؟  
.....
- كم استغرق بناؤها؟  
.....
- وضح أهميتها؟  
.....

## ٢- (.....)

- من بناه؟  
.....
- متى؟  
.....
- ٣- (.....)  
.....  
.....
- أين يقع؟  
.....
- مميزاته؟  
.....
- ٤- (.....)  
.....  
.....
- أين يقع؟  
.....
- من بناه؟  
.....
- ٥- (.....)  
.....  
.....
- متى بني؟  
.....
- الأهمية قديما؟  
.....
- الأهمية حديثا؟  
.....
- ٦- (المساجد)  
.....  
.....



## تابع / ولاية نزوى

### تابع / الخدمات

- ٤- .....
- ٥- .....

### المعالم السياحية

- ١- عدد أشهر المعالم  
السياحية في الولاية؟

- ١- .....
- ٢- .....
- ٣- .....
- ٤- .....

### عصر النهضة

- ١- عدد إنجازات  
النهضة في المجالات  
التالية؟

- ١- مجال التعليم؟

- ١- .....
- ٢- .....
- ٣- .....
- ٤- .....
- ٥- .....
- ٦- .....

- ٢- مجال الصحة؟

- ١- .....
- ٢- .....
- ٣- الخدمات؟
- ١- .....
- ٢- .....
- ٣- .....

### الصناعة

- ١- أذكر أمثلة على أشهر  
الصناعات التي تمتاز بها  
نزوى؟

- ١- .....
- ٢- .....
- ٣- .....
- ٤- .....
- ٥- .....
- ٦- .....
- ٧- .....
- ٨- .....

### التجارة

- ١- أذكر العامل الذي ساعد  
على ممارسة أهلها للتجارة؟

- ٢- وضح أهمية نزوى  
التجارية؟

- ٣- أذكر مثال على أسواقها؟

- ٤- دلل على أهمية سوق  
نزوى؟

- .....
- .....
- .....
- .....
- .....
- .....

### الزراعة

- ١- فسر تعدد أهم نشاطات  
السكان والموارد الرئيسي لدخل  
الفرد قبل ظهور النفط؟

- ٢- عدد أشهر أفلاج فيها؟

- ٣- عدد أشهر محاصيلها؟

### نيابة الجبل الأخضر

- ١- الارتفاع؟

- ٢- المناخ؟

- ٣- النتيجة؟

- ٤- النشاط الاقتصادي؟

- المحاصيل؟

# الدرس الثالث :- ولاية الرسّاق



# ولاية الرستاق

## المقومات السياحية

١- عدد أشهر المقومات السياحية التي تمتلكها الولاية؟

١- .....

٢- .....

٣- .....

٤- .....

\* أمثلة على العيون :

.....

.....

\*كم تبلغ درجة حرارتها؟.....

\*وضح أهميتها ؟ ١-.....

٢- .....

٣- .....

٤- .....

٥- .....

## الرستاق المعاصرة

١- عدد انجازات النهضة في المجالات التالية ؟

١- مجال التعليم ؟

١- .....

٢- .....

٢- مجال الصحة؟

١- .....

٣- دلل على حرص الحكومة

الرشيده على تشجيع

الحرفيين ودفع عجلة

الاقتصاد بالولاية؟

.....

.....

.....

.....

## تابع / الموقع

٩- ما معنى اسم الرستاق؟

.....

.....

## المعالم الأثرية

١- اذكر أمثلة لأشهر المعالم الأثرية فيها؟

١- (.....)

مميزاتها؟.....

.....

.....

٢- (.....)

.....

.....

٣- (.....)

عددها؟.....

أمثلة ؟ .....

## الموقع

١- سم المحافظة التي تقع فيها

.....؟

٢- كم يبلغ عدد ولاياتها؟.....

- أذكرها؟.....

.....

٣- سم الجبال التي تحيط بها؟

.....

٤- أذكر الوادي الذي قامت على

سهله؟.....

٥- كم تبعد عن مسقط؟.....

٦- وضح أهمية الموقع ؟

.....

.....

.....

.....

.....

٧- عدد النيابات التابعه لها؟

.....

.....

٨- عدد القرى التابعه لها؟

.....

.....

٩- كم يبلغ عدد سكانها؟

.....

.....

# الدرس الرابع :- ولاية صحار



# ولاية صحار

## الحياة الاقتصادية والاجتماعية

١- عدد أشهر الانشطة الاقتصادية التي مارسها السكان في صحار؟

١- .....  
٢- .....  
أشهر المنتجات الزراعية:-

.....  
.....  
.....  
.....  
.....  
٣- .....  
٤- .....  
٥- .....

## رحلة السفينة صحار

١- وضح الهدف من رحلة السفينة؟

.....  
.....

٢- متى أنطلقت رحلتها؟

.....

٣- من اين أنطلقت؟

.....

٤- إلى أين وصلت؟

.....

٥- كم استغرقت رحلتها؟

.....

٥- أنكر أمثلة على أشهر قلاعها؟

.....

٦- دلل على التشريف الذي حظيت به صحار؟

.....

.....

.....

.....

.....

.....

٧- بما وصف المقدسي صحار؟

السنة:-

.....

الوصف:-

.....

.....

.....

.....

.....

.....

.....

## عبر التاريخ

١- علل تسمية صحار بهذا الاسم؟

.....

.....

.....

.....

.....

.....

.....

.....

.....

.....

.....

.....

.....

.....

.....

٢- وضح أهميتها الاقتصادية؟

.....

.....

.....

.....

.....

.....

.....

.....

.....

.....

.....

.....

.....

.....

.....

.....

.....

## الموقع

١- حدد على المخطط حدود ولاية صحار؟

.....

.....

.....

.....

.....

.....

.....

.....

.....

.....

.....

.....

.....

.....

.....

.....

.....

.....

.....

.....

.....

.....

.....

.....

.....

.....

.....

.....

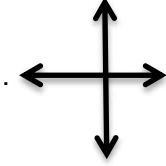
.....

.....

.....

.....

.....



٢- كم تبعد عن مسقط؟

٣- كم يبلغ عدد سكانها؟

٤- كم تبلغ نسبة سكانها؟

٥- وضح أهمية موقعها؟

.....

.....

.....

.....

.....

.....

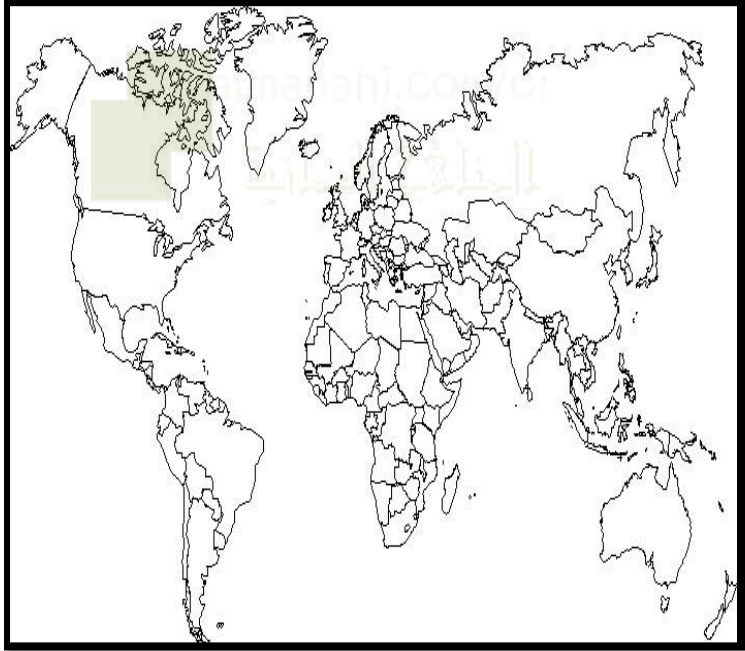
.....

.....

.....

## تابع / ولاية صحار

حدد على خريطة العالم الدول التي كانت تستورد النحاس  
من عمان قديما .



### بوابة صحار

١- صف التصميم المعماري  
لبوابة صحار؟  
الفناء الداخلي:

.....  
.....  
.....

الشكل العام للبوابة:

.....  
.....  
.....

الهيكل الأساسي للبوابة:

.....  
.....  
.....

### المعالم السياحية

١- أعط أمثلة لأشهر المعالم  
السياحية في صحار؟

١-.....  
٢-.....  
٣-.....  
٤-.....

٢- أذكر أبرز الخدمات  
السياحية المتوفرة في صحار؟

١-.....  
٢-.....

### عصر النهضة

١- عدد إنجازات النهضة في  
المجالات التالية؟

٢- المجال الصحي؟

.....

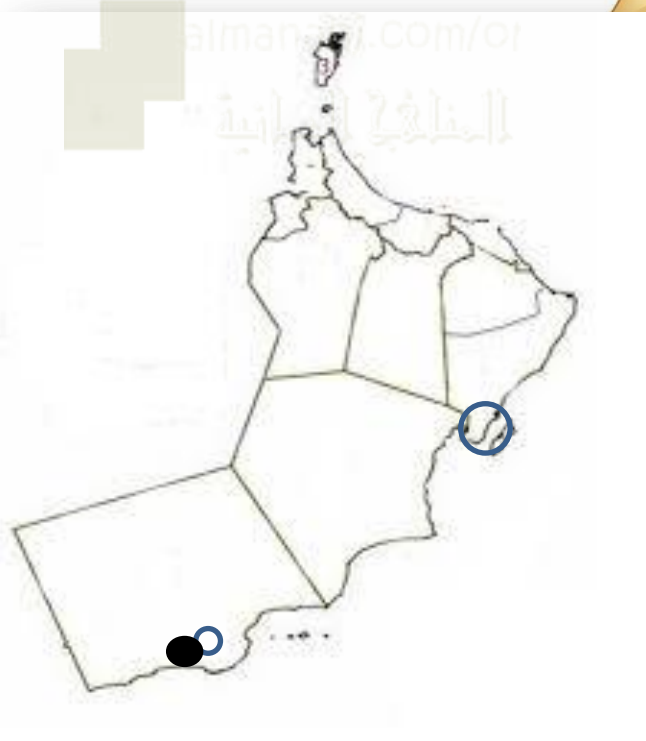
٣- المجال التعليمي؟

١-.....  
٢-.....  
٣-.....

٣- المجال الاقتصادي؟

١-.....  
٢-.....  
٣-.....  
٤-.....  
٥-.....

# الدرس الخامس :- ولاية صلالة



# ولاية صلالة

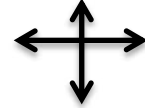
## الموقع

١- كم يبلغ عدد ولايات ظفار؟  
.....

٢- سمي هذه الولايات؟  
.....  
.....  
.....

٣- في أي جهة من عمان تقع صلالة؟  
.....

٤- حدد على المخطط حدود الولاية  
.....  
.....



٥- كم تبعد عن مسقط؟  
.....

٦- كم يبلغ عدد سكانها؟  
.....

٧- كم تبلغ نسبة سكانها؟  
.....

## عبر التاريخ

١- دلل على وجود نشاط تجاري قديم؟  
.....  
.....

٢- عدد أشهر صادراتها؟  
.....  
.....  
.....

٣- سمي أشهر الرحالة اللذين وصفوا صلالة؟  
.....

١- (.....)

٢- (.....)

٣- (.....)

٤- المواقع الأثرية؟  
.....  
.....  
.....

## عصر النهضة

١- عدد إنجازات النهضة في المجالات التالية؟  
.....  
.....  
.....

١- المجال الثقافي؟  
.....  
.....  
.....

٢- المجال الصحي؟  
.....  
.....  
.....

٣- المجال الاقتصادي؟  
.....  
.....  
.....

٤- أذكر أشهر الحرف؟  
.....  
.....  
.....

٥- عدد أشهر الصناعات؟  
.....  
.....  
.....

٦- عدد أشهر الأسماك؟  
.....  
.....  
.....



## تابع / ولاية صلالة

### تابع / المعالم السياحية

٦- (.....)

٧- (.....)

### تابع / المعالم السياحية

١- أذكر أشهر المعالم السياحية ؟

١- (.....)

٢- (.....)

٣- (.....)

٤- (.....)

٥- (.....)

### المعالم السياحية

١- فسر سقوط الأمطار في صلالة صيفا ؟

٢- اسم الفصل؟ .....

٣- الفترة؟ .....

٤- مميزاته؟ .....

٥- عدد مقومات الجذب السياحي الطبيعي في صلالة ؟

١- .....

٢- .....

٣- .....

٤- .....