

تم تحميل هذا الملف من موقع المناهج العمانية




الامتحان النهائي الرسمي الدور الأول الفترة الصباحية في محافظة شمال الشرقية

[موقع المناهج](#) ← [المناهج العمانية](#) ← [الصف الثامن](#) ← [اجتماعيات](#) ← [الفصل الثاني](#) ← [الملف](#)

تاريخ إضافة الملف على موقع المناهج: 07:52:38 2024-06-06

التواصل الاجتماعي بحسب الصف الثامن



[اضغط هنا للحصول على جميع روابط "الصف الثامن"](#)

روابط مواد الصف الثامن على تلغرام

[الرياضيات](#)

[اللغة الانجليزية](#)

[اللغة العربية](#)

[التربية الاسلامية](#)

المزيد من الملفات بحسب الصف الثامن والمادة اجتماعيات في الفصل الثاني

[الامتحان النهائي الرسمي الدور الأول الفترة الصباحية في محافظة جنوب الباطنة](#)

1

[الامتحان النهائي الرسمي الدور الأول الفترة الصباحية في المحافظات مسقط والداخلية والشرقية والوسطى ومسندم](#)

2

[مواصفات الورقة الامتحانية](#)

3

[نماذج من أسئلة الامتحانات النهائية في الوحدة الخامسة جوانب](#)

4

المزيد من الملفات بحسب الصف الثامن والمادة اجتماعيات في الفصل الثاني

[من تاريخ أوروبا](#)

[ملخص شامل للوحدة الأولى مصادر المياه](#)

5


أجب عن جميع الأسئلة الآتية
السؤال الأول: ضع دائرة حول رمز الإجابة الصحيحة لكل مفردة من
المفردات الآتية:

١٢

١- النسبة المئوية التي تشكلها المياه من سطح الأرض:

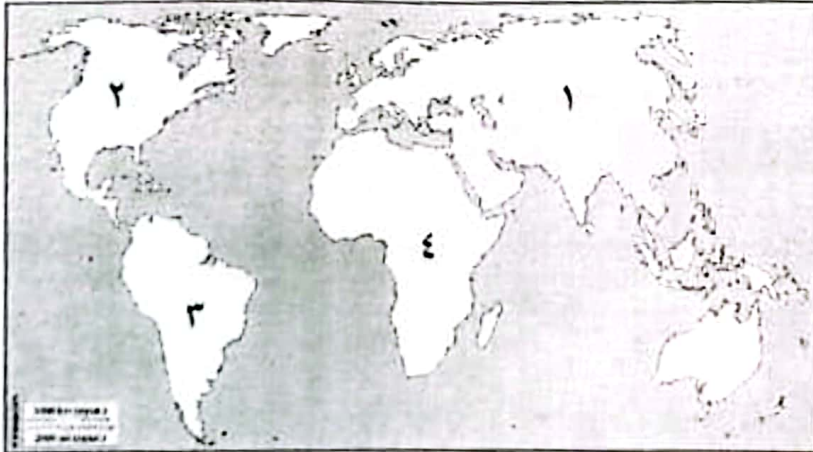
- أ- ٥١ ب- ٦١ ج- ٧١ د- ٨١

٢- مصدر المياه الذي يستغل لتوليد الطاقة الكهربائية الموضح في الشكل المقابل:



- أ- الأنهار.
ب- الأفلاج.
ج- البحار.
د- العيون.

٣- الرقم الذي يشير إلى القارة التي ستواجه فيها ٢٥ دولة عجزًا مائيا بحلول عام ٢٠٢٥ م حسب إحصاءات الأمم المتحدة، في الخريطة المقابلة:



- أ- ١
ب- ٢
ج- ٣
د- ٤

٤- الولاية العمانية التي يوجد بها وادي ضيقة:

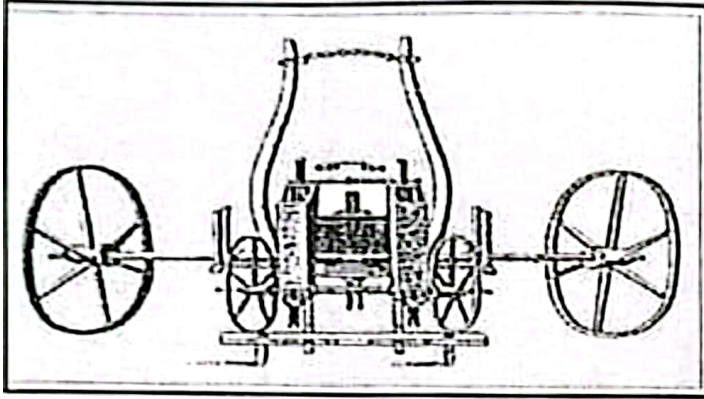
- أ- العامرات. ب- الرستاق. ج- نزوى. د- قريات.
٥- العالم المسلم الذي ترجم كتابه القانون وانتشر في معظم المؤسسات العلمية الأوروبية:
أ- ابن سينا. ب- الزهراوي. ج- ابن رشد. د- الرازي.

يتبع/٢

تابع/السؤال الأول:

- ٦- الدولة التي ينسب إلى أحد أقاليمها مفهوم الأبار الإرتوازية:
أ- إيطاليا. ب- ألمانيا. ج- فرنسا. د- بريطانيا.

٧- الغرض من اختراع الآلة في الشكل المقابل:



- أ- بذر الحبوب.
ب- نسج الملابس.
ج- حصاد القمح.
د- توليد الكهرباء.

٨- السيد الذي اتخذ مسقط عاصمة لعمان عام ١٧٨٤م:

- أ- حمد بن سعيد البوسعيدي.
ب- سعيد بن سلطان البوسعيدي.
ج- سعيد بن أحمد البوسعيدي.
د- سلطان بن أحمد البوسعيدي.

٩- المعلم الأثري العماني الموضح في الصورة المقابلة:



- أ- حصن جبرين.
ب- قلعة بهلا.
ج- حصن الحزم.
د- قلعة نزوى.

١٠- الجامع الذي بني داخل قلعة الرستاق في القرن السادس الهجري:

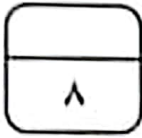
- أ- الشواذنة. ب- البيضاء. ج- اليعاربة. د- النصر.

تابع/السؤال الأول:

- ١١- الولاية التي تعد المركز الإقليمي لمحافظة شمال الباطنة:
أ- السويق. ب- صحار. ج- صحم. د- شناص.
- ١٢- المدينة العمانية التي وصف ابن بطوطة سكانها بعبارة " وقومها أهل تجارة لا عيش لهم الا منها":
أ- نزوى. ب- الرستاق. ج- صلالة. د- مسقط.

السؤال الثاني:

أولاً: عرف ما يأتي:



١- الغطاءات الجليدية:

٢- طريق الحرير البحري:

ثانياً: اكتب نتيجة واحدة لكل مما يأتي:

١- تملح المياه الجوفية في ساحل الباطنة.

٢- تلوث المياه.

ثالثاً: قارن بن شكلي الأفلاج العمانية حسب الجدول الآتي:

شكل الفلاج	وجه المقارنة
فترة جريانه	
النسبة المئوية من مجموع أفلاج سلطنة عمان	

يتبع/٤

السؤال الثالث:

٨

أولاً: اكتب المفهوم الدال على العبارات الآتية:

م	العبرة	المفهوم
١	قناة اصطناعية تشق في الأرض بين المنطقة الحاملة للمياه والمنطقة المأهولة بالسكان.	
٢	أحواض مائية داخلية محدودة المساحة محاطة باليابسة من جميع الجهات.	
٣	إنشاءات هندسية لتخزين مياه الأودية.	

ثانياً: رتب الأحداث التاريخية الآتية من الأقدم إلى الأحدث باستخدام الأرقام (١-٢-٣-٤):

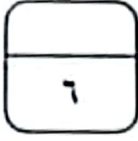
اكتشاف الإنجليز أجزاء من أمريكا الشمالية.
وصول أول مجموعة أوروبية إلى أمريكا الجنوبية.
دوران ماجلان حول أمريكا الجنوبية.
إنشاء البرتغاليين مدرسة للبحارة وبناء السفن.

ثالثاً: انسب الشخصيات بين القوسين إلى الإنجازات التي قامت بها وفق المعطيات في الجدول التالي:

(ماجلان - جاك كارتية - فاسكودي جاما)

م	الإنجازات	الشخصية
١	الوصول إلى الهند.	
٢	إثبات كروية الأرض.	
٣	اكتشاف نهر سانت لويس في كندا.	

ينبع/٥



السؤال الرابع:


أولاً: اكتب واحداً لكل مما يأتي:

١- عوامل قيام النهضة الأوروبية.

.....

٢- المعالم الحضارية الحديثة في المجال الاقتصادي في ولاية صلالة.

.....



ثانياً: ادرس الصورة المقابلة ثم أجب عن الأسئلة الآتية

١- ما اسم السفينة الموضحة في الصورة؟

.....

٢- اكتب اسم السلطان الذي تم في عهده بناء السفينة.

.....


٣- القوة المحركة لهذه السفينة:

الرياح	البترول	الكهرباء

(اختر الإجابة بوضع إشارة (✓) تحت الإجابة الصحيحة)

٤- أكمل بيانات هذه السفينة حسب الجدول الآتي:

صحار	المدينة التي أبحرت منها.
	المدينة التي أبحرت إليها.
	المدة التي استغرقتها الرحلة.



السؤال الخامس:

أولاً: ادرس خريطة سلطنة عمان الآتية، ثم أجب عن الأسئلة التي تليها:



- ١- ظلل المحافظة التي توجد بها ولاية نزوى.
- ٢- اكتب على الخريطة بحر عمان وبحر العرب في موقعهما الجغرافي الصحيح.

ثانياً: علل ما يلي:

١- تسمية مدينة نزوى ببيضة الإسلام في عهد الإمام غسان بن عبد الله.

٢- تميز مدينة صلالة بمناخ استثنائي في فصل الصيف.

ثالثاً: دلل على ما يلي:

١- قدم تاريخ مسقط وحضارتها.

٢- تمتع ولاية الرستاق بالعديد من المقومات السياحية.

انتهت الأسئلة وتمنياتنا لكم بالتوفيق والنجاح