

تم تحميل هذا الملف من موقع المناهج العُمانية



* للحصول على أوراق عمل لجميع الصفوف وجميع المواد اضغط هنا

<https://almanahj.com/om>

* للحصول على أوراق عمل لجميع مواد الصف الثامن اضغط هنا

<https://almanahj.com/om/8>

* للحصول على جميع أوراق الصف الثامن في مادة اجتماعيات ولجميع الفصول, اضغط هنا

<https://almanahj.com/om/8social>

* للحصول على أوراق عمل لجميع مواد الصف الثامن في مادة اجتماعيات الخاصة بـ الفصل الثاني اضغط هنا

<https://almanahj.com/om/8social2>

* لتحميل كتب جميع المواد في جميع الفصول للـ الصف الثامن اضغط هنا

<https://almanahj.com/om/grade8>

* لتحميل جميع ملفات المدرس علي بن محمد الحسان اضغط هنا

للتحدث إلى بوت على تلغرام: اضغط هنا

https://t.me/omcourse_bot



مذكرة إثرائية لمادة
الدراسات الاجتماعية

2020-2021

الصف الثامن

الفصل الدراسي الثاني
الوحدة الرابعة

(المياه)

اسئلة

إعداد :

علي بن محمد الحسان

للتواصل :

99493923

Ali 47536@moe.om

(درس : مصادر المياه)

السؤال الأول : ضع علامة (✓) أو (X) أمام العبارة المناسبة مع تصحيح ما تحته خط إذا كانت العبارة خطأ .

- ١- () الكوكب الوحيد الذي توجد عليه الحياة التي تعتمد على الماء والهواء هو كوكب الأرض .
- ٢- () يستطيع الإنسان البقاء على قيد الحياة بدون شرب الماء .
- ٣- () جميع مياه الأنهار في العالم تصب دائما في البحار والمحيطات .
- ٤- () تعد الأمطار المتساقطة على اليابسة أكثر من الأمطار المتساقطة على المحيطات .

السؤال الثاني : أكمل مايلي بكلمات مناسبة من عندك :

- ١- تغطي المياه ما نسبته% من سطح الأرض منها حوالي% مياه مالحة وحوالي% مياه عذبة .
- ٢- لاحظ العلماء أن جميع مياه الأنهار في العالم تصب باستمرار في البحار و
- ٣- توجد المياه في الطبيعية على شكلين هما المياه والمياه
- ٤- تتوزع مياه المسطحات البحرية بين محيطات رئيسية .
- ٥- تمثل البحار و أكثر أنواع المسطحات المائية انتشارا على سطح الأرض .

السؤال الثالث : ضع دائرة حول الإجابة الصحيحة من بين البدائل المعطاه :

- ١- الكوكب الوحيد الذي توجد عليه الحياة التي تعتمد على الماء والهواء هو كوكب (الأرض - عطارد - بلوتو)
- ٢- تغطي المياه ما نسبته من سطح الأرض .
(٦١% - ٧١% - ٨١%)
- ٣- يكون الماء حوالي من وزن جسم الإنسان .
(٤٥% - ٥٥% - ٦٥%)
- ٤- تغطي الثلوج والغطاءات الجليدية ما نسبته من مساحات الغلاف المائي .
(١,٩% - ٢,٩% - ٣,٩%)

السؤال الرابع : صل بخط بين العمود الأول وما يناسبه من العمود الثاني :

العمود الأول	العمود الثاني
الآبار الارتوازية	مسطحات مائية ضحلة تظهر بصورة دائمة أو مؤقتة
النافورات الحارة	مياه تندفع بشكل طبيعي الى سطح الارض لوجود شقوق في هذه الطبقات
الينابيع	مياه تندفع الى اعلى لعدة امتار بفعل عاملي الضغط العالي والحرارة
المستنقعات	مياه جوفية موجودة في ثنيات مقعرة تندفع الى اعلى عند حفر البئر

السؤال الخامس : اختر المصطلح المناسب من بين القوسين وضعها أمام التعريف المناسب لها في العمود الأول

(الأنهار - البحيرات - الجليد - الغطاء النباتي - الثلج)

المصطلح	التعريف
	ثلج متراكم فوق بعضه يتميز بصلابته نتيجة انضغاطه
	مساحات واسعة يغطيها الجليد الصلب
	مجري مائية تنتقل فيها المياه من الينابيع في المناطق المرتفعة الى المصببات في البحار او المحيطات
	احواض مائية داخلية محدودة المساحة محاطة باليابس من جميع الجهات
	حالة الماء الجامدة الصلبة ويتساقط على شكل بلورات

السؤال السادس : علل ما يلي " أذكر السبب " :

س ١ : " تختلف الموارد المائية في الطبيعة من مكان لآخر " .

ج ١ :

س ٢ : تختلف المجارى النهرية الدائمة الجريان عن بعضها البعض .

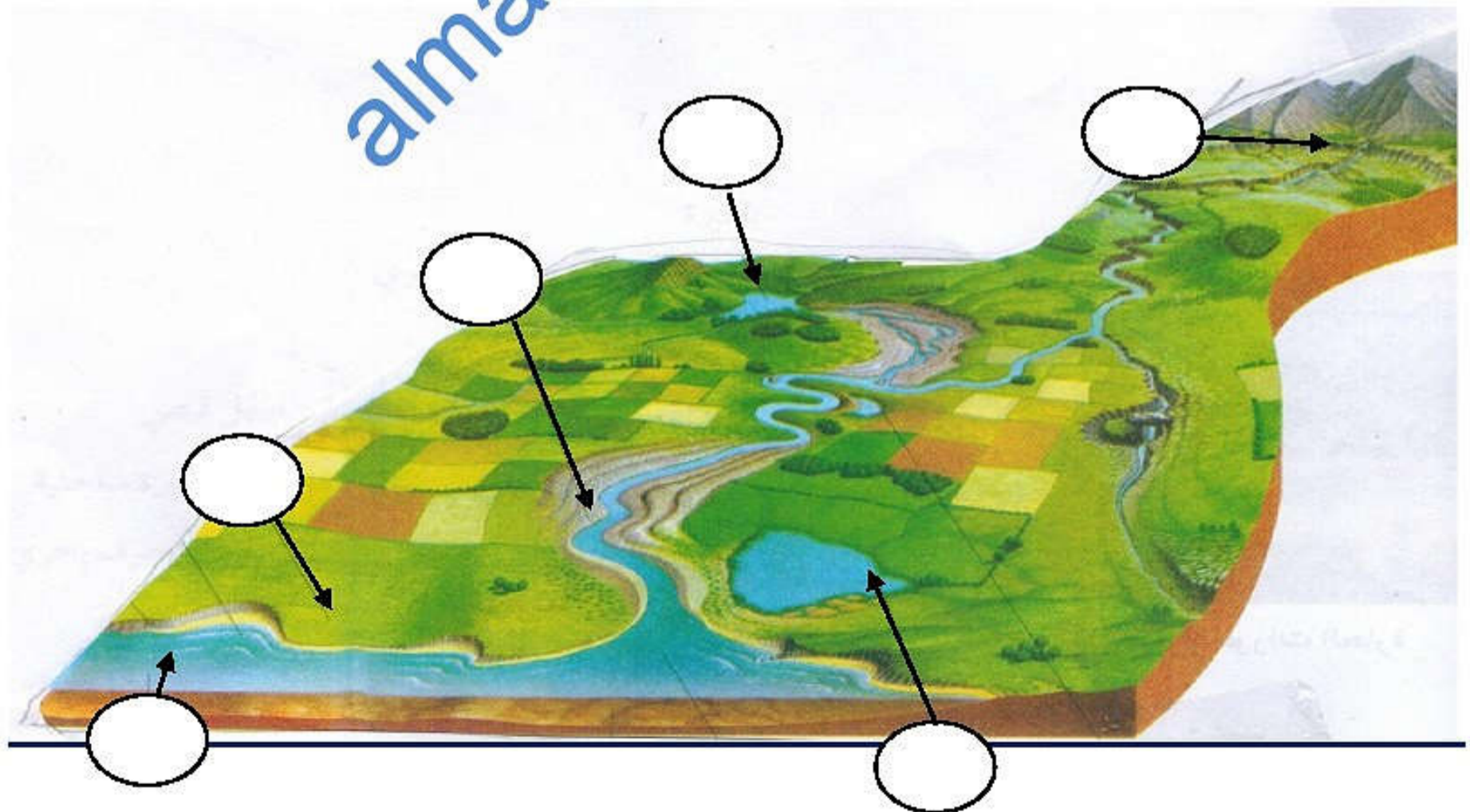
ج ٢ :

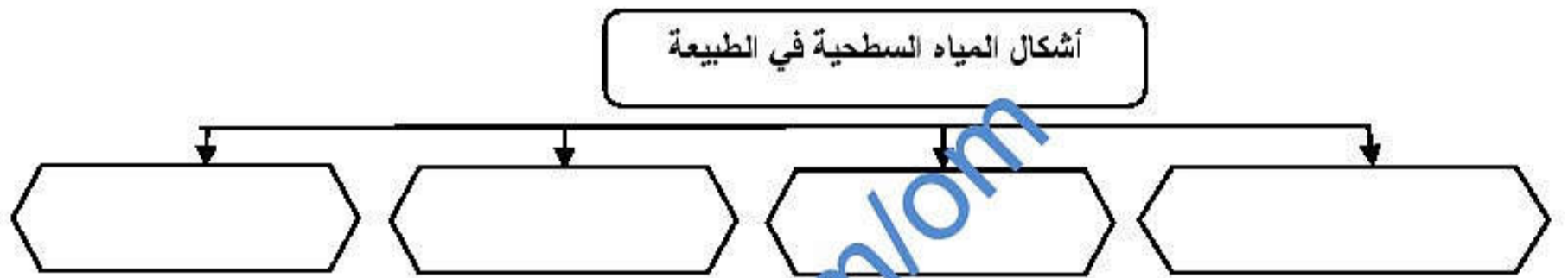

س ٣ : " تختلف نوعية المياه الجوفية من حيث صفاتها الطبيعية والكيميائية

ج ٣ :

السؤال السابع : ضع أرقام المصطلحات التالية داخل المربع الخالي عليها في الشكل :

١- سهل فيضي ٢- شلال ٣- مستنقع ٤- بحيرة ٥- شاطئ بحري ٦- بحر



السؤال الثامن : أكمل الشكل بكتابة حالات المياه في الطبيعة :**السؤال التاسع : أكمل الشكل التالي بكتابة أشكال المياه السطحية في الطبيعة****السؤال العاشر : أكمل الشكل التالي بكتابة الأشكال التي تخرج بها المياه الجوفية****السؤال الحادي عشر : يتكاثف بخار الماء ويتحول معظمة الى سحب حيث يتساقط على ثلاثة أشكال " اكتبها في الشكل التالي**

السؤال الثاني عشر : أجب عن الأسئلة التالية :

س ١ : اذكر اية قرآنية تدل على اهمية الماء في الحياة ؟

ج ١ :

س ٢ : تحدث باختصار عن دورة المياه في الطبيعة ؟

ج ٢ :

س ٣ : " تختلف المجارى النهرية الدائمة الجريان عن بعضها البعض " ماهي مجالات هذا الاختلاف ؟

ج ٣ :

س ٤ : ماهي مصادر المياه الجوفية في الطبيعة

ج ٤ :

س ٥ : " يمكن التمييز بين ثلاثة انواع من المياه الجوفية حسب دورتها " اذكر هذه المميزات "

ج ٥ :

almanahj.com/lom

(درس : استخدامات المياه والأنشطة المرتبطة بها)

السؤال الأول : ضع علامة (✓) أو (X) أمام العبارة المناسبة مع تصحيح ما تحته خط إذا كانت العبارة خطأ :

- ١- () الزراعة تستهلك أكثر من ثلثي المياه المستهلكة مقارنة مع الاستخدامات المختلفة .
 ٢- () تعد حرفة صيد الأسماك من أقدم الحرف التي عمل بها الإنسان لسد احتياجاته الغذائية .
 ٣- () يعتبر النقل الجوى أرخص وأقل خطورة من النقل البري .

السؤال الثاني : أكمل ما يلي بكلمات مناسبة من عندك :

- ١- عمل الإنسان القديم بالغوص في بحار المحيطات من أجل استخراج و.....
 ٢- من أهم السدود لتوليد الطاقة الكهربائية السد في مصر .
 ٣- ينقسم النقل المائي إلى نوعين النقل والنقل

السؤال الثالث : علل ما يلي " أذكر العيب " :س ١ : توجد في البحار والمحيطات موارد معدنية عديدة لكن استغلالها مازال محدود

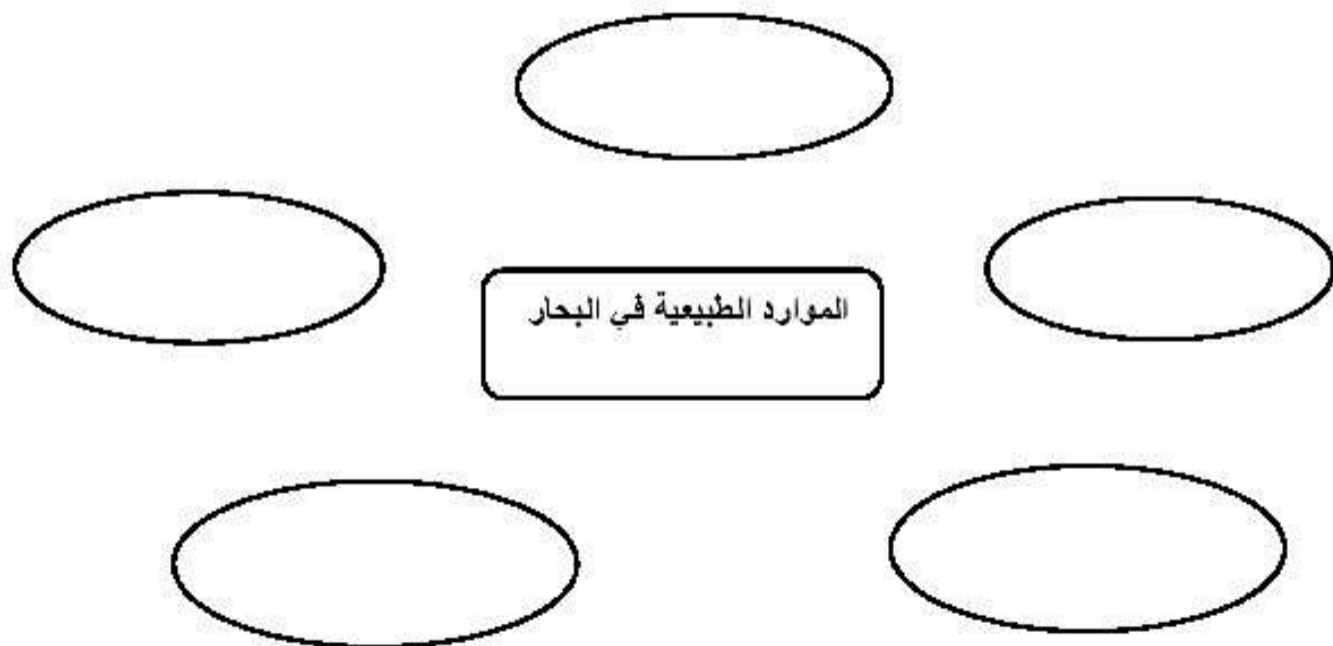
ج ١ :

س ٢ : " يعتبر النقل البحري أفضل وسائل النقل "

ج ٢ :

س ٣ : " يعد النقل البحري أقل خطورة من غيرها "

ج ٣ :

السؤال الرابع : " توجد في البحار والمحيطات موارد معدنية عديدة " اكمل الشكل بكتابة خمسة من هذه المعادن

السؤال الخامس : أجب عن الأسئلة التالية :

س ١ : " استخدم الإنسان المياه في مجالات مختلفة " أذكر أربعة من هذه المجالات ؟

ج ١ :

.....

س ٢ : حرص الإنسان منذ زمن بعيد على توفير المياه اللازمة للزراعة " أذكر ثلاثة من الطرق للحفاظ على المياه ؟

ج ٢ :

س ٣ : " تتركز مياه المحيطات والبحار والأنهار بالكثير من الثروات الطبيعية " أذكر أربعة من هذه الثروات ؟

ج ٣ :

س ٤ : " يعد الماء أحد المكونات الأساسية للصناعة " أذكر اثنان من استخدامات الماء في الصناعة ؟

ج ٤ :

س ٥ : " تستخدم مياه الأنهار حالياً في توليد الطاقة الكهربائية " وضح ذلك ؟

ج ٥ :

almanahj.com/om

(درس : مشكلات المياه)

السؤال الأول : ضع علامة (✓) أو (X) أمام العبارة المناسبة مع تصحيح ما تحته خط إذا كانت العبارة خطأ :

- ١- () يقصد بتلوث المياه دخول مواد غريبة على مكونات الماء .
 ٢- () تتمثل مشكلة تملح المياه بارتفاع منسوب المياه العذبة .
 ٣- () الاستغلال المفرط للمياه الجوفية يؤدي الى انخفاض منسوب المياه العذبة .

السؤال الثاني : ضع دائرة حول الإجابة الصحيحة من بين البدائل المعطاه :

- ١- مياه الأمطار الحمضية تحتوي على نسبة عالية من أكاسيد الكبريت و
 (الهيدروجين - النيتروجين - الهليوم)
 ٢- يعيش حوالي من سكان العالم في مناطق تواجه العجز المائي .
 (ثلث - نصف - ربع)
 ٣- زادت الحاجة للمياه الصالحة للاستعمال البشري في لعالم بمقدار ... منذ بداية القرن العشرين .
 (خمس - ست - سبع)

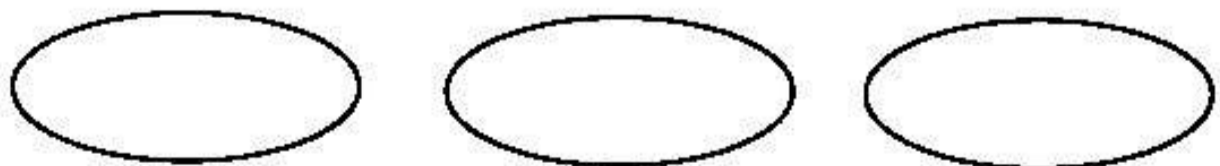
السؤال الثالث : علل ما يلي " أذكر السبب " :

س ١ : زادت الحاجة للمياه الصالحة للاستعمال البشري في العالم بمقدار ١٠ مرات منذ بداية القرن العشرين
 ج ١ :

س ٢ : انخفاض منسوب المياه العذبة في مختلف مناطق العالم .
 ج ٢ :

السؤال الرابع : اكتب امام كل عبارة المصطلح الدال عليه

- ١- () دخول مواد غريبة على مكونات الماء وهو ما يؤدي الى احداث تغيير في لونه او طعمه او رائحته .
 ٢- () زيادة ملوحة المياه بحيث تصبح غير صالحة للاستخدام البشري .

السؤال الخامس : " عندما تدخل على المياه مواد غريبة فإنه يؤدي إلى إحداث تغيير في ... اكمل الشكل

السؤال السادس : تواجه الموارد المائية في العالم الكثير من المشكلات " ... اكمل الشكل بكتابة اهم ثلاثة مشكلات

--	--	--

السؤال السابع : اكمل الشكل بكتابة اربعة من الامراض الناتجة عن تلوث المياه

--	--	--	--

السؤال الثامن : أجب عن الأسئلة التالية :

س ١ : " تتعدد مصادر تلوث المياه " أذكر ثلاثة من هذه المصادر ؟

ج ١ :

.....

.....

س ٢ : ماهي الاسباب التي تؤدي الى حدوث مشكلة استنزاف المياه ؟

ج ٢ :

.....

.....

.....

س ٣ : ماهي الآثار الناجمة عن تلوث المياه ؟

ج ٣ :

.....

س ٤ : ماهي الاسباب التي تؤدي الى مشكلة تملح المياه ؟

ج ٤ :

.....

(درس : موارد المياه في سلطنة عمان)

السؤال الأول : ضع علامة (✓) أو (X) أمام العبارة المناسبة مع تصحيح ما تحته خط إذا كانت العبارة خطأ :

- ١- () الآبار التي يقوم الإنسان بحفرها يدوياً أو بطريقة آليه تسمى الآبار الارتوازية .
- ٢- () يعتبر فلج عين الكسفة وفلج عين ارزات من نوع الفلج العيني .
- ٣- () من فوائد إنشاء السدود أنها تعمل على زيادة مخزون المياه الجوفية .
- ٤- () يطلق على البئر التي يقوم بحفرها الإنسان يدوياً أو بطريقة آلية محلياً اسم الفلج .

السؤال الثاني : ضع دائرة حول الإجابة الصحيحة من بين البدائل المعطاه :

- ١- تعد سلطنة عمان من المناطق الذي يتميز بقلّة الأمطار .
(الجافه - الباردة - المعتدلة)
- ٢- يبلغ عدد الأفلاج في عمان حوالي .
(٣١١٢ - ٤١١٢ - ٥١١٢)
- ٣- تعد محطة المياه بالغبرة أقدم محطة بالسلطنة وافتتحت رسمياً عام ...
(١٩٧٤ - ١٩٧٥ - ١٩٧٦)
- ٤- مياه العيون والينابيع التي تخرج من سفوح الجبال تسمى بـ...
(غيلي - عيني - دواودي)
- ٥- أنشأت الحكومة الرشيدة عدد محطة تحلية للمياه المالحة الجوفية والبحرية موزعة على محافظات السلطنة .
(٣٢ - ٣٣ - ٣٤)

السؤال الثالث : أكمل ما يلي بكلمات مناسبة من عندك :

- ١- تنقسم المياه الجوفية في السلطنة إلى قسمين مياه جوفية ومياه جوفية
- ٢- تنقسم الآبار في سلطنة عمان إلى قسمين هما الآبار والآبار
- ٣- تعمل الحكومة الرشيدة على تعويض الكميات المستنزفة من المياه من خلال مياه البحر .

السؤال الرابع : اكتب امام العبارات التالية المصطلح الدال عليها

- ١- () المياه التي تجري في مجاري الاودية عقب سقوط الامطار او بسبب تدفق المياه الجوفية في هذه المجاري .
- ٢- () المياه المخزنة في باطن الارض بين مسام الصخر وطبقاته .

السؤال الخامس : اكمل مايلي بكتابة موقع الاودية التالية :

- ١- وادي المعيدن في
- ٢- وادي ضيقة في
- ٣- وادي العوقين في

السؤال السادس : اختر المصطلح المناسب من بين القوسين وضعه أمام التعريف المناسب له .

(المياه السطحية - المياه الجوفية - الفلج - السدود)

التعريف	المصطلح
انشاءات هندسية لتخزين المياه وتقام في مجاري الاودية	
المياه التي تجري في مجاري الاودية عقب سقوط الامطار او بسبب تدفق المياه الجوفية في هذه المجاري	
قناة اصطناعية تنشق في باطن الارض بين المنطقة الحاملة للمياه عند سفوح الجبال او المناطق المرتفعة وبين المناطق المعهورة او المأهولة بالسكان	
المياه المخزنة في باطن الارض بين مسام الصخر وطبقاته	

السؤال السابع : صل بخط بين السد في العمود الأول وضعه في العمود الثاني :

نوعه	السد
سدود لحماية من الفيضانات	سد وادي تنوف وسد وادي الحواصة
سدود لتغذية الجوفية	سدود الجبل الأخضر
سدود التخزين	سد وادي الجزى وسد وادي الفليج

السؤال الثامن : اكتب ما تعرفه عن

الافلاج الميتة	الافلاج الحية	المياه الجوفية العميقة	المياه الجوفية السطحية

السؤال التاسع: اكتب اسم الفلج تحت الصورة المناسبة له من بين القوسين

(فلج عيني - فلج داودي - فلج غيلي)

**السؤال العاشر : " يعتبر ساحل الباطنة من الأمثلة على تملح المياه في السلطنة " أكمل الجدول التالي :**

الأعمال	مجال المقارنة
	أسبابها (أذكر سببين فقط)
	مظاهرها (أذكر مظهرين فقط)
	نتائجها (أذكر نتيجتين فقط)
	دور الحكومة في المعالجة (أذكر عمليين فقط)

السؤال الحادي عشر : أجب عن الأسئلة التالية :

س ١- ماهي الطرق التي تستخدمها سلطنة عمان في استغلال المياه السطحية ؟

ج ١ :

س ٢- تحدث عن المشاريع التي وضعتها الحكومة الرشيدة لاستغلال المياه الجوفية العميقة ؟

ج ٢ :

س ٣ - ماهي انواع السدود الموجودة في سلطنة عمان ؟ مع ذكر أمثلة عليها

ج ٣ :

س ٤ :- ماهي انواع الابار الموجودة في سلطنة عمان ؟ أذكرها مع الشرح الموجز ؟

ج ٤ :

س ٥ : " تتمثل مشكلات الموارد المائية في سلطنة عمان في مشكلتين " ماهما ؟

ج ٥ :

س ٦ : ماهي اسباب استنزاف المياه في سلطنة عمان ؟ اذكر ثلاثة منها

ج ٦ : ١ -

٢ -

٣ -

س ٧ : ماهو دور الحكومة في معالجة مشكلات الموارد المائية في سلطنة عمان ؟

ج ٧ :

س ٨ : : ماهي التدابير التي استخدمتها الحكومة في ترشيد استهلاك المياه في السلطنة ؟ اذكر ثلاثة منها

١ -

٢ -

٣ -