

شكراً لتحميلك هذا الملف من موقع المناهج العمانية



الاختبار النهائي الرسمي في محافظة الظاهرة

[موقع المناهج](#) ← [المناهج العمانية](#) ← [الصف الثامن](#) ← [اجتماعيات](#) ← [الفصل الثاني](#) ← [الملف](#)

تاريخ نشر الملف على موقع المناهج: 08:13:07 2023-05-16

التواصل الاجتماعي بحسب الصف الثامن



روابط مواد الصف الثامن على تلغرام

[الرياضيات](#)

[اللغة الانجليزية](#)

[اللغة العربية](#)

[التربية الاسلامية](#)

المزيد من الملفات بحسب الصف الثامن والمادة اجتماعيات في الفصل الثاني

نموذج إجابة الاختبار النهائي الرسمي في محافظة مسقط	1
الاختبار النهائي الرسمي في محافظة مسقط	2
الامتحان الرسمي النهائي لمحافظة الداخلية	3
الاختبار النهائي الرسمي في محافظة الظاهرة	4
الامتحان النهائي الرسمي الفترة الصباحية بمحافظة جنوب الباطنة	5

تابع امتحان الصف الثامن - المادة: الدراسات الاجتماعية - الفصل الدراسي الثاني
الدور: الأول - للعام الدراسي ١٤٤٤ هـ - ٢٠٢٢ / ٢٠٢٣ م

جامع البياضة
(بناه البعدي في القرن ١٢ هـ / ١٢ م)
AL-BAYADAH MOSQUE
BUILT BY AL-YAHMAD IN THE
12th CENTURY AD.

تابع السؤال الأول:
٨- المحافظة العُمانية التي يقع فيها الجامع المشار إليه في البطاقة التعريفية المقابلة:

أ- مسقط.

ب- ظفار.

ج- جنوب الباطنة.

د- شمال الباطنة.

٩- المسطح المائي الذي يطل عليه ميناء السلطان قابوس:

أ- بحر العرب.

ب- الخليج العربي.

ج- بحر عُمان.

د- البحر الأحمر.

١٠- القلعة العُمانية التي سميت بالشهباء:

أ- نزوى.

ب- الرستاق.

ج- مطرح.

د- صحار.

١١- الرقم الذي يشير الى الدولة التي كانت وجهة السفينة العُمانية "صحار" عام ١٩٨٠ م في الخريطة أمامك:




أ- (١)

ب- (٢)

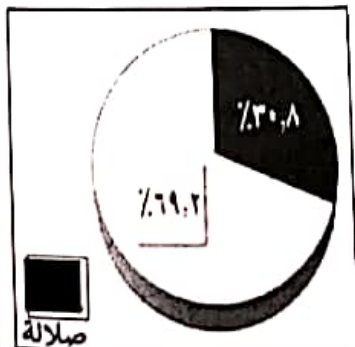
ج- (٣)

د- (٤)


١- الشكل البياني الذي يعبر عن نسبة سكان ولاية صلالة من النسبة العامة لسكان محافظة ظفار عام ٢٠١٠ م:



د



ج



ب

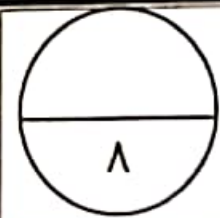


أ

يتبع/٤

السؤال الثاني:

أولاً: ١- اكتب اسم المفهوم أو المصطلح المناسب امام العبارات الآتية:



م	العبارة	المفهوم أو المصطلح
أ	إنشاءات هندسية لتخزين المياه، تقام في مجاري الأودية والأنهار.	
ب	مساحات واسعة من الأرض يغطيها الجليد الصلب.	

٢- بم تعلق ثبات حجم المياه في الكرة الأرضية بكمية تقدر حوالي (٢٠٠٠) مليون كم^٣.

ثانياً: ١- (تعد بريطانيا من أوائل الدول الأوروبية التي نجحت في إحداث تقدم واسع بالمجال الزراعي في القرن الثامن عشر الميلادي)، برهن على صحة هذه العبارة.

٢- اكتب اسم الدولة الأوروبية مقابل كل منجز حضاري في الجدول الآتي:

م	المنجز الحضاري	الدولة
أ	"اثبتوا أن الأرض كروية الشكل بعد ثلاث سنوات من رحلتهم البحرية".
ب	"اكتشفوا نهر "سانت لويس" في كندا".

ثالثاً:

١- ما القرن الميلادي الذي بني فيه "المسجد الجامع" بولاية نزوى؟

٢- اذكر اسم بيت من البيوت الأثرية في مدينة مسقط.

تابع امتحان الصف الثامن - المادة: الدراسات الاجتماعية - الفصل الدراسي الثاني
الدور: الأول - للعام الدراسي ١٤٤٤ هـ - ٢٠٢٢ / ٢٠٢٣ م

جامع البياضة
(بناه البعدي في القرن ١٢ هـ / ١٢ م)
AL-BAYADAH MOSQUE
BUILT BY AL-YAHMAD IN THE
12th CENTURY AD.

تابع السؤال الأول:
٨- المحافظة العُمانية التي يقع فيها الجامع المشار إليه في البطاقة التعريفية المقابلة:

أ- مسقط.

ب- ظفار.

ج- جنوب الباطنة.

د- شمال الباطنة.

٩- المسطح المائي الذي يطل عليه ميناء السلطان قابوس:

أ- بحر العرب.

ب- الخليج العربي.

ج- بحر عُمان.

د- البحر الأحمر.

١٠- القلعة العُمانية التي سميت بالشهباء:

أ- نزوى.

ب- الرستاق.

ج- مطرح.

د- صحار.

١١- الرقم الذي يشير الى الدولة التي كانت وجهة السفينة العُمانية "صحار" عام ١٩٨٠ م في الخريطة أمامك:




أ- (١)

ب- (٢)

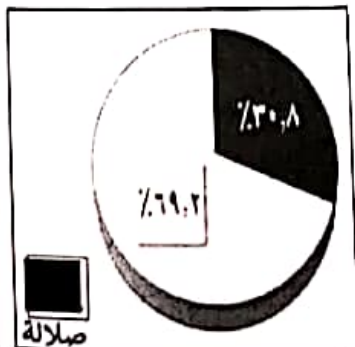
ج- (٣)

د- (٤)


١- الشكل البياني الذي يعبر عن نسبة سكان ولاية صلالة من النسبة العامة لسكان محافظة ظفار عام ٢٠١٠ م:




د



ج



ب



أ

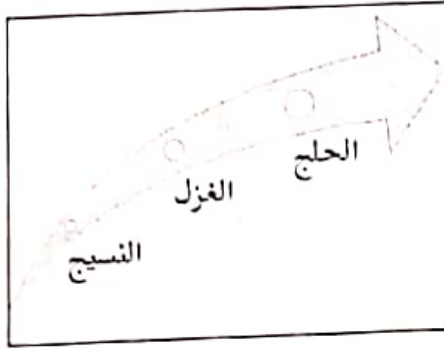
يتبع/٤

(٢)

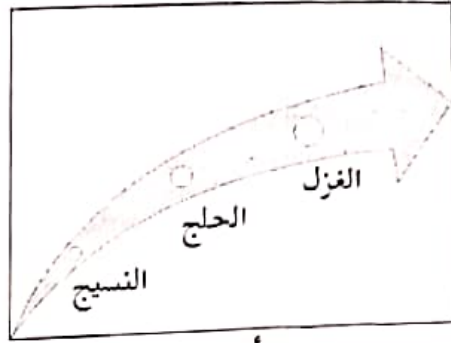
تابع امتحان الصف الثامن - المادة: الدراسات الاجتماعية - الفصل الدراسي الثاني
الدور: الأول - للعام الدراسي ١٤٤٤ هـ - ٢٠٢٢ / ٢٠٢٣ م

تابع السؤال الأول:

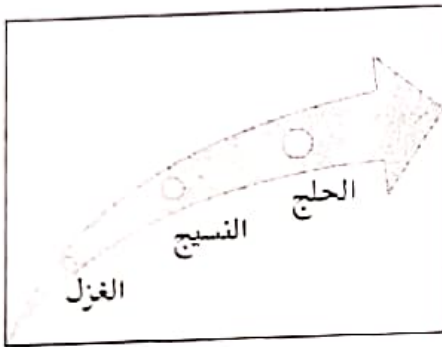
٥- المخطط الذي يمثل الترتيب الصحيح لمراحل صناعة المنسوجات القطنية:



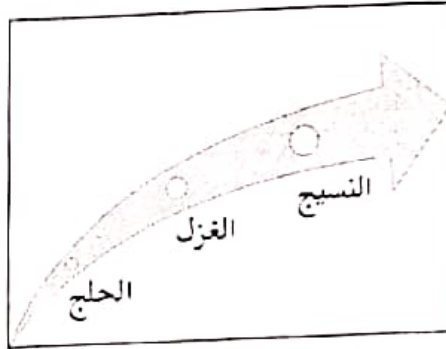
ب



أ

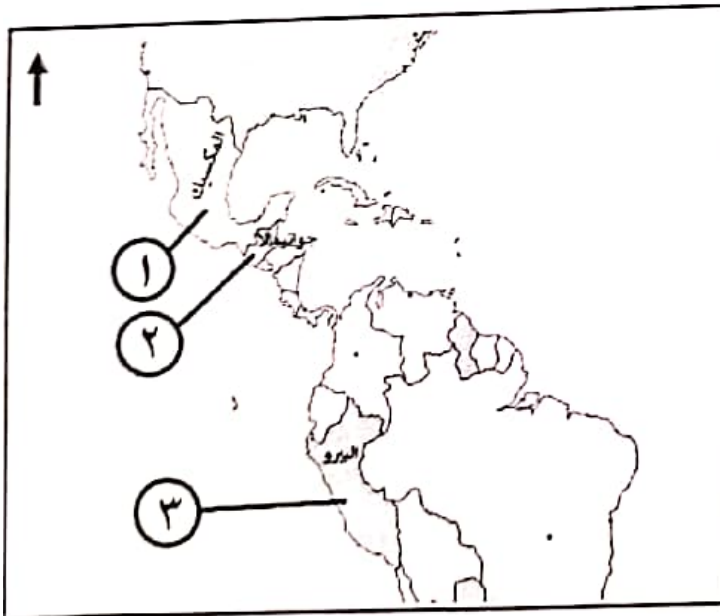


د



ج

٦- الجدول الذي يمثل التوزيع الجغرافي الصحيح لمواقع الحضارات القديمة في الخريطة أمامك:



اسم الحضارة	الأزتک	الإنکا	المايا
رقم الموقع على الخريطة	١	٢	٣

أ

اسم الحضارة	الأزتک	الإنکا	المايا
رقم الموقع على الخريطة	٢	٣	١

ب

اسم الحضارة	الأزتک	الإنکا	المايا
رقم الموقع على الخريطة	٣	١	٢

ج

اسم الحضارة	الأزتک	الإنکا	المايا
رقم الموقع على الخريطة	١	٣	٢

د

٧- العالم المسلم الذي ألف كتاب القانون في الطب:

د- ابن سينا.

ج- الزهراوي.

ب- ابن رشد.

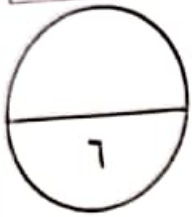
أ- الرازي.

تابع السؤال الثالث:
ثالثاً: كيف أسهمت الآلة في الشكل المقابل على ازدهار الملاحة البحرية اثناء الاكتشافات الجغرافية الأوروبية؟



السؤال الرابع:

أولاً: "لقد هيا الموقع الجغرافي لمدينة مسقط عبر التاريخ توصلًا مع ثلاثة أقاليم مهمة، فتأثرت بالنشاط الحضاري الذي كان سائداً في تلك الأقاليم"، في ضوء العبارة اجب عن الأسئلة الآتية.

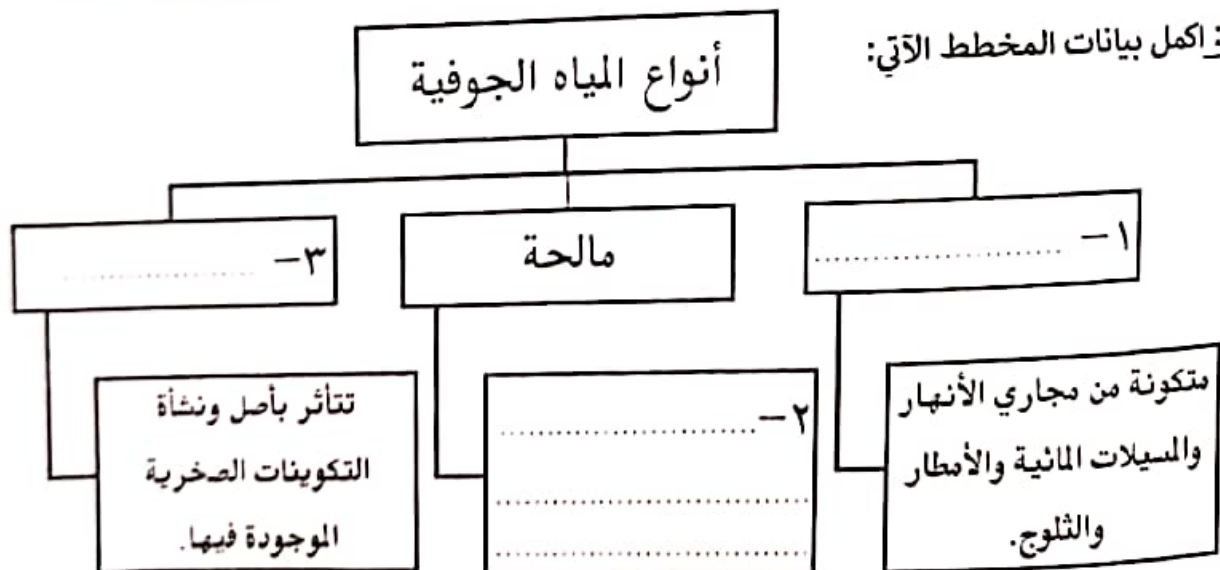


١- ما الجهة الجغرافية التي تقع فيها مدينة مسقط بالنسبة لبحر عُمان؟

٢- اذكر اثنين من الأقاليم التي توصلت معها مدينة مسقط عبر تاريخها.

٣- ما النتيجة المترتبة على مسقط من توصلها الحضاري مع الأقاليم الأخرى؟

ثانياً: اكمل بيانات المخطط الآتي:

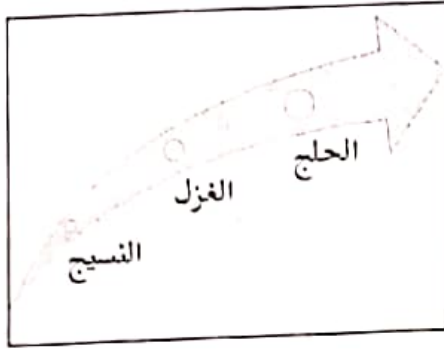


(٢)

تابع امتحان الصف الثامن - المادة: الدراسات الاجتماعية - الفصل الدراسي الثاني
الدور: الأول - للعام الدراسي ١٤٤٤ هـ - ٢٠٢٢ / ٢٠٢٣ م

تابع السؤال الأول:

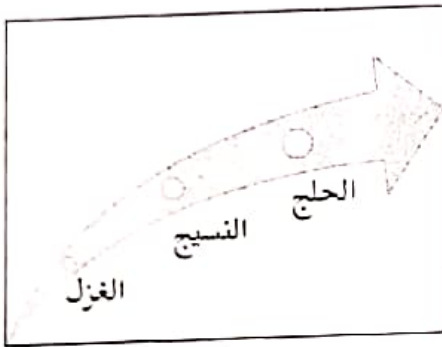
٥- المخطط الذي يمثل الترتيب الصحيح لمراحل صناعة المنسوجات القطنية:



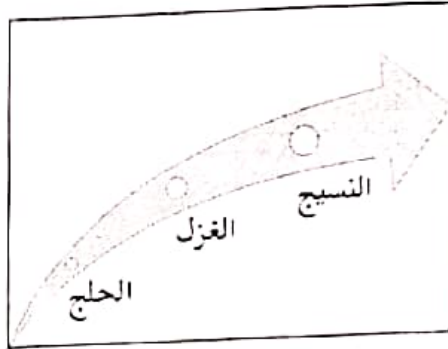
ب



أ

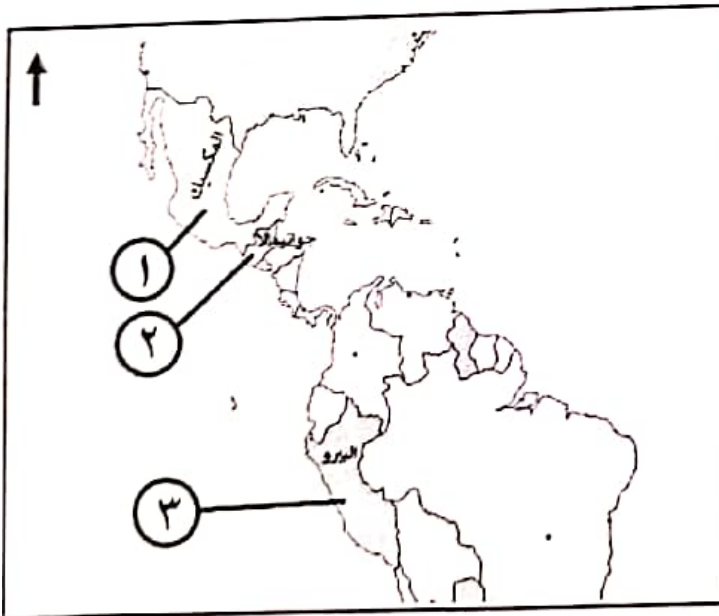


د



ج

٦- الجدول الذي يمثل التوزيع الجغرافي الصحيح لمواقع الحضارات القديمة في الخريطة أمامك:



اسم الحضارة	الأزتك	الإنكا	المايا
رقم الموقع على الخريطة	١	٢	٣

أ

اسم الحضارة	الأزتك	الإنكا	المايا
رقم الموقع على الخريطة	٢	٣	١

ب

اسم الحضارة	الأزتك	الإنكا	المايا
رقم الموقع على الخريطة	٣	١	٢

ج

اسم الحضارة	الأزتك	الإنكا	المايا
رقم الموقع على الخريطة	١	٣	٢

د

٧- العالم المسلم الذي ألف كتاب القانون في الطب:

د- ابن سينا.

ج- الزهراوي.

ب- ابن رشد.

أ- الرازي.

تابع امتحان الصف الثامن - المادة: الدراسات الاجتماعية - الفصل الدراسي الثاني
الدور: الأول - للعام الدراسي ١٤٤٤ هـ - ٢٠٢٢ / ٢٠٢٣ م

جامع البياضة
(بناه البعدي في القرن ١٢ هـ / ١٢ م)
AL-BAYADAH MOSQUE
BUILT BY AL-YAHMAD IN THE
12th CENTURY AD.

تابع السؤال الأول:
٨- المحافظة العُمانية التي يقع فيها الجامع المشار إليه في البطاقة التعريفية المقابلة:

أ- مسقط.

ب- ظفار.

ج- جنوب الباطنة.

د- شمال الباطنة.

٩- المسطح المائي الذي يطل عليه ميناء السلطان قابوس:

أ- بحر العرب.

ب- الخليج العربي.

ج- بحر عُمان.

د- البحر الأحمر.

١٠- القلعة العُمانية التي سميت بالشهباء:

أ- نزوى.

ب- الرستاق.

ج- مطرح.

د- صحار.

١١- الرقم الذي يشير الى الدولة التي كانت وجهة السفينة العُمانية "صحار" عام ١٩٨٠ م في الخريطة أمامك:




أ- (١)

ب- (٢)

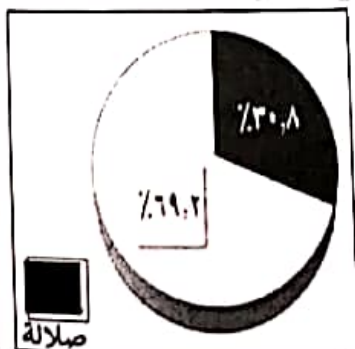
ج- (٣)

د- (٤)

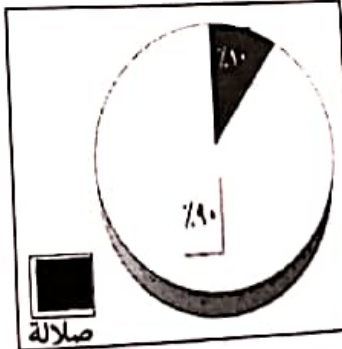
١- الشكل البياني الذي يعبر عن نسبة سكان ولاية صلالة من النسبة العامة لسكان محافظة ظفار عام ٢٠١٠ م:



د



ج



ب



أ

يتبع/٤


أجب عن جميع الأسئلة الآتية

١٢

السؤال الأول: ضع دائرة حول رمز الإجابة الصحيحة لكل مفردة من المفردات الآتية:

١- أكثر أنواع الأفلاج انتشارا في سلطنة عُمان:

- أ- الغدية. ب- العينية. ج- الغيلية. د- الداودية.



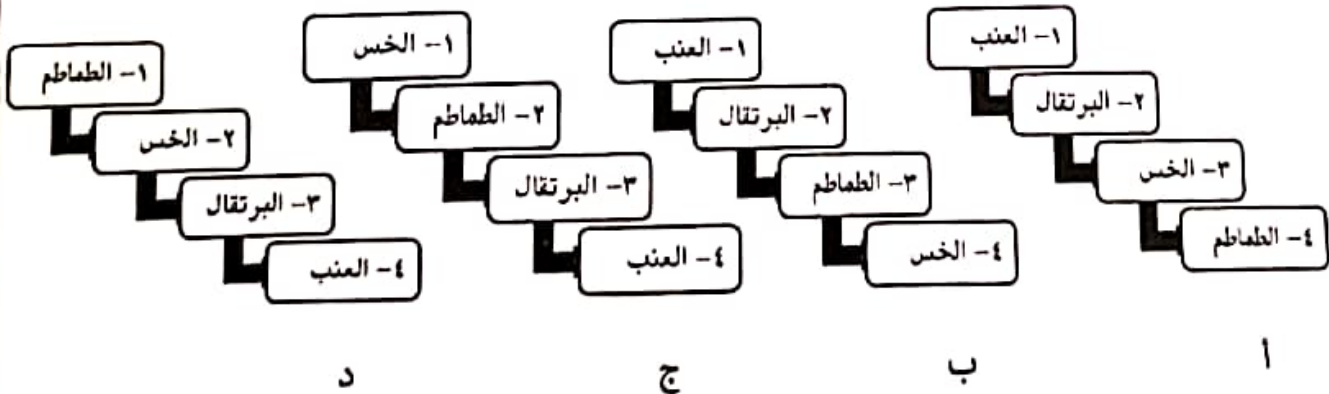
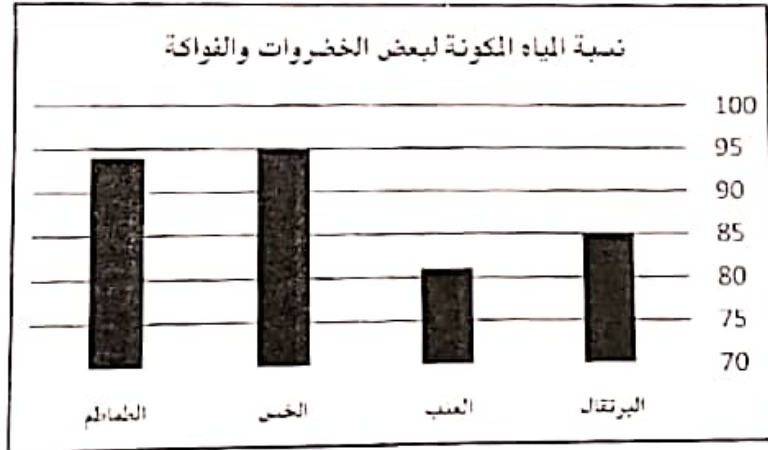
٢- المصطلح العلمي الذي تعبر عنه الصورة المقابلة:

- أ- الأسمدة الكيماوية. ب- المبيدات الحشرية.
ج- الأمطار الحمضية. د- المياه العادمة.

٣- النشاط البشري الأكثر إستهلاكا للمياه:

- أ- المنزلي. ب- الصناعي. ج- التجاري. د- الزراعي.

٤- الشكل الذي يمثل الترتيب الصحيح لنسبة المياه المكونة لبعض الأغذية في المخطط البياني أمامك:



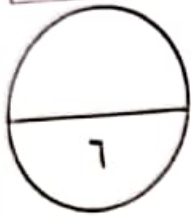
تابع السؤال الثالث:

ثالثاً: كيف أسهمت الآلة في الشكل المقابل على ازدهار الملاحة البحرية اثناء الاكتشافات الجغرافية الأوروبية؟



السؤال الرابع:

أولاً: "لقد هيا الموقع الجغرافي لمدينة مسقط عبر التاريخ توصلًا مع ثلاثة أقاليم مهمة، فتأثرت بالنشاط الحضاري الذي كان سائداً في تلك الأقاليم"، في ضوء العبارة اجب عن الأسئلة الآتية.

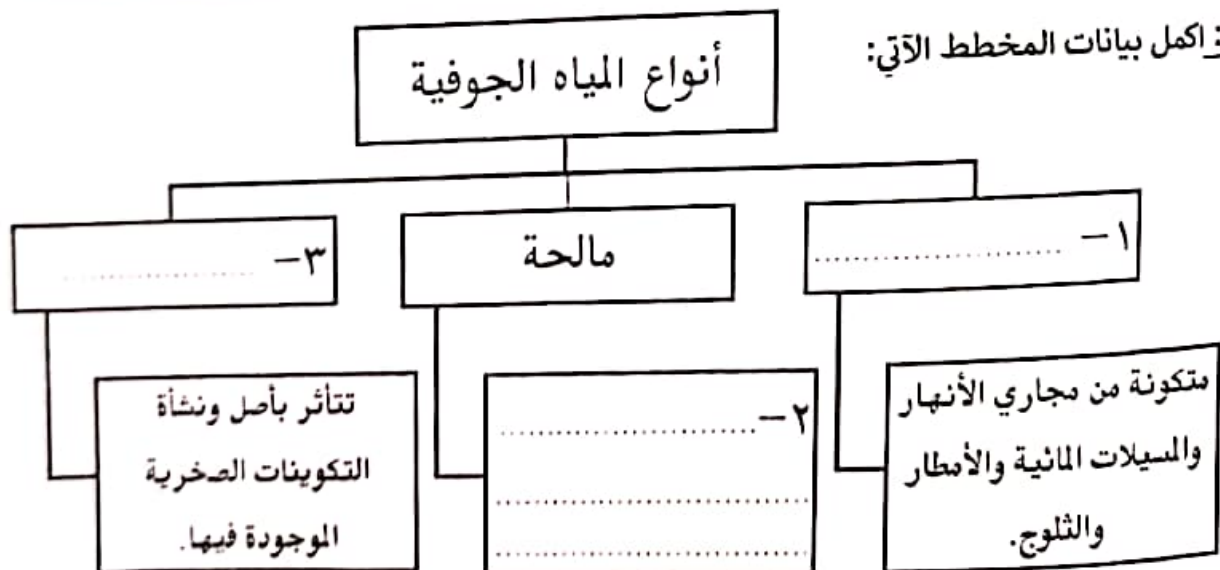


١- ما الجهة الجغرافية التي تقع فيها مدينة مسقط بالنسبة لبحر عُمان؟

٢- اذكر اثنين من الأقاليم التي توصلت معها مدينة مسقط عبر تاريخها.

٣- ما النتيجة المترتبة على مسقط من توصلها الحضاري مع الأقاليم الأخرى؟

ثانياً: اكمل بيانات المخطط الآتي:



السؤال الخامس:

أولاً: اذكر سببا واحدا لكل من:

١- كثرة القلاع والحصون والأبراج في المدن العُمانية.

٢- فوز سوق نزوى المركزي بجائزة المدن العربية.

٣- انخفاض درجة الحرارة عن معدلها السنوي في مدينة صلالة صيفا.

ثانياً: رتب الأحداث التاريخية الآتية بكتابة الأرقام (١ ، ٢ ، ٣) حسب تسلسلها من الأقدم إلى الأحدث:

(.....) اختراع المحرك البخاري.

(.....) اختراع المغزل الآلي.

(.....) صنع أول آلة طباعة تعمل باليد.

انتهت الأسئلة مع الدعاء للجميع بالتوفيق والنجاح.


أجب عن جميع الأسئلة الآتية

١٢

السؤال الأول: ضع دائرة حول رمز الإجابة الصحيحة لكل مفردة من المفردات الآتية:

١- أكثر أنواع الأفلاج انتشارا في سلطنة عُمان:

- أ- الغدية. ب- العينية. ج- الغيلية. د- الداودية.



٢- المصطلح العلمي الذي تعبر عنه الصورة المقابلة:

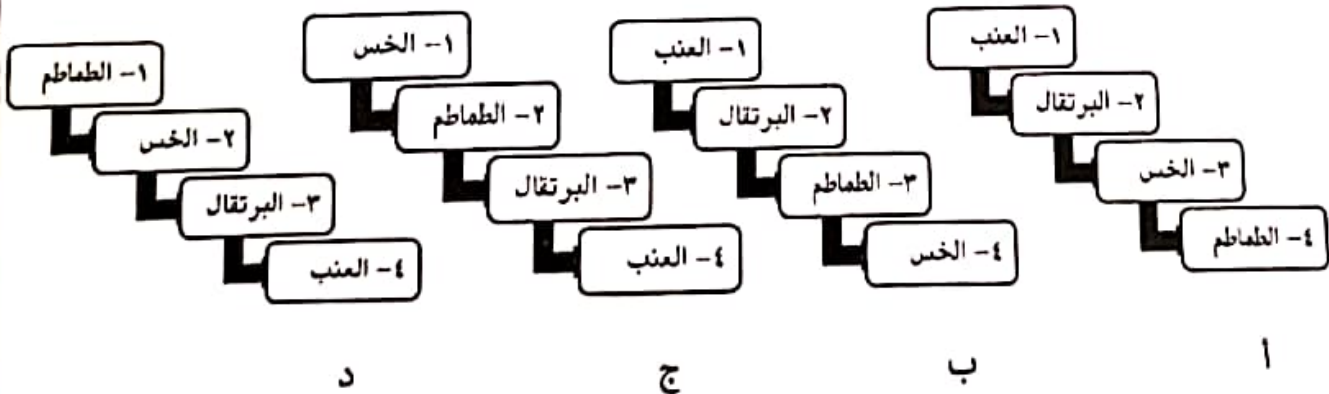
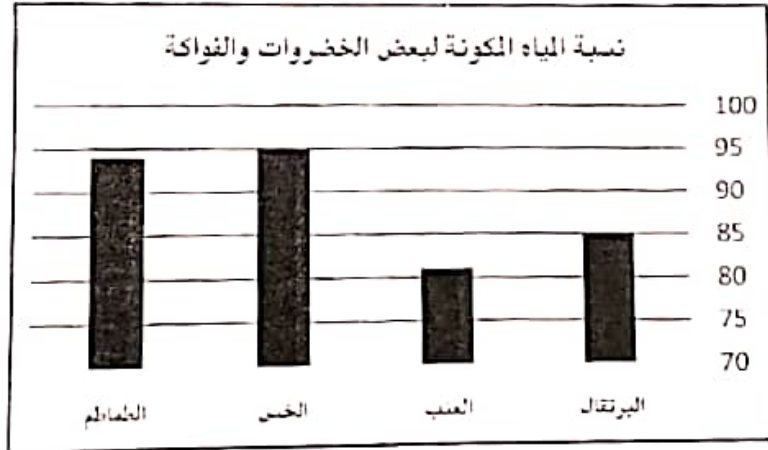
أ- الأسمدة الكيماوية. ب- المبيدات الحشرية.

ج- الأمطار الحمضية. د- المياه العادمة.

٣- النشاط البشري الأكثر إستهلاكا للمياه:

- أ- المنزلي. ب- الصناعي. ج- التجاري. د- الزراعي.

٤- الشكل الذي يمثل الترتيب الصحيح لنسبة المياه المكونة لبعض الأغذية في المخطط البياني أمامك:



السؤال الخامس:

أولاً: اذكر سببا واحدا لكل من:

١- كثرة القلاع والحصون والأبراج في المدن العُمانية.

٢- فوز سوق نزوى المركزي بجائزة المدن العربية.

٣- انخفاض درجة الحرارة عن معدلها السنوي في مدينة صلالة صيفا.

ثانياً: رتب الأحداث التاريخية الآتية بكتابة الأرقام (١ ، ٢ ، ٣) حسب تسلسلها من الأقدم إلى الأحدث:

(.....) اختراع المحرك البخاري.

(.....) اختراع المغزل الآلي.

(.....) صنع أول آلة طباعة تعمل باليد.


انتهت الأسئلة مع الدعاء للجميع بالتوفيق والنجاح.

(٢)

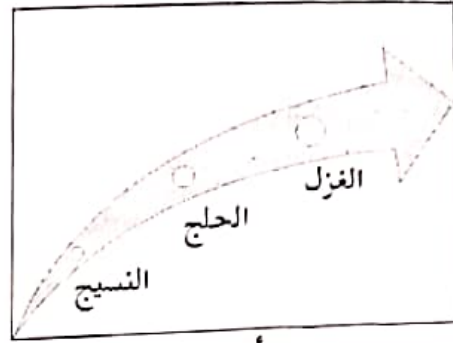
تابع امتحان الصف الثامن - المادة: الدراسات الاجتماعية - الفصل الدراسي الثاني
الدور: الأول - للعام الدراسي ١٤٤٤ هـ - ٢٠٢٢ / ٢٠٢٣ م

تابع السؤال الأول:

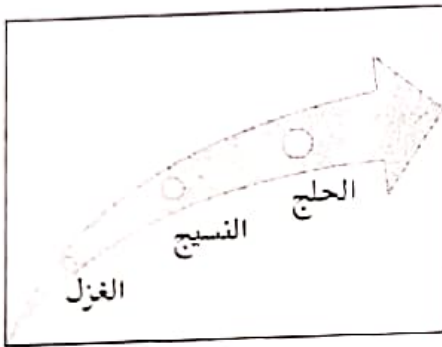
٥- المخطط الذي يمثل الترتيب الصحيح لمراحل صناعة المنسوجات القطنية:



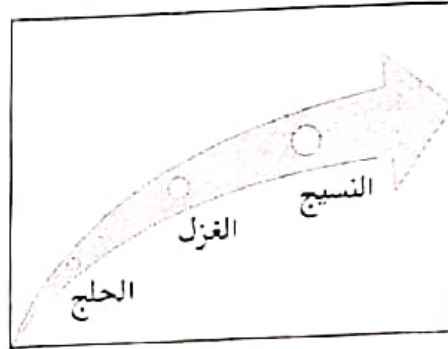
ب



أ

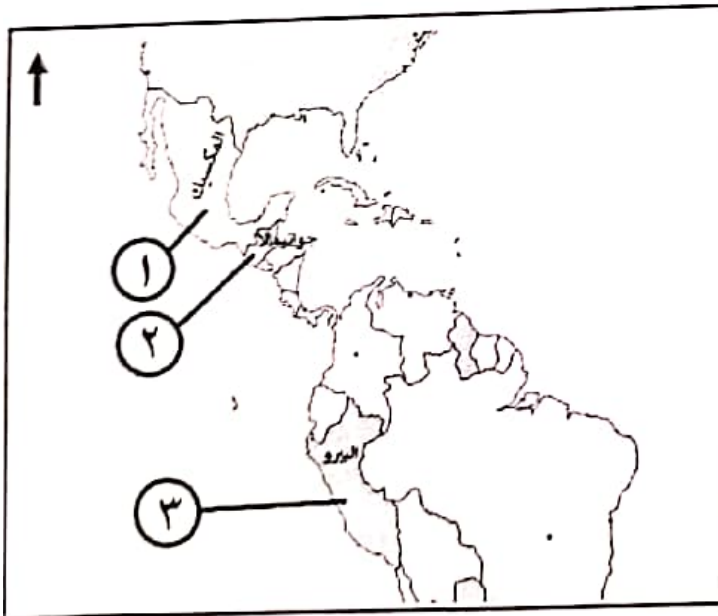


د



ج

٦- الجدول الذي يمثل التوزيع الجغرافي الصحيح لمواقع الحضارات القديمة في الخريطة أمامك:



اسم الحضارة	الأزتک	الإنکا	المايا
رقم الموقع على الخريطة	١	٢	٣

أ

اسم الحضارة	الأزتک	الإنکا	المايا
رقم الموقع على الخريطة	٢	٣	١

ب

اسم الحضارة	الأزتک	الإنکا	المايا
رقم الموقع على الخريطة	٣	١	٢

ج

اسم الحضارة	الأزتک	الإنکا	المايا
رقم الموقع على الخريطة	١	٣	٢

د

٧- العالم المسلم الذي ألف كتاب القانون في الطب:

د- ابن سينا.

ج- الزهراوي.

ب- ابن رشد.

أ- الرازي.

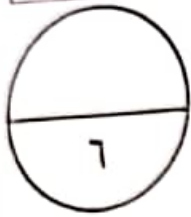
تابع السؤال الثالث:

ثالثاً: كيف أسهمت الآلة في الشكل المقابل على ازدهار الملاحة البحرية اثناء الاكتشافات الجغرافية الأوروبية؟



السؤال الرابع:

أولاً: "لقد هيا الموقع الجغرافي لمدينة مسقط عبر التاريخ توصلًا مع ثلاثة أقاليم مهمة، فتأثرت بالنشاط الحضاري الذي كان سائداً في تلك الأقاليم"، في ضوء العبارة اجب عن الأسئلة الآتية.

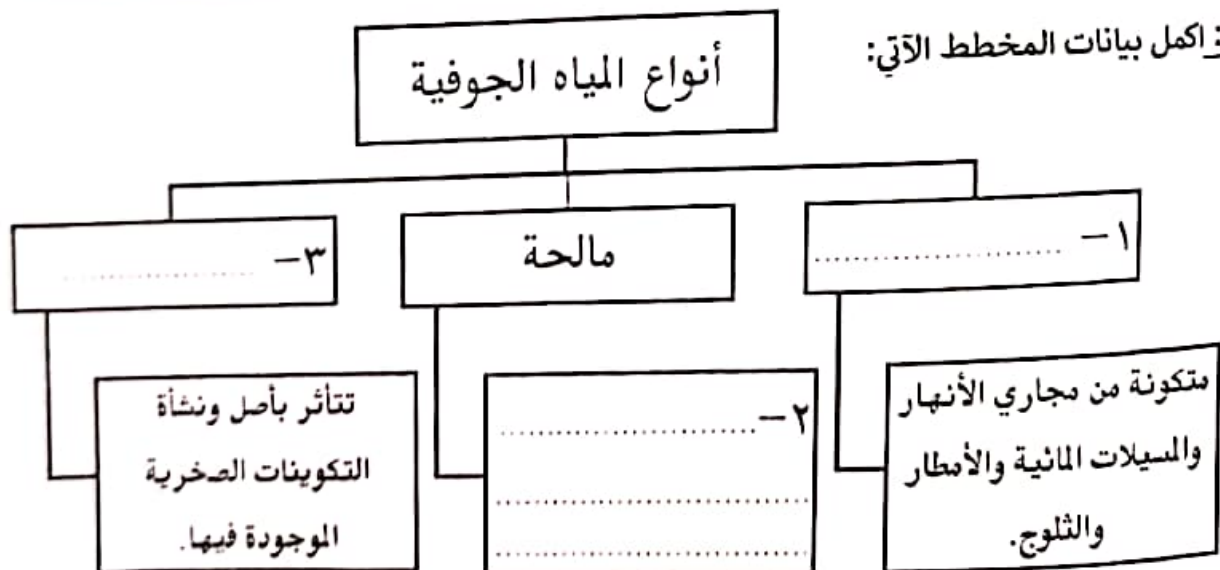


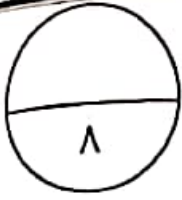
١- ما الجهة الجغرافية التي تقع فيها مدينة مسقط بالنسبة لبحر عُمان؟

٢- اذكر اثنين من الأقاليم التي توصلت معها مدينة مسقط عبر تاريخها.

٣- ما النتيجة المترتبة على مسقط من توصلها الحضاري مع الأقاليم الأخرى؟

ثانياً: اكمل بيانات المخطط الآتي:





السؤال الثالث:

أولاً: ادرس الصورة التي أمامك، ثم أجب عن الأسئلة الآتية:



١- سمِّ المَعْلَم التاريخي.

٢- ما اسم الإمام العُماني الذي بناه؟

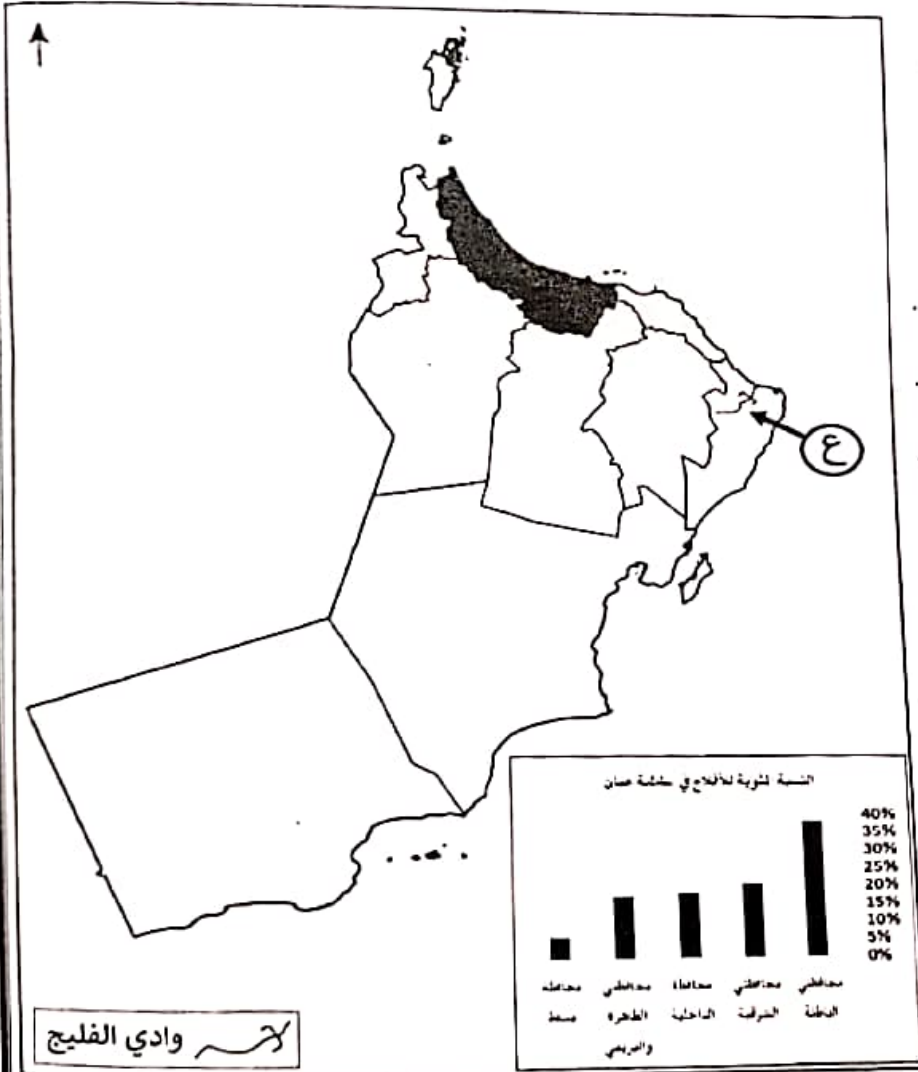
٣- ما الولاية العُمانية التي يقع فيها؟

ثانياً: ادرس خريطة سلطنة عُمان
إدارية ثم أجب عن الأسئلة الآتية:

١- استنتج الهدف من بناء السد
المائي المشار إليها بالرمز (ع).

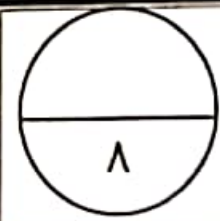
٢- ما المشكلة البيئية الظاهرة في
ساحل المحافظتين المظللتين
بالخريطة؟

٣- ظلل المحافظة الأقل من حيث
نسبة الأقلاج وفق معطيات الرسم
لبياني المرفق بالخريطة.



السؤال الثاني:

أولاً: ١- اكتب اسم المفهوم أو المصطلح المناسب امام العبارات الآتية:



م	العبارة	المفهوم أو المصطلح
أ	إنشاءات هندسية لتخزين المياه، تقام في مجاري الأودية والأنهار.	
ب	مساحات واسعة من الأرض يغطيها الجليد الصلب.	

٢- بم تعلق ثبات حجم المياه في الكرة الأرضية بكمية تقدر حوالي (٢٠٠٠) مليون كم^٣.

ثانياً: ١- (تعد بريطانيا من أوائل الدول الأوروبية التي نجحت في إحداث تقدم واسع بالمجال الزراعي في القرن الثامن عشر الميلادي)، برهن على صحة هذه العبارة.

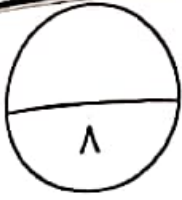
٢- اكتب اسم الدولة الأوروبية مقابل كل منجز حضاري في الجدول الآتي:

م	المنجز الحضاري	الدولة
أ	"اثبتوا أن الأرض كروية الشكل بعد ثلاث سنوات من رحلتهم البحرية".
ب	"اكتشفوا نهر "سانت لويس" في كندا".

ثالثاً:

١- ما القرن الميلادي الذي بني فيه "المسجد الجامع" بولاية نزوى؟

٢- اذكر اسم بيت من البيوت الأثرية في مدينة مسقط.



السؤال الثالث:

أولاً: ادرس الصورة التي أمامك، ثم أجب عن الأسئلة الآتية:



١- سمِّ المَعْلَم التاريخي.

٢- ما اسم الإمام العُماني الذي بناه؟

٣- ما الولاية العُمانية التي يقع فيها؟

ثانياً: ادرس خريطة سلطنة عُمان
إدارية ثم أجب عن الأسئلة الآتية:

١- استنتج الهدف من بناء السد
المائي المشار إليها بالرمز (ع).

٢- ما المشكلة البيئية الظاهرة في
ساحل المحافظتين المظللتين
بالخريطة؟

٣- ظلل المحافظة الأقل من حيث
نسبة الأقلاج وفق معطيات الرسم
لبياني المرفق بالخريطة.

