

تم تحميل هذا الملف من موقع المناهج العُمانية



*للحصول على أوراق عمل لجميع الصفوف وجميع المواد اضغط هنا

<https://almanahj.com/om>

* للحصول على أوراق عمل لجميع مواد الصف الثامن اضغط هنا

<https://almanahj.com/om/8>

* للحصول على جميع أوراق الصف الثامن في مادة علوم ولجميع الفصول, اضغط هنا

<https://almanahj.com/om/8science>

* للحصول على أوراق عمل لجميع مواد الصف الثامن في مادة علوم الخاصة بـ الفصل الأول اضغط هنا

<https://almanahj.com/om/8science1>

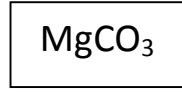
* لتحميل كتب جميع المواد في جميع الفصول للـ الصف الثامن اضغط هنا

<https://almanahj.com/om/grade8>

للتحدث إلى بوت على تلغرام: اضغط هنا

https://t.me/omcourse_bot

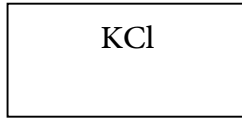
1- صل بخط بين اسم المركب الكيميائي (من العمود الأيمن) مع الصيغ الكيميائية المناسبة لها (في العمود الأيسر) :
(2)



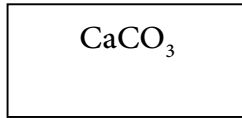
هيدروكسيد الألمونيوم



كلوريد البوتاسيوم



كربونات الماغنسيوم



نموذج الإجابة :

رقم السؤال	الإجابة	الدرجة	معلومات أخرى	رقم الهدف	مستوى التعلم	الموضوع	الوحدة						
1	<table border="1"> <tr> <td>هيدروكسيد الألمونيوم</td> <td>$Al(OH)_3$</td> </tr> <tr> <td>كلوريد البوتاسيوم</td> <td>KCl</td> </tr> <tr> <td>كربونات الماغنسيوم</td> <td>$MgCO_3$</td> </tr> </table>	هيدروكسيد الألمونيوم	$Al(OH)_3$	كلوريد البوتاسيوم	KCl	كربونات الماغنسيوم	$MgCO_3$	2	<p>– يعطى الطالب درجتين إذا اجاب على الجميع</p> <p>– يعطى الطالب درجة إذا اجاب 2 صحيحات</p> <p>– لا يعطى الدرجة إذا كانت اجابة واحدة فقط صحيحة</p>	8Cp7	تطبيق	(8-2) الصيغ الكيميائية	الثانية
هيدروكسيد الألمونيوم	$Al(OH)_3$												
كلوريد البوتاسيوم	KCl												
كربونات الماغنسيوم	$MgCO_3$												

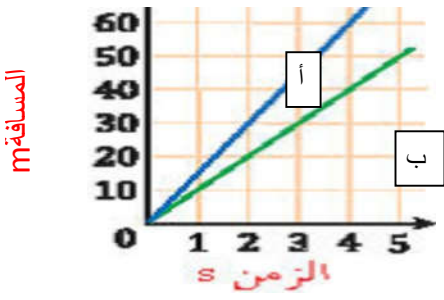
2- ضع علامة (√) او (x) امام العبارة بما يناسبها : (1)

م	العبارة	صواب	خطأ
1	تمتص الجذور الماء والاملاح المعدنية من التربة .		
2	جميع النباتات تخزن الغذاء في جذورها.		

نموذج الاجابة :

رقم السؤال	الاجابة	الدرجة	معلومات اخرى	رقم الهدف	مستوى التعلم	الموضوع	الوحدة				
2	<table border="1"> <tr> <td>√</td> <td>تمتص الجذور الماء والاملاح المعدنية من التربة .</td> </tr> <tr> <td>×</td> <td>جميع النباتات تخزن الغذاء في جذورها</td> </tr> </table>	√	تمتص الجذور الماء والاملاح المعدنية من التربة .	×	جميع النباتات تخزن الغذاء في جذورها	1	<p>– يعطى الطالب درجة اذا اجاب على الجميع اجابة صحيحة</p> <p>– لا يعطى الدرجة اذا كانت اجابة واحدة فقط صحيحة</p>	8Bp2	معرفة	(5-1) الجذور	الاولى
√	تمتص الجذور الماء والاملاح المعدنية من التربة .										
×	جميع النباتات تخزن الغذاء في جذورها										

3- يوضح الرسم البياني منحنى المسافة والزمن لسيارتين (أ) و(ب) تتحركان بسرعتين مختلفتين.



أي السيارتين تتحرك بسرعة أكبر عند الثانية الثالثة ظلل الإجابة الصحيح؟

أ

ب

(1)

فسري إجابتك رياضيا

.....

نموذج الإجابة :

رقم السؤال	الإجابة	الدرجة	معلومات اخرى	رقم الهدف	مستوى التعلم	الموضوع	الوحدة
3	أ السرعة = المسافة / الزمن $3/40 =$ $13 \text{ م/ث} =$ سرعة السيارة ب $= 3/30 =$ $10 \text{ م/ث} =$	1	يعطى الطالب درجة إذا ظلل الإجابة الصحيحة مع التفسير الصحيح - لا يعطى درجة إذا ظلل بدون تفسير	8Pf2	إستدلال	4-6 أنماط الحركة	السادسة