

تم تحميل هذا الملف من موقع المناهج العُمانية



* للحصول على أوراق عمل لجميع الصفوف وجميع المواد اضغط هنا

<https://almanahj.com/om>

* للحصول على أوراق عمل لجميع مواد الصف الثامن اضغط هنا

<https://almanahj.com/om/8>

* للحصول على جميع أوراق الصف الثامن في مادة اجتماعيات ولجميع الفصول, اضغط هنا

<https://almanahj.com/om/8social>

* للحصول على أوراق عمل لجميع مواد الصف الثامن في مادة اجتماعيات الخاصة بـ الفصل الأول اضغط هنا

<https://almanahj.com/om/8social1>

* لتحميل كتب جميع المواد في جميع الفصول للـ الصف الثامن اضغط هنا

<https://almanahj.com/om/grade8>

* لتحميل جميع ملفات المدرس علي بن محمد الحسان اضغط هنا

للتحدث إلى بوت على تلغرام: اضغط هنا

https://t.me/omcourse_bot

السؤال الأول : ضع علامة (✓) أو (✗) أمام العبارة الصحيحة مع تصحيح العبارة الخاطئة :

- ١- (✗) كلما ارتفعنا عن مستوى سطح البحر ارتفعت درجة الحرارة (انخفضت)
- ٢- (✓) الهواء يسخن من الأسفل إلى الأعلى
- ٣- (✗) ان الهواء الساخن أكثر قدرة على حمل بخار الماء من الهواء البارد
- ٤- (✗) تمثل الصحاري الحارة حوالي نصف مساحة اليابسة . (ثلث)
- ٥- (✗) تسقط الأمطار الموسمية على محافظة ظفار في فصل الشتاء . (الصيف)
- ٦- (✗) عدد الأقاليم المناخية في العالم ستة أقاليم . (خمسة)
- ٧- (✓) من أهم التيارات الدافئة تيار الخليج الدافئ الذي يمر بالسواحل الغربية للنرويج
- ٨- (✗) تستقبل الأرض حوالي ٦٠% فقط من الأشعاع الشمسي . (٥٠%)
- ٩- (✓) يقصد بالتوزيع النظري للضغط الجوي أماكن وجود الضغط الجوي المرتفع أو المنخفض الدائمة على سطح الأرض
- ١٠- (✓) الإقليم وحدة مكانية لها خصائص مشتركة تميزها عن غيرها من الأقاليم الأخرى

السؤال الثاني : أكمل مايلي بكلمات مناسبة من عندك :

- ١- تتعامد أشعة الشمس على خط الإستواء أكثر من أي مكان آخر
- ٢- أقصى مكان تتعامد عليه أشعة الشمس شمال دائرة الإستواء هو مدار السرطان
- ٣- من أهم التيارات الباردة تيار بنجويلا البارد في جنوب غربي أفريقيا
- ٤- ومن أهم التيارات الدافئة تيار الخليج الدافئ الذي يمر بالسواحل الغربية للنرويج
- ٥- تتأثر التيارات البحرية بعنصرين للمناخ هما الحرارة والأمطار
- ٦- النظامان المستخدمان لقياس درجة الحرارة هما النظام السيليزي والنظام الفهرنهايتي
- ٧- يوصف الضغط الجوي بأنه منخفض إذا قل عن (٧٦) سم ويرمز له ب(-)
- ٨- يوصف الضغط الجوي بأنه مرتفع إذا ارتفع عن (٧٦) سم ويرمز له ب(+)
- ٩- تقاس سرعة الرياح بواسطة جهاز الأنيمومتر يحدد اتجاه الرياح بواسطة دوارة الرياح
- ١٠- ترتفع درجات الحرارة في شمال عمان ابتداء من شهر إبريل وتصل أقصاها في شهري يونيو ويوليو .
- ١١- في الساحل الجنوبي من السلطنة تصل درجة الحرارة أقصاها في صلالة خلال الفترة بين شهري مارس ويونيو .
- ١٢- من الأشكال التي تسقط عليها المطر - المطر - الثلج - البرد

السؤال الثالث : ضع دائرة حول الإجابة الصحيحة من بين الخيارين :

- ١- تسقط أشعة الشمس على دائرة الإستواء بصورة (عمودية - مائلة)
- ٢- أقصى مكان تتعامد عليه أشعة الشمس جنوب دائرة الإستواء هو مدار (الجدي - السرطان)
- ٣- كلما كان الموقع قريبا من دائرة الإستواء (زادت - إنخفضت) درجة الحرارة
- ٤- أشعة الشمس المائلة فتغطي مساحة (واسعة - قليلة) .
- ٥- يؤدي ارتفاع درجة الحرارة إلى (إنخفاض - ارتفاع) الضغط الجوي .
- ٦- يتميز المناخ البحري " الجزري بشتائه الدافئ وصيفه (الحار - المعتدل)
- ٧- تضم شبكة مراقبة الطقس في عمان (٣٠ - ٤٠) محطة رصد جوي
- ٨- من أهم أنواع الرياح المحلية رياح (السباعين - الخماسين)
- ٩- هي النقطة أو الحد الذي يسمح بتكاثف بخار الماء في الغلاف الجوي بأشكال متعددة (نقطة الندى - نقطة الضباب)
- ١٠- تسقط الأمطار الغزيرة في السحب (العالية - المنخفضة) .

السؤال الرابع : علل مايلي " أذكر السبب " :

س ١ : تعتبر المناطق المرتفعة في فصل الصيف جاذبة للسياح ؟
ج١ : بسبب اعتدال درجة حرارتها

س ٢ : الاهتمام بمشاريع التشجير وزيادة المساحات الخضراء في المدن والتجمعات السكانية ؟
ج٢ : لأنها تطفئ الجو بمنعها الإشعاع الشمسي من الاتصال المباشر مع سطح الأرض وكذلك تعمل على تكثيف بخار الماء في الهواء

س ٣ : المناطق القريبة من المسطحات المائية تتميز بحرارتها المعتدلة ومداهم الحراري المنخفض ؟
ج٣ : نظرا لوجود كميات من الرطوبة تعمل على تطييف درجة الحرارة

س ٤ : انخفاض درجة الحرارة في صلالة في فصل الصيف ؟
ج٤ : بسبب الضباب وتكاثف السحب نتيجة هبوب الرياح الموسمية الجنوبية الغربية على محافظة ظفار

س ٥ : " تسقط الأمطار والرذاذ المتواصل على محافظة ظفار "
ج٥ : بسبب بهبوب الرياح الموسمية المحملة بالرطوبة وبخار الماء

س ٦ : " تكون المنخفضات الجوية في فصل الشتاء على حوض البحر المتوسط "
س٦ : بسبب هبوب الرياح العكسية

السؤال الخامس : صل بخط بين العمود الأول ومايناسبه من العمود الثاني

العمود الأول	العمود الثاني
الطقس	حالة الجو بظواهره المختلفة في منطقة كبيرة خلال فترة زمنية طويلة تمتد لسنوات
المناخ	حالة الجو في ظواهره المختلفة من حرارة وضغط جوي ورطوبة ورياح في مكان معين وخلال فترة زمنية قصيرة "
المدى الحراري	هي حركة المياه السطحية للبحار والمحيطات الناتجة عن مجموعة من العوامل أهمها الرياح والتبينات في كثافة المياه بسبب درجة الحرارة أو الملوحة
التيارات البحرية	هو الفرق بين أعلى درجة حرارة وأدنى درجة حرارة تسجلاً خلال فترة زمنية معينة " اليوم أو الشهر أو الفصل أو السنة "
الضغط الجوي	هي الحركة الأفقية للهواء من مكان إلى آخر على سطح الأرض وتنتج نتيجة اختلاف الضغط الجوي بين منطقة وأخرى
الرياح	هو وزن عمود الهواء فوق نقطة معينة " السنتمتر المربع الواحد " على سطح الأرض ويساوي عند سطح البحر وزن عمود من الزئبق ارتفاعه (٧٦) سم او (١٠١٣) مليبار
الرطوبة	هو تحول بخار الماء الموجود في الهواء من الحالة الغازية إلى الحالة السائلة بسبب انخفاض درجة حرارة الهواء
التكاثف	كمية بخار الماء العالق في الهواء في حالة غير مرئية والناتج عن عملية التبخر تحدث تأثير حرارة الأشعة الشمسية
التساقط	هي قمم الجبال المرتفعة التي تغطيها الثلوج طوال العام مثل جبال الألب والهملايا
خط الثلج	هو كل مايسقط من ماء في حالتيه السائلة والصلبة على سطح الارض

السؤال السادس : صل بخط بين الجهاز في العمود الأول وعمله في العمود الثاني .

الجهاز	عمله
البارومتر المعدني	وهو يقيس الضغط الجوي ويسجله لفترة طويلة على شريط اسطواني
الباروجراف	جهاز يحدد به اتجاه الرياح وهو يتألف من ذراع حديدي على شكل سهم يشير الى الجهة التي تأتي منها الرياح
دوارة الرياح	الذي يقيس الضغط الجوي في وقت معين
جهاز الهيجرومتر	جهاز يقيس المطر وهو يتكون من ترمومترين (جاف ومبلل) مثبتين في لوحة واحدة حيث يعطي الترمومتر المبلل درجة حرارة اقل من الجاف

السؤال السابع : إختار الرياح المناسبة من بين القوسين وضعها أمام التعريف المناسب لها في العمود الثاني
(الرياح الدائمة - الرياح الموسمية - الرياح المحلية - الرياح اليومية)

الرياح	التعريف
الرياح الموسمية	وهي الرياح التي تهب خلال أحد فصول السنة على مناطق محددة من العالم وتنشأ بسبب التغيرات الواسعة التي تطرأ على درجة الحرارة
الرياح المحلية	وهي الرياح التي تهب خلال فترات متفرقة ولمدة قصيرة من الزمن لاتتعدى الأسبوع وتنشأ بسبب الفروقات المحلية في درجات الحرارة والضغط الجوي
الرياح اليومية	هي الرياح التي تهب على الأماكن التي يتجاوز فيها البحر مع اليابس أو الجبل مع الوادي وتنشأ نتيجة إختلاف الضغط الجوي ليلاً ونهاراً
الرياح الدائمة	وهي الرياح التي تهب على مناطق واسعة من العالم بصورة مستمرة طوال أيام السنة وتنشأ بسبب وجود مراكز دائمة من الضغط الجوي المرتفع والمنخفض على سطح الأرض

السؤال الثامن : اكمل الجدول التالي بذكر ميزتين " خاصتين " لكل إقليم من الأقاليم التالية

الإقليم الإستوائي	الإقليم الحار الجاف (الصحراوي)	الإقليم الموسمي	إقليم البحر المتوسط	الإقليم القطبي البارد
طقسه ثابت من فصل لآخر	ارتفاع المدى الحراري بين الصيف والشتاء وبين الليل والنهار	في فصل الصيف تهب رياح قادمة من المحيط الهندي تسقط الأمطار الموسمية في الكثير من دول قارة آسيا	إختلاف درجات الحرارة بين منطقة وأخرى وبين فصلي الصيف والشتاء	إختلاف طول الليل والنهار بين الصيف والشتاء
حرارة دائمة الإرتفاع	قلة الأمطار حيث لايزيد معدل التساقط فيها عن ١٥٠ ملم سنوياً	في فصل الشتاء تهب عليها رياح موسمية قادمة من وسط آسيا باتجاه المحيط الهندي وعادة تكون رياح باردة وجافة	ففي فصل الصيف تصل درجة الحرارة إلى ٢٨ على الساحل و ٢٠ على الجبال	وصول أشعة الشمس مانلة
	ارتفاع معدلات التبخر		أما في فصل الشتاء فتتخفف درجة الحرارة فتصل إلى ١٠ على الساحل وإلى مادون الصفر في المناطق الجبلية	
	يعيش السكان في المناطق الجافة في الواحات وبطون الأودية وفي المناطق الساحلية			

السؤال التاسع : أجب عن الأسئلة التالية :

س ١ : ما الفرق بين الندى والضباب ؟

ج ١ : الندى : قطرات مائية تتكون أثناء الليل وبخاصة في ساعات الصباح الباكر على الاسطح الباردة مثل (زجاج السيارات - اوراق الاشجار)

الضباب : وهو تجمع كبير من قطيرات صغيرة من الماء المتطايرة من الجو بقرب سطح الأرض تؤدي إلى ضعف الرؤيا إلى مادون الف متر بفعل فقدان سطح الأرض لحرارته بالإشعاع ليلا

س ٢ : أذكر ثلاثة من العوامل المؤثرة في الطقس والمناخ ؟

ج ٢ : ١ - موقع المناخ بالنسبة لدوائر العرض

٢ - التضاريس

٣ - القرب والبعد عن المسطحات المائية

٤ - التيارات البحرية

٥ - الغطاء النباتي

س ٣ : " ماهي الأسباب التي تؤدي إلى اختلاف المناخ من مكان لآخر على سطح الأرض ومن فصل لآخر ؟

ج ٣ : كروية الأرض - ميل محور الأرض - دوران الأرض حول نفسها وحول الشمس

س ٤ : ما المقصود بخط الثلج ؟ مع ذكر أمثلة عليها ؟

ج ٤ : هي قمم الجبال المرتفعة التي تغطيها الثلوج طوال العام مثل جبال الألب والهملايا

س ٥ : بماذا تتميز التيارات البحرية الباردة والتيارات البحرية الدافئة ؟

ج ٥ : التيارات البحرية الباردة تتميز بأنه يصاحبها إنخفاض في درجة حرارة السواحل التي يمر بها مع قلة الامطار ويكون من نتائجها انه تزيد من جفافها وتكون الصحاري

أما التيارات البحرية الدافئة تتميز بأنها تجلب الى السواحل التي يمر بها الدفء وتساعد كثيرا على سقوط الامطار

س ٦ : ما هي اهم مميزات تيار الخليج الدافئ ؟

ج ٦ : انه يجعل المواني البحرية مفتوحة للملاحة طوال العام .

س ٧ : " التيارات البحرية نوعان " ماهما ؟

ج ٧ : تيارات بحرية باردة وتيارات بحرية دافئة .

س ٨ : " ماهي أنواع مصادر الحرارة على سطح الأرض ؟

ج ٨ : مصادر أساسية ومصادر ثانوية

س ٩ : ما الفرق بين جهاز الترمومتر الزئبقي وجهاز الترموجراف في قياس الحرارة ؟

ج ٩ ١ - جهاز الترمومتر الزئبقي ويستخدم بطريقة يدوية

٢ - جهاز الترموجراف وهو يسجل بطريقة آلية لمدة يوم كامل

س ١٠ : ما الفرق بين المنخفضات الجوية والأعاصير؟

ج ١٠ : المنخفضات الجوية : هي حالة اضطراب مؤقت في الجو في مناطق جاذبة للرياح وتنشأ نتيجة التقاء الهواء القطبي البارد مع الهواء المداري الدافئ الرطب وينتج عن ذلك انخفاض الضغط الجوي وتكون السحب وسقوط الامطار

الأعاصير : عبارة عن ظواهر طبيعية مناخية تحدث نتيجة انخفاض الضغط الجوي بشدة وتنشأ فوق المحيطات المدارية الدافئة ويترتب عليها سقوط امطار غزيرة مصحوبة برياح عاتية وحدوث الفيضانات تغرق المدن والقرى والاراضي الزراعية

س ١١ : أذكر ثلاث من الاماكن التي يستمد منها الهواء رطوبته ؟

ج ١١ : المسطحات المائية - النتج من النبات - القرب او البعد عن المسطحات المائية - الارتفاع عن مستوى سطح البحر

س ١٢ : تنقسم الامطار حسب طريقة صعود الماء الى ثلاثة اقسام اذكرها ؟
امطار تضارسية - امطار تصاعدية - امطار اعصارية

س ١٣ : لماذا يحرص الناس على سماع النشرة الجوية ؟
ج ١٣ : لمعرفة اختيار الملابس المناسبة وحالة البحر ومناسبته للملاحة وسلامة الطرق للسير عليها وحماية المحاصيل .

س ١٤ - يتكون المناخ من مجموعة من العناصر اذكر ثلاثة من هذه العناصر ؟
ج ١٤ - الحرارة - الضغط الجوي - الرياح - الرطوبة - التساقط

س ١٥ - " تعد الحرارة أهم عناصر المناخ " وضع ذلك
ج ١٥ - لأن الحرارة ١- ترتبط بها جميع العناصر الأخرى (ضغط-الرياح-الرطوبة-ومظاهر التكاثف المختلفة)
٢- أنها تؤثر تأثيرا كبيرا في توزيع مظاهر الحياة المختلفة

س ١٦ : " تستقبل الارض حوالي ٥٠% فقط من الاشعاع الشمسي وتتوقف كمية الأشعة الشمسية وأثرها على عوامل عدة "
اذكر اهمها ؟

- ج ١٦ : أ- زاوية سقوط أشعة الشمس
ب- درجة صفاء الجو وخلوه من الغبار والسحب
ج- الارتفاع عن مستوى سطح البحر
د- القرب والبعد عن المسطحات المائية

س ١٧ : كم عدد المناطق الحرارية في العالم ؟ أذكرها

- ج ١٧ - خمسة مناطق وهي :
١- المنطقة الحارة
٢- المنطقة المعتدلة الشمالية
٣- المنطقة المعتدلة الجنوبية
٤- المنطقة الباردة الشمالية
٥- المنطقة الباردة الجنوبية

س ١٨ : يختلف الضغط الجوي من منطقة الى اخرى نتيجة لعدة عوامل اذكر اهمها ؟
ج ١٨ : ١- الارتفاع عن مستوى سطح البحر : فكلما زاد الارتفاع عن سطح البحر قل الضغط الجوي
٢- درجة الحرارة : فكلما ارتفعت درجات الحرارة قل الضغط الجوي والعكس صحيح

س ١٩ : يتأثر التوزيع الحقيقي للضغط الجوي بعدة عوامل اذكر اهمها ؟

- ج ١٩ : ١- دوران الأرض حول الشمس
٢- اختلاف الفصول الأربعة
٣- العلاقة بين اليابسة والماء والتضاريس

س ٢٠ : - لماذا حاول العلماء تجميع المناطق التي تتشابه في خصائصها المناخية في مناطق جغرافية واحدة واطلقوا عليها اسم

الاقاليم المناخية ؟

ج ٢٠ : بهدف ١- تسهيل دراستها ٢- مقارنتها مع الاقاليم الاخرى ٣- تفسير ارتباطها بالاقاليم النباتية وانواع التربة

س ٢١ : كم عدد الاقاليم المناخية في العالم ؟ أذكرها ؟

- ج ٢١ : خمسة أقاليم وهي :
١- الأقاليم الإستوائي
٢- الإقليم الجاف
٣- الإقليم الموسمي

٤- اقليم البحر المتوسط

٥- الإقليم القطبي البارد


رسوم وأشكال مهمة



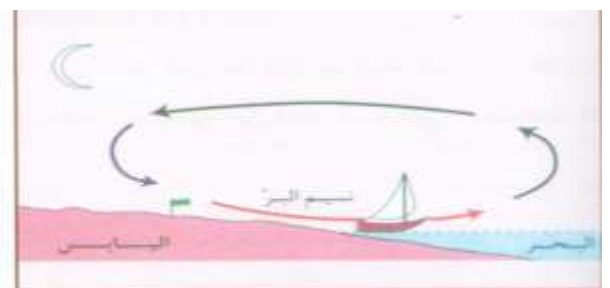
شكل (٢٦ / د)
تسيم الجبل



شكل (٢٦ / ج)
تسيم الوادي



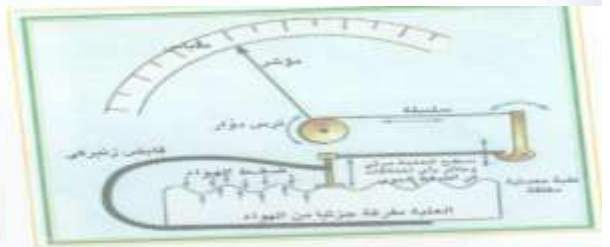
شكل (٢٦ / ب) تسيم البحر



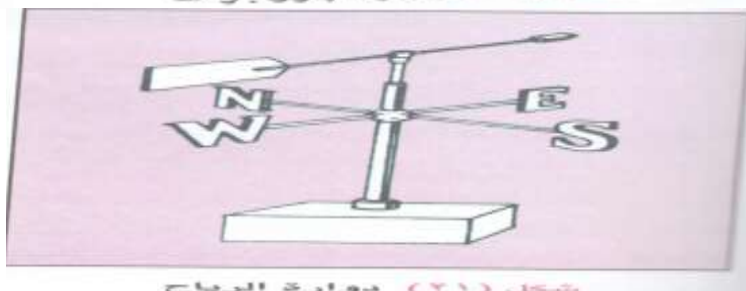
شكل (٢٦ / ا) تسيم البر



شكل (٢٠) جهاز الباروجراف



شكل (١٩) جهاز البارومتر المعدني



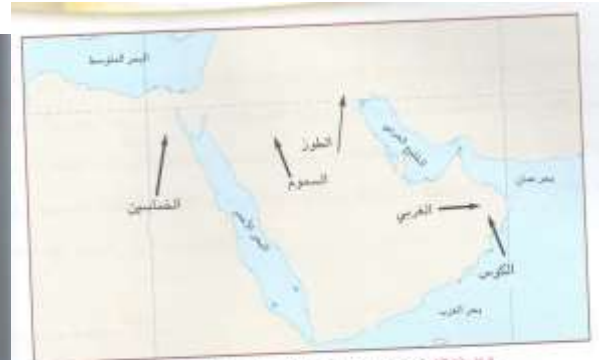
شكل (٢١) دوارة الرياح



شكل (٢٢) جهاز الأنيوموتر



شكل (٢٧) (إقليم الجفاف (الصحراوي)



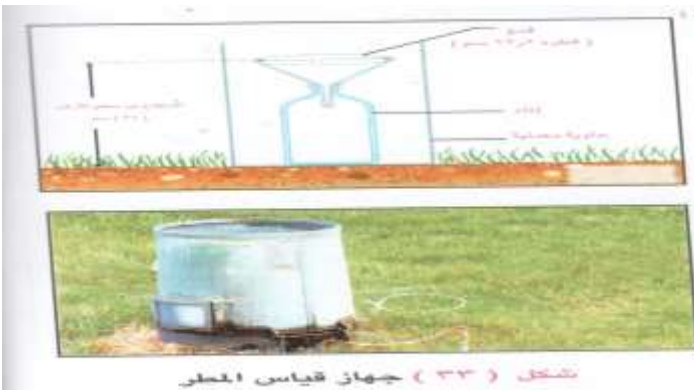
شكل (٢٤) خريطة الرياح المحلية في بعض أجزاء الوطن العربي



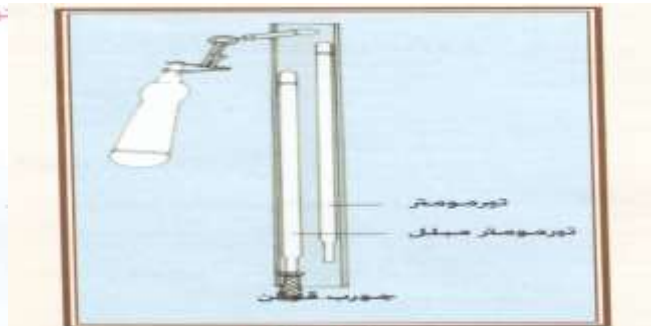
شكل (٣٢ / ب) الأمطار التصاعدية



شكل (٣٢ / أ) الأمطار التضاريسية



شكل (٣٣) جهاز قياس المطر



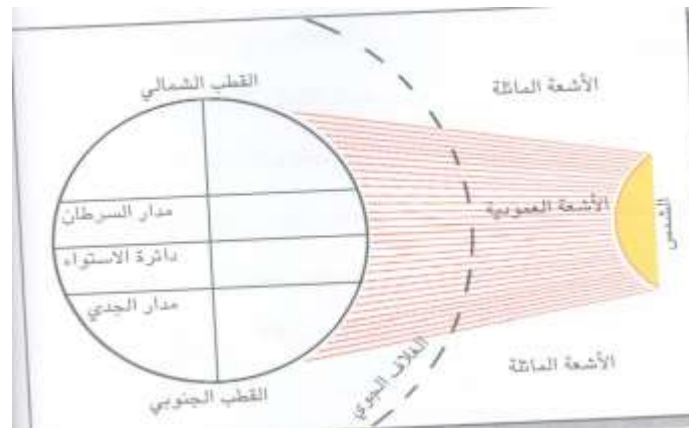
شكل (٢٨) الترمومتر الجاف والترمومتر المبلل



شكل (٢٢)



شكل (١٦) التوزيع النظري للضغط الجوي



السؤال الأول : ضع علامة (✓) أو (✗) أمام العبارة الصحيحة مع تصحيح العبارة الخطأ :

- ١- (✓) مؤسس دولة البوسعيد في عمان هو الامام احمد بن سعيد
- ٢- (✗) الامام الذي نقل عاصمة عمان الى مسقط هو الامام سيف بن احمد بن سعيد (حمد بن احمد بن سعيد)
- ٣- (✗) بعث السيد سعيد بن سلطان سفينته المسماة سلطنة الى نيويورك عام ١٩٤٠ (١٨٤٠)
- ٤- (✓) انتشر التعليم في عمان في عصر دولة البوسعيد عن طريق المساجد
- ٥- (✓) من نتائج التبادل التجاري بين عمان وشرقي إفريقيا أنه ساهم في نشر الإسلام واللغة العربية
- ٦- (✗) من الأعمال التي قام بها الإمام أحمد بن سعيد منذ توليته الحكم أنه اتخذ صحم عاصمة له . (الرستاق)
- ٧- (✓) اول سفير عماني ارسل للولايات المتحدة هو أحمد بن النعمان .
- ٨- (✗) من أشهر القصور التي بنيت في زنجبار قصر السلطاني الذي بناه السيد سعيد بن سلطان (المتوني)
- ٩- (✗) يعتبر السيد سعيد بن سلطان اول من ادخل زراعة القرنفل والبن والسهم الى مسقط (زنجبار)
- ١٠- (✓) تأسست المطبعة السلطانية في شرقي إفريقيا في عهد السلطان برغش بن سعيد

السؤال الثاني : أكمل مايلي بكلمات مناسبة من عندك :

- ١- شجع الامام احمد بن سعيد التجارة مع الهند و شرقي افريقيا
- ٢- السفينه التي استطاعت من قطع السلسلة الحديدية التي وضعها الفرس في شط العرب إسمها الرحماني .
- ٣- اتخذ السيد سعيد بن سلطان عاصمتين الاولى في عمان وكانت مدينة مسقط والثانية في شرقي افريقيا وكانت مدينة زنجبار
- ٤- استطاع الامام احمد بن سعيد من توحيد الشعب العماني تحت راية واحدة عن طريق الحكمة والتسامح والمساواة
- ٥- امتدت الامبراطورية العمانية لتشمل عدة مناطق في شرقي افريقيا
- ٦- ارتبطت عمان بعلاقات تجارية واقتصادية وسياسية بعدة دول منها الصين والهند وايران وشرقي افريقيا وامريكا
- ٧- من امثلة فن العمارة العمانية في عصر دولة البوسعيد قلعة بيت الفلج وحصن البريمي وقصر بيت العلم
- ٨- من اهم القصور التي شيدها العمانيون في زنجبار قصر المتوني الذي بناه السيد سعيد بن سلطان وقصر العجائب الذي بناه السيد برغش بن سعيد
- ٩- استخدم العمانيون في بناء القلاع والحصون والابراج والقصور والمساجد من الحجارة والجص والصاروج العماني
- ١٠- كانت السفن الفرنسية تاتي الى عمان محملة بالسكر وتعود محملة بالسمك المملح والبن
- ١١- بعث السيد سعيد بن سلطان سفينته المسماة سلطنة الى نيويورك عام ١٨٤٠ وكان قائدها احمد بن النعمان

السؤال الثالث : ضع دائرة حول الإجابة الصحيحة من بين البدائل المعطاه :

- ١- الامام العماني الذي استطاع من طرد الفرس من صحار ومن بقية عمان كلها هو الامام (احمد بن سعيد - سيف بن سلطان - سلطان بن أحمد)
- ٢- اتخذ الإمام أحمد بن سعيد مدينة عاصمة له (مسقط - الرستاق - نزوى)
- ٣- ولد الامام احمد بن سعيد في بلدة (نزوى - صحار - دم)
- ٤- الامام العماني الذي استطاع من طرد الفرس من مدينة البصرة هو (هلال بن احمد بن سعيد - سلطان بن سيف - سعيد بن أحمد)
- ٥- من اشهر القصور التي شيدها السيد سعيد بن سلطان قصرفي زنجبار (الرحماني - المتوني - الشموخ)
- ٦- ارسل السيد سلطان بن احمد حملة بقيادة ولدهالذي تمكن من انتهاء الغزو الفارسي من البحرين (حمد - سلطان - سالم)
- ٧- اول من ادخل زراعة القرنفل والبن والسهم الى زنجبار هو السيد (سعيد بن سلطان - سلطان بن أحمد - احمد بن سعيد)
- ٨- كان الاسطول العماني في عهد السيد سعيد بن سلطان يتكون من (٨٠ - ٩٠ - ١٠٠) سفينة
- ٩- انتشر التعليم في عمان في عصر دولة البوسعيد في (المساجد - المعاهد - المستشفيات)
- ١٠- ابرمت اول اتفاقية بين السيد سعيد بن سلطان والولايات المتحدة الامريكية في سبتمبر عام (١٦٣٣ - ١٧٣٣ - ١٨٣٣)

السؤال الرابع : صل بخط بين التاريخ في العمود الأول ومناسبتة من العمود الثاني

التاريخ	الحدث
١٧٤٤م	ه وفاة الإمام أحمد بن سعيد في مدينة الرستاق ودفن فيها
١٧٨٣م	بايع العمانيون القائد احمد بن سعيد البوسعيدي اماما عليهم
١٧٧٥	استطاع السيد سلطان بن أحمد من السيطرة وإخضاع كل من جزيرة قشم وهرمز وبندر عباس وجوادر وشهباز
١٧٩٨	استطاع الإمام هلال بن أحمد بن سعيد من طرد الفرس من البصرة

السؤال الخامس : أذكر صناعيتين من الصناعات التالية التي كان للعمانيين إسهامات فيها

الصناعات الحرفية	الصناعات الحديدية والنحاسية	صناعة الفخار	صناعات أخرى
الخبال	الرماح	الأواني	صناعة الزيوت
الحصر	السيوف	الأدوات	صناعة الصابون
النسيج	الخناجر		
السفن			

السؤال السادس : أجب عن الأسئلة التالية:

س١ - صف حالة عمان بعد وفاة الامام سلطان بن سيف الثاني عام ١٧١١م؟

ج١ : تنافس على الحكم كل من سيف بن سلطان الثاني و مهنا بن سلطان على تولي الامامة مما ادى الى اختلاف آراء أهل الحل والعقد حول من يتولى الإمامة وحسم الامر بتولي الامامة سيف بن سلطان الا انه لم يحسن ادارة الدولة مما دفع العلماء الى عزلة ومبايعة سلطان بن مرشد اماما على عمان .

س٢- ماذا كان موقف سيف بن سلطان من قرار عزلة عن ولاية عمان ؟

ج٢ : لم يرض بهذا القرار فاستنجد بالفرس الذين رأوا ذلك فرصة للتدخل في شؤون عمان الداخلية فسارع نادر شاه بإرسال جيوشه للسيطرة على عمان ونجح في الاستيلاء على اجزاء واسعة من عمان وفرض حصارا بحريا على صحار التي تركزت بها المقاومة بقيادة الامام سلطان بن مرشد الذي توفى في احدى المعارك فتولى المقاومة بعدة احمد بن سعيد والي صحار الذي نجح في اخراج الفرس من صحار وتحرير بقية عمان منهم .

س٣ : أذكر ثلاثة من الاعمال التي قام بها الامام احمد بن سعيد اول ماتولى حكم عمان ؟

- ج٣ :- اتخذ الرستاق عاصمة له
 - اوجد رجال الشرطة حيث كفل امن واستقرار عمان
 - انشأ جيشا ثابتا ومدربا واسطولا بحريا قويا
 - ارسى القواعد الادارية والقضائية في البلاد
 - شجع التجارة مع الهند وشرقي افريقيا
 - اهتم بالنواحي العمرانية فشيّد الحصون والمساجد

س٤ : تحدث بإيجاز عن نجدة الامام احمد بن سعيد لأهالي البصرة عندما سيطر عليها الفرس ؟

ج٤ : ارسل حملة بقيادة ابنه هلال عام ١٧٧٥ الذي استطاع من طردهم منها وتحريرها من ايديهم بالرغم من محاولة الفرس منع الأسطول من دخول البصرة وذلك من خلال وضع سلسلة حديدية في شط العرب إلا ان السفينة العمانية الرحماني تمكنت من قطعها .

س ٥ : اذكر عملين من الأعمال الداخلية والخارجية للإمام سلطان بن احمد بن سعيد عندما تولى الامامة في عمان ؟

ج ٥ : على الصعيد الداخلي – وحد البلاد

- قضاء على الفتن الداخلية
- فرض هيبة الدولة

على الصعيد الخارجي – حاول استرداد المناطق التي فقدتها الدولة العمانية

- حاول فتح بلاد جديدة
- عمل على حماية حدود عمان من الغزو الخارجي

س ٦ : اذكر أسماء اشهر سفن الأسطول البحري زمن للسيد سعيد بن سلطان ؟

ج ٦ : سفينة سلطنة وليفربول وفكتوريا والفلك وشاه علم

٧- " يعتبر المؤرخون عهد السيد سعيد بن سلطان الفترة الذهبية في التاريخ العماني الحديث لإعتبارات مهمة" اذكر أربعة من

هذه الإعتبارات ؟

- اتصافه بالتواضع واتباع الشورى في احكامه
- كان سياسيا دبلوماسيا استطاع ان يكون علاقات صداقة مع العديد من الدول الكبرى
- كان ذا عقلية تجارية فذة استطاع ان ينمي الموارد المالية لدولته
- كون امبراطورية واسعة امتدت نفوذها في اسيا وشرقي افريقيا
- كون اسطول بحري ضخم (السفينة سلطنة – ليفربول – فكتوريا – الفلك – شاه علم)
- طور الحياة الاقتصادية في الدولة من خلال التشريعات والنظم والعملات
- أوجد مصادر دخل للدولة فاهتم بالزراعة والصناعة إضافة إلى التجارة
- اتخذ من زنجبار عاصمة ثانية له
- اهتم بالنواحي العمرانية وشيد القصور التي من اشهرها قصر (المتوني) في زنجبار

س ٨ : اذكر ثلاث من اهم المنجزات السياسية والعسكرية لدولة البوسعيد ؟

- ج ٨ : تمكن الامام احمد بن سعيد من توحيد الشعب العماني تحت راية واحدة عن طريق التامح والحكمة والمساواة
- كذلك استطاع السيد سعيد بن سلطان الذي عمل على بناء امبراطورية عمانية لتشمل مناطق عدة في شرقي افريقيا
- كذلك كان لموقع عمان الاستراتيجي اثره في القيام بعلاقات تجارية واقتصادية وسياسية حسنة مع كثير من الدول منها الصين والهند وايران
- كذلك كان للأسطول البحري دورة الكبير في محاربة المعتدين وتعزيز مكانة السلطنة بين الدول

س ٩ : تحدث بايجاز عن اهم المنجزات الاقتصادية والاجتماعية التالية في دولة البوسعيد :

التجارة	الصناعة	الزراعة وصيد الاسماك
<p>تمكن الامام احمد بن سعيد من جعل منطقة الخليج العربي والساحل العماني منطقة تجارية حره وذلك من خلال :</p> <p>١- تنظيم الحسابات المالية في المواني التجارية</p> <p>٢- اعيد ترتيب النظام الجمركي على السفن والبضائع الداخلية والخارجية</p> <p>٣- استطاع السيد سعيد بن سلطان ان يوزع المراكز التجارية للدولة العمانية ولم يكرسها في مدينة مسقط بل امتدت الى زنجبار مما ادى الى زيادة التبادل التجاري بين زنجبار والهند وامريكا وبريطانيا</p>	<p>لقد اسهم العمانيين اسهامات عدة منها <u>الصناعات الحرفية</u> مثل صناعة " الحبال والحصر والنسيج والسفن " - <u>الصناعات الحديدية والنحاسية</u> مثل " الفؤس والسلاسل الحديدية والرماح والسيوف والخناجر " - <u>صناعة الفخار</u> مثل صناعة " الاوراني والادوات الفخارية " حيث ظهر مجموعة من الحرفيين مقل الحدادين والبناءيين والخياطيين والفخارين وصناع الحبال وغيرها</p> <p>اما في مجال <u>الصناعة</u> فقد تطورت <u>صناعة استخراج الزيوت</u> مثل زيت النخيل وكان للعمانيين الفضل في ادخال صناعة الصابون الى الكونغو</p>	<p>يعتبر السيد سعيد بن سلطان اول من ادخل زراعة القرنفل والبن والسهم الى زنجبار كما اهتم بزراعة جوز الهند والحبوب والارز وقصب السكر وغيره كما كان لموقع عمان البحري المطل على خليج عمان وبحر العرب دوره الكبير في صيد الاسماك واستخراج اللؤلؤ .</p>

س ١٠ : صل بخط بين طرق القوافل التجارية البرية العمانية في شرقي افريقيا وامتدادها

الطريق	امتداده
الطريق الشمالي	يمتد من كلوة عبر جنوبي تنجانيقا وشمالي موزمبيق إلى بحيرة نياسا
الطريق الاوسط	يبدأ من المواني المواجهة " تانغه وبنغالي وبغمايو " إلى وسط تنجانيقا يتفرع شمالا إلى البحيرات الإستوائية وجنوبا إلى حوض نهر الكونغو
الطريق الجنوبي	ويعتد من ممباسا وماليندي الى هضبة البحيرات الاستوائية

س ١١ : صل بخط بين القلعة أو الحصن والذي بناها

القلعة أو الحصن	الذي بناها
قلعة بيت الفلج في روي و قلعة بركاء	شيدده السيد سعيد بن سلطان
حصن البريمي	بناهما الامام احمد بن سعيد
قصر بيت العلم بمسقط	بناه السيد سلطان بن احمد
قصر المتوني وبيت الساحل	بناه السيد برغش بن سعيد
قصر العجانب	بناهما السيد سعيد بن سلطان

س ١٢ : أكمل الجدول التالي بثلاثة من البضائع المتبادلة بين مسقط والهند

البضائع التي كانت السفن العمانية تحملها الى الهند	البضائع التي كانت تجلبها السفن العمانية عند عودتها الى مسقط
اللؤلؤ	الأرز
اللبن	الأنسجة القطنية
البخور	الصوف
الفواكة المجففة	خشب الصندل
الأعشاب الطبية	المسك

س ١٣ : أكمل الجدول التالي بثلاثة من البضائع المتبادلة بين مسقط والدول التالية :

الولايات المتحدة الامريكية	شريقي افريقيا	الهند	الدولة العثمانية	الدولة الفارسية
قامت العلاقات بين البلدين منذ بداية الثلاثينيات من القرن التاسع عشر الميلادي لأهمية موقعها وشهرة صادراتها من السلع الأفريقية حيث تطلعت الى فتح لها اسواق لها في زنجبار	امتد النفوذ العماني في عهد السيد سعيد بن سلطان على طول الساحل الشرقي لإفريقيا الى اواسط القارة الأفريقية واتخذ زنجبار عاصمة ثانية لدولته وهو ماجعلها مركز اشعاع حضاري للقارة الأفريقية	نشطت العلاقات التجارية بين عمان والهند عندما عمل الامام احمد بن سعيد على تأمين الطريق التجاري البحري المؤدي الى الهند بإرسال حملة تاديبية على القرصنة الذين كانوا يعترضون السفن التجارية القادمة الى عمان من منطقة بنجلور بالهند فسعد بذلك حاكم بنجلور الذي ارسل هدية الى الامام تقديرا لجهوده	ارتبطت عمان بعلاقات حسنة مع الدولة العثمانية وذلك عندما نجح الاسطول العماني في تحرير البصرة التي كانت خاضعة للدولة العثمانية فقرر السلطان العثماني مصطفى الثالث صرف مكافاة سنوية للإمام احمد تدفع له من خزينة الدولة فتوثقت العلاقة اكثر	لقد كان التنافس واضحا بين الموانئ العمانية والفارسية على التجارة القادمة من الهند وشرقي افريقيا فقد استاجرت حكومة السيد سعيد بن سلطان الموانئ الفارسية مثل بندر عباس مقابل مبلغ سنوي وهذا يؤكد ان هناك علاقات سلمية وتجارية بينهما

س ١٤ : تحدث باختصار عن المجال العماني لدولة البوسعيد:

ج ١٤ : ازدهرت العمارة العمانية من قلاع وحصون وابراج وقصور ومساجد وقد استخدم العمانيون الحجارة والجص والصاروج العماني في تشييد التحصينات والمباني العمانية التي امتازت بهندستها وتصميماتها وزخارفها التي تظهر على الجدران والسقوف

س ١٥ : ماهي اسهامات العلاقات التجارية في شريقي افريقيا ؟

ج ١٥ : ادت الى نشر الاسلام واللغة العربية بوصفها لغة التجارة والاقتصاد والادارة والحكم

س ١٦ : " اهتمت دولة البوسعيد بالمجال الثقافي في شريقي افريقيا " ما أهم عملين تم تنفيذهما في هذا المجال ؟

ج ١٦ : - تاسيس المطبعة السلطانية في عهد السلطان برغش بن سعيد
- ظهور الصحافة لأول مرة في تاريخ شريقي افريقيا حيث ظهرت صحيفة الفلق والنهضة والاصلاح

س ١٧ : أذكر أهم السلع التجارية المتبادلة بين زنجبار والهند وامريكا وبريطانيا

ج ١٧ : اللؤلؤ والنحاس والملح والزعفران والبخور وغيرها

س ١٨ : تحدث عن ثلاث بنود من الاتفاقية التجارية التي تمت بين عمان وبريطانيا وفرنسا :

ج ١٨ : - توقيع شركة الهند الشرقية الانجليزية معاهدة جارية مع السيد سعيد بن سلطان ١٧٩٨ تسمح بإنشاء وكالة تجارية لها

في بندر عباس وبعد عامين اصبح للشركة ممثلا في مسقط

- انشاء قنصلية فرنسية في مسقط

- احتفاظ السيد سعيد بن سلطان بعلاقات طيبة مع هاتين الدولتين وعقدت معهما الكثير من الاتفاقيات فقد عقد اتفاقا مع بريطانيا

١٨٣٩ وفرنسا عام ١٨٤٤

- زارت السفينة العمانية كارولين في عهد السيد سعيد بن سلطان ميناء مرسيليا الفرنسي عام ١٨٤٩ حاملة الكثير من بضائع الشرق

س ١٩ " تحدث باختصار عن بنود الاتفاقية الاولى بين الولايات المتحدة والسيد سعيد بن سلطان "

- ج ١٩ : ١- نظمت العلاقات الدبلوماسية والاقتصادية بين البلدين
٢- تمتع الامريكيون بامتيازات اقتصادية فقد اصبح الامريكيون يتاجرون داخل اراضي الامبراطورية مقابل ٥% كرسوم عن البضاعة

س ٢٠ : تحدث عن عمق التأثيرات الحضارية التي خلفها العمانيون والتي لاتزال قائمة حتي يومنا هذا في شرقي افريقيا؟

أذكر تأثيرين فقط ؟

- ج ٢٠ : - انتشار الاسلام في المنطقة
- تآثر اللغة السواحلية بالكثير من مفردات اللغة العربية
- انتشار بعض العادات والتقاليد الاجتماعية العمانية في مجال الزي " الدشداشة العمانية " ووجود المجالس " السبلة "

س ٢١ : " يعد الوجود العماني في شرقي افريقيا في عصرالدولة البوسعيدية وجودا حضاريا " وضح ذلك ؟

- ج ٢١ : ١- القيم الحضارية والإنسانية العالية التي اتصف بها العمانيون كالصدق والأمانة والتسامح وهو ما أكسبهم ود الأهالي .
٢- عمق التأثيرات الحضارية التي خلفها العمانيون التي لاتزال قائمة حتى اليوم
٣- تطور الحياة السياسية والإقتصادية والثقافية لشرقي أفريقيا في عهد البوسعيدين حيث إنتقلت زنجبار من جزيرة متواضعة لتصبح مركزا سياسيا واقتصاديا

س ٢٢ ماهي الهدايا التي حملها احمد بن النعمان للرئيس الامريكي ؟

- ج ٢٢ : جوادين عربيين وبعض الجواهر وسيف مطعم بالذهب

س ٢٣ : ماهي الهدايا التي بعثها الرئيس الامريكي للسيد سعيد بن سلطان ؟

- ج ٢٣ : باخرة كبيرة وكمية من الاسلحة الخفيفة

صور ورسوم مهمة



شكل (٦) الإمبراطورية العمانية في عهد السيد سعيد بن سلطان



شكل (١٥) طرق التجارة العمانية للبرية



شكل (٨) خريطة التجارة البرية مع شرقي أفريقيا



شكل (٤) النجدة العمانية لأهل البحرين



شكل (٨) خريطة التجارة البرية مع شرقي أفريقيا



شكل (١٦) خريطة شرقي أفريقيا

السؤال الأول : ضع علامة (✓) أو (✗) أمام العبارة الصحيحة مع تصحيح العبارة الخاطئة :

- ١- (✗) يتم إختيار أعضاء مجلس الشورى عن طريق التصويت (الانتخابات)
- ٢- (✓) نظام الحكم السلطاني وراثي في الذكور من ذرية السيد تركي بن سعيد بن سلطان
- ٣- (✓) حرية الصحافة والطباعة والنشر مكفولة وفقا للشروط والأوضاع التي يبينها القانون
- ٤- (✗) من شروط تعيين أعضاء مجلس الدولة أن لايزيد عمر العضو عن ٣٠ عام (٤٠)
- ٥- (✓) من شروط عضوية مجلس الشورى أن لا يكون قد حكم عليه بعقوبة جنائية أو جريمة شرف

السؤال الثاني : أكمل مايلي بكلمات مناسبة من عندك :

- ١- يتكون مجلس الدولة من مجلس الدولة ومجلس عمان .
- ٢- دين الدولة الإسلام ولغتها الرسمية هي اللغة العربية
- ٣- رئيس الدولة والقائد الأعلى للقوات المسلحة هو السلطان قابوس
- ٤- يتم تعيين أعضاء مجلس الدولة بمرسوم سلطاني .
- ٥- وضع جلالة السلطان قابوس النظام الأساسي للدولة من خلال المرسوم السلطاني رقم ٩٦/١٠١

السؤال الثالث : ضع دائرة حول الإجابة الصحيحة من بين البدائل المعطاه :

- ١- تولى حضرة صاحب الجلالة السلطان قابوس بن سعيد المعظم الحكم في البلاد (٢٣ يوليو ١٩٧٠ - ٢٣ يونيو ١٩٧٠ - ٢٣ سبتمبر ١٩٧٠)

- ٢- يتكون النظام الأساسي للدولة من (٦ - ٧ - ٨) أبواب

- ٣- تشكل مجلس الشورى في نوفمبر عام (١٩٩٠ - ١٩٩١ - ١٩٩٢) م

- ٤- شكل مجلس الدولة في سبتمبر عام (١٩٩٥ - ١٩٩٦ - ١٩٩٧) م

- ٥- من شروط العضوية في مجلس الشورى أن لا يقل المترشح عن (٢٥ - ٣٠ - ٣٥) سنة

السؤال الرابع : ضع المصطلح أمام التعريف الدال عليه مما بين القوسين

- (النظام الأساسي للدولة - الشورى - التنظيم الإداري - النهضة المباركة)

المصطلح	المعنى
التنظيم الإداري	القواعد والأسس والقوانين الموضوعة لتنظيم الأعمال والعلاقات وتحديد الحقوق والواجبات في مختلف مجالات حياة الإنسان
النهضة المباركة	يطلق على التطور الذي شهدته سلطنة عمان في المجالات المختلفة
الشورى	أخذ رأي الآخرين ومشاوراتهم في أمور تخص الدولة والمجتمع
النظام الأساسي للدولة	وثيقة قانونية متكاملة في التاريخ العماني تنظم كافة جوانب العمل والعلاقات في الدو

السؤال الخامس : أجب عن الأسئلة التالية:

س ١ : " للتنظيم الإداري أهمية كبيرة في تسهيل الأمور الحياتية وتقديم الخدمات المطلوبة للمواطنين " أذكر ثلاث من هذه

الخدمات ؟

- ج ١ : - يحدد الجوانب الإدارية اللازمة للخدمات التي تقدمها الدولة للمواطنين .
 - يساعد على إستغلال الوقت في تنفيذ الأعمال ومتابعتها .
 - يعزز الجوانب الإيجابية في العمل الجماعي المشترك والتعاون البناء لخدمة الوطن .
 - يفتح مجالات الإبداع والتفكير في العمل وتطويره في صورة أفضل .
 - يوضح الأعمال المنجزة والأعمال التي تحتاج إلى دراسة ومتابعة .
 - يمكن من وضع رؤية مستقبلية لأعمالنا وعلاقاتنا المشتركة .
 - يساعد على وضع الخطط التدريبية لدراسة سوق العمل ومتطلباته .

س ٢ : وضع جلالة السلطان قابوس النظام الأساسي للدولة من خلال المرسوم السلطاني رقم ٩٦/١٠١ " مم يتكون هذا النظام ؟

- ج ٢ : ١- السلطان " رئيس الدولة
 ٢- مجلس الوزراء
 ٣- المجالس المتخصصة
 ٤- الشؤون المالية
 ٥- مجلس عمان " مجلس الدولة - مجلس الشورى "
 ٦- السلطة القضائية
 ٧- الهيئات والمؤسسات
 ٨- المحافظات والمناطق والولايات

س ٣ : ماذا تستنتج من قول جلالة السلطان قابوس " إن الإنسان هو أداة التنمية وصانعها وهو إلى جانب ذلك هدفها وغايتها " ؟

ج ٣ : نستنتج بأن المواطن يعد عنصرا مهما في تحقيق التطور والتقدم للسلطنة وهو قادر على ذلك من خلال تعاونه وتكاتفه مع الآخرين

س ٤ : ماهو النظام الأساسي للدولة ؟ ومم يتكون ؟

- ج ٤ : هو أول وثيقة قانونية متكاملة في التاريخ العماني تنظم كافة جوانب العمل والعلاقات في الدولة .
 ويتكون من سبعة أبواب هي :
 ١- الدولة ونظام الحكم
 ٢- المبادئ الموجهة
 ٣- الحقوق والواجبات
 ٤- رئيس الدولة
 ٥- مجلس عمان
 ٦- القضاء
 ٧- أحكام عامة

س ٥ : أذكر ثلاث من المواد المتعلقة بالدولة ونظام الحكم في النظام الأساسي للدولة :

- ج ٥ : ١- سلطنة عمان عربية إسلامية مستقلة ذات سيادة تامة عاصمتها مسقط
 ٢- دين الدولة الإسلام ولغتها الرسمية هي اللغة العربية
 ٣- نظام الحكم سلطاني وراثي في الذكور من ذرية السيد تركي بن سعيد بن سلطان
 ٤- يقوم الحكم في السلطنة على أساس العدل والشورى والمساواة وللمواطنين حق المشاركة في الشؤون العامة

س ٦ : أذكر ثلاث من المبادئ الأساسية الموجهة لسياسة الدولة في النظام الأساسي للدولة

- ج ٦ : ١- المبادئ السياسية
٢- المبادئ الاقتصادية
٣- المبادئ الإجتماعية
٤- المبادئ الثقافية
٥- المبادئ الأمنية

س ٧ : أذكر أربعاً من حقوق المواطن التي ينظمها القانون في النظام الأساسي للدولة ؟

- ج ٧ : ١- الجنسية
٢- المساواة
٣- الحرية الشخصية
٤- حرية الشعائر الدينية
٥- حرية الرأي والتعبير عنه بالقول والكتابة وسائر وسائل التعبير
٦- حرية المراسلات البريدية والمخاطبات الهاتفية مصونة وسريتها مكفولة
٧- حرية الصحافة والطباعة والنشر مكفولة وفقاً للشروط والأوضاع التي يبينها القانون

س ٨ : أذكر ثلاث من واجبات المواطن التي ينظمها القانون في النظام الأساسي للدولة ؟

- ج ٨ : ١- الدفاع عن الوطن والحفاظ على الوحدة الوطنية
٢- التعاضد والتراحم بين المواطنين
٣- المحافظة على كيان الأسرة وتقوية أواصر المحبة بين أفرادها
٤- المحافظة على الأموال العامة للدولة وممتلكاتها

س ٩ : من هو رئيس الدولة ؟ وما موقف المواطنين منه ؟

- ج ٩ : هو السلطان وهو رئيس الدولة والقائد الأعلى للقوات المسلحة .
موقف المواطنين : ١- ذاته مصونة لاتمس
٢- وإحترامه واجب
٣- وأمره مطاع ،
٤- وهو رمز الوحدة الوطنية والساهر على رعايتها وحمايتها .

س ١٠ : عرف الشورى ؟ وأهميتها ؟ :

- ج ١٠ : الشورى أخذ رأي الآخرين ومشاوراتهم في أمور تخص الدولة والمجتمع .
أهمية الشورى :
- التفاهم والثقة والحوار بين الناس
- المشاركة في تطوير المجتمع العماني في مختلف الجوانب والمجالات
- طرح الموضوعات والإحتياجات الضرورية للمواطنين ومناقشتها ووضع التوصيات بشأنها
- تقديم المقترحات المناسبة في العديد من الموضوعات التي تهم المواطن والمجتمع العماني
- ترسيخ وعي المواطنين بأهمية الشورى والتعاون في تحقيقها

س ١١ : ما أهمية الجولات السلطانية التي يقوم بها جلالة السلطان في ربوع عماننا الحبيبة ؟

- ج ١١ : - توثق علاقة جلالتة بالمواطنين
- تعطي الفرصة للمواطنين لمتابعة متطلبات التنمية الوطنية
- تحقق التفاعل والتواصل بين كل قطاعات المجتمع

س١٢ : مم يتكون مجلس عمان ؟

- ج ١٢ : ١- مجلس الشورى
٢- مجلس الدولة

س١٣ : متى شكل مجلس الشورى ؟ ومم يتكون ؟

- ج ١٣ : تشكل في نوفمبر عام ١٩٩١م ويتكون من أعضاء يمثلون ولايات السلطنة حيث يتم إختيارهم عن طريق الانتخابات وترشيح المواطنين

س ١٤ : ماهي شروط العضوية بمجلس الشورى ؟

ج ١٤ : شروط العضوية بالمجلس هي :

- ١- أن يكون عماني الجنسية بصفة أصلية وفقا للقانون
- ٢- أن لا تقل سنه عن ثلاثين سنة ميلادية
- ٣- أن يكون من ذوي المكانة والسمعة الحسنة ولديه خبرة عملية مناسبة وأن لا يكون قد حكم عليه بعقوبة جنائية أو جريمة شرف

س١٥ : متى شكل مجلس الدولة ؟ ومم يتكون ؟

- ج ١٥ : تشكل في ديسمبر ١٩٩٧م ويتكون من أعضاء يتم تعيينهم بمرسوم سلطاني

س ١٦ : وماهي شروط العضوية بمجلس الدولة ؟

ج١٦ : شروط العضوية بمجلس الدولة هي :

- ١- أن يكون عماني الجنسية بصفة أصلية وفقا للقانون
- ٢- أن لا تقل سنه عن أربعين سنة ميلادة
- ٣- أن يكون من ذوي المكانة والسمعة الحسنة ولديه خبرة عملية مناسبة وأن لا يكون قد حكم عليه بعقوبة جنائية أو جريمة شرف

بنك أسئلة لمادة الدراسات الاجتماعية/ للصف الثامن الجزء الأول

الفصل الدراسي الاول (أسئلة موضوعية)

م	نوع السؤال	السؤال	نموذج الاجابة	الوحدة-الدرس- الصفحة	ملاحظات
1	فهم	هو حالة الجو في ظواهره المختلفة من حرارة وضغط جوي ورطوبة ورياح في مكان معين وخلال فترة زمنية قصيرة:-	أ- المناخ ص12	1-1ص12	
		أ- المناخ ب- الضغط الجوي ج- الطقس د- الاعصار			
2	فهم	تكون الاشعة العمودية اكثر حرارة من الاشعة المائلة وذلك يعود :-	ج- الاشعة العمودية تغطي مساحة ضيقة	1-1ص14	
		أ- قرب الاشعة العمودية من الارض ب- الاشعة المائلة تغطي مساحة واسعة ج- الاشعة العمودية تغطي مساحة ضيقة د- دوران الارض حول نفسها			
3	تذكر	أقصى مكان تتعامد عليه اشعة الشمس شمال الكرة الارضية هو:-	د- مدار السرطان	1-1ص14	
		أ- القطب الشمالي ب- مدار الجدي ج- خط الاستواء د- مدار السرطان			
4	فهم	يعرف الفرق بين اعلي درجة حرارة وادني درجة حرارة تسجلان خلال فترة زمنية معينة :-	د- المدى الحراري	1-1ص16	
		أ-الطقس ب-المناخ ج-الضغط الجوي د- المدى الحراري			

بنك أسئلة لمادة الدراسات الاجتماعية للصف الثامن الجزء الأول

م	نوع السؤال	السؤال	نموذج الإجابة	الوحدة-الدرس-الصفحة	ملاحظات
5	فهم	تدعي حركة المياه السطحية للبحار والمحيطات الناتجة عن دفع الرياح لها وتكون هذه الحركة بشكل دائري :-	ب-التيارات البحرية	1-1ص16	
		أ-الامواج			
6	تذكر	تلعب التيارات البحرية دورا مهما وتأثر واضح على الحرارة وسقوط الامطار ومن امثلة التيارات الباردة :-	ب-تيار بنجويلا	1-1ص16	
		أ-تيار غينيا			
7	تذكر	يرجع بدء تاريخ الرصد الجوي المنتظم في سلطنة عمان الى عام 1942م في مطار :-	ب-صلاله	1-1ص18	
		أ-مسقط			
8	تذكر	يصل عدد محطات الرصد الجوي في السلطنة الى 29 محطة رصد جوي من بينها محطة رئيسية :-	د-13محطة رئيسية	1-1ص19	
		أ-20			
9	فهم	يتكون المناخ من مجموعة من العناصر المؤثرة فيه ولكن يعتبر من اهمها :-	ب-الحرارة	2-1ص21	
		أ-الضغط الجوي			

بنك أسئلة لمادة الدراسات الاجتماعية للصف الثامن الجزء الأول

م	نوع السؤال	السؤال	نموذج الإجابة	الوحدة-الدرس-الصفحة	ملاحظات
10	تذكر	تنقسم مصادر الحرارة الى مصادر اساسية ومصادر ثانوية ومن مصادرها الثانوية :-	د-الشهب والبراكين	1-2ص21	
		أ-الاشعاع الشمسي			
11	تذكر	يبلغ مجموع الاشعة الممتصة والتي تأتي من الاشعاع الشمسي الى الارض :-	أ-68%	1-2ص23	
		أ-15%			
12	تذكر	يسمى الجهاز الذي يستخدم لقياس درجة الحرارة بطريقة يدوية :-	أ-الترمومتر الزئبقي	1-2ص25	
		أ-الترمومتر الزئبقي			
13	تذكر	للتحويل من النظام السيليزي الى النظام الفهرنهايتي نستخدم المعادلة الاتية:-	ب- $^{\circ}\text{ف} = 5/9 \times 32 +$	1-2ص25	
		أ- $^{\circ}\text{س} = 5/9 \times 32 +$			

بنك أسئلة لمادة الدراسات الاجتماعية للصف الثامن الجزء الأول

م	نوع السؤال	السؤال	نموذج الإجابة	الوحدة-الدرس-الصفحة	ملاحظات
14	تذكر	يقاس الضغط الجوي بعدة أجهزة ولكن هناك جهاز معروف بالدقة المتناهية هو:-	أ-المايكروباروجراف	1-2ص30	
		أ-المايكرو باروجراف			
15	فهم	يطلق على الحركة الأفقية للهواء من مكان الى اخر على سطح الارض والذي ينشأ نتيجة اختلاف الضغط الجوي بين منطقة واخرى:-	د-الرياح	1-2ص31	
		أ-الامطار			
16	تذكر	يتم تحديد اتجاه الرياح بواسطة دوارة الرياح بينما تقاس سرعة الرياح بواسطة :-	ا-الانيوميتر	1-2ص31	
		أ-الانيوميتر			
17	فهم	حالة الاضطرابات التي تحدث في الجو وبشكل مؤقت في مناطق جاذبة للرياح وينتج عنها تكون السحب وسقوط الامطار:-	أ-المنخفضات الجغرافية	1-2ص36	
		أ-الجبهات الهوائية			
18	فهم	عبارة عن ظواهر مناخية تحدث نتيجة انخفاض الضغط الجوي بشدة وتصحبها رياح عاتية وفيضانات:-	ج-الاعاصير	1-2ص36	
		أ-الامطار التضاريسية			

بنك أسئلة لمادة الدراسات الاجتماعية للصف الثامن الجزء الأول

م	نوع السؤال	السؤال	نموذج الإجابة	الوحدة-الدرس-الصفحة	ملاحظات
19	فهم	يعبر عن كمية بخار الماء العالق في الهواء في حالة غير مرئية والناجمة عن عملية التبخر تحت تأثير حرارة الشمس:-	ب-الرطوبة	1-2ص36	
		أ-التكاثف ب-الرطوبة ج-الضباب د-الندى			
20	فهم	تجمع كبير من قطيرات صغيرة من الماء المتطايرة في الجو بالقرب من سطح الارض تؤدي الي ضعف الرؤيا ما دون الف متر:-	ج-الضباب	1-2ص38	
		أ-الرطوبة ب-الندى ج-الضباب د-نقطة الندى			
21	فهم	وحدة مكانية لها خصائص مشتركة تميزها عن غيرها من الاماكن الاخرى :-	أ-الاقليم	1-3ص42	
		أ-الاقليم ب-الدولة ج-الارض د-المناخ			
22	تذكر	تتكون المنخفضات الجوية في فصل الشتاء على حوض البحر المتوسط نتيجة هبوب الرياح :-	ج-العكسية	1-3ص48	
		أ-الموسمية ب-التجارية ج-العكسية د-الدائمة			
23	تذكر	يتأثر حوض البحر المتوسط في فصل الصيف برياح جافة ولا تسبب سقوط الامطار :-	أ-التجارية القارية	1-3ص48	
		أ-التجارية القارية ب-العكسية ج-الموسمية د-المدارية			

بنك أسئلة لمادة الدراسات الاجتماعية للصف الثامن الجزء الأول

م	نوع السؤال	السؤال	نموذج الإجابة	الوحدة-الدرس-الصفحة	ملاحظات
24	تذكر	شهدت عمان في نهاية دولة اليعاربة وضعاً سياسياً مضطرباً وذلك بعد وفاة :-	أ-سلطان بن سيف	1-2ص54	
		أ- سلطان بن سيف الثاني			
25	تذكر	الشخصية العمانية التي استطاعت اخراج الفرس من صحار من بقية عمان هو:-	ج-احمد بن سعيد	1-2ص55	
		أ-احمد بن سلطان			
26	تذكر	ولد الامام احمد بن سعيد البوسعيدي بولاية :-	ب-صحار	1-2ص55	
		أ-نزوي			
27	تذكر	تعتبر الفترة الذهبية بالنسبة للتاريخ العماني فترة حكم السيد :-	أ-سعيد بن سلطان	1-2ص60	
		أ-سعيد بن سلطان			

بنك أسئلة لمادة الدراسات الاجتماعية للصف الثامن الجزء الأول

م	نوع السؤال	السؤال	نموذج الإجابة	الوحدة-الدرس-الصفحة	ملاحظات
28	تذكر	الفترة التي تميز فيها الاسطول العماني بالقوة والنفوذ على مساحات واسعة من البحار والمحيطات في عهد السيد:-	أ-سعيد بن سلطان	1-2ص63	
		أ-سعيد بن سلطان			
29	فهم	جهاز اداري يتولى فرض رسوم وتحصيلها على البضائع الواردة الى موانئ الدولة:-	ا-الجمرك	1-2ص65	
		ا-الجمرك			
30	تذكر	القصر الذي بناه السيد برغش بن سعيد في زنجبار:-	ج-العجائب	1-2ص69	
		ا-بيت العلم			
31	تذكر	وقعت حكومة سعيد بن سلطان عام 1798م اتفاقية تجارية تسمح بإنشاء وكالة تجارية لها في بندر عباس مع الشركة :-	أ-الهند الشرقية الانجليزية	2-3ص73	
		أ-الهند الشرقية الانجليزية			
23	تذكر	تم ابرام اول اتفاقية بين السيد سعيد بن سلطان والولايات المتحدة الامريكية فيما يتعلق بالأمور التجارية وتوطيد العلاقات بينهم عام :-	ج-1833	2-3ص76	
		ا-1633م			

بنك أسئلة لمادة الدراسات الاجتماعية للصف الثامن الجزء الأول

م	نوع السؤال	السؤال	نموذج الإجابة	الوحدة -الدرس- الصفحة	ملاحظات
33	تذكر	السفينة التي أرسلها السيد سعيد بن سلطان لتعزيز العلاقات السياسية والتجارية مع الولايات المتحدة الأمريكية عام 1840 م:-	ب-سلطنة	2-3ص76	
		أ-الرحماني ب-سلطنة ج-فلك السلامة د-السلطانية			
34	تذكر	تولى صاحب الجلالة السلطان قابوس مقاليد الحكم بداية 23 يوليو عام :-	ج-1970	3-1ص81	
		أ-1950 ب-1965 ج-1970 د-1975			
35	فهم	اطلق على التطور الذي شهدت سلطنة عمان في المجالات الاجتماعية والاقتصادية والسياسية في بداية يوليو 1970م:-	ج-النهضة المباركة	3-1ص86	
		أ-النظام الاداري للدولة ب-النظام الاساسي ج-النهضة المباركة د-الدستور العماني			
36	تذكر	يعتبر نظام الحكم في سلطنة عمان سلطاني وراثي في الذكور وذلك من ذرية :-	أ- تركي بن سعيد بن سلطان	3-2ص86	
		أ-تركي بن سعيد بن سلطان ب-سعيد بن تيمور ج-طارق بن تيمور د-فيصل بن تركي			
38	تذكر	تم تشكيل مجلس الشورى كتطوير للمجلس الاستشاري والذي يمثل اعضاءه من كافة الولايات وذلك عام :-	ج-1991	3-3ص96	
		أ-1983م ب-1994م ج-1991م د-2001م			