

شكراً لتحميلك هذا الملف من موقع المناهج العمانية



الاختبار النهائي الرسمي في محافظة مسقط

[موقع المناهج](#) ← [المناهج العمانية](#) ← [الصف الثامن](#) ← [اجتماعيات](#) ← [الفصل الثاني](#) ← [الملف](#)

تاريخ نشر الملف على موقع المناهج: 09:03:29 2023-05-17

التواصل الاجتماعي بحسب الصف الثامن



روابط مواد الصف الثامن على تلغرام

[الرياضيات](#)

[اللغة الانجليزية](#)

[اللغة العربية](#)

[التربية الاسلامية](#)

المزيد من الملفات بحسب الصف الثامن والمادة اجتماعيات في الفصل الثاني

نموذج إجابة الاختبار النهائي الرسمي في محافظة مسقط	1
الاختبار النهائي الرسمي في محافظة مسقط	2
الامتحان الرسمي النهائي لمحافظة الداخلية	3
الاختبار النهائي الرسمي في محافظة الظاهرة	4
الامتحان النهائي الرسمي الفترة الصباحية بمحافظة جنوب الباطنة	5

(٤) المادة : الدراسات الاجتماعية الصف : الثامن - الدور الأول - الفصل الدراسي الثاني
العام الدراسي ٢٠٢٣/٢٠٢٢م

تابع السؤال الثاني : أجب عن الأسئلة التالية :

ثالثاً : انسب الشخصيات التالية إلى الإنجاز الذي قام به وفق الجدول الآتي :
[جاك كارتييه - جيمس واط - يوحنا جوننتبرج - الأمير هنري]

الشخصية	الإنجاز
	تمكن من صنع أول آلة طباعة تعمل باليد
	أنشأ مدرسة للبحارة وبناء السفن
	اخترع المحرك البخاري

السؤال الثالث: أجب عن الأسئلة التالية:

٨


أولاً: أمامك خريطة سلطنة عمان؛ ادرسها جيداً ثم أجب عن الأسئلة التي الآتية:



١- أذكر الحوض المائي الموجود بالمحافظة المشار إليها بالرقم (١).

٢- عدد اثنتين من الولايات التي يزودها بالماء.


.....(أ)
.....(ب)

٣- ارسم الرمز  على المحافظة التي زارها الرحالة ابن بطوطة على الخريطة .

٤- ظلل المحافظة التي تمثل المنطقة المركزية لسلطنة عمان سياسياً وإدارياً .

المادة : الدراسات الاجتماعية الصف : الثامن - الدور الأول - الفصل الدراسي الثاني
(٣)
العام الدراسي ٢٠٢٢/٢٠٢٣ م

تابع : السؤال الأول : ضع دائرة حول رمز الإجابة الصحيحة لكل مفردة من المفردات الآتية:
١١ - العام الميلادي الذي أبحرت فيه السفينة العمانية الواضحة بالصورة إلى ميناء كانتون بالصين :



(أ) ١٩٧٥

(ب) ١٩٨٠

(ج) ١٩٨٥

(د) ١٩٩٠

١٢ - السد الذي أنشئ بهدف التخزين والاستفادة منه وقت الجفاف:
(أ) وادي تنوف (ب) وادي الفليج (ج) الجبل الأخضر (د) وادي الخوض

السؤال الثاني : أجب عن الأسئلة التالية :

٨



أولاً : ادرس الشكل المقابل ثم أجب عن الأسئلة الآتية :

١ - سم المشكلة المائية التي يوضحها الشكل .

٢ - استنتج نتيجة واحدة مترتبة على هذه المشكلة

ثانياً : إقرأ النص التالي ؛ ثم أجب عن الأسئلة التي تليه :

[[كان لها دوراً بارزاً في مسيرة الحضارة العمانية ؛ لا يزال يتألق نوراً وضياءً ، ورفعةً وجلالاً ، لقد كانت نزوى معقل القادة والعظماء ، وموئل العلماء والفقهاء ، ومرتاد الشعر والأدباء ، فأعظم بها من مدينة لها في قلوب العمانيين منزلةً عاليةً]]

١ - من قائل هذا النص .

٢ - المحافظة التي تنتمي إليها هذه المدينة .

٣ - الاسم الذي أطلق على هذه المدينة في عهد الإمام غسان بن عبدالله .

المادة : الدراسات الاجتماعية الصف : الثامن - الدور الأول - الفصل الدراسي الثاني
العام الدراسي ٢٠٢٢/٢٠٢٣ م (٦)


السؤال الرابع : أجب عن الأسئلة التالية :

٦

- ١- تَقع على السهل الفيضي لوادي السحتن وتحيط بها الجبال من عدة جهات .
- ٢- وصفها المقدسي بأنها قصبه عمان حين زارها في القرن العاشر الميلادي .
- ٣- تتميز بمناخ استثنائي في فصل الصيف عن بقية مدن السلطنة .
- ٤- تعد منطقة البليد من أبرز معالمها الأثرية والتاريخية .
- ٥- يوجد بها حصن الحزم الذي شيده الإمام سلطان بن سيف اليعربي
- ٦- اشتهرت منذ القدم بتصدير النحاس إلى الصين وإيران والعراق .

صحار	الرسثاق	صلالة

ثانيا : تأمل الشكل التالي ثم اجب عن الأسئلة التالية .



١- استنتج العامل الطبيعي في انتاج الطاقة الكهربائية .

٢- اعط مثالا على دولة عربية وظفت هذه الطريقة في توليد الطاقة الكهربائية .

٣- عبر بأسلوبك طريقة توليد الكهرباء بهذه الطريقة

(٢)
المادة : الدراسات الاجتماعية الصف : الثامن - الدور الأول - الفصل الدراسي الثاني
العام الدراسي ٢٠٢٢/٢٠٢٣ م

تابع : السؤال الأول : ضع دائرة حول رمز الإجابة الصحيحة لكل مفردة من المفردات الآتية:
٦- الرمز الذي يشير إلى المضيق المائي الذي عبره ماجلان وعرف فيما بعد باسمه :



- (أ) ○
(ب) △
(ج) □
(د) ☆

٧- من المتاحف العمانية التي تشتهر بها مدينة صلالة متحف :
(أ) عمان عبر الزمان (ب) التاريخ الطبيعي (ج) أرض اللبان (د) بيت الزبير

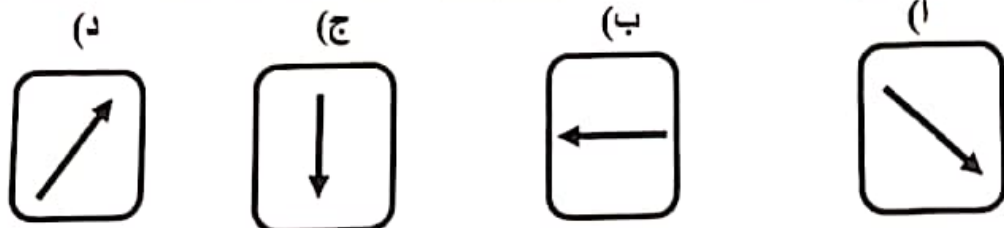
٨- تمثل الصورة المقابلة إحدى المشكلات المائية وهي :



- (أ) استنزاف المياه
(ب) تملح المياه
(ج) تلوث المياه
(د) العجز المائي

٩- القطاع الذي يستهلك أكثر من ثلثي المياه مقارنة مع الاستخدامات الأخرى :
(أ) الصناعة (ب) الزراعة (ج) الاستخدام المنزلي (د) إنتاج الطاقة

١٠- الشكل الذي يشير إلى الاتجاه الصحيح لموقع محافظة مسقط بالنسبة لسلطنة عمان :



(٧)

المادة : الدراسات الاجتماعية الصف : الثامن - الدور الأول - الفصل الدراسي الثاني
العام الدراسي ٢٠٢٢/٢٠٢٣ م

٦

السؤال الخامس : أجب عن الأسئلة التالية :
أولا : اكتب اسم المفهوم / المصطلح الدال على كل عبارة من العبارات التالية :

المفهوم / المصطلح	العبارة
	مسطحات مائية ضحلة تظهر بصورة دائمة أو مؤقتة تنمو فيها النباتات المائية
	فئة من الباحثين الغربيين تخصصوا في دراسة التراث العربي

ثانيا : حدد امام كل معلم المدينة العمانية التي يوجد بها .



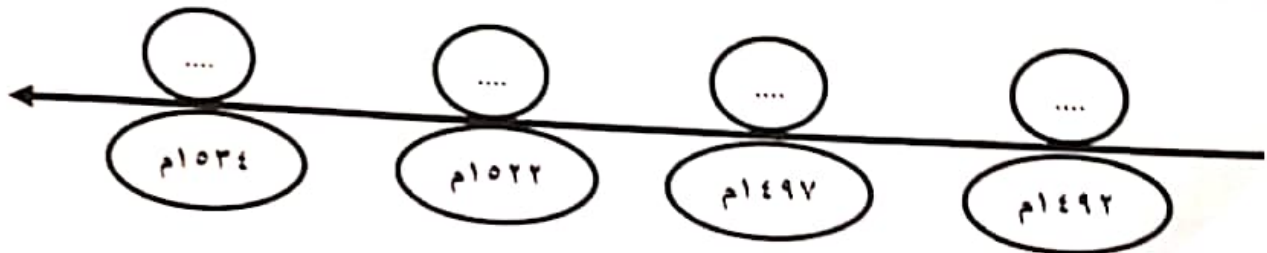
(٢)



(١)

ثالثا : رتب الأحداث التاريخية التالية وذلك بوضع الرموز الصحيحة على المسطرة الزمنية أدناه .

- اكتشاف نهر سانت لويس في كندا على يد جاك كارتييه
- وصل الرحالة البرتغالي فاسكو دي جاما إلى الهند
- وصول أول مجموعة أوروبية بقيادة كريستوفر كولمبس إلى العالم الجديد
- أكمل الرحالة ماجلان رحلته البحرية بإثبات كروية الأرض



انتهت الأسئلة مع أطيب التمنيات بالتوفيق

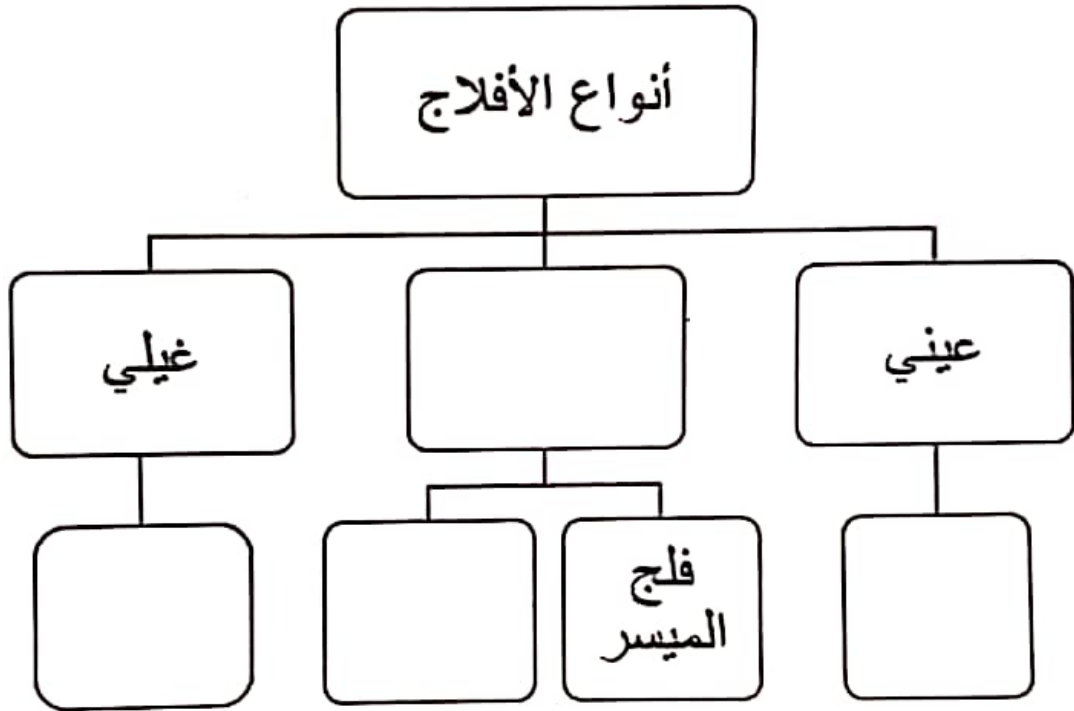
(٥)

المادة : الدراسات الاجتماعية الصف : الثامن - الدور الأول - الفصل الدراسي الثاني
العام الدراسي ٢٢٠٢٣/٢٠٢٢ م

تابع السؤال الثالث : أجب عن الأسئلة التالية :

ثانيا : الخريطة الذهنية التي أمامك توضح أنواع الأفلاج في سلطنة عمان ؛ قم باستكمالها بالمفردات الآتية .

[المزارع - الملكي - عين أرزات - الداودي]



ثالثا : قارن بين النهضة الأوروبية والثورة الصناعية وفق الجدول الآتي .


وجه المقارنة	النهضة الأوروبية	الثورة الصناعية
الدولة التي بدأت بها		
الفترة الزمنية		

(١)
 المادة : الدراسات الاجتماعية الصف : الثامن - الدور الأول - الفصل الدراسي الثاني
 العام الدراسي ٢٠٢٢/٢٠٢٣ م

السؤال الأول: ضع دائرة حول رمز الإجابة الصحيحة لكل مفردة من المفردات الآتية:

١٢

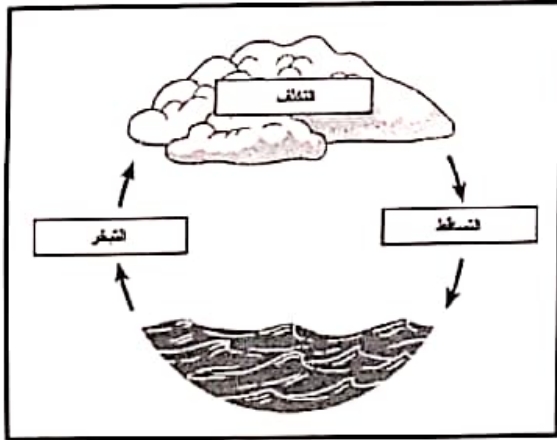
١- الولاية التي تحمل اسم فارسي معرب بمعنى المنطقة القوية والمحصنة :
 (أ) إزكي (ب) صور (ج) الرستاق (د) البريمي



٢- الوظيفة التي تؤديها الآلة الظاهرة في الصورة المقابلة :

(أ) الغزل (ب) بذر الحبوب
 (ج) الطباعة (د) المحرك البخاري

٣- المصدر الرئيسي لطاقة الدورة الموضحة بالصورة :



(أ) القمر (ب) الرياح
 (ج) المد والجزر (د) الشمس

٤- المدينة الإسلامية التي كانت في عام ٩٥٠ م تزدان بثماتين ألف متجر وتضئ ليلا بمصابيح وتشتهر بنظافتها هي :

(أ) إشبيلية (ب) قرطبة (ج) جنوه (د) البندقية

٥- العمود الصحيح الذي يشير إلى معالم مدينة نزوى :

(د)	(ج)	(ب)	(أ)
البليد الأثرية	حصن الحزم	حديقة اليوبيل الفضي	فلج دارس
فلج دارس	أكاديمية السلطان قابوس لعلوم الشرطة	فلج دارس	مسجد اليعاربة
مسجد اليعاربة	فلج دارس	مسجد اليعاربة	أكاديمية السلطان قابوس لعلوم الشرطة