

شكراً لتحميلك هذا الملف من موقع المناهج العمانية



اختبار نهائي رسمي في محافظة شمال الباطنة

[موقع المناهج](#) ← [المناهج العمانية](#) ← [الصف الثامن](#) ← [اجتماعيات](#) ← [الفصل الأول](#) ← [الملف](#)

تاريخ نشر الملف على موقع المناهج: 05:44:07 2024-01-04

التواصل الاجتماعي بحسب الصف الثامن



روابط مواد الصف الثامن على تلغرام

[الرياضيات](#)

[اللغة الانجليزية](#)

[اللغة العربية](#)

[التربية الاسلامية](#)

المزيد من الملفات بحسب الصف الثامن والمادة اجتماعيات في الفصل الأول

اختبار نهائي رسمي في محافظات مسقط وشمال و جنوب الشرقية والداخلية ومسندم والوسطى	1
أسئلة موضوعية ومقالية لدرس المنجزات الحضارية لدولة البوسعيد مع نماذج الإجابة	2
مذكرة إثرائية سؤال وجواب في الوحدة الثالثة	3
تجميع أسئلة اختبارات زاويتي لدرس الطقس والمناخ مع نماذج الإجابة	4

المزيد من الملفات بحسب الصف الثامن والمادة اجتماعيات في الفصل الأول

[نماذج أسئلة اختبارات سابقة](#)

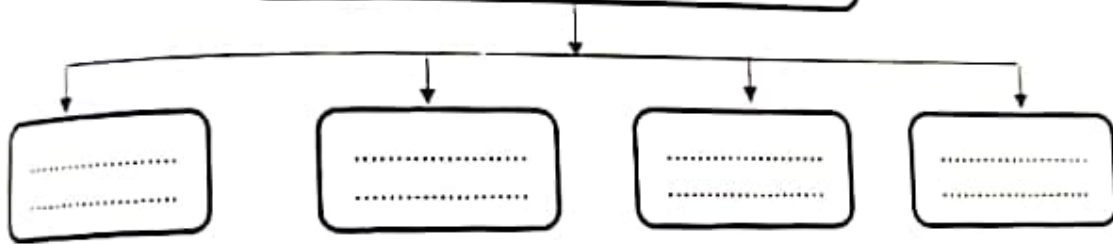
5

السؤال الثالث:
أولاً: أحسب نسبة الرطوبة النسبية ، إذا علمت أن قراءة الترمومتر الجاف (٤٥) درجة سليزية ، وقراءة الترمومتر المبلل (٤٠) درجة سليزية ، بالإستعانة بالجدول التالي.

الفرق بين قراءتي الترمومترين الجاف والمبلل		قراءة الترمومتر		
١	٢	٣	٤	٥
١	٢	٣	٤	٥
١٠	١٣	٨٩	٩٤	٤٧
١٠	١٣	٨٩	٩٤	٤٦
١٠	١٣	٨٩	٩٤	٤٥
١٠	١٣	٨٨	٩٤	٤٤

ثانياً: أكمل المخطط التالي:

العوامل المؤثرة في الطقس و المناخ



ثالثاً: أدرس الصورة التالية جيداً ثم أجب عن الأسئلة التالية:

١- ما نوع الممتلكات التي تعبر عنها الصورة؟


() عامة. () خاصة.
- اختر الإجابة الصحيحة

٢- ما واجبك نحو الممتلكات التي تعبر عنها الصورة؟

.....

.....

.....



الدراسات الاجتماعية
الخاص:
يقول فاطمة أنه كلما ارتفعنا إلى أعلى ١٥٠ متراً تزيد درجة الحرارة درجة واحدة.

هل ماتقوله فاطمة صحيح؟



() لا. اختر الإجابة الصحيحة.

() نعم.

١- برر إجابتك؟

.....
.....

أقارن بين المعالم العمرانية الآتية في الجدول التالي:

		أوجه المقارنة
.....	إسم المعلم
.....	موقعه



لنأ: أنظر إلى الصورة التالية جيداً ،

م أجيب عما يلي:

١- سمي الظاهرة التي يوضحها الشكل؟

.....

٢- فسر نشأة هذه الظاهرة؟

.....



انتهت الأسئلة مع الدعاء للجميع بالتوفيق والنجاح.

أجب عن جميع الأسئلة الآتية

السؤال الأول: ضع دائرة حول رمز الإجابة الصحيحة لكل مشردة من المفردات الآتية:

١- من المصادر الأساسية للحرارة على سطح الأرض:

- أ- البراكين ب- الإشعاع الشمسي ج- الشهب د- النافورات الحارة.

٢- يشير الرقم (٢) في الخريطة المقابلة إلى أحد طرق القوافل البرية العمانية في

شرقي أفريقيا:



أ- الشمالي.

ب- الأوسط.

ج- الجنوبي.

د- الغربي.

٣- عدد أبواب النظام الأساسي للدولة:

- أ- ٤ ب- ٥ ج- ٦ د- ٧.

٤- جميع الأجهزة الآتية أجهزة لقياس الضغط الجوي ما عدا:

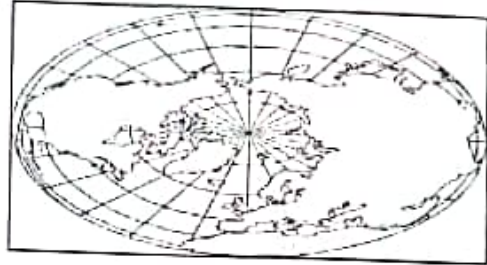
- أ- البارومتر ب- الباروجراف ج- المايكروباروجراف د- الترمومتر.

ج السؤال الأول:

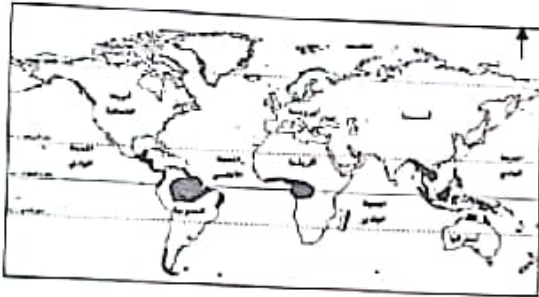
الأقليم المناخي الذي يتميز بسقوط أشعة الشمس عليه بصورة مائلة وإختلاف طول الليل والنهار بين الصيف والشتاء:



ب-



أ-



د-



ج-


يشترط في عضوية مجلس الشورى أن لا يقل سن المترشح عن:

د-٥٠٠ سنة.

ج-٤٠٠ سنة

ب-٣٠٠ سنة

أ-٢٠٠ سنة



تصنف الصورة التي أمامك كإحدى المجالات الحضارية

ولة البوسعيد بشرقى افريقيا المجال:

ب-العمراى

السياسى

د-الاقتصادى.

الثقافى

أقصى مكان تتعامد عليه الشمس جنوب دائرة الاستواء هو:

د-مدار السرطان.

ج-مدار الجدى

ب-القطب الشمالى

أ-القطب الجنوبى

سؤال الثالث:

رابعاً: أجب عما يلي:

١- علل: الإهتمام بمشاريع التشجير وزيادة المسطحات الخضراء في المدن والتجمعات السكانية.

.....

.....

٢- دلل على إرتباط عمان بعلاقات حسنة مع الدولة العثمانية.

.....

.....



السؤال الرابع:

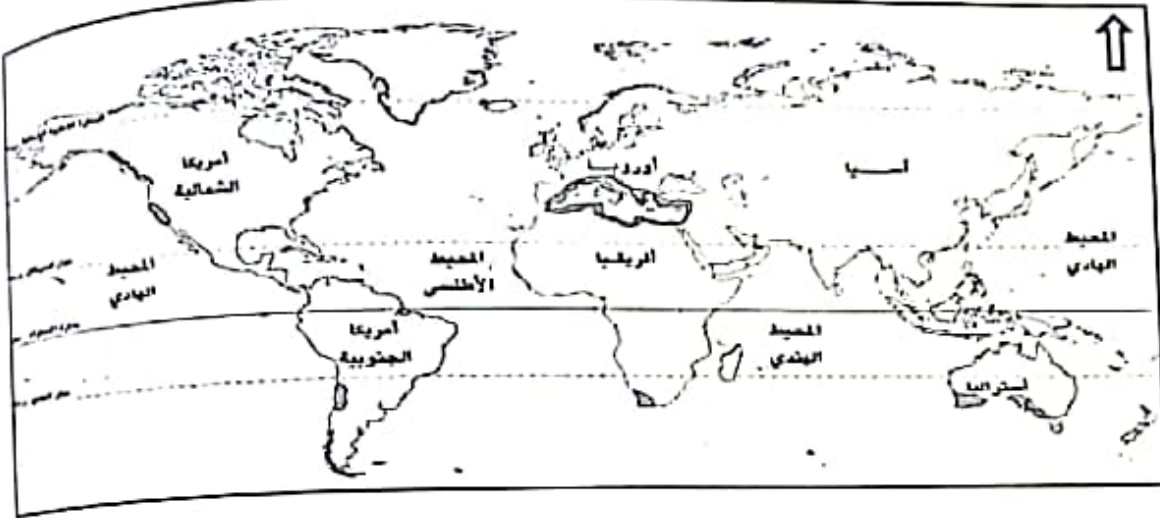
أولاً: صنف مايلي إلى الحقوق والواجبات العامة في النظام الاساسي للدولة لسلطنة عمان .

(الدفاع عن الوطن، الجنسية، الحفاظ على كيان الأسرة، حرية الشعائر الدينية)

الواجبات	الحقوق
.....
.....

تابع السؤال الرابع:

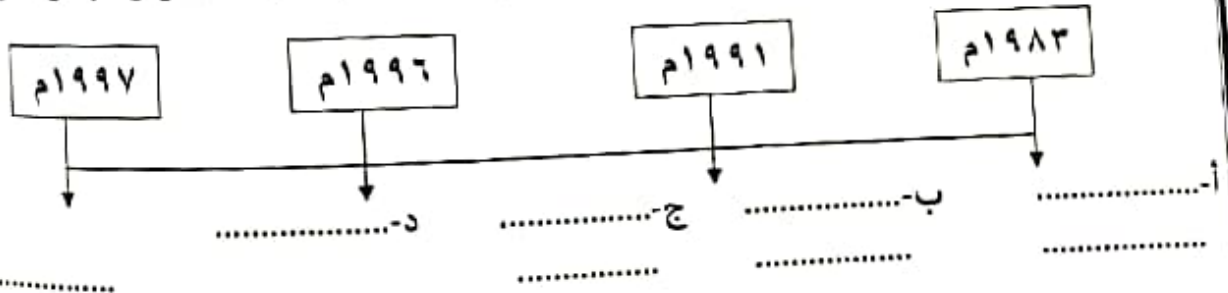
ثانياً: أدرس الخريطة المقابلة جيداً ، ثم أجب عن الاسئلة التالية:



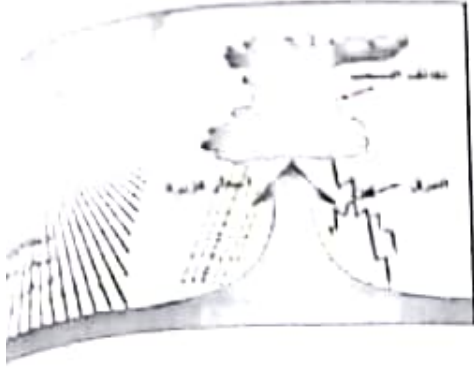
- ١- اسم الاقليم المناخي الذي توضحه الخريطة. (.....).
- ٢- سم الموقع الفلكي لهذا الاقليم. (.....).
- ٣- في أي جهة من قارة أمريكا الجنوبية يظهر هذا الاقليم. (.....).
- ٤- ما سبب سقوط الأمطار شتاءً على هذا الاقليم؟

ثالثاً: رتب الأحداث التالية في المسطرة الزمنية المقابلة:

(صدور النظام الأساسي للدولة - إنشاء المجلس الإستشاري - إنشاء مجلس الشورى - تأسيس مجلس الدولة)



تابع السؤال الأول:



٩- نوع الأمطار الموضحة في الشكل الذي أمامك:

- أ-التضاريسية
ب-الإعصارية
ج-التصاعدية
د-الموسمية.

١٠- الصناعة التي أدخلها العمانيون لأول مرة في الكونغو:

- أ-الجبال
ب-الصابون
ج-الفخار
د-النسيج.



١١- الصورة التالية تمثل أحد المبادئ الموجهة لسياسة الدولة:

- أ-السياسية
ب-الإقتصادية
ج-الثقافية
د-الإجتماعية

١٢- جدول المقارنة الصحيح بين النظام السليزي والنظام الفهرنهيبي:

النظام	درجة الغليان	درجة التجمد
السليزي	٢١٢	٣٢
الفهرنهيبي	١٠٠	٥٠

النظام	درجة الغليان	درجة التجمد
السليزي	٢١٢	٣٢
الفهرنهيبي	١٠٠	صفر

النظام	درجة الغليان	درجة التجمد
السليزي	٣٢	١٠٠
الفهرنهيبي	٣٢	٢١٢

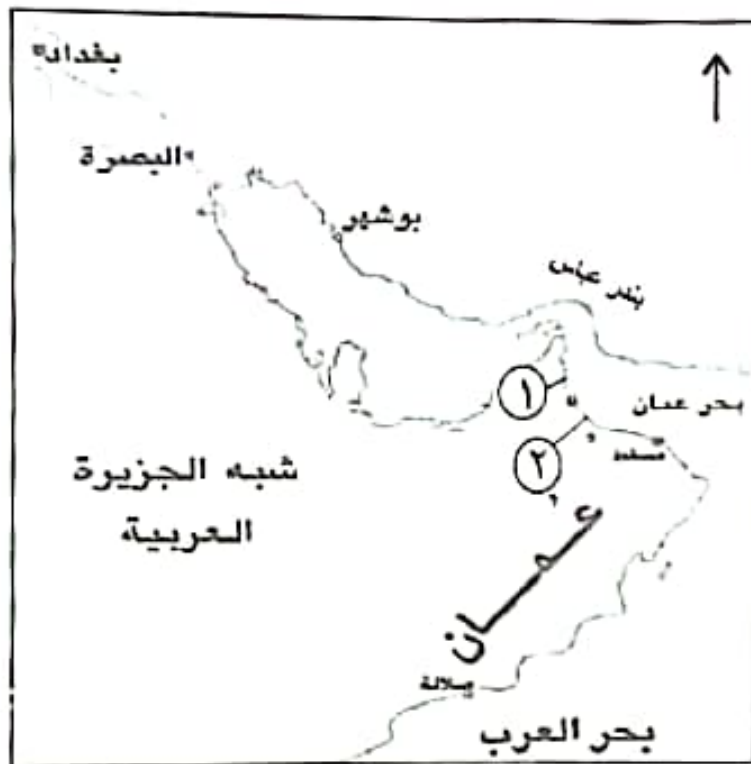
النظام	درجة الغليان	درجة التجمد
السليزي	١٠٠	صفر
الفهرنهيبي	٢١٢	٣٢



أولاً: أكتب المصطلح المناسب أمام كل عبارة في الجدول التالي:

.....	١ حركة المياه السطحية للبحار و المحيطات الناتجة عن مجموعة من العوامل.
.....	٢ جهاز إداري يتولى فرض الرسوم وتحصيلها على البضائع الواردة الى موانيء الدولة.
.....	٣ القواعد والاسس والقوانين الموضوعة لتنظيم الأعمال والعلاقات وتحديد الحقوق والواجبات .

ثانياً: أنظر إلى الخريطة التي أمامك ثم أجب عن الأسئلة التالية:



١- ضع دائرة على اسم الميناء الذي إستأجره السيد سعيد بن سلطان من الدولة الفارسية.

٢- إستخرج مايلي:
أ- الرقم الذي يشير إلى عاصمة عمان
زمن الإمام أحمد بن سعيد (.....).

ب- اسم البحر الذي يحد عمان من جهة الشمال الشرقي (.....).

٣- أرسم على الخريطة خط سير الأسطول العماني لنجدة البصرة.

ثالثاً: ١- أذكر إثنين ممايلي:

أ- الصحف التي ظهرت في شرقي أفريقيا.

.....

ب- منجزات السيد برغش بن سعيد في شرقي أفريقيا.

.....

