

## شكراً لتحميلك هذا الملف من موقع المناهج العمانية



## أسئلة موضوعية ومقالية لدرس المنجزات الحضارية لدولة البوسعيد مع نماذج الإجابة

[موقع المناهج](#) ← [المناهج العمانية](#) ← [الصف الثامن](#) ← [اجتماعيات](#) ← [الفصل الأول](#) ← [الملف](#)

تاريخ نشر الملف على موقع المناهج: 19:09:20 2023-12-07 | اسم المدرس: خيرية المطاعني

## التواصل الاجتماعي بحسب الصف الثامن



## روابط مواد الصف الثامن على تلغرام

[الرياضيات](#)

[اللغة الانجليزية](#)

[اللغة العربية](#)

[التربية الاسلامية](#)

## المزيد من الملفات بحسب الصف الثامن والمادة اجتماعيات في الفصل الأول

<a href="#">مذكرة إثرائية سؤال وجواب في الوحدة الثالثة</a>	1
<a href="#">تجميع أسئلة اختبارات زاويتي لدرس الطقس والمناخ مع نماذج الإجابة</a>	2
<a href="#">نماذج أسئلة اختبارات سابقة</a>	3
<a href="#">مذكرة إثرائية سؤال وجواب في الوحدة الثانية</a>	4
<a href="#">اختبار قصير أول نموذج رابع</a>	5

---

المزيد من الملفات بحسب الصف الثامن والمادة اجتماعيات في الفصل الأول



هيا نتميز في مادة الدراسات الاجتماعية  
للأستاذة :- خيرية المطاعي  
للعام 2023م - 2024م  
درس ( المنجزات الحضارية لدولة البوسعيد )

**الأسئلة الموضوعية :-**

1- كان الفضل للعمانيين في إدخال صناعة الصابون لأول مرة في :-

أ- ممباسا      ب- تنجانيقا      ج- الكونغو      د- البحيرات الاستوائية

2- المطبعة السلطانية والصحافة أحد المنجزات الحضارية لدولة البوسعيد :-

أ- السياسي      ب- الاقتصادي      ج- العمراني      د- الثقافي

3- من طرق القوافل التجارية البرية العمانية في شرقي أفريقيا يمتد من كلوة جنوبي تنجانيقا وشمالى موزمبيق إلى بحيرة نياسا الطريق :-

أ- الشمالى      ب- الجنوبى      ج- الأوسط      د- الغربى

4- الصنعة التى أدخلها العمانيون لأول مرة فى الكونغو هى صنعة :-

أ- الصابون      ب- الفخار      ج- الحبال      د- السيوف

5- تخيل أنك تاجر عمانى وأردت أن تتاجر مع دول شرقى أفريقيا الواقعه على ضفاف نهر الكونغو فالطريق الذى ستسلكه هو الطريق :-

أ- الأوسط      ب- الشمالى      ج- الغربى      د- الجنوبى

6- أول من أدخل زراعة السمسم إل زنجبار هو السيد :-

أ- سعيد بن سلطان      ب- برغش بن سعيد      ج- سلطان بن أحمد      د- سعيد بن أحمد

7- أنطلقت قافلة تجارية من عمان متجهه إلى نهر الكونغو فى شرقى أفريقيا سوف تسلك الطريق :-

أ- الشمالى      ب- الأوسط      ج- الجنوبى      د- الغربى

8-من القصور التي شيدت في عهد البوسعيد في مسقط :-

د-بيت الفلج

ج-العجائب

ب-بيت العلم

أ-المتوني

9-كان الفضل للعمانيين في إدخال الصابون لأول مرة في :-

د-الكونغو

ج-البحيرات الاستوائية

ب-تنجانيقا

أ-مبابسا

10-أقصى بحيرة يصل إليها الطريق الجنوبي للقوافل التجارية العمانية في شرقي أفريقيا حسب الخريطة المقابلة :-

ب-فيكتوريا

أ-تنجانيقا

د-كيوجا

ج-نياسا



11-تمثل الصورة التي أمامك إحدى الصحف التي ظهرت في :-

ب- شرقي أفريقيا

أ-مسقط

د-البصرة

ج-الهند

12-تشير الصورة التي أمامك إلى بناء هو :-

ب-قصر المتوني


أ-قصر الحمراء

د-قصر العلم

ج-قصر العجائب



13-تمثل الصورة التي أمامك أحد المعالم العمرانية في عهد دولة البوسعيد :-



- أ-قلعة نزوى  
ب-حصن البريمي  
ج-قصر المتوني  
د-حصن جبرين

14-المعلم الحضاري الذي أمامك يمثل :-



- أ-قلعة بركاء  
ب-حصن البريمي  
ج-قلعة بهلاء  
د-حصن جبرين

15-تصنف الصورة التي أمامك كأحدى المنجزات الحضارية لدولة البوسعيد بـشـرقـي أفـريقـيا في المجال:



- أ-الإقتصادي  
ب-السياسي  
ج-العمراني  
د-الثقافي

16-من القلاع التي بنيت في عهد الدولة البوسعيدية :-

- أ-بركاء  
ب-نزوى  
ج-صحار  
د-مطرح

17-من المنجزات الحضارية لدولة البوسعيد في المجال السياسي :-

- أ-إدخال زراعة القرنفل في زنجبار  
ب-انتشار المجالس الادبيه  
ج-بناء القلاع والحصون  
د-توحيد الشعب العماني تحت راية واحدة



الأسئلة المقالية :-

1-عرف الجمرك ؟

الإجابة:-

2-صنف البضائع الآتية التي كانت تحملها السفن العمانية بين مسقط والهند – وفقا للجدول الآتي

( خشب الصندل – الأرز – اللؤلؤ – الصوف – اللبان – الأعشاب الطبية )

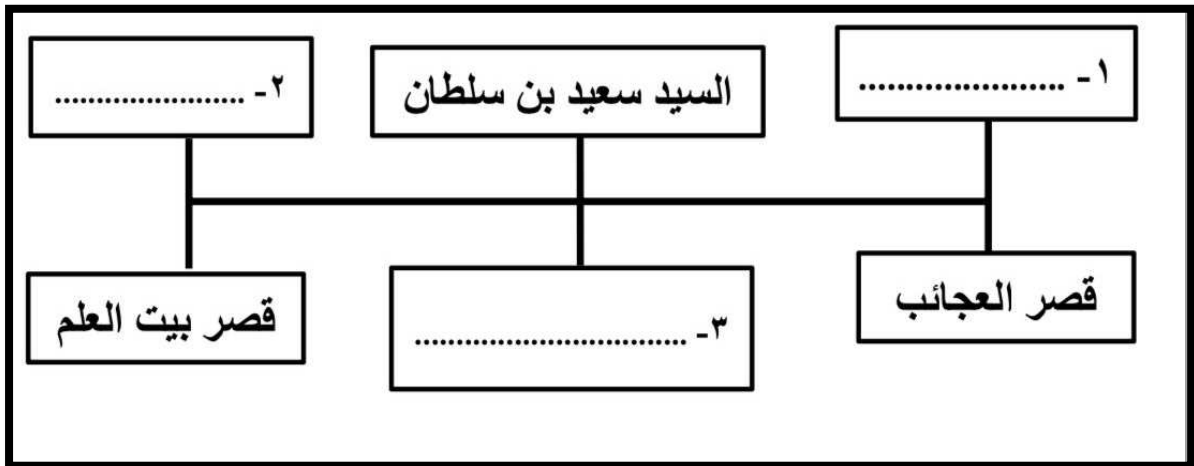
الواردات	الصادرات
.....	.....
.....	.....
.....	.....

3-دلل على صحة العبارات التالية :-

-تميز العمانيون في مجال العمران في عهد البوسعيد .

الإجابة :-

4-أكمل بيانات مخطط الإنجازات العمرانية في عهد البوسعيد :-





5- أنسب الأعمال التالية بكتابة إسم الشخصية التي نفذتها :-


الأعمال	الشخصيات
1-تأسيس المطبعة السلطانية	.....
2-شيد قصر المتوني في زنجبار	.....

6-دلل على إهتمام السيد سعيد بن سلطان بالزراعة في زنجبار .

الإجابة:-

.....

7-قارن بين الصورتين من حيث :-



وجه المقارنه	الصورة رقم ( 1 )	الصورة رقم ( 2 )
إسم المعلم		
الموقع		

8-صنف الآتي إلى فروعه :-

-طرق القوافل التجارية البرية العمانية في شرقي أفريقيا .

الإجابة :-

.....

9-صنف المنجزات الحضارية لدولة البوسعيد في الجدول التالي :-

(إدخال زراعة القرنفل والبن والسّمسم – توحيد الشعب العماني – انتشار مدارس تعليم القرآن – تطوير صنّاعه الزيوت ) .

.....	المجال السياسي
.....	المجال الاقتصادي
.....	المجال الثقافي

10-أنسب القلاع والحصون الآتية إلى الإمام الذي شيدها وقم بكتابتها في الجدول :-

(قصر المتوني – قصر بيت العلم – قلعة بركاء – حصن البريمي )

سعيد بن سلطان	أحمد بن سعيد	سلطان بن أحمد
.....	.....	.....

11-عدد اثنين من :-

-أهم الطرق التي سلكتها القوافل التجارية البرية العمانية في شرقي أفريقيا .

الإجابة :-

.....

12-دلل على إهتمام دولة البوسعيد بالمجال الثقافي .

الإجابة :-

.....

13- من خلال المعلم الحضاري الواضح في الصورة التي أمامك أجب عن الأسئلة التالية :-



أ- ما إسم المعلم الحضاري الواضح أمامك ؟

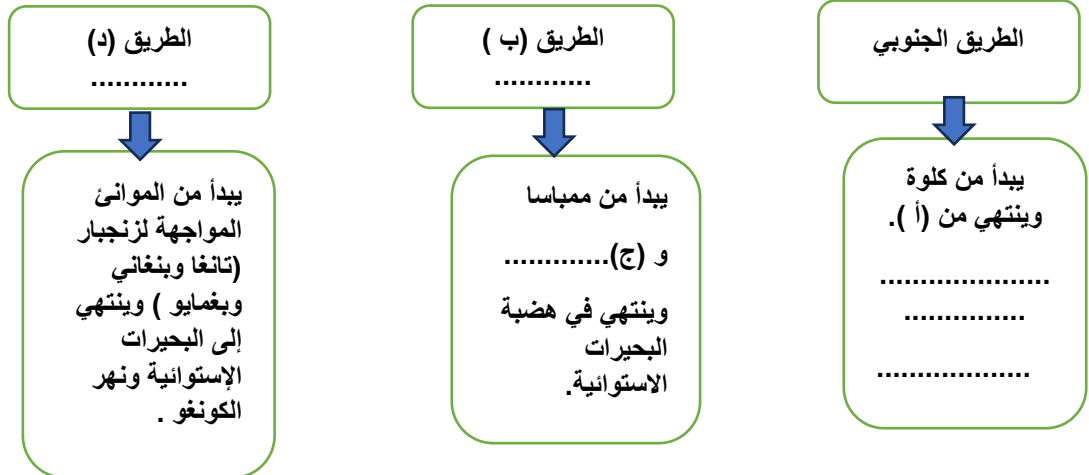
.....

ب- سمي الإمام الذي بني هذا المعلم في عهده ؟

.....

14- أكمل خريطة المفاهيم الآتية :-

طرق القوافل التجارية البرية العمانية في شرق أفريقيا



15- صنف المباني العمرانية حسب الشخصية التي بنتها :-

(قلعة بيت الفلج – حصن البريمي – قصر المتوني – قلعة بركاء )

الإمام أحمد بن سعيد	السيد سعيد بن سلطان
.....	.....
.....	.....

الإجابات على الأسئلة الموضوعية :-

- |                               |                                |
|-------------------------------|--------------------------------|
| 11-الجزئية ( ب ) شرقي أفريقيا | 1-الجزئية(ج) الكونغو           |
| 12-الجزئية ( ج ) قصر العجائب  | 2-الجزئية(د) الثقافي           |
| 13-الجزئية ( ب ) حصن البريمي  | 3-الجزئية(ب) الجنوبي           |
| 14-الجزئية ( أ ) قلعة بركاء   | 4-الجزئية( أ ) الصابون         |
| 15-الجزئية ( د ) الثقافي      | 5-الجزئية( أ ) الأوسط          |
| 16-الجزئية ( أ ) بركاء        | 6-الجزئية (أ)سعيد بن سلطان     |
| 17-الجزئية ( د )              | 7-الجزئية( ب ) الأوسط          |
| 18-الجزئية ( ب )              | 8-الجزئية ( ب ) بيت العلم      |
| 19-الجزئية ( ج )              | 9-الجزئية ( د ) الكونغو        |
| 20-الجزئية (ج)                | 10-الجزئية ( ج ) نياسا         |
| 22-الجزئية ( ب ) 100          | 21-الجزئية ( ج ) سعيد بن سلطان |

الإجابات على الأسئلة المقالية :-

1-الجمرك:-جهاز إداري يتولى فرض الرسوم وتحصيلها على البضائع الواردة إلى موانئ الدولة من الدول الأخرى .

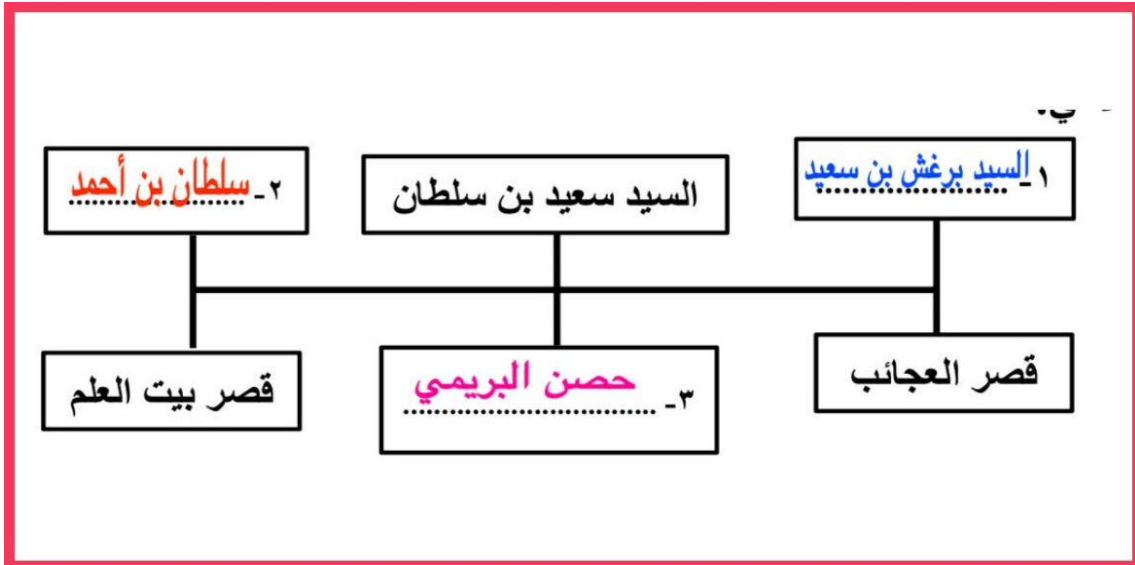
-2

الواردات	الصادرات
الأرز	اللؤلؤ
خشب الصندل	اللبان
الصفوف	الأعشاب الطبية

-3

قلعة بيت الفلج ذات الزخرفة والأسقف المزينة بالطلاء - قلعة بركاء - حصن البريمي - قصر بيت العلم بمسقط - قصر المتوني في زنجبار - قصر العجائب في زنجبار .

-4



-5

الأعمال	الشخصيات
1-تأسيس المطبعة السلطانية	السيد برغش بن سعيد
2-شيد قصر المتوني في زنجبار	السيد سعيد بن سلطان

-6

أدخل زراعة القرنفل والبن والسّمسم لزنجبار – وأهتم بزراعة جوز الهند والحبوب والمطاط والأرز والشعير والبقول وقصب السكر والمانجو والجوافة .

-7

وجه المقارنه	الصورة رقم ( 1 )	الصورة رقم ( 2 )
إسم المعلم	بيت العجائب	قصر العلم
الموقع	زنجبار	مسقط

-8

-الطريق الشمالي – الطريق الأوسط – الطريق الجنوبي

-9

المجال السياسي	توحيد الشعب العماني
المجال الاقتصادي	أدخل زراعته القرنفل والسّمسم البن – تطوير صناعات الزيوت .
المجال الثقافي	إنتشار مدارس القرآن الكريم

-10

سلطان بن أحمد	أحمد بن سعيد	سعيد بن سلطان
قصر بيت العلم	قلعة بركاء	قصر المتوني قلعة بركاء

-11

1- الطريق الشمالي - الطريق الأوسط - الطريق الجنوبي

-12

-تأسيس المطبعة السلطانية في عهد السلطان برغش بن سعيد - إنتشار الكتب  
-ظهور الصحافة لأول مرة في تاريخ شرقي أفريقيا - الفلق - الإصلاح - النهضة -الاهتمام  
بالعلماء والشعراء والأدباء .

-13

أ-قلعة بركاء

ب-الإمام أحمد بن سعيد

-14

( أ ) بحيرة نياسا - ( ب ) الشمالي - ( ج ) ماليندي - ( د ) الشمالي .

-15

الإمام أحمد بن سعيد	السيد سعيد بن سلطان
قلعة بركاء	قصر المتوني
بيت الفلج	حصن البريمي