

تم تحميل هذا الملف من موقع المناهج العُمانية



* للحصول على أوراق عمل لجميع الصفوف وجميع المواد اضغط هنا

<https://almanahj.com/om>

* للحصول على أوراق عمل لجميع مواد الصف الثامن اضغط هنا

<https://almanahj.com/om/8>

* للحصول على جميع أوراق الصف الثامن في مادة اجتماعيات ولجميع الفصول, اضغط هنا

<https://almanahj.com/om/8social>

* للحصول على أوراق عمل لجميع مواد الصف الثامن في مادة اجتماعيات الخاصة بـ الفصل الأول اضغط هنا

<https://almanahj.com/om/8social1>

* لتحميل كتب جميع المواد في جميع الفصول للـ الصف الثامن اضغط هنا

<https://almanahj.com/om/grade8>

* لتحميل جميع ملفات المدرس عمر العزري اضغط هنا

للتحدث إلى بوت على تلغرام: اضغط هنا

https://t.me/omcourse_bot



امتحان مادة : الدراسات الاجتماعية

للسف : الثامن

للعام الدراسي ١٤٣٩ / ١٤٤٠ هـ - ٢٠١٨ / ٢٠١٩ م

الدور الاول - الفصل الدراسي الاول

- زمن الامتحان : (ساعة ونصف) • عدد صفحات أسئلة الامتحان : (٦) صفحات.
- الإجابة في الدفتر نفسه .

		اسم الطالب
الصف		المدرسة

التوقيع بالاسم		الدرجة		السؤال
المصحح الثاني	المصحح الأول	بالحروف	بالأرقام	
				١
				٢
				٣
				٤
				٥
مراجعة الجمع	جمعه			المجموع
				المجموع الكلي

(١)

المادة : الدراسات الاجتماعية الصف : الثامن الدور الأول - الفصل الدراسي الأول
العام الدراسي ٢٠١٨/٢٠١٩ م

أجب عن جميع الأسئلة الآتية

السؤال الأول: ضع دائرة حول رمز الإجابة الصحيحة لكل مفردة من المفردات الآتية :

١- أقصى مكان تتعامد عليه أشعة الشمس شمال دائرة الاستواء :

- أ- مدار الجدي
ب- مدار السرطان
ج- القطب الشمالي
د- القطب الجنوبي

٢- السلطان الذي أمر ببناء السفينة ليفربول :

- أ- أحمد بن سعيد
ب- سلطان بن أحمد
ج- سعيد بن سلطان
د- سلطان بن سعيد

٣- الصورة التي أمامك توضح حق من الحقوق التي ينظمها القانون للمواطنين :



- أ- الجنسية
ب- المساواة
ج- حرية الشعائر الدينية
د- الحرية الشخصية

٤- سافر أحمد إلى زنجبار لزيارة أحد أقاربه ولاحظ أن أهل زنجبار يتحدثون بلغة مختلفة ولكن بها العديد من المفردات العربية هي :

- أ- اللغة السواحيلية
ب- اللغة الأفريقية
ج- اللغة العربية
د- اللغة الفارسية

٥- توضح الخريطة الحملة العمانية لنجدة أهل :



- أ- البصرة
ب- البحرين
ج- فارس
د- التضاريسية

٦- من معالم العمارة العمانية في زنجبار والتي بناها السيد برغش بن سعيد :

- أ- بيت الفلج
ب- المتوني
ج- العجائب
د- العلم

(٢)

المادة : الدراسات الاجتماعية الصف : الثامن الدور الأول - الفصل الدراسي الأول
العام الدراسي ٢٠١٨/٢٠١٩ م

تابع السؤال الأول :

٧- يطلق على أول وثيقة قانونية متكاملة في التاريخ العماني و التي تنظم كافة جوانب العمل و العلاقات في الدولة اسم :

- أ- النظام الأساسي للدولة
ب- النظام السياسي للدولة
ج- النظام الإداري للدولة
د- النظام الاجتماعي للدولة

٨- من خلال الخريطة التي أمامك القارة الوحيدة التي لا يظهر فيها



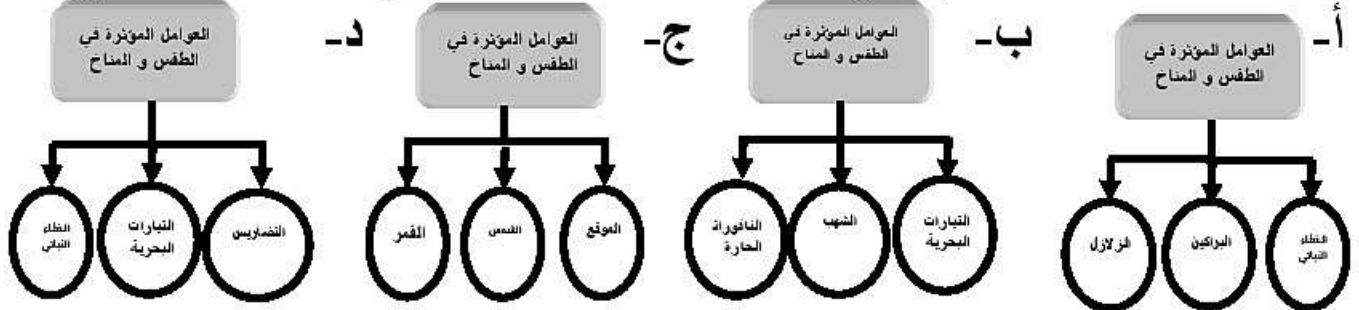
صحاري هي القارة المشار إليها بالرقم :

- أ- ١
ب- ٢
ج- ٣
د- ٤

٩- تتكون المنخفضات الجوية في فصل الشتاء على حوض البحر المتوسط نتيجة هبوب :

- أ- الرياح التجارية
ب- الرياح الموسمية
ج- الرياح الغربية
د- الرياح العكسية

١٠- خريطة المفاهيم التي تمثل العوامل المؤثرة في الطقس و المناخ :



١١- صعد أحمد قمة أحد الجبال التي يرتفع حوال ٩٠٠ م عن مستوى سطح البحر، فكم تبلغ درجة الحرارة في أعلى الجبل إذا علمت أن درجة الحرارة أسفل الجبل ٢٠ س :

- أ- ١٤ س
ب- ١٥ س
ج- ٢٠ س
د- ٢١ س

١٢- من خلال الاعلان يظهر السبب في عدم أحقية أحمد في الترشيح



الاسم : أحمد بن محمد
الجنسية : عماني
العمر : ٢٥ عاماً
الولاية : بوشر

لعضوية مجلس الشورى هو :

- أ- الخبرة
ب- الجنسية
ج- المكانة و السمعة
د- العمر

(٣)

المادة : الدراسات الاجتماعية الصف : الثامن الدور الأول - الفصل الدراسي الأول
العام الدراسي ٢٠١٨/٢٠١٩ م

السؤال الثاني :

أ- عرف المقصود بكل من :

١- المدى الحراري .

.....

.....

٢- الجمرک .

.....

.....

ب- علل لما يلي :

١- يحرص الناس على سماع النشرة الجوية .

.....

.....

٢- عدد اثنين من مصادر الحرارة الأساسية على الأرض .

.....

.....

ج- رتب الاحداث الآتية حسب سنوات تأسيسها :

(مجلس الشورى / صدور النظام الأساسي / المجلس الاستشاري /
مجلس الدولة) .

الحدث	الترتيب
	١
	٢
	٣
	٤

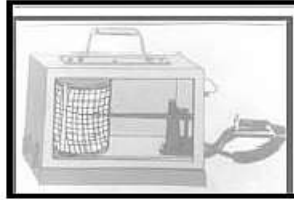
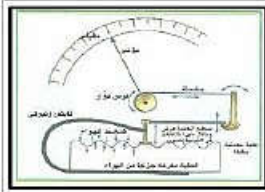
يتبع / ٤

(٤)

المادة الدراسات الاجتماعية الصف : الثامن الدور الأول - الفصل الدراسي الأول
العام الدراسي ٢٠١٨/٢٠١٩ م

السؤال الثالث :

أ- قارن بين الأجهزة الظاهرة في الصور حسب الجدول التالي :



اسم الجهاز		
استخدامه		

ب- أجب عن الأسئلة التالية :

١- أكمل المسطرة الزمنية التي تمثل بعض الأحداث التي حدثت في عهد السيد سعيد بن سلطان :

١٨٣٢م	١٨٤٠م
اتخاذ زنجبار عاصمة ثانية لعمان	توقيع اول اتفاقية مع الولايات المتحدة الأمريكية

٢- أذكر اثنين من الهدايا التي حملها مبعوث السيد سعيد بن سلطان للرئيس الأمريكي .

ج- صنف أرقام الصور التي أمامك الى ممتلكات عامة و ممتلكات خاصة :



(٤)



(٣)



(٢)



(١)

الممتلكات الخاصة	الممتلكات العامة

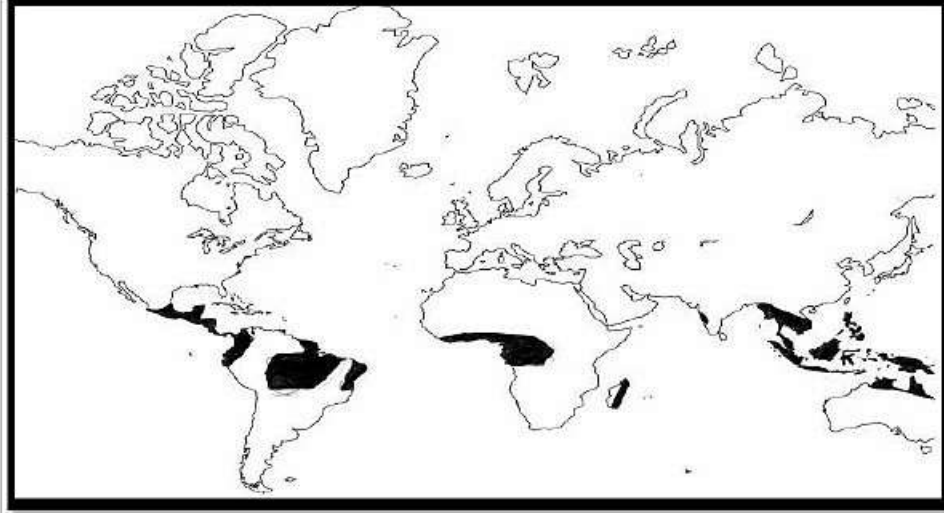
يتبع/٥

(٥)

المادة : الدراسات الاجتماعية الصف : الثامن الدور الأول - الفصل الدراسي الأول
العام الدراسي ٢٠١٨/٢٠١٩ م


السؤال الرابع :

أ- من الخريطة التي أمامك أجب عن الأسئلة التي تليها :-



- ١ - الاقليم المناخي الذي تمثله الخريطة
 - ٢ - خصائص الاقليم من حيث :
- المعدل السنوي لدرجة الحرارة
 - المعدل السنوي للأمطار
- ٣- ظلل على الخريطة القارة التي لا يظهر بها خصائص هذا الإقليم .

ب- أدرس الصورة التالية ، وأجب عن الأسئلة :



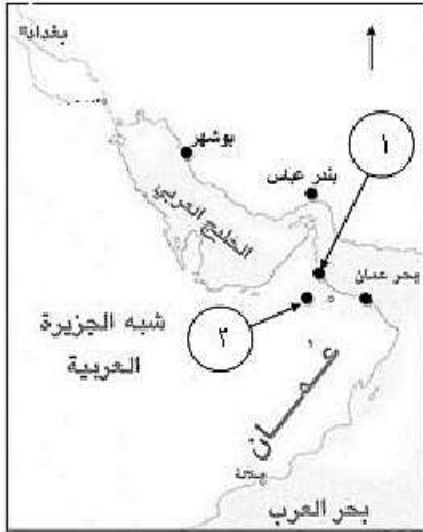
- ١ - أسم الظاهرة الواضحة في الصورة
- ٢ - كيف تحدث هذه الظاهرة .
.....
.....

يتبع/٦

السؤال الخامس :

أجب عن الأسئلة الآتية :

أ- أنظر الي الخريطة التي أمامك ثم أجب عن الأسئلة الآتية :



١- ضع دائرة على أسم الميناء الفارسي الذي استأجره السيد سعيد بن سلطان .

٢- استخراج من الخريطة :

- الرقم الذي يشير الى عاصمة عمان

زمن الامام أحمد بن سعيد.....

- البحر الذي يحد عمان من الشمال الشرقي

.....

٣- أرسم على الخريطة خط سير الأسطول العماني

لنجدة أهل البصرة زمن الامام أحمد بن سعيد.

ب- أقرأ فقرة المادة (٤١) من النظام الأساسي و أجب عن الأسئلة التي

تليها :

(السلطان رئيس الدولة و القائد الأعلى للقوات المسلحة ، ذاته مصونة لا تمس ، و احترامه واجب ، و أمرة مطاع ، و هو رمز الوحدة الوطنية والساهر على رعايتها و حمايتها).

١- الى أي باب من أبواب وثيقة النظام الأساسي التي تشير إليها الفقرة .

.....

٢- من خلال الفقرة تعرف على أحد مهام جلالة

السلطان المعظم و التي توضحها الصورة .

.....

.....



انتهت الأسئلة مع الدعاء للجميع بالتوفيق والنجاح



نموذج إجابة امتحان الصف الثامن
للعام الدراسي ١٤٣٩/١٤٤٠ هـ - ٢٠١٨/٢٠١٩ م
الدور الاول - الفصل الدراسي الاول

المادة: الدراسات الاجتماعية الدرجة الكلية: (٤٠) درجة.
تنبيه: نموذج الإجابة في (٤) صفحات.

أولاً: إجابة السؤال الموضوعي: ١٢ درجة

المستوى المعرفي	الصفحة	الدرجة	الإجابة	البديل الصحيح	المفردة
المعرفة	١٤	١	مدار السرطان	ب	١
المعرفة	٦٠	١	سعيد بن سلطان	ج	٢
قدرات عليا	٩١	١	حرية الشعائر الدينية	ج	٣
الفهم و التطبيق	٧٥	١	اللغة السواحيلية	أ	٤
التطبيق	٥٩	١	البحرين	ب	٥
المعرفة	٦٩	١	العجائب	ج	٦
المعرفة	٨٦	١	النظام الأساسي للدولة	أ	٧
التطبيق	٤٥	١	٤	د	٨
المعرفة	٤٨	١	الرياح العكسية	د	٩
قدرات عليا	١٣	١	التضاريس - التيارات البحرية - الغطاء النباتي	د	١٠
التطبيق	١٥	١	١٤س	أ	١١
المعرفة	٩٦	١	العمر	د	١٢
أثني عشر درجة	(١٢) درجة		المجموع		

(٢)

تابع نموذج إجابة امتحان الصف الثامن
للعام الدراسي ١٤٣٩/١٤٤٠ هـ - ٢٠١٨/٢٠١٩ م

الدور الاول - الفصل الدراسي الاول

المادة : الدراسات الاجتماعية

ثانيا: إجابة الأسئلة المقالية:

الدرجة الكلية: (٨) درجة			إجابة السؤال الثاني												
المستوى المعرفي	الصفحة	الدرجة	الإجابة الصحيحة	المفردة	الجزئية										
المعرفة	١٦	١	المدى الحراري : الفرق بين أعلى درجة حرارة و أدنى درجة حرارة تسجلان خلال فترة زمنية (في اليوم أو الشهر أو السنة)	١	أ										
المعرفة	٦٥	١	جهاز إداري يتولى فرض الرسوم و تحصيلها على البضائع الواردة إلى مواني الدولة من الدول الأخرى .	٢											
المعرفة	١٨	١	لمعرفة اختيار الملابس المناسبة - ، حالة البحر - ومناسبته للملاحة - و سلامة الطرق للسير عليها - و حماية المحاصيل . (يكتفي بذكر واحدة)	١	ب										
المعرفة	٢١	١	الإشعاع الشمس - الإشعاع الأرضي	٢											
التطبيق	٨٥ ٩٦	٤ درجات لكل مفردة درجة	<table border="1"> <thead> <tr> <th>الحدث</th> <th>الترتيب</th> </tr> </thead> <tbody> <tr> <td>المجلس الاستشاري</td> <td>١ -</td> </tr> <tr> <td>مجلس الشورى</td> <td>٢ -</td> </tr> <tr> <td>النظام الأساسي للدولة</td> <td>٣ -</td> </tr> <tr> <td>مجلس الدولة</td> <td>٤ -</td> </tr> </tbody> </table>	الحدث	الترتيب	المجلس الاستشاري	١ -	مجلس الشورى	٢ -	النظام الأساسي للدولة	٣ -	مجلس الدولة	٤ -	ج	ج
الحدث	الترتيب														
المجلس الاستشاري	١ -														
مجلس الشورى	٢ -														
النظام الأساسي للدولة	٣ -														
مجلس الدولة	٤ -														



(٣)

تابع نموذج إجابة امتحان الصف الثامن
للعام الدراسي ١٤٣٩/١٤٤٠ هـ - ٢٠١٨/٢٠١٩ م

الدور الاول - الفصل الدراسي الاول

المادة : الدراسات الاجتماعية

تابع ثانيا: إجابة الأسئلة المقالية:

الدرجة الكلية: (٨) درجة			إجابة السؤال الثالث										
المستوى المعرفي	الصفحة	الدرجة	الإجابة الصحيحة			المفردة	الجزئية						
التطبيق	٢٥ ٣٠	درجتان لكل مفردة نصف درجة	 <table border="1"> <tr> <td>البارومتر المعدني</td> <td>الترموجراف</td> <td>أسم الجهاز</td> </tr> <tr> <td>الضغط الجوي</td> <td>درجة الحرارة</td> <td>استخدامه</td> </tr> </table>			البارومتر المعدني	الترموجراف	أسم الجهاز	الضغط الجوي	درجة الحرارة	استخدامه		أ
البارومتر المعدني	الترموجراف	أسم الجهاز											
الضغط الجوي	درجة الحرارة	استخدامه											
قدرات عليا	٧٦	درجتان				١	ب						
المعرفة	٧٧	درجتان يكتفي بذكر اثنين	جوادين عربيين ، وبعض الجواهر ، سيف مطعم بالذهب			٢							
قدرات عليا	٩٠	درجتان لكل مفردة نصف درجة	<table border="1"> <tr> <td>الممتلكات الخاصة</td> <td>الممتلكات العامة</td> </tr> <tr> <td>(٢)</td> <td>(١)</td> </tr> <tr> <td>(٣)</td> <td>(٤)</td> </tr> </table>			الممتلكات الخاصة	الممتلكات العامة	(٢)	(١)	(٣)	(٤)		ج
الممتلكات الخاصة	الممتلكات العامة												
(٢)	(١)												
(٣)	(٤)												

(٤)

تابع نموذج إجابة امتحان الصف الثامن
للعام الدراسي ١٤٣٩/١٤٤٠ هـ - ٢٠١٨/٢٠١٩ م
الدور الاول - الفصل الدراسي الاول
المادة الدراسات الاجتماعية
تابع ثانيا: إجابة الأسئلة المقالية:

الدرجة الكلية: (٦)			إجابة السؤال الرابع											
الدرجة			درجة											
المستوى المعرفي	الصفحة	الدرجة	الإجابة الصحيحة	المفردة	الجزئية									
قدرات عليا	٤٣	درجة	الإقليم الأستوائي	١										
المعرفة	٤٣	درجتان لكل مفردة درجة	<table border="1"> <tr> <td>الامطار</td> <td>الحرارة</td> <td></td> </tr> <tr> <td>(٢٠٠٠ ملم)</td> <td>(٢٧°س)</td> <td>المعدل السنوي</td> </tr> <tr> <td>أو طوال العام</td> <td>أو مرتفعة / عالية</td> <td>المعدل السنوي</td> </tr> </table>	الامطار	الحرارة		(٢٠٠٠ ملم)	(٢٧°س)	المعدل السنوي	أو طوال العام	أو مرتفعة / عالية	المعدل السنوي	٢	أ
الامطار	الحرارة													
(٢٠٠٠ ملم)	(٢٧°س)	المعدل السنوي												
أو طوال العام	أو مرتفعة / عالية	المعدل السنوي												
قدرات عليا	٤٣	درجة	التضليل على قارة أوروبا فقط بالكامل	٣										
التطبيق	٣٦	درجة	إعصار (الأعاصير)	١	ب									
التطبيق		درجة	عبارة عن ظاهرة مناخية تحدث نتيجة انخفاض الضغط الجوي بشدة	٢										

يتبع / ٥

(٤)

تابع نموذج إجابة امتحان الصف الثامن
للعام الدراسي ١٤٣٩/١٤٤٠ هـ - ٢٠١٨/٢٠١٩ م
الدور الاول - الفصل الدراسي الاول
المادة الدراسات الاجتماعية
تابع ثانيا: إجابة الأسئلة المقالية:

الدرجة الكلية: (٦) درجة			إجابة السؤال الخامس		
المستوى المعرفي	الصفحة	الدرجة	الإجابة الصحيحة	المفردة	الجزئية
التطبيق	٧١ - ٧٢	درجة	يضع الطالب دائرة على ميناء بندر عباس	١	أ
التطبيق	٥٦	درجة	- الرقم (٢)	٢	
التطبيق	١٩	درجة	- بحر عمان		
التطبيق	٥٦	درجة	 <p>يرسم الطالب خط سير الأسطول من مسقط الى البصرة .</p>	٣	
المعرفة	٨٦	درجة	الباب الرابع أو رئيس الدولة (كلا الاجابتين صحيحتين)	١	ب
المعرفة	٩٢	درجة	القائد الأعلى للقوات المسلحة	٢	

نهاية نموذج الإجابة



امتحان مادة : الدراسات الاجتماعية

للسف : الثامن

للعام الدراسي ١٤٣٩ / ١٤٤٠ هـ - ٢٠١٨ / ٢٠١٩ م

الدور الثاني - الفصل الدراسي الاول

- زمن الامتحان : (ساعة ونصف) • عدد صفحات أسئلة الامتحان : (٦) صفحات.
- الإجابة في الدفتر نفسه .

		اسم الطالب
الصف		المدرسة

التوقيع بالاسم		الدرجة		السؤال
المصحح الثاني	المصحح الأول	بالحروف	بالأرقام	
				١
				٢
				٣
				٤
				٥
مراجعة الجمع	جمعه			المجموع
				المجموع الكلي

(١)

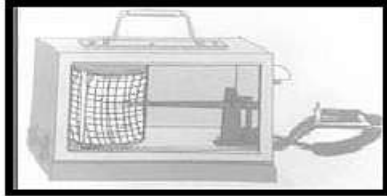
المادة : الدراسات الاجتماعية الصف : الثامن - الدور الثاني - الفصل الدراسي الأول
- العام الدراسي ٢٠١٨/٢٠١٩ م

أجب عن جميع الأسئلة الآتية

السؤال الأول: ضع دائرة حول رمز الإجابة الصحيحة :

١- العام الميلادي الذي تم مبايعة سلطان بن مرشد إماما على عمان :

أ- ١٧١١ ب- ١٧٤٢ ج- ١٧٤٤ د- ١٧٨٣



٢- الجهاز الواضح في الصورة يستخدم لقياس :

أ- الحرارة ب- الضغط

ج- الرياح د- الرطوبة

٣- السفينة التي أبحر بها أول مبعوث عماني إلى الولايات المتحدة الأمريكية :

أ- الرحماني ب- شاه علم ج- سلطنة د- فكتوريا

٤- يوضح الجدول الذي أمامك الخصائص المناخية للأقليم :

طول العام	الأمطار
مرتفعة طوال العام	الحرارة
(٠-٥) شمال وجنوب دائرة الاستواء	الموقع الفلكي

أ- القطبي

ب- الموسمي

ج- الصحراوي

د- الإستوائي

٥- قضى على القراصنة الذين كانوا يعترضون السفن التجارية القادمة

من عمان الى منطقة بانجلور :

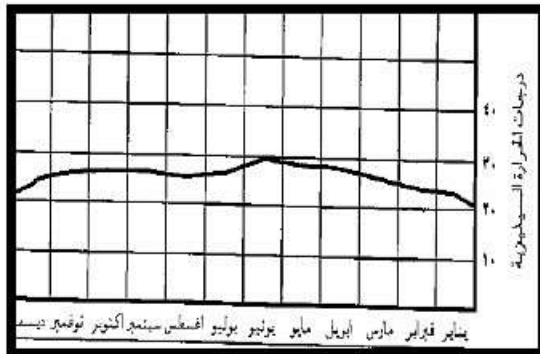
أ- الإمام أحمد بن سعيد

ب- السيد سلطان بن أحمد

ج- السيد برغش بن سعيد

د- السيد سعيد بن سلطان

٦- يمثل الشكل الذي أمامك المعدل السنوي لدرجات الحرارة في مدينة:



أ- سيق

ب- نزوى

ج- صلالة

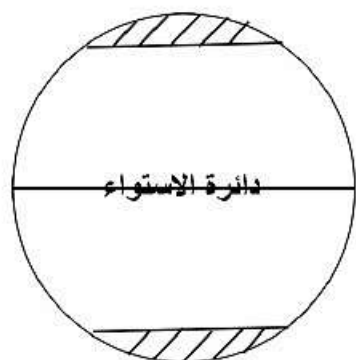
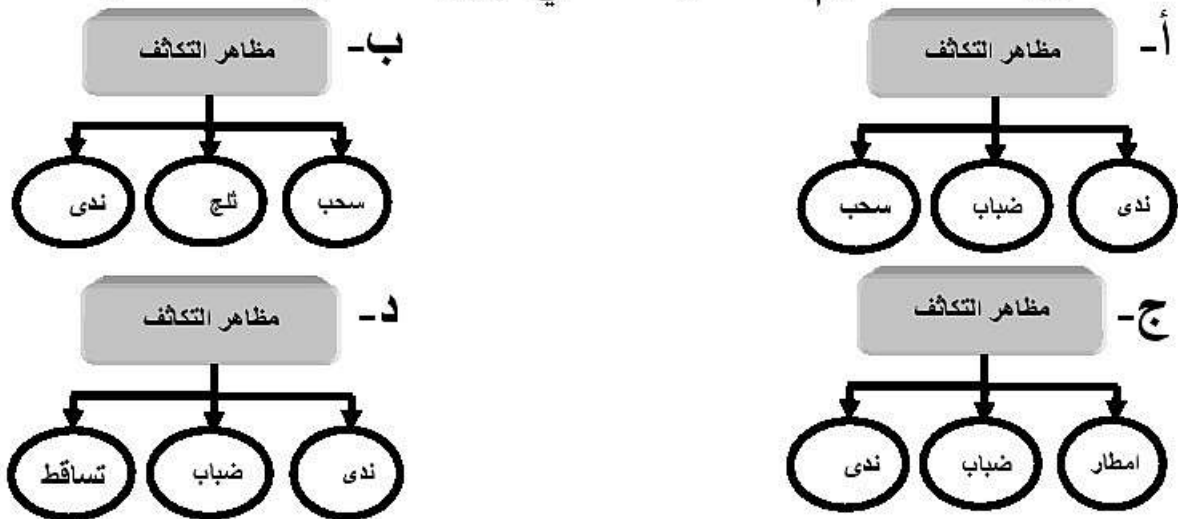
د- مسقط

(٢)

المادة : الدراسات الاجتماعية الصف : الثامن - الدور الثاني - الفصل الدراسي الأول
-العام الدراسي ٢٠١٨/٢٠١٩م

تابع السؤال الأول:

٧- خريطة المفاهيم الصحيحة التي تبين مظاهر التكاثف :



٨- صدر النظام الأساسي للدولة عام :

أ- ١٩٩٥ م

ب- ١٩٩٦ م

د- ١٩٩٨ م

ج- ١٩٩٧ م

٩- الإقليم المظلل في الشكل الذي أمامك هو:

أ- القطبي

ب- الصحراوي

د- الإستوائي

ج- الموسمي

١٠- جميع ما يأتي يشترط لعضوية مجلس الدولة عدا :

أ- عماني الجنسية بصورة أصلية ب- ذو خبرة علمية مناسبة

ج- ذو مكانة وسمعة حسنة د- أن لا يقل عمرة عن ثلاثين عام

١١- تظهر في الصورة التي أمامك إحدى القلاع العمانية التي شيدت

في عهد:

أ- سعيد بن سلطان ب- برغش بن سعيد

ج- أحمد بن سعيد د- سلطان بن أحمد



١٢- باب من أبواب النظام الأساسي للدولة ورد فيه (للأموال حرمتها

، وعلى الدولة حمايتها و على المواطنين و المقيمين المحافظة عليها):

أ- القضاء ب- أحكام عامة

ج- الحقوق و الواجبات د- المبادئ الموجهة

(٣)

المادة : الدراسات الاجتماعية الصف : الثامن - الدور الثاني- الفصل الدراسي الأول
-العام الدراسي ٢٠١٨/٢٠١٩ م

السؤال الثاني :

(أ) أجب عن الأسئلة التالية :

١- من خلال الخريطة التي أمامك وزع الرموز التالية في مواقعها الصحيحة على الخريطة :



(▲) اتخذها الامام أحمد بن سعيد عاصمة له .

(●) نقطة انطلاق الأسطول العماني

لنجدة أهل البصرة عام ١٧٧٥ م .

- يشير الرقم (١) في الخريطة إلى أحد البحار التي تطل عليها السلطنة .

.....

٢- عرف المفاهيم التالية :

- البار .

.....

- الجمرک .

.....

ب- أذكر اثنين لكل مما يلي :

١- واجباتك تجاه وطنك .

.....

.....

٢- أنظمة قياس درجة الحرارة .

.....

.....

٣- الصحف التي ظهرت لأول مرة في شرقي أفريقيا .

.....

.....

(٤)

المادة الدراسات الاجتماعية الصف : الثامن الدور الثاني - الفصل الدراسي الأول -
العام الدراسي ٢٠١٨/٢٠١٩ م

السؤال الثالث : أ-أجب عما يلي :

١- أكمل الجدول التالي الخاص بخصائص الرياح ومسمياتها :

نوع الرياح	الخصائص
	تهب خلال فترات منفردة ولمدة قصيرة ويقتصر أثرها على مناطق محدودة.
	تتسبب في تكوين المنخفضات الجوية على حوض البحر الأبيض المتوسط .
	تهب على الأماكن التي يتجاور فيها البحر مع اليابس أو الجبل مع الوادي.

٢- بلغت أعلى درجة حرارة في أحد المناطق من الإقليم الاستوائي حوالي ٢٧°س وسجلت كذلك في نفس المنطقة أدنى درجة فكانت ٢٤°س ليوم واحد. أحسب المدى الحراري السنوي لتلك المنطقة ؟

ب- علل الظواهر المناخية التالية :

١- حدوث نسيم البحر .

٢- سقوط أمطار شتوية على سيرلانكا .

ج- قارن في الجدول التالي بين مدينة بالم ومدينة سيق :

المدن	الدولة التي تقع فيها	المناخ السائد
بالم		
سيق		

(٥)

المادة : الدراسات الاجتماعية الصف : الثامن الدور الثاني - الفصل الدراسي الأول
- العام الدراسي ٢٠١٨/٢٠١٩ م

السؤال الرابع :

أ- أجب عن جميع الأسئلة التالية :-

صنف الأسماء الموجودة بين القوسين حسب الأعمال التي قاموا بها :
(السيد برغش بن سعيد - الامام أحمد بن سعيد - السيد سعيد بن سلطان)
١- أخرج الفرس من صحار و حرر عمان منهم .

٢- تأسست في عهده المطبعة السلطانية في شرقي أفريقيا .

٣- عقد اتفاقية عام ١٨٣٣ م مع الولايات المتحدة الأمريكية .

ب- أذكر اثنين لكل من :

١- العلماء العمانيين الذين برعوا في مختلف العلوم زمن دولة البوسعيد .

٢- المصادر الأساسية للحرارة على الأرض .

٣- شروط عضوية مجلس الشورى .

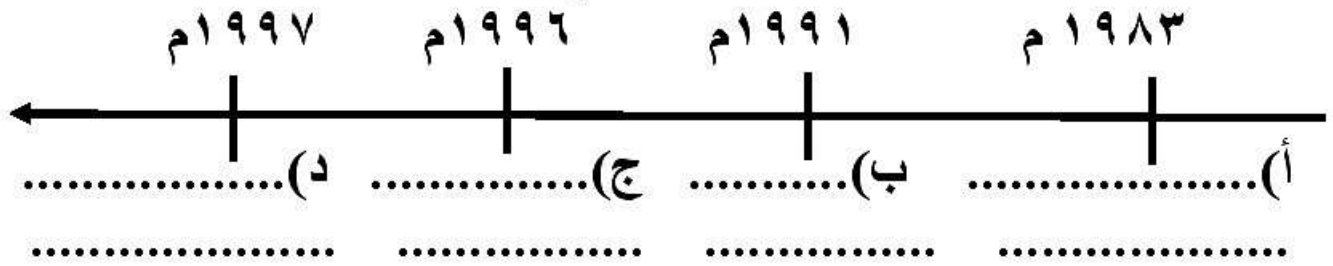
(٦)

المادة : الدراسات الاجتماعية الصف : الثامن - الدور الثاني - الفصل الدراسي الأول
- العام الدراسي ٢٠١٨/٢٠١٩ م

السؤال الخامس :

أ- أجب عن الأسئلة الآتية :

١- رتب الأحداث الآتية حسب المسطرة الزمنية التالية :
(صدور النظام الأساسي للدولة - إنشاء المجلس الاستشاري - إنشاء
مجلس الشورى - تأسيس مجلس الدولة)



٢- ضع عنوانا مناسباً للصورة التي أمامك.

.....

ب- علل ما يلي :

مرافقة عدد من الوزراء والمستشارين لجلالة السلطان في جولاته
السامية.

.....

ج- ما مظاهر التعاون التي ممكن أن تقوم بها عندما تكون في مثل هذا
الموقف .



.....
.....
.....
.....
.....

انتهت الأسئلة مع الدعاء للجميع بالتوفيق والنجاح



نمذج إجابة امتحان الصف الثامن
للعام الدراسي 1440/1439 هـ - 2019/2018 م
الدور الثاني - الفصل الدراسي الاول


المادة: الدراسات الاجتماعية الدرجة الكلية: (40) درجة.
تنبيهه: نمذج الإجابة في (5) صفحات.

أولاً: إجابة السؤال الموضوعي:

المستوى المعرفي	الصفحة	الدرجة	الإجابة	البديل الصحيح	المفردة
معرفة	54	1	1742م	ب	1
تطبيق	25	1	الحرارة	أ	2
معرفة	76	1	سلطنة	ج	3
تطبيق	42	1	الاستوائي	د	4
معرفة	72	1	أحمد بن سعيد	أ	5
تطبيق	27	1	صلاة	ج	6
قدرات عليا	39-38	1	(ندى - ضباب - سحب)	أ	7
معرفة	85	1	1996م	ب	8
تطبيق	50	1	القطبي	أ	9
معرفة	96	1	ان لا يقل عمره عن ثلاثين عام	د	10
تطبيق	69	1	أحمد بن سعيد	ج	11
تطبيق	90	1	المبادئ الموجهة	د	12
أثني عشر درجة		(12) درجة	المجموع		

تابع نموذج إجابة امتحان الصف الثامن
للعام الدراسي 1440/1439 هـ - 2019/2018 م
الدور الثاني - الفصل الدراسي الاول
المادة : الدراسات الاجتماعية

ثانيا: إجابة الأسئلة المقالية:

الدرجة الكلية: (8) درجة		إجابة السؤال الثاني						
المستوى المعرفي	الصفحة	الدرجة	الإجابة الصحيحة	المفردة	الجزئية			
قدرات عليا	55	1	 <p>بحر العرب</p>	1	أ			
تطبيق	56	1						
		1						
معرفة	28	1	<p>- الهلبر : هو وحدة قياس الضغط الجوي وتساوي 1000 مليبار . - <u>الجمرك</u>: جهاز إداري يتولى فرض الرسوم وتحصيلها على البضائع الواردة إلى موانئ الدولة من الدول الأخرى.</p>	2				
	65	1						
معرفة	91	1	<p>واجباتك تجاه وطنك هي :</p> <ul style="list-style-type: none"> - الدفاع عن الوطن والحفاظ على الوحدة الوطنية . - التعاضد والتراحم بين المواطنين . - المحافظة على كيان الأسرة وتقوية أواصر المحبة . - المحافظة على الأموال العامة للدولة وممتلكاتها . 	1	ب			
			25			1	<p>النظام السيليبي . النظام الفهرنهايتي.</p>	2
			67			1	<p>الفلق - النهضة - الاصلاح</p>	3

تابع نموذج إجابة امتحان الصف الثامن
للعام الدراسي 1440/1439 هـ - 2019/2018 م
الدور الثاني - الفصل الدراسي الاول
المادة : الدراسات الاجتماعية

تابع ثانيا: إجابة الأسئلة المقالية:

الدرجة الكلية: (8) درجة			إجابة السؤال الثالث				
المستوى المعرفي	الصفحة	الدرجة	الإجابة الصحيحة			المفردة	الجزئية
معرفة	33	1	الرياح المحلية			1	أ-
	48	1	الرياح العكسية				
	34	1	الرياح اليومية				
تطبيق	27	1	27 - 24 = 3 □ س			2	
تطبيق	35	1	اختلاف الضغط الجوي ليلا ونهارا بين اليابس والماء			1	ب
	46	1	بسبب هبوب الرياح الموسمية القادمة من وسط آسيا باتجاه المحيط الهندي والمحملة ببخار الماء.			2	
قدرات عليا	43	(درجتان) لكل مفردة نصف درجة	المناخ السائد	الدولة التي تقع فيها	المدن		ج
			استوائي	البرازيل	بالم		
			البحر المتوسط	سلطنة عمان	سيق		
49							

(4)

تابع نموذج إجابة امتحان الصف الثامن
للعام الدراسي 1440/1439 هـ - 2019/2018 م
الدور الثاني - الفصل الدراسي الاول
المادة الدراسات الاجتماعية

تابع ثانيا: إجابة الأسئلة المقالية:

الدرجة الكلية: (6) درجة					إجابة السؤال الرابع	
المستوى المعرفي	الصفحة	الدرجة	الإجابة الصحيحة	المفردة	الجزئية	
تطبيق	55	1	الامام أحمد بن سعيد	1	أ	
	67	1	السيد برغش بن سعيد	2		
	76	1	السيد سعيد بن سلطان	3		
معرفة	67	1	-العلامة سعيد بن خلفان الخليلي . - الشيخ ناصر بن خميس الخروصي -أبومسلم ناصر بن سالم ابن عديم -حميد بن محمد بن رزيق	1	ب-	
معرفة	21	1	الاشعاع الشمسي - الاشعاع الأرضي	2		
	96	1	- ان لا يقل سنه عن 40 سنة . - أن يكون من ذوي المكانة والسمعة الحسنة . - لديه خبره علمية مناسبة . - أن لا يكون حكم عليه بعقوبة جنائية أو جريمة مخلة بالشرف والأمانة ما لم يكن قد رد إليه اعتباره.	3		

يتبع /5

تابع نموذج إجابة امتحان الصف الثامن
للعام الدراسي 1440/1439 هـ - 2019/2018 م
الدور الثاني - الفصل الدراسي الاول
المادة الدراسات الاجتماعية

تابع ثانيا: إجابة الأسئلة المقالية:

الدرجة الكلية: (6) درجة				إجابة السؤال الخامس	
المستوى المعرفي	الصفحة	الدرجة	الإجابة الصحيحة	المفردة	الجزئية
قدرات عليا	96 85	2	أ- المجلس الاستشاري ب- مجلس الشورى ج- صدور النظام الأساسي للدولة . د- مجلس الدولة	1	أ
تطبيق	95	1	الجولات السلطانية السامية.	2	
تطبيق	95	2	تلمس احتياجات المواطنين - حل أي مشكلات أو صعوبات تواجهها مشروعات التنمية أو تحتاج إليها المنطقة أو الولاية .		ب
قدرات عليا	88	1	- أساعد الكفيف أو كبار السن في عبور الشارع (أو هما يفيد المعنى)		ج

نهاية نموذج الإجابة