

تم تحميل هذا الملف من موقع المناهج العمانية



الامتحان النهائي الرسمي الدور الأول الفترة الصباحية في محافظة جنوب الباطنة

[موقع المناهج](#) ← [المناهج العمانية](#) ← [الصف الثامن](#) ← [اجتماعيات](#) ← [الفصل الثاني](#) ← [الملف](#)

تاريخ إضافة الملف على موقع المناهج: 07:42:09 2024-06-06

التواصل الاجتماعي بحسب الصف الثامن



[اضغط هنا للحصول على جميع روابط "الصف الثامن"](#)

روابط مواد الصف الثامن على تلغرام

[الرياضيات](#)

[اللغة الانجليزية](#)

[اللغة العربية](#)

[التربية الاسلامية](#)

المزيد من الملفات بحسب الصف الثامن والمادة اجتماعيات في الفصل الثاني

[الامتحان النهائي الرسمي الدور الأول الفترة الصباحية في المحافظات مسقط والداخلية والشرقية والوسطى ومسندم](#)

1

[مواصفات الورقة الامتحانية](#)

2

[نماذج من أسئلة الامتحانات النهائية في الوحدة الخامسة جوانب من تاريخ أوروبا](#)

3

المزيد من الملفات بحسب الصف الثامن والمادة اجتماعيات في الفصل الثاني

ملخص شامل للوحدة الأولى مصادر المياه	4
يوروبونت ملخص شرح درس قيام النهضة الأوربية	5

(٢)
تابع: امتحان الصف الثامن الأساسي المادة: الدراسات الاجتماعية - الفصل الدراسي الثاني - الدور: الأول - للعام الدراسي ١٤٤٥ هـ - ٢٠٢٣ / ٢٠٢٤ م

تابع السؤال الأول:

٥- مؤلف كتاب القانون في الطب:

- أ- ابن سينا. ب- الرازي. ج- ابن رشد. د- الزهراوي.

٦- السلعة التجارية القمائية التي ذكرها الرحالة الصيني تشان جور كما في كتابه:



- أ- ب ب- ج ج- د د- أ

٧- عدد ولايات محافظة جنوب الساطنة:

- أ- ٤١ ب- ٥٥ ج- ٦١ د- ٧٠

٨- المدينة القمائية التي يقع فيها المنجز الحضاري ذو الشعر المقابل:

- أ- صلاح. ب- صحران. ج- مسقط. د- لزوي.

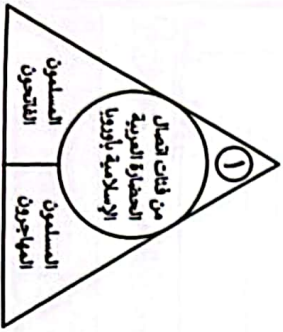
٩- الفئة التي يشير إليها الرقم (١) في المخطط أمامك:

- أ- المستشرقون. ب- المؤرخون. ج- المؤادون. د- المفكرون.

١٠- أول مجموعة أوروبية تصل إلى قارة أمريكا الجنوبية:

- أ- الإنجليز. ب- الهولنديون. ج- الإسبان. د- البرتغاليون.

٢/ يتبع




١١)
امتحان الصف الثامن الأساسي المادة: الدراسات الاجتماعية - الفصل الدراسي الثاني - الدور: الأول - للعام الدراسي ١٤٤٥ هـ - ٢٠٢٣ / ٢٠٢٤ م

أجب عن جميع الأسئلة الآتية

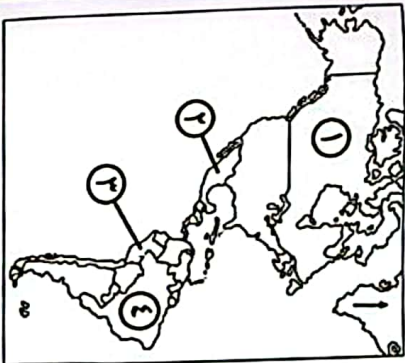
السؤال الأول: ضع دائرة حول رمز الإجابة الصحيحة لكل مفردة من المفردات الآتية:

١- الشكل البياني الصحيح الذي يُعبّر عن معدل استهلاك المياه في القطاع الزراعي مقارنة بالقطاعات الأخرى:



- أ- مساهمة القطاع الزراعي ٥٠% ب- مساهمة القطاع الزراعي ٣٣% ج- مساهمة القطاع الزراعي ٢٥% د- مساهمة القطاع الزراعي ٢٠%

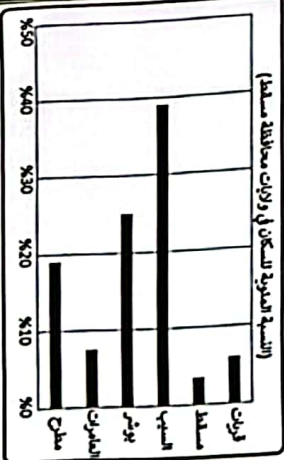
٢- رقم الدولة الذي تقع فيها حضارة الأزيك في الخريطة أمامك:



- أ- ١ ب- ٢ ج- ٣ د- ٤

٣- الولاية القمائية التي تحتل المرتبة الأولى من حيث النسبة المئوية للسكان وفق محطات الرسم البياني المقابل:

- أ- العامرات. ب- بوش. ج- لسب. د- مطح.



٤- العام الميلادي الذي تم فيه افتتاح محطة تحلية المياه بالفترة:

- أ- ١٩٧٦ ب- ١٩٧٧ ج- ١٩٧٨ د- ١٩٧٩

٢/ يتبع

تابع: امتحان الصف الثامن الأساسي المادة: الدراسات الاجتماعية - الفصل الدراسي الثاني
الدور: الأول - للعام الدراسي ١٤٤٥هـ - ٢٠٢٣ / ٢٠٢٤ م

(٤)

تابع: السؤال التالي:
تابع: أولاً: ب- استعن بالشكل المقابل، ثم أجب عن الأسئلة الآتية:



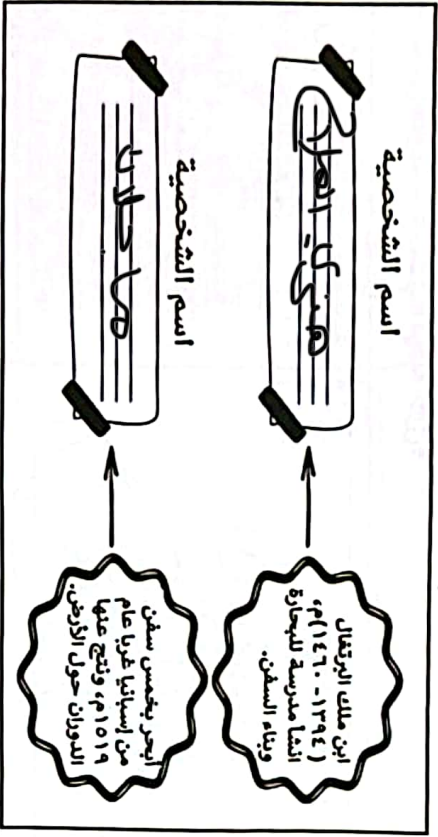
١- سمِّ السفينة الظاهرة في الصورة.

٢- ما الدلالة التاريخية لرحلة السفينة عام ١٩٨٠م؟

نخل المسح

المخاربه الى اليمن

تأنيث: أكمل بيانات الشكل الآتي:



المعلم	الرساق	صحار	نزوى	مسقط
جامع البياضة.	✓			
حصن الرديبة.			✓	
قلعة الجلال.				✓
حديقة البوبيل الفضي.		✓		

تأنيث: صنف المعلم الحضارية الواردة في الجدول الآتي حسب الولاية العمانية التي تقع فيها وذلك بوضع علامة (✓):

يتبع/٥

تابع: امتحان الصف الثامن الأساسي المادة: الدراسات الاجتماعية - الفصل الدراسي الثاني
الدور: الأول - للعام الدراسي ١٤٤٥هـ - ٢٠٢٣ / ٢٠٢٤ م

(٣)

تابع السؤال الأول:
١١- الجدول الصحيح لتصنيف أنواع الأفلح في سلطنة عُمان:

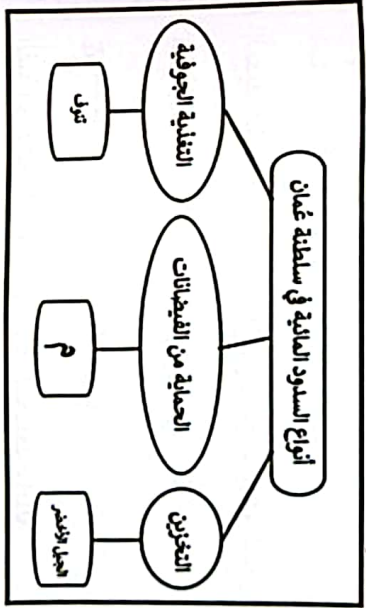
نوعه	اسم الأفلح
عبي	الفقيسر
غيلي	المزارع

نوعه	اسم الأفلح
داودي	الفقيسر
غيلي	المزارع

نوعه	اسم الأفلح
غيلي	الفقيسر
عبي	المزارع

نوعه	اسم الأفلح
داودي	الفقيسر
عبي	المزارع

١٢- السد المائي المشار إليه بالرمز (م) في المخطط المقابل:



- ١- وادي الخوض.
ب- وادي الجزبي.
ج- وادي غول.
د- وادي الحواسته.

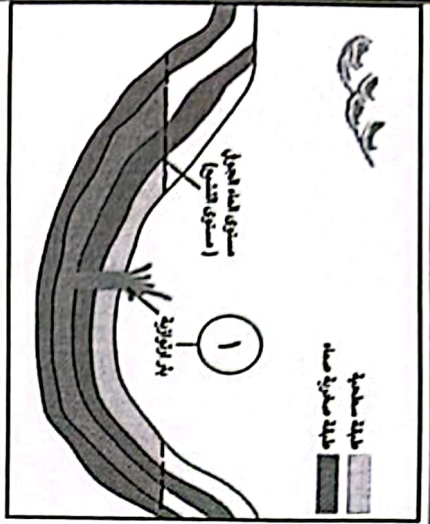
السؤال الثاني:
أولاً: اكتب اسم المصطلح المناسب مقابل كل عبارة في الجدول الآتي:

المصطلح	العبارة
المصطلح	مسطحات مائية ضحلة تظهر بصورة دائمة أو مؤقتة تنمو فيها النباتات المائية المتنوعة.
المصطلح	التطور التدريجي في أوروبا شمل تواجي الحياة الاجتماعية والاقتصادية والفكرية بين القرنين (١١-١٦) م.

يتبع/٤

(٦)

تابع: امتحان الصف الثامن الأساسي المادة: الدراسات الاجتماعية - الفصل الدراسي الثاني
الدور: الأول - للعام الدراسي ١٤٤٥هـ - ٢٣ / ٢٠٢٤م



٦

السؤال الرابع: أوزع: ادرس الشكل اماكن الطاقة المتجددة الآتية:

تابع السؤال الثالث: تأمل: ادرس الشكل المقابل، ثم أجب عن الأسئلة الآتية:

أ- ما السبب الرئيس لخروج المياه ثقاليًا من البئر المشار اليه بالرقم (١)؟

ب- سبب النوع الآخر من الآبار لم يرد ذكره في الشكل؟


الاجابة: الضغط
وحدس

١- اسم مخترع هذه الآلة.

٢- ما المادة الخام المستخدمة في تشغيلها؟

٣- ما النتيجة المترتبة عن استخدام الآلة؟

الاجابة: الطاقة
الشمس
الاجابة: الطاقة
الشمس



٢- ما الدلالة التاريخية على المكتشفات الآتية في الطاقة في محافظة مسقط عام ١٩٨١م

٣- اكتب اسماء اصحاب الاختراع - على سبيل صفة

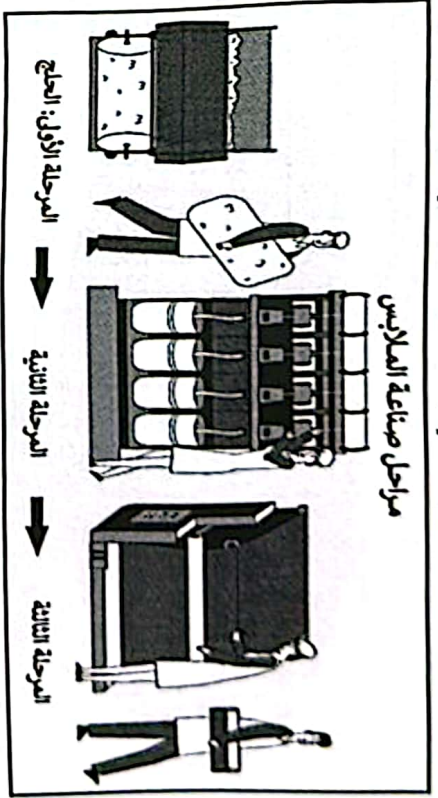
٤- اكتب اسم المخترع الذي اخترع الآلة

٥- اكتب اسم المخترع الذي اخترع الآلة

٦- اكتب اسم المخترع الذي اخترع الآلة

(٥)

تابع: امتحان الصف الثامن الأساسي المادة: الدراسات الاجتماعية - الفصل الدراسي الثاني
الدور: الأول - للعام الدراسي ١٤٤٥هـ - ٢٣ / ٢٠٢٤م



٧

السؤال الثالث أوزع: استمع بالشكل في الإجابة عن الأسئلة التي تليه:

١- اسم المرحلتين (الثانية، الثالثة) حسب ترتيبهما في الشكل:

٢- ما المادة الخام المستخدمة في المرحلة الأولى؟

الاجابة: الكتان

ثانياً: استمع بخريطة سلطنة عُمان في الإجابة عن الأسئلة الآتية:

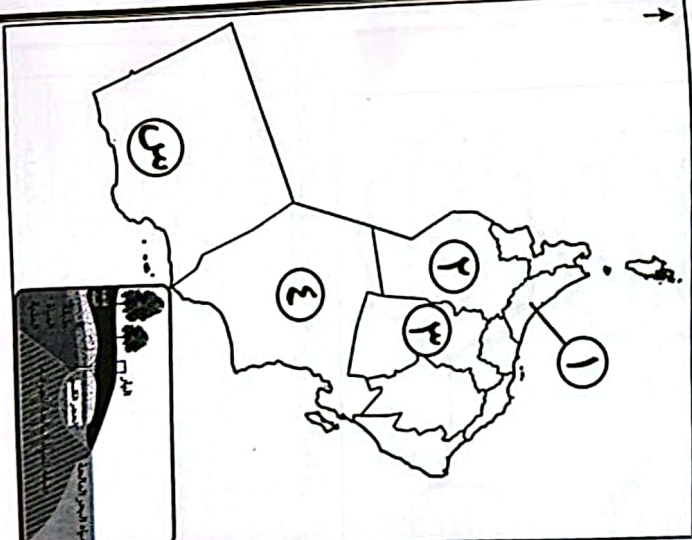
١- ما الرقم الذي يشير الى المحافظة التي تظهر فيها المشكلة المتغير عنها بالصورة المرفقة؟

٢- اذكر نتيجة واحدة تربت عن هذه المشكلة؟

٣- ما زالو توقف هبوب الرياح اجمالاً الموسمية الجنوبية الغربية عن المنطقة المشار إليها بالرمز (س)؟

٤- صنف المصنفات حسب

٥- اكتب اسم



(٧)

تابع: امتحان الصف الثامن الأساسي المادة: الدراسات الاجتماعية - الفصل الدراسي الثاني
الدور: الأول - للعام الدراسي ١٤٤٥ هـ - ٢٠٢٣ / ٢٠٢٤ م

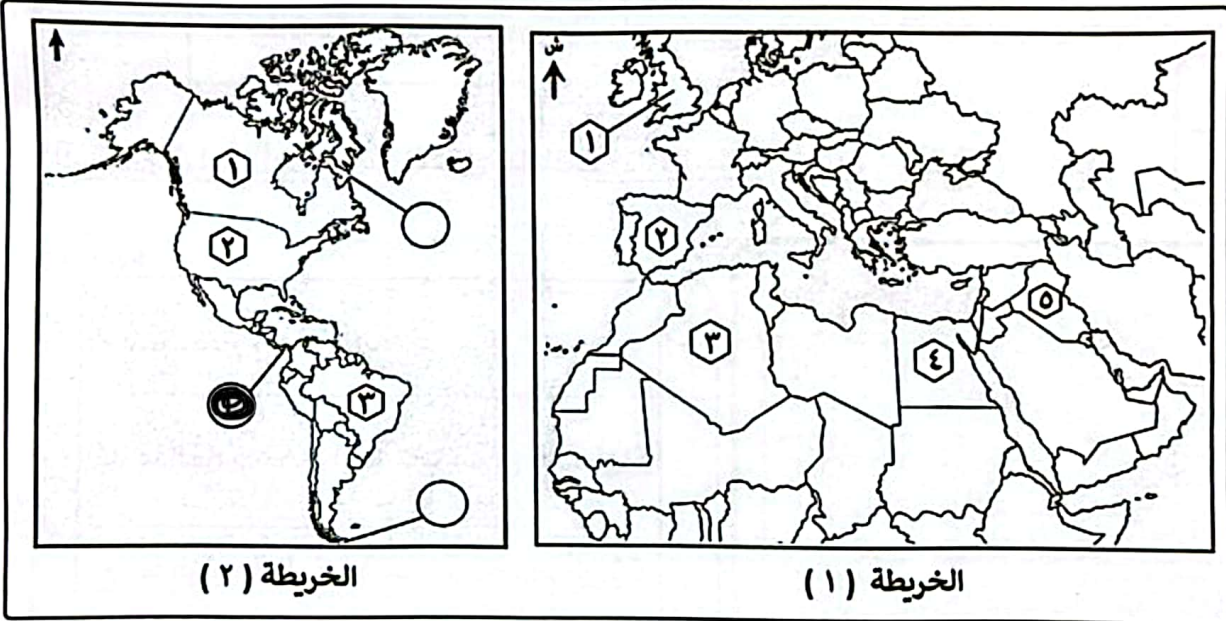
تابع: السؤال الثالث:

ثالثاً: اكتب أسباب أو معاني مسميات المدن العُمانية الواردة في الجدول الآتي:

سبب التسمية / المعنى.	المدينة العُمانية
صحر بن ادم بن سام	صحار.
نسب ابي جبل	نزوى.
اسم فارسي معرب	الرسّاق.

السؤال الخامس:

أولاً: امامك الخريطين (١ و ٢) ادرسهما جيداً، ثم اجب عن الأسئلة التالية:



أ- ظلل على الخريطة المشار إليها بالرقم (٢) الدائرة التي تحدد الموقع الجغرافي لقناة بنما.

ب- استخرج من الخريطة المشار إليها بالرقم (١) رقم الدولة التي:

١- تم فيها اختراع أول آلة لبذر الحبوب (١) .

٢- تقع فيها دولة المماليك (٤) .

ج- استخرج من الخريطة (٢) رقم الدولة التي وصل إليها المستكشف الفرنسي جاك كارتييه عام ١٥٣٤م (١) .

ثانياً: اقترح اثنين من الحلول لمعالجة مشكلة استنزاف المياه في محافظة جنوب الباطنة.

عكس استنزاف الآلات والمعدات الحديثة
توزيع شبكات التوعية والإرشاد

انتهت الأسئلة مع الدعاء للجميع بالتوفيق والنجاح،،،